

الأوائل

فى المراجعة النهائية الدراسات الاجتماعية

الصف الاول الاعدادى اعداد الاستاذ
الفصل الدراسى الاول أشرف شيلابى



شكل الامتحان

الامتحان من ٧٠ درجة ٣٥ درجة جغرافيا ٣٥ درجة تاريخ
اولا الجغرافيا ٣ اسئلة السؤال الاول ١٢ درجة والثانى ١٢ درجة والثالث ١١ درجة
ثانيا التاريخ ٣ اسئلة السؤال الرابع ١٢ درجة والخامس ١٢ درجة والسادس ١١ درجة

نوعية الاسئلة

المقالية مثل (بم تفسر - ما النتائج - دلى على صحة العبارات الاتية - ما مقترحاتك
ما الدروس المستفادة)
الموضوعية مثل (اكمل - اختر - صوب - الخريطة)

المطلوب فى الاجابة

السؤال: الخريطة غالبا خريطة العالم ٦ درجات المطلوب
دائرة عرض - محيط - قارة - جبل - هضبة - نهر - جزيرة - بحر - بحيرات
سؤال صنف او استخرج الكلمة الشاذة مثال

جبال	هضاب	انهار
الهيماالايا	اليمن	النيل
الالب	اثيوبيا	دجلة والفرات

• او تصنف قارات او محيطات

• او نصنف العوامل تشكيل سطح الارض باطنية او خارجية

سؤال ما العلاقة

بنوضح فيه العلاقة بين المعطيات وغالبا بتكون العلاقة بينهم (سبب ونتيجة)
مثلا

• المياه وتشكيل سطح الارض

• يبقى الاجابة تؤثر المياه فى تشكيل سطح الارض حيث ينتج عنها نشأة

السهول الفيضية والدالات

سؤال ما مقترحائك هذا الدرجة مضمونة

لانه اى اجابة منطقية ستكون صح

استخدم مقترحات مثل

١. الاهتمام بالعلم

٢. نشر البحث العلمى

٣. التخطيط الجيد

سؤال رتب ما يلي من الاقدم للحدث

خلى بالك من الحدث وهل الحدث ده قبل الميلاد ولا بعده

ووقع فى اى عهد مثلا (العصور الحجرية او العصر العتيق - الدولة

القديمة - الوسطى - الحديثة)

سؤال ما الدروس المستفادة

ايضا سهل لانه اجابته ستكون غالبا

١. اهمية العلم فى حياتنا

٢. مدى عظمة الحضارة الفرعونية القديمة

٣. الاعتزاز بالحضارة الفرعونية القديمة

٤. او اجابة حسب السؤال

سؤال ما رايتك فى

كل الى هتعمله انك هتقول رايتك سواء اعجبك او لم يعجبني وغالبا هتيجي

رايتك فى اعمال شخص او موقف معين فتقول اعجبني او لم يعجبني او تصرف

جيد او تصرف غير جيد

ياريت تكون الاجابة مدعومة بالامثلة

مثال

• مارايتك فى اعمال الخليفة سنوسرت الثالث

• ما رايتك فى دعم اياح حتب لزوجها وابنائها

• ما رايتك فى تعامل الهكسوس مع المصريين

مراجعة الوحدة الاولى والثانية

المصطلحات الجغرافية

المصطلح	تعريفه
النجوم	اجسام كبيره الحجم مضيئه ومتوهجه تشع ضوءاً وحراره
الكواكب	اجسام صغيره نسبياً معتمه ولا تشع ضوءاً ولا حراره
الاقمار	اجسام صلبة معتمه اصغر من الكواكب وترتبط معها بالجاذبيه
المدار	المسار الذى تسير فيه الكواكب
المجرات	تجمعات كبيره من النجوم مختلفه الشكل والحجم والنوع
السدم	اجسام غازيه تظهر فى السماء على شكل سحابه من الغبار نتيجة انفجار النجوم
النيازك	اجسام صلبه كبيره الحجم تحترق جزئياً عند احتكاكها بالغلاف الجوى
الشهب	اجسام صلبه صغيره الحجم تحترق كلياً عند احتكاكها بالغلاف الجوى
حزام الكويكبات	عدد من الكويكبات الصغيره التى تاخذ شكل حزام تفصل بين كوكبى المريخ والمشتري
خطوط الطول	أنصاف دوائر وهمية تصل بين القطبين يتوسطها خط جرينتش
دوائر العرض	دوائر وهمية أفقية تحيط بالكرة الارضية و تتناقص أطوالها كلما ابتعدنا شمالاً أو جنوباً عن خط الاستواء
الدورة السنوية للأرض	هي دوران الأرض حول الشمس من الغرب إلى الغرب مره كل (365 1/4) يوم
الدورة اليومية للأرض	هي دورة الأرض حول نفسها مره كل 24 ساعه
محور الأرض	خط وهمى يصل بين القطبين ماراً بالمركز يميل بزاوية 23 درجة ونصف

بـ تفسر :

- ١- اختلاف ألوان النجوم ؟ بسبب اختلاف درجة حرارتها
- ٢- يظهر القمر مضيئاً ؟ يعكس ضوء الشمس الساقط عليه
- ٣- تسمية مجرتنا بسكة التبانة و الدرب اللبنى ؟
 - لانها تشبه اللبن المتساقط فى الطريق
 - لانها تشبه اللبن المسكوب
- ٤- نشأة الشهب ؟ نتيجة انفجار النجوم
- ٥- يمكن رؤية الشهب فى السماء على شكل سهام ضوئية ؟ -
 - حيث تحترق كليا عند احتكاكها بالغلاف الجوى للأرض
- ٦- تعد الشمس مصدراً للحياة على كوكب الأرض ؟
 - مصدر الضوء والحرارة على الأرض
- ٧- يعرف كوكب الزهرة بتوءم الأرض ؟
 - لتقاربه مع الأرض فى القطر والحجم والكثله
- ٨- لا يمكن اختراق كوكب الزهرة ؟ اولا يمكن معرفة مدة دوران حول الزهرة حول نفسه
 - لان له غلاف غازى متماسك
- ٩- تسمية كوكب الأرض بالكوكب المائى
 - لان نسبة الماء تشغل ٧٠,٧ % من مساحته
- ١٠- لا تتصادم كواكب المجموعة الشمسية مع بعضها البعض
 - لان لها احجام محددة وسرعة منتظمة
- ١١- تسمى الكواكب الداخلية بالكواكب الأرضية
 - لانها تتكون من مواد صخرية صلبة مشابهة للأرض
- ١٢- وجود حياة على كوكب الأرض دون الكواكب الأخرى ؟
 - لانه يقع فى وضع مناسب من الشمس ووجود الجاذبية والمياه
- ١٣- يطلق على المريخ الكوكب الأحمر ؟
 - بسبب غنى تربته بأكاسيد الحديد
- ١٤- يسمى نبتون بالكوكب الأزرق ؟

- لانه يبدو كماسة زرقاء تشع ضوء خافت في الكون
- ١٥- نبتون اشد الكواكب برودة
- لبعده الشديد عن الشمس
- ١٦- الارض ليست كروية تماما
- لان القطر الاستوائى اكبر من القطر القطبى ب ٢٧ ميل
- ١٧- تبدو الارض منبسطة ولا يظهر اى انحناء فى سطحها ؟
- لأن ما تراه عينك ما هو إلا مساحة صغيرة جدا من مساحة الأرض .
- ١٨- قام العلماء برسم خطوط الطول ودوائر العرض
- ليسهل دراسة سطح الارض
- ١٩- تسمية خط جرينتش بهذا الاسم ؟
- لانه يمر بقرية جرينتش القريبة من مدينة لندن
- ٢٠- اهمية خطوط الطول ؟
- تحديد موقع الاماكن شرق خط جرينتش أو غربه .
- تحديد الزمن و فرق التوقيت
- ٢١- تسبق الجهات الشرقية الجهات الغربية فى التوقيت .
- (١) دوران الأرض حول نفسها من الغرب الى الشرق
- (٢) شروق الشمس أولا على الشرق .
- ٢٢- اختلاف التوقيت على سطح الارض من مكان لآخر ؟
- بسبب دوران الارض حول نفسها من الغرب الى الشرق
- ٢٣- اهمية دوائر العرض ؟
- تحديد موقع الاماكن شمال خط الاستواء أو جنوبه .
- تقسم العالم الى مناطق حراريه .
- ٢٤- تعاقب الليل والنهار على سطح الارض ؟
- بسبب دوران الأرض حول محورها مرة كل ٢٤ ساعة
- ٢٥- عدم الشعور بحركة الارض ؟
- سرعة وانتظام دورانها - الجاذبية الارضية مناسبة

- ٢٦- طيران الانسان على سطح القمر ؟
- لان الجاذبيه على القمر سدس الجاذبية على الارض
- ٢٧- التصاق الانسان بالارض على كوكب المشترى ؟
- - لان الجاذبيه على المشترى اكبر منه الموجوده في الارض
- ٢٨- حدوث الفصول الأربعة ؟
- - بسبب دوران الأرض حول الشمس وميل محور الأرض وثبات اتجاهه
- ٢٩- اختلاف درجات الحرارة على سطح الأرض؟
- - بسبب اختلاف زاوية سقوط اشعة الشمس على المكان
- ٣٠- يتساوى طول الليل والنهار عند خط الاستواء طول العام ؟
- بسبب تعامد الشمس على خط الاستواء
- ٣١- اختلاف زاوية سقوط أشعة الشمس علي المكان الواحد بين شهر و آخر . بسبب ميل محور الأرض و ثبات الميل
- ٣٢- حدوث الصيف الشمالي ٢١ يونيه ؟
- تعامد الشمس على السرطان
- ٣٣- حدوث الشتاء الشمالي ٢١ ديسمبر ؟
- تعامد الشمس على الجدى
- ٣٤- حدوث الاعتدالان ؟
- تعامد الشمس على الاستواء
- ٣٥- الأشعة العمودية أكثر حرارة من الأشعة المائلة ؟
- ✍ الأشعة المائلة : تخترق مسافات كبيرة من الغلاف الجوى وتنتشر على مساحات كبيرة على سطح الأرض فتقل درجة حرارتها
- ✍ أما الأشعة العمودية : تخترق مسافات قليلة من الغلاف الجوى وتنتشر على جزء بسيط من الأرض فتزداد حرارتها
- ٣٦- أهمية تعاقب الليل والنهار ؟
- تنظيم حياة الانسان فالنهار للسعي والعمل والليل للراحة

ما النتائج المترتبة على

- ١- احتكاك الشهب بالغلاف الجوى

- تحترق كليا وتظهر على شكل سهام منوية
- ٢- احتكاك نيزك بالغلاف الجوي -
- يحترق جزئيا وسقوط اجزاء منه على الارض فتسبب حفرة عميقة
- ٣- انفجار بعض النجوم ؟
- تكون ظاهرة السدم
- ٤- اجتماع براغ ٢٠٠٦ ؟
- خروج كوكب بلوتو من المجموعة الشمسية
- ٥- المؤتمر الجغرافي عام ١٨٨٤ ؟
- ادى الى تحديد خط الطول الرئيسي (صفر) بجرينتش
- ٦- غنى تربة كوكب المريخ بأكاسيد الحديد ؟
- اصبح لونه احمر ولقب بالكوكب الاحمر
- ٧- وجود غلاف غازي متماسك حول كوكب الزهرة ؟-
- عدم اختراقه وصعوبة تحديد مدة دورانه حول نفسه
- ٨- بعد كوكب نبتون عن الشمس ؟-
- يؤدي ذلك الى انه اصبح شديد البروده
- ٩- الشكل الكروي للارض ؟
- تعرض بعض المناطق لاشعة الشمس وعدم تعرض مناطق اخرى
- اختلاف زاوية سقوط اشعة الشمس وبالتالي اختلاف درجات الحرارة وتنوع المناخ وتنوع النبات وتنوع الكائنات الحيه
- ١٠- دوران الأرض حول محورها [دورة الأرض اليومية]
- تعاقب الليل والنهار .
- انحراف الاجسام الساقطة على سطحها عن الخط العمودي
- انحراف الرياح الى يمين اتجاهها في نصف الكرة الشمالي وإلى يسار اتجاهها في نصف الكرة الجنوبي
- شروق الشمس من الشرق وغروبها من الغرب
- ١١- دوران الأرض حول الشمس؟
- حدوث ظاهرة فصول السنة الاربعة وتتابعها
- ١٢- ثبات ميل محور الأرض وثبات اتجاهه .

• ادى ذلك الى اختلاف درجات الحرارة وحدوث الفصول الاربعة

١٣- تعامد الشمس على مدار السرطان :

• حدوث الصيف الشمالى والشتاء الجنوبى

١٤- تعامد الشمس على مدار الجدى :

• حدوث الصيف الجنوبى والشتاء الشمالى

١٥- اختلاف زاوية سقوط أشعة الشمس على الأرض ؟

• اختلاف درجات الحرارة وتنوع المناخ والنبات

ما العلاقة بين

١- النجوم والكواكب

(تدور الكواكب حول النجوم فى مدارات بيضاوية بفعل الجاذبية)

٢- الكواكب والاقمار

(تدور الاقمار حول الكواكب بفعل الجاذبية)

٣- النجوم والسدم

(تنشأ السدم نتيجة انفجار النجوم)

٤- الشهب والغلاف الجوى

(تحدث الشهب كلما عند احتكاكها بالغلاف الجوى للأرض)

٥- حزام الكويكبات والمريخ والمشتري

(يفصل حزام الكويكبات بين كوكبى المريخ والمشتري)

٦- الزهرة والأرض

(يعتبر الزهرة تؤءم الأرض)

٧- اورانوس و زحل والمشتري

(يتشابه الثلاث كواكب فى تركيبهم العام)

٨- مدار السرطان فصل الصيف

(عند تعامد الشمس على السرطان يحدث الصيف الشمالى)

٩- مدار الجدى وفصل الشتاء

(عند تعامد الشمس على السرطان يحدث الصيف الشمالى)

- ١٠- زاوية سقوط اشعة الشمس ودرجات الحرارة
(تختلف درجات الحرارة حسب زاوية سقوط اشعة الشمس)
- ١١- الرياح والدورة اليومية للارض (تنحرف الرياح الى يمين اتجاهها في النصف الشمالي بسبب دوران الارض حول محورها)
- ١٢- الاجسام الساقطة والدورة اليومية للارض . (تنحرف الاجسام الساقطة عن الخط العمودي بسبب دوران الارض حول محورها)
- ١٣- الجاذبية والحياة على الارض
(تعتبر الجاذبية على الارض مناسبة لذلك تصلح الارض للحياة)
- ١٤- الكواكب الداخلية والارض
(تسمى الكواكب الداخلية بالكواكب الارضية)

ماذا يحدث اذا

١. يكن محور الارض ثابت في اتجاه واحد ؟
جاءت الفصول الاربعة في غير ترتيبها وقد تتكرر بعض الفصول
٢. كانت الارض ثابتة
لظل الجزء المواجه للشمس من الارض نهائياً دائماً وظل الجزء الآخر ليلاً دائماً
٣. كانت جاذبية الأرض قليلة مثل القمر؟
كان الانسان يطير
٤. كانت جاذبية الأرض كبيرة مثل المشتري ؟
التصق الانسان بالارض
٥. لم تدور الأرض حول الشمس ؟
• عدم تعاقب الفصول الاربعة
٦. لم يكن محور الارض مائلاً
• تصبح اشعة الشمس عمودية على خط الاستواء و مائله على بقية انحاء الارض
٧. كانت الارض مسطحة (غير كروية) ::
• سقوط أشعة الشمس على كل سطح الارض في وقت واحد
• ثبات المناخ وعدم تنوع الكائنات الحية والنباتات وعدم تنوع النباتات

التدريبات

أكمل العبارات الآتية

١. من الظواهر الكونية فى الفضاءو.....
٢. تتكون النجوم من مواد
٣. اقرب نجم للارض هو نجم
٤. اكثر النجوم حرارة لونهواقلاها حرارة
٥. تعتمد الكواكب فى الضوء و الحرارة على
٦. الكوكب الأحمر هو وتوأم أورانوس هو كوكب
٧. يسمى الارض بالكوكب
٨. نتج عن اجتماعخروج كوكب بلوتو من المجموعة الشمسية
٩. من انواع المجراتو.....و.....
١٠. تنتمى مجرتنا الى النوعوتسمى
١١. يعتبر النوع الوحيد من الاجسام الفضائية التى تصل للارض
١٢. تظهرفى السماء على شكل سهام ضوئية
١٣. يرجع مصدر ضوء القمر الى
١٤. يفصل حزام الكويكبات بين كوكبىو.....
١٥. تسمى الكواكب بالكواكب الارضية
١٦. يدور عطارد حول الشمس فى يوم
١٧. يسمى كوكببتوائم الارض
١٨. يسمى كوكب المريخ ب
١٩. توجد حلقات حلزونية حول كوكب
٢٠. يقدر حجم زحل ب مرة حجم الارض
٢١. تحترق الشهب عند احتكاكها بالغلاف الجوى
٢٢. تحترق جزئيا عند احتكاكها بالغلاف الجوى
٢٣. اسرع الكواكب هو وابعلها
٢٤. السنة على نبتون تساوى سنة على الارض
٢٥. السنة على المشترى تساوى سنة على الارض
٢٦. السنة على زحل تساوى سنة على الارض
٢٧. السنة على اورانوس تساوى سنة على الارض

٢٨. يسمى كوكب اورانوس بالكوكب
٢٩. يعتبر كوكب نبتون توائم لكوكب
٣٠. يمتد القطر من الشرق للغرب ويصل طوله ميل
٣١. يصل القطر بين القطبين الشمالى والجنوبى ويصل طوله ميل
٣٢. الارض مفلطحة عند ومنبعجة عند
٣٣. القطر الإستوائى أطول من القطر القطبى بحوالى ميلاً.
٣٤. يميل محور الارض بزاوية مقدارها درجة
٣٥. عدد خطوط الطول ويتوسطهم
٣٦. تم تسمية خط الطول الرئيسى ب خط ويقع فى مدينة
٣٧. عدد دوائر العرض اكبرها
٣٨. تتعامد الشمس على يحدث الاعتدالين
٣٩. تتعامد الشمس على يحدث صيف جنوبى وشتاء شمالى
٤٠. يطول النهار ويقصر الليل فى فصل
٤١. يتم تحديد الزمن وفروق التوقيت عن طريق
٤٢. تقع مصر بين دائرتى عرض و.....
٤٣. تقع مصر بين خطى طول و.....
٤٤. يمر فى جنوب مصر دائرة عرض رئيسية هى
٤٥. يقع مدار الجدى عند دائرة عرض جنوب
٤٦. يقع مدار السرطان عند دائرة عرض شمالا
٤٧. تقع عند دائرة عرض ٦٦,٥ شمالا
٤٨. تقع عند دائرة عرض ٦٦,٥ جنوبا
٤٩. يقع القطب الشمالى عند دائرة عرض شمالا
٥٠. يقع القطب الجنوبى عند دائرة عرض جنوبا
٥١. تدور الارض حول محورها مرة كل من الغرب الى الشرق
٥٢. تنحرف الرياح الى اتجاهها فى نصف الكرة الشمالى
٥٣. الجاذبية على الارض تعادل اضعاف الجاذبية على القمر

٥٤. يحدث ظاهرة فصول السنة بسبب دوران الارض حول
- ويحدث تعاقب الليل والنهار بسبب دوران الاض حول
٥٥. الاشعة حرارتها اقوى من الاشعة المائلة
٥٦. النوع الوحيد من الأجسام الفضائية التى تصل إلى الأرض هو.....
٥٧. اكبر دوائر العرض على الكرة الأرضية هي
٥٨. عند سقوط النيازك على الارض فانها تسبب
٥٩. تظهر على شكل سحابة من الغبار
٦٠. تتعامد الشمس على السرطان فيحدثشمالى و.....جنوبى
٦١. يحدث الاعتدال الربيعى فى النصف الشمالى يوم
٦٢. يتساوى طول الليل والنهار فى فصلىو.....
٦٣. تصغر دوائر العرض تدريجيا كلما اتجهنا شمال أو جنوب
٦٤. يتميز فصل الخريف بـ.....و.....
٦٥. يبدأ الصيف الشمالى يوم ويقابلهالجنوبى
٦٦. يبدأ الشتاء الشمالى يوم ويقابلهالجنوبى
٦٧. يبدأ الربيع الشمالى يوم ويقابلهالجنوبى
٦٨. يبدأ الخريف الشمالى يوم ويقابلهالجنوبى
٦٩. تتميز الكواكب الداخلية بانها واحجامها ودورانها
٧٠. تتميز الكواكب الخارجية بانها واحجامها ودورانها
٧١. تسمى الكواكب الداخلية بالكواكب
٧٢. تقسيم العالم لمناطق حرارية من اهمية
٧٣. الفرق بين كل خطى طول دقائق
٧٤. اذا اتجه الانسان شرقا فانه ساعته
٧٥. عدد دوائر العرض فى نصف الكرة الشمالى حوالى دائرة
٧٦. عدد خطوط الطول فى نصف الكرة الشرقى حوالى خط
٧٧. تقدر الجاذبية على القمر بحوالى الجاذبية على الارض
٧٨. تمتد مصر فى دوائر عرض

٧٩. تمتد مصر فى خطوط طول
٨٠. الفرق فى التوقيت بين الحد الشرقى لمصر والحد الغربى دقيقة

اكتب ما تشير اليه العبارات

١. اجسام كبيرة مضيئة متوهجة تشع ضوء وحرارة
٢. اكبر الكواكب حجما
٣. مجموعة من الكويكبات التى تاخذ شكل حزام
٤. المدار الذى تسلكه الكواكب
٥. اجسام صلبة تحترق كلياً عند احتكاكها بالغلاف الجوى
٦. التابع الوحيد للارض
٧. تجمعات لملايين النجوم مختلفة الاشكال والاحجام
٨. اجسام صلبة تحترق جزئياً عند احتكاكها بالغلاف الجوى
٩. اجسام اصغر من النجوم وتدور حول النجوم بفعل الجاذبية
١٠. خط وهمى يصل بين القطبين ماراً بالمركز ويميل بزاوية ٢٣ درجة نصف ..
١١. دوران الارض حول محورها وتسبب تعاقب الليل والنهار
١٢. اجسام غازية تظهر فى السماء على شكل حسابة من الغبار
١٣. اكبر دوائر العرض
١٤. خط الطول الرئيسى
١٥. انصاف دوائر وهمية تبدا من القطب الشمالى للقطب الجنوبى
١٦. دوائر وهمية تحيط بالكرة الارضية

اختر الإجابة الصحيحة مما بين الأقواس

- ١- ٢١ ديسمبر يمثل فصل فى النصف الشمالى (الربيع - الخريف - الصيف - الشتاء)
- ٢- ابعاد كواكب المجموعة الشمسية عن الشمس كوكب (المشترى - نبتون - عطارد -)
- ٣- الأتي من كواكب المجموعة الداخلية عدا (نبتون - عطارد - الأرض - المريخ)
- ٤- أشد كواكب المجموعة الشمسية حرارة (المشترى - نبتون - عطارد - المريخ)
- ٥- اقرب كواكب المجموعة الشمسية لشمس كوكب.. (الأرض - نبتون - عطارد - بلوتو)

- ٦- أقل النجوم حرارة لونها (أبيض - أصفر - أحمر - أخضر)
- ٧- أكبر دوائر العرض تسمى (خط الاستواء - مدار الجدى - مدار السرطان -)
- ٨- تتعامد الشمس فى ٢٣ سبتمبر على (خط الاستواء - مدار الجدى - مدار السرطان)
- ٩- تدور الأقمار حول النجوم - الكواكب - السدم - المجرات
- ١٠- تدور الكواكب حول الشمس فى مدارات.. (بيضاوية - دائرية - غير منتظمة - حلزونية)
- ١١- الجسم الفضائى الوحيد الذى يصل للأرض. (النجم - القمر - النيزك - الشهاب)
- ١٢- تنحرف الرياح شمال خط الاستواء جهة (اليمين - اليسار - الشمال - الجنوب)
- ١٣- تستمد الاقمار ضوءها من (الأرض - الشمس - السدم)
- ١٤- يقصر النهار ويطول الليل فى فصل (الخريف - الشتاء - الربيع)
- ١٥- يوم ٢١ مارس يبدأ فصل فى الشمال (الربيع - الخريف - الصيف)
- ١٦- توؤم الأرض هو كوكب (عطارد - الزهرة - المريخ)
- ١٧- يقسم الأرض الى شقين شمالى وجنوبى (الاستواء - السرطان - الجدى)

- ١٨- يقدم المسافر ساعته اذا اتجه (شرقا - غربا - شمالا - جنوبا)
 - ١٩- يشبه كوكب كلا من زحل والمشتري (المريخ - اورانوس - نبتون)
 - ٢٠- تحتوى المجرات ملايين (النجوم - الاقمار - السدم)
- صوب ما تحته خط

- ١- تعد مجرة درب التبانة من المجرات البيضاوية
- ٢- تظهر الشهب على شكل سحابة من الغبار
- ٣- السدم هى الاجسام الفضائية الوحيدة التى تصل للأرض
- ٤- تظهر الاقمار على شكل سهام ضوئية
- ٥- يقع حزام الكويكبات بين كوكبى الزهرة و المشتري
- ٦- يحتل الأرض المركز الرابع من حيث القرب عن الشمس
- ٧- يعرف المشتري بتوؤم اورانوس
- ٨- تسمى الكواكب الخارجية بالكواكب الداخلية
- ٩- تفيد دوائر العرض فى معرفة التوقيت

- ١٠- يمر مدار الجدي جنوب مصر
- ١١- يمر مدار السرطان فى نصف الكرة الجنوبي
- ١٢- القطب الشمالى هو اكبر دوائر العرض
- ١٣- عدد دوائر العرض ١٩٠
- ١٤- عدد خطوط الطول ٢٧٠
- ١٥- يحدث تعاقب الليل والنهار لدوران الارض حول المشتري
- ١٦- يبدأ نصف الكرة الشمالى يوم ١٢ سبتمبر
- ١٧- تتعامد الشمس على الجدي فيحدث ربيع شمالى
- ١٨- تتساقط اوراق الشجر فى فصل الربيع
- ١٩- الفرق بين كل خطى طول ٧ دقائق
- ٢٠- الاشعة العمودية اقل حرارة من الاشعة المائلة

٥) تفسر

١. اختلاف الوان النجوم ؟
٢. تظهر الشهب على شكل سهام ضوئية ؟
٣. تسمى مجرتنا بالدرب اللبنى.....
٤. يبدو القمر مضئ رغم انه معتم
٥. اهمية خطوط الطول ؟
٦. اهمية دوائر العرض ؟
٧. تعاقب الليل والنهار ؟
٨. لا نشعر بحركة الارض اثناء الدوارن ؟
٩. اهمية دوائر العرض ؟
١٠. تسمى الكواكب الداخلية بالكواكب الارضية ؟
١١. تسمى الارض بالكوكب المائى
١٢. كوكب نبتون الاشد برودة

١٣. يدور عطارد فى مدة اقصر من اى كوكب اخر ؟
١٤. تعاقب فصول السنة ؟

ما النتائج المترتبة على :

١. وجود غلاف غازى متماسك على كوكب الزهرة
٢. وجود اكاسيد الحديد على كوكب المريخ
٣. انفجار النجوم
٤. احتكاك الاجسام الفضائية بالغلاف الجوى للارض
٥. دوران الارض حول محورها ؟
٦. عدم تساوى اقطار الارض ؟
٧. تعامد الشمس على الجدى ٢١ ديسمبر ؟
٨. الشكل الكروى للارض ؟
٩. عدم تساوى اقطار الارض ؟
١٠. دوران الارض حول الشمس ؟

ماذا يحدث اذا

١. كانت الارض ثابتة ؟
٢. جاذبية الارض مثل المشترى ؟
٣. لم يكن محور الارض ثابت ؟
٤. تساوى اقطار الارض فى الطول ؟
٥. كانت الارض مسطحة ؟
٦. كانت الارض مكان عطارد ؟
٧. تم اختراق الغلاف الغازى للزهرة
٨. لم يحدث انفجار النجوم

٩. لا يوجد غلاف جوى للارض
.....
١٠. لم يحدد العلماء خطوط الطول ودوائر العرض
.....
١١. كانت جاذبية الارض مثل القمر
.....
١٢. لم يكن محور الارض مائل ؟
.....
١٣. لم تدور الارض حول الشمس ؟
.....

صنف مايلي الى

- (مجرات - نجوم - كواكب داخلية - كواكب خارجية)
(الشمس - المشتري - سكة التبانة - الارض)

استخرج الكلمة الشاذة

- الزهرة - الارض - المشتري - عطارد
- الجدى - السرطان - الدائرة القطبية الشمالية - القطب الشمالى

قارن بين

- الدورة اليومية للارض والدورة السنوية من حيث النتائج
- مجموعة الكواكب الداخلية والخارجية من حيث صفاتها وخصائصها
- القطر الاستوائى - القطر القطبى
- عطارد - نبتون

الوحدة الثالثة

المصطلحات

اليابس	هو الأجزاء المرتفعة من سطح الكرة الأرضية ولم يغمرها الماء
الماء	هو الأجزاء المنخفضة من الأرض ويغمرها الماء
المحيطات	مساحة واسعة من الماء المالح ذات اعماق كبيرة
البحار	هى مساحة من الماء المالح أصغر من المحيطات
بحر خارجى	مساحة من الماء المالح اصغر من المحيط تتصل بالمحيطات بفتحات واسعة (الصين)
بحر داخلى	مساحة من الماء المالح اصغر من المحيط و تتصل بالمحيطات بفتحات ضيقة (البحر الاحمر)
بحر مغلق	مساحة من الماء المالح اصغر من المحيط لا تتصل بالمحيط (قزوين)
البحيرات	مساحة صغيرة من الماء المالح أو العذب محاطة باليابس من جميع الجهات
الانهار	مجرى مائي عذب يتكون نتيجة سقوط الأمطار
التعرية المائية	نحت الماء للصخور ونقلها وأرسابها مما يؤدي إلى تكوين السهول الفيضية ودالات الأنهار.
التعرية الهوائية	نحت الرياح للصخور ونقلها وارسابها مكونة الكثبان الرملية والمنخفضات الحوضية
البراكين	فتحة فى القشرة الارضية تخرج منها الصخور المنصهرة والغازات من باطن الأرض إلى سطحها حيث تبرد وتتجمد
الزلازل	هزات سريعة ومتلاحقة تحدث فى القشرة الأرضية
السهول	هى اراضى مستوية او شبه مستوية لا يرتفع مستواها عن ٥٠٠ متر
الاودية	اراضى منخفضة ضيقة وتحف بها المرتفعات ويجرى بها الانهار
المرتفعات	الاجزاء التى تعلو فوق مستوى سطح البحر
المنخفضات	الاجزاء التى تنخفض انخفاضاً واضحاً عن الجهات المحيطة بها

الجبـال	ارض مرتفعة ولها قمة تزيد عن ١٠٠٠ متر
التلال	اجزاء مرتفعة تشبه الجبال اقل ارتفاعا من الجبال
الحركات البطيئة	الالتواءات والانكسارات التى شكلت سطح الارض
الجزيرة	مساحة من اليابس يحيط بها الماء من جميع الجهات
الهضاب	ارض مرتفعة مستوية او شبه مستوية تزيد عن ٥٠٠ متر

بم تفسر

١- اهمية اليابس ؟

- ميدان رئيسي لنشاط الإنسان
- مصدر منتجاته الزراعية والحيوانية والمعدنية

٢- اهمية الماء ؟

١. سر الحياة
٢. مصدر ثروات كالأسماك والأملاح واللؤلؤ والمرجان وغيرها .

٣- ارتفاع كثافة السكان فى مناطق السهول ؟

- لانها تعتبر أكثر ملائمة للنشاط البشرى اذا كانت غنية بمواردها الاقتصادية

٤- تكون القارات بالشكل الحالى

- تعرضت لما يسمى بـ حزقة القارات حيث كان العالم كتلة واحدة انقسمت الى كتلتين ثم انقسمت الى عدة كتل

٥- تؤثر الزلازل فى تشكيل سطح الارض

- تصدع القشرة الأرضية وتشققها
- تنخفض بعض أجزائها فتغمرها المياه أو ترتفع بعض أجزائها

٦- تكون الجبال المخروطية ؟

بسبب خروج الصخور المنصهرة والغازات من باطن الأرض الى سطحها حيث تبرد وتتجمد مكونة الجبال المخروطية

٧- تؤثر البراكين فى تشكيل سطح الارض

حيث تبرد المنصهرات وتتجمد ينشأ عنها هضاب بركانية (هضبة إثيوبيا واليمه)
جزر بركانية (جزر هاواي) جبال مخروطية (جبل كينيا)

٨- تكون القارات والسلاسل الجبلية العملاقة ؟ بسبب الالتواءات والانكسارات التي شكلت سطح الارض

٩- يؤثر الماء فى تشكيل سطح الارض ؟

- من خلال ما يقوم به من نحت الصخور ونقلها وارسابها فى امكانه اخرى
- يؤدى ذلك الى ظهور العديد من الاشكال التضاريسية مثل السهول الفيضية ودالات الانهار

١٠- تعتبر الرياح اهم العوامل الظاهرية التي تشكل سطح الارض

- تقوم بنقل الصخور وارسابها فى مناطق اخرى
- تكون ظاهرات تضاريسية مثل الكثبان الرملية

١١- يؤثر الجليد فى تشكيل سطح الارض

- تتراكم الثلوج عاماً بعد عام فتتكون مسطحات عظيمة من الجليد
- تؤدى الى تكون الظاهرات التضاريسية مثل البحيرات الجليدية

١٢- تكون الانهار ؟ سقوط الامطار

ما النتائج المترتبة على :-

١- توزيع اليابس والماء على سطح الأرض ؟

اختلاف التضاريس والمناخ على سطح الأرض

٢. اختلاف خصائص النبات والحيوان

٣. اختلاف توزيع السكان

٤. اختلاف نشاط السكان ومظاهر حياتهم

٢- أثر التضاريس على حياة الإنسان

تنوع التضاريس تؤدى إلى تنوع المناخ والنبات والحيوان

تؤثر على النشاط البشرى حيث تعتبر السهول أكثر ملائمة للنشاط البشرى خاصة السهول الغنية بالموارد الاقتصادية

٣- حدوث الزلازل

تصدع القشرة الارضية وتشققها - انخفاض بعض اجزاء الارض وارتفاع البعض الاخر

٤- حدوث الحركات البطيئة ؟

- تكون السلاسل الجبلية العملاقة والقارات

٥- حدوث البراكين ؟

- تكون جبال مخروطية (كينيا) وتكون هضاب بركانية (اليمن) وتكون جزر بركانية (هاواى)
- ١. تعرض سطح الارض للتعرية الهوائية ؟
- ينتج عنها اشكال مثل المنخفضات الحوضية والكثبان الرملية
- ٢. تعرض سطح الارض للتعرية المائية ؟
- ينتج عنها اشكال مثل السهول الفيضية ودلتاوات الانهار
- ٣. تعرض سطح الارض للتعرية الجليدية ؟
- ظهور البحيرات الجليدية

التدريبات

اكمل العبارات الاتية بما يناسبها

١. كان العالم كتلة واحدة تسمى يحيط بها
٢. تقع كتلة لوراسيا فى
٣. يفصل بحر بين كتلتى لوراسيا وجندوانا
٤. يتكون اليابس من قارات
٥. اكبر القارات هى يليها
٦. اصغر القارات
٧. تقع القارة حول القطب الجنوبي .
٨. مدار يمر بقارات (افريقيا وآسيا وأمريكا الشمالية)
٩. مدار يمر بقارات (افريقيا وأمريكا الجنوبية وأستراليا)
١٠. توجد قارات تقع بأكملها فى نصف الكرة الشمالي مثل و.....
١١. توجد قارات تقع بأكملها فى نصف الكرة الجنوبي مثل و.....
١٢. توجد قارات تقع بأكملها فى نصف الكرة الشرقي مثل
١٣. توجد قارات تقع بأكملها فى نصف الكرة الغربي مثل و.....
١٤. يمر خط جرينتش بقارات و..... و.....
١٥. هي القارة الوحيدة التي يمر بها خط الاستواء والسرطان ومدار الجدي

١٦. يمر الاستواء يقارات
١٧. يمر مدار وسط قارة استراليا
١٨. عدد المحيطات اكبرها
١٩. من امثلة البحار الخارجية
٢٠. من امثلة البحار الداخلية
٢١. من امثلة البحار المغلقة
٢٢. يقع معظم الماء فى نصف الكرة ويمر به مدار
٢٣. المحيط يطل على السواحل الغربية لقارتى أوروبا و أفريقيا
٢٤. المحيط القطبى يطل على السواحل الشمالية لقارات و ... و أمريكا الشمالية
٢٥. القارة الوحيدة غير المأهولة بالسكان هى
٢٦. تتمثل المياه العذبة فى و و
٢٧. تتكون البحيرات الجليدية نتيجة وتتكون الكثبان الرملية نتيجة ...
٢٨. تتكون السهول الفيضية ودالات الانهار نتيجة
٢٩. حينما تبرد البراكين وتتجمد فانها تكون او او
٣٠. من اهم الهضاب البركانية و
٣١. مجارى مائية عذبة تكونت بفعل الامطار
٣٢. توجد بحيرات فى أمريكا الشمالية
٣٣. تجرى انهار دجلة والفرات فى
٣٤. تعد سهول وادي النيل من السهول
٣٥. الحركات تشمل الزلازل والبراكين
٣٦. المنخفضات نتاج للتعرية
٣٧. وضع العالم نظرية لتفسير نشأة اليابس والماء
٣٨. يغطى الماء نحو % من مساحة الكرة الأرضية

٣٩. تقع في قارة آسيا جبال
٤٠. تكونت الظواهر التضاريسية نتيجة عوامل وعوامل
٤١. من المرتفعات التي تكونت بفعل البراكين جبل وهضبة
٤٢. تكون الرياح العديد من الظواهر التضاريسية مثل
٤٣. من أنواع البحار و و
٤٤. يوجد نهرا و في العراق
٤٥. تقع جبال الهيمالايا في قارة
٤٦. تقع جبال الالب في قارة
٤٧. تقع جبال الانديز في قارة
٤٨. تقع جبال البحر الاحمر في قارة
٤٩. يقع جبل كينيا في قارة

أختر الإجابة الصحيحة مما بين الأقواس

١. أصغر قارات العالم مساحة (آسيا - أوروبا - أستراليا - إفريقيا)
٢. أطلق على المرحلة الأولى لتكوين الأرض اسم (بنجاليا - لوراسيا - جندوانا)
٣. تقع جبال الألب في قارة..... (أوروبا - آسيا - إفريقيا - أمريكا الشمالية)
٤. تقع قارةبالكامل في نصف الكرة الجنوبي (آسيا - أمريكا الشمالية - أستراليا - أوروبا)
٥. تقع قارةبالكامل في نصف الكرة الغربي (آسيا - أمريكا الشمالية - أستراليا - أوروبا)
٦. تقع هضبة اثيوبيا في قارة ... (أوروبا - إفريقيا - أمريكا الجنوبية)
٧. ثلثي قارات العالم من حيث المساحة قارة (آسيا - أفريقيا - أوروبا - أمريكا الشمالية)
٨. جبالتقع في قارة أمريكا الجنوبية (الألب - الإنديز - الهيمالايا)

٩. سهول وادى النيل فى مصر من السهول (الفيضية - البركانية - الساحلية)
١٠. صاحب نظرية زحزحة القارات هو ... (فيجنر - فايكنج - فارمر - فيوجو)
١١. من البحيرات العذبة بحيرة (البرلس - المنزلة - اذكو - ناصر)
١٢. تمر دائرة الاستواء بقارات اسيا وافريقيا و.. (اوربا - استراليا - انتاركتيكا)
١٣. اصغر قارات العالم مساحة (اسيا - استراليا - اوروبا)
١٤. اكبر المحيطات مساحة (الهادى - الاطلنطى - الهندى)
١٥. من مصادر المياه المالحة (الانهار - الابار - المحيطات)
١٦. مساحة من الماء المالح ذات العماق كبيرة هى ... (المحيط - البحيرة - النهر)
١٧. من البحار الخارجية (الصين - الاحمر - قزوين)
١٨. من البحار الداخلية (الصين - الاحمر - قزوين)
١٩. من البحار المغلقة (الصين - الاحمر - قزوين)

ضع كلمة (صواب) امام العبارة الصحيحة وكلمة (خطأ) امام

العبارة الخطأ

١. يقع معظم اليابس فى نصف الكرة الجنوبي ويمر به مدار السرطان ()
٢. يقع معظم الماء فى نصف الكرة الشمالي ويمر به مدار الجدى ()
٣. أصغر قارات العالم هى قارة استراليا ()
٤. المحيط الاطلنطى يطل على السواحل الغربية لقارتى أوروبا و أفريقيا ()
٥. القارة الوحيدة غير المأهولة بالسكان هى أنتاركتيكا ()
٦. مر تكوين اليابس والماء بمرحلة واحدة ()
٧. تمر الاستواء بثلاث قارات اسيا وافريقيا واوربا ()
٨. لا يمر مدار السرطان والجدى والاستواء معا بقارة اوروبا ()
٩. البحار الداخلية بحار مغلقة لا تتصل بالمحيطات ()
١٠. يقع معظم اليابس فى نصف الكرة الشمالى ()
١١. جزر هاواى هى نتيجة للتعرية الهوائية ()
١٢. تشمل الحركات الارضية السريعة كلا من الزلازل والبراكين فقط ()
١٣. تتكون الدالات نتيجة للتعرية المائية ()
١٤. التل ارض مرتفعة لها قمة يزيد ارتفاعها عن ١٠٠٠ متر ()
١٥. تعتبر السهول اكثر المناطق ملائمة للنشاط البشرى ()
١٦. كانت الارض قديما عبارة عن كتلة واحدة تسمى جندوانا ()

ما العلاقة بين

١. الزلازل وتشكيل سطح الارض
٢. البراكين وتشكيل سطح الارض
٣. المياه وتشكيل سطح الارض
٤. الرياح وتشكيل سطح الارض
٥. الجليد وتشكيل سطح الارض
٦. الحركات البطيئة وتشكيل سطح الارض

صنف الظواهر الطبيعية الاتية الى (قارات - محيطات انهار جبال بحار جزر)

اسيا	النيل	افريقيا	
الاحمر	العظمى	دجلة	
هاواى	المتوسط	كينيا	
الهادى	قزوين	اوروبا	
الانديز	الالب	الهندي	
امريكا ش	امريكا ج	الاطلنطى	
استراليا	القطبى الشمالى	انتاركتيكا	

اكتب ما تشير اليه العبارات

- ١- نظرية تفسر نشأة القارات
- ٢- القارة التى تقع حول القطب الجنوبي
- ٣- البحر الذى فصل بين لوراسيا وجندوانا
- ٤- الكتلة الواحدة التى تكون منها اليابس القديم
- ٥- حركات كونت القارات والسلاسل الجبلية العملاقة
- ٦- هزات سريعة متلاحقة
- ٧- خروج المواد المنصهرة من باطن الارض
- ٨- ارض مرتفعة لها قمة تزيد عن ١٠٠٠ متر
- ٩- ارض مرتفعة مستوية او شبه مستوية تزيد عن ٥٠٠ متر
- ١٠- مساحة من اليابس يحيط بها الماء من جميع الجهات

- ١١- مساحة من الماء يحيط بها اليابس من جميع الجهات
- ١٢- السبب الطبيعي في نشأة هضبة اليمن
- ١٣- ارض مرتفعة تشبه الجبل لكنها اقل منه ارتفاعا.....
- ١٤- السبب في نشأة السهول الفيضية
- ١٥- ارض مرتفعة ضيقة تحف بها المرتفعات

صوب ما تحته خط

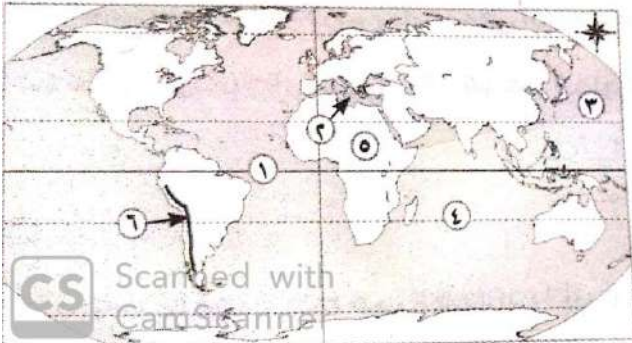
- ١- كان العالم كتلة واحدة اسمها لوراسيا
- ٢- اكبر القارات افريقيا
- ٣- اكبر المحيطات الاطلنطى
- ٤- مساحة اليابس اكبر من مساحة الماء
- ٥- يتركز اليابس في النصف الجنوبى
- ٦- السهول الفيضية احد مظاهر التعرية الهوائية
- ٧- دلالات الشواطى احد نتائج الزلازل
- ٨- من البحار المغلقة الصين
- ٩- من الحركات السريعة التعرية المائية
- ١٠- يمر مدار السرطان بقارة امريكا الجنوبية
- ١١- عدد قارات العالم ٩ قارات
- ١٢- يؤدى البركان الى تصدع القشرة الارضية
- ١٣- من جبال اوروپا الهيمالايا
- ١٤- من جبال امريكا الجنوبية البحر الاحمر
- ١٥- تقع البحيرات العظمى في قارة امريكا الجنوبية
- ١٦- الزلازل من العوامل الخارجية
- ١٧- ثانى اكبر المحيطات الهادى
- ١٨- تنشأ الكثبان الرملية من الزلازل
- ١٩- ترتفع الكثافة السكانية في مناطق الجبال

دل على صحة العبارات الاتية

- ١- مر العالم بعدة مراحل حتى وصل للشكل الحالى
- ٢- توزيع اليابس والماء غير متعادل فى نصفى الكرة الارضية
- ٣- تؤثر الزلازل فى تشكيل سطح الارض
- ٤- تؤثر البراكين فى تشكيل سطح الارض
- ٥- تؤثر الزلازل فى تشكيل سطح الارض
- ٦- تؤثر التعرية المائية فى تشكيل سطح الارض
- ٧- تؤثر التعرية الجليدية فى تشكيل سطح الارض
- ٨- تؤثر الحركات البطيئة فى تشكيل سطح الارض
- ٩- الماء سر الحياة

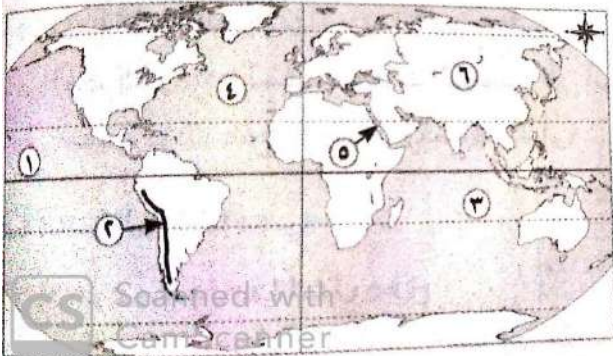
الخرائط

(١) أمامك خريطة للعالم، اكتب ما تدل عليه الأرقام :

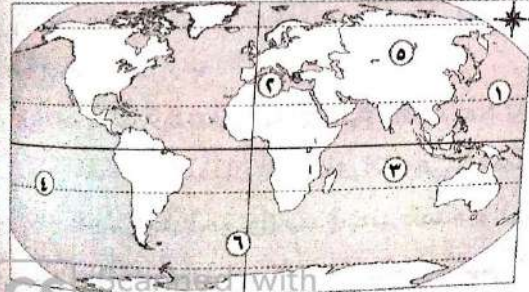


- ١- دائرة عرض
- ٢- البحر
- ٣- المحيط
- ٤- مدار
- ٥- قارة
- ٦- جبال

(١) أمامك خريطة صماء للعالم اكتب مدلول الأرقام التى عليها.



- ١- المحيط
- ٢- قارة
- ٣- دائرة عرض
- ٤- المحيط
- ٥- البحر
- ٦- قارة

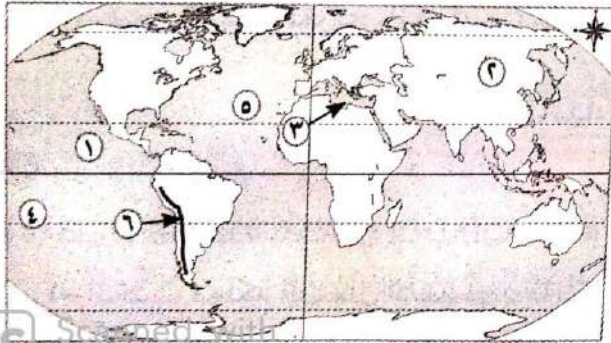


(١) أمامك خريطة للعالم، اكتب مدلول

الأرقام عليها:

- ١- مدار
- ٢- البحر
- ٣- المحيط
- ٤- مدار
- ٥- قارة

٦- خط

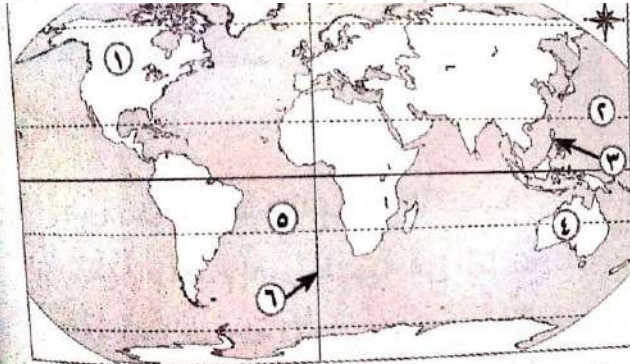


(١) أمامك خريطة صماء للعالم، وضع

ما تدل عليه الأرقام:

- ١- المحيط
- ٢- قارة
- ٣- بحر داخلي مفتوح
- ٤- دائرة عرض
- ٥- المحيط

٦- قارة

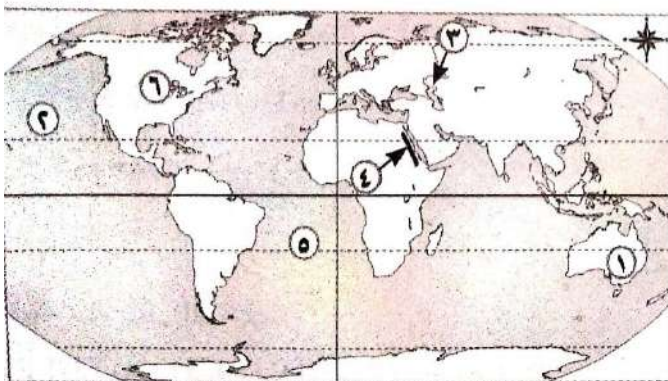


(١) أمامك خريطة للعالم، اكتب ما تدل

عليه الأرقام الآتية:

- ١- قارة
- ٢- دائرة عرض
- ٣- بحر خارجي
- ٤- قارة
- ٦- خط طول

٥- المحيط



(١) أمامك خريطة صماء للعالم، وضع ما

تدل عليه الأرقام:

- ١- قارة
- ٢- المحيط
- ٣- بحر مغلق
- ٤- جبال
- ٥- دائرة عرض

٦- بحيرات عذبة

الوحدة الرابعة

المصطلحات

عصر ما قبل التاريخ	عصر ما قبل اكتشاف الكتابة
العصور التاريخية	هي التي تبدأ باختراع الكتابة
العصر العتيق	هو العصر الذي يشمل الأسرتين (١ ، ٢)
الحضارة	هي كل ما انتجه عقل الإنسان مادياً و ثقافياً
الهكسوس	هم قبائل بدوية جاءت من اسيا عن طريق فلسطين
معاهدة	هي اتفاق بين دولتين أو أكثر لتنظيم العلاقات بينهم
العصر المتأخر	هي الفترة التي اعقت سقوط الدولة الحديثة
اليونسكو	هي منظمة دولية تابعة للأمم المتحدة مسؤولة عن التربية و العلوم و الثقافة
جنود مرتزقة	هم جنود يحاربون من أجل المال
الغزو	السبر لقتال الآخرين وسلب ديارهم
بعثة تجارية	مجموعة ترسل من اجل القيام بعمل تجارى مع
الامبراطورية	دولة كبيرة مترامية الاطراف تسيطر على اراض وشعوب عديدة
الاضمحلال	عصر يسوده الضعف والانهيار نتيجة ضعف الملوك

اهم التواريخ

٤٢٤٢ ق م	الوحدة الاولى لمصر وكانت العاصمة اون هليوبوليس
٣٣٥٠ ق م	اختراع الكتابة
٣٢٠٠ ق م	الوحدة الثانية لمصر على يد الملك مينا
٢٠٠٠ ق م	تولى امنمحات الاول العرش
٥٢٥ ق م	غزو الفرس لمصر
٦٤١ م	الفتح العربى الاسلامى لمصر
١٩٢٢ م	اكتشاف مقبرة توت عنخ امون

اهم المدن

المدينة	سبب شهرتها
اون هليوبوليس	عاصمة الوحدة الاولى
بوتو	عاصمة مملكة الشمال
نخب	عاصمة مملكة الجنوب
منف	عاصمة مصر في العصر العتيق والدولة القديمة انشاها مينا
اثيت تاوى	نقل اليها امنمحات الحكم
اخيتاتون	اسسها اخناتون لتكون عاصمة لها
طيبة	اعاد اليها توت عنخ امون الحكم وعاصمة مصر في الدولة الحديثة
اواريس	عاصمة الهكسوس في مصر

بم تفسر :

- عاش الانسان المصري في العصر الحجري القديم حياة غير مستقرة؟
 - حيث كان دائم التنقل من أجل جمع الثمار وصيد الحيوانات والطيور.
- هجر الإنسان المصري القديم الهضبة ونزوله إلى الوادي ؟
 - بسبب جفاف الهضاب وهجرة الحيوانات لها
- اهمية الزراعة في مصر القديمة ؟
 - ساعدت على حياة الاستقرار بدلا من التنقل فبنى المساكين وظهرت القرى
- ظهور المدن ؟
 - اتساع القرى وكثرة عدد سكانها
- نشأة الاقاليم المستقلة ؟
 - تجمع القرى والمدن
- تسمية مينا بملك الارضين وصاحب التاجين ؟
 - تمجيذاً له بعدما نجح في توحيد مملكتي الشمال والجنوب في مملكة واحدة (وحد القطريه)
- يسمى عصر الدولة القديمة بعصر بناء الأهرام ؟
 - للكثرة ما شيده الملوك من أهرامات ضخمة امتدت من إقليم الفيوم جنوبا إلى الجيزة شمالا.
- أهتمام فراعنة الدولة القديمة ببناء الأهرامات؟
 - (لاعتقادهم في البعث والخلود
- تسمية هرم سقارة بالهرم المدرج ؟لأنه يتكون من ٦ مصاطب

١٠. كان عصر زوسر تحول في هندسة بناء المقابر الملكية ؟
لأن المقبرة كانت طوال الأسرتين الأولى والثانية مصطبة واحدة فتحوّلت إلى هرم مدرج مع ست مصاطب

١١. يعتبر هرم خوفو من أهم عجائب الدنيا السبع ؟
لضخامة بناؤه وبراعة هندسته. بنى على مساحة ١٣ فدان،
١٢. بنيت المعابد مكشوفة ؟ لأنها خصصت لعبادة (الإله رع)

١٣. كان عهد منكاورع أكثر حرية من أبيه وجده ؟
حيث مارس الشعب الشعائر الدينية بحرية
١٤. أرسل الملك سنفر و اسطولاً إلى فينيقيا ؟ لجلب خشب الارز من هناك

١٥. أطلق على الملك سنفر و الملك المحسن المحبوب
لأنه حكم مصر ٢٤ عاماً تميزت بالاستقرار والعدالة فأحبه المصريون
١٦. أهمية اسرة اهناسيا ؟

قامت بطرد الآسيويين من مصر واستت الأسرتان ٩ و ١٠

١٧. سقوط الدولة القديمة
ضعف هيبة الملوك . - زيادة نفوذ حكام الأقاليم - تفكك وحدة البلاد

١٨. كان عصر الدولة الوسطى عصر الرخاء الإقتصادي ؟
حيث تميز ب: ١- النهوض ب (الزراعة - الصناعة - التجارة) ٢ - تشغيل (المناجم -
المحاجر) ٣- تقدم (الفنون - العمارة - الآداب) ٤- حفر قناة زيروستريس.

١٩. أقام امنمحات الثالث مقياس للنيل
تحديد المساحات المنزرعة. و تقدير الضرائب .

٢٠. أقام امنمحات الثالث سد اللاهون ؟
للاستفادة في تنظيم شئون الري والتوسع في الزراعة

٢١. انشاء سنوسرت الثالث قلعتي سمنه وقمنه ؟

وذلك لتأمين حدود مصر الجنوبية

٢٢. سقوط ونهاية الدولة الوسطى ؟

١- ضعف الملوك بعد امنمحات الثالث ٢- الصراع بين حكام الأقاليم أنفسهم وما
بين حكام الأقاليم والقصر الفرعوني.

٢٣. نجاح الهكسوس في احتلال مصر ؟
- ضعف أحوال البلاد وتفككها
 - انتشار القوضى والاضطرابات
 - تفوقهم الحربي وإستخدامهم للعجلات الحربية التي تجرها الخيول .
٢٤. كره المصريين للهكسوس ؟
- لانهم (١) أساءوا معاملة المصريين (٢) قاموا بنهب ممتلكاتهم وتخریب المعابد
 - (٣) فرضوا على المصريين " الضرائب الباهظة
٢٥. بناء الهكسوس القلاع والحصون وتوزيع قواتهم الحربية في مصر ؟
- حتى يمنعوا المصريين من الثورة ضدهم .
٢٦. اطلق المصريون على الهكسوس اسم الملوك الرعاه ؟ -
- لانهم احتلوا بلادهم دون وجه حق
٢٧. لعبت أياح حتب دوراً بارزاً في تحرير مصر من الهكسوس
- حيث شجعت ابنها احمس على تحرير البلاد بعد استشهاد زوجها سقنه دج وابنها كامس
٢٨. يطلق علي عصر الدولة الحديثة عصر المجد الحربي؟
- إهتم ملوك هذه الدولة بآساع ملكهم وزيادة مساحة إمبراطوريتهم .
- خاضوا المعارك العسكرية وحققوا فيه انتصارات رائعة علي أعدائهم .
- إستطاعوا توحيد اول إمبراطورية مصرية في التاريخ شملت بلاد الشام - بلاد الرافديه - بلاد بونت
٢٩. إهتمام ملوك الدولة الحديثة ببناء جيش قوى ؟
- لحماية البلاد من الطامعين ويحقق لمصر وحدتها وإستقلالها .
- ١- ثورة كهنة آمون والآلهة الاخرى ضد اخناتون ؟
- لانه دعا لعبادة اله واحد سماه آتون
٣٠. لم تستمر ديانة امنحتب الرابع (عبادة اله واحد) بعد وفاته
- لانها كانت مرتبطة بوجود صاحبها اخناتون
٣١. سبب شهرة توت عنخ آمون الفائقة ؟
- نرجع شهرته إلى إكتشاف مقبرته كاملة ١٩٢٢
٣٢. يعتبر رمسيس الثالث آخر الفراعنة العظام
- ١- هزم شعوب البحر المتوسط (برياً عند رفح) (بحرياً عند مصب النيل الغربي
 - ٢- هزم الليبيين عند وادي النطرون

٣٢. سقوط الدولة الحديثه

- لانه خلف رمسيس الثالث ملوك ضعاف فأزداد نفوذ الكهنه حتى اغتصب احدهم الحكم
- انتهاء عصر النهضه عام ٥٢٥ ق . م .
- بسبب غزو الفرس لمصر وقضاءهم على الاسرة ٢٦

ما النتائج المترتبة على :

١. اكتشاف النار ؟ استخدمها في طهي الطعام والتدفئة واخافة الحيوانات
٢. ضعف هيبة الملوك أواخر عهد الدولة القديمة.
- انهيار الدولة القديمة . تعرضت البلاد إلى غزو قبائل البدو الآسيويين .
٣. ثورة إخناتون الدينية . ١- ثار ضده كهنة آمون
٤. معركة قادش
- انتصر رمسيس الثاني على الحيثيين ثم عقد أول معاهدة سلام في التاريخ معهم
٥. ضعف الملوك بعد رمسيس الثالث .
- انهيار الدولة الحديثة
٦. ازدياد نفوذ كهنة رع في أواخر الأسرة الرابعة ؟
- سقوط الأسرة الرابعة وتولى كبيرهم أوسركاف حكم مصر
٧. ضعف وانهيار مصر في عصر الاضمحلال الاول ؟
- ١- سقوط الدولة القديمة ٢- احتلال الآسيويين مصر
٨. ظهور اسرة اهناسيا في بنى سويف
- ادى ذلك الى طردها الآسيويين من مصر واعادة الاستقرار للبلاد
٩. ظهور حكام طيبه
- ١- اسقاط الأسرة العاشرة تأسيس الأسرة ١١ ٣- بداية عصر الدولة الوسطى
١٠. حضرة قناتة سيزوستريس ؟
١. زيادة النشاط التجارى مع كل من فلسطين وسوريا وجزر البحر المتوسط
٢. زيادة الصلات التجارية بين مصر وبلاد بونت (الصومال حاليا)
١١. ضعف الملوك الذين جاءوا بعد امنمحات الثالث
- وسقوط الدولة الوسطى

١٢. تأثر الهكسوس بالحضارة المصرية
 - ١- تلقبوا بألقاب مصرية
 - ٢- لبسوا الملابس المصرية
 - ٣- تحدثوا لغة المصريين
١٣. انشاء تحتمس الثالث اسطولاً قويا لمصر
 - ادى ذلك الى فرض سيطرته على جزر البحر المتوسط وفينيقيا
١٤. كسب تحتمس الثالث الامراء الآسيويين
 - ادى ذلك الى تماسك الامبراطورية المصرية ونشر الثقافة المصرية في بلادهم
 - ١٥- غزو الفرس لمصر
 - انتهاء عصر النهضة وقضوا على الاسرة ٢٦ وحكموا حتى الاسرة ٣٠

التدريبات

لمن تنسب الاعمال الآتية

- ١- وحد مملكتي الشمال والجنوب واسس العاصمة منف
- ٢- اسس الاسرة الثالثة
- ٣- اسس الاسرة الرابعة
- ٤- اسس الاسرة الخامسة
- ٥- اسس الاسرة السادسة والعشرين
- ٦- امر ببناء هرم زوسر
- ٧- امر ببناء الهرم الاكبر
- ٨- امر ببناء الهرم الاوسط
- ٩- امر ببناء الهرم الاصغر
- ١٠- لقب بملك الارضين وصاحب التاجين
- ١١- امر بنحت تمثال أبو الهول
- ١٢- تميز عهده بحرية الشعب في ممارسة شعائره الدينية
- ١٣- امر معابد الشمس والمسلات الضخمة
- ١٤- حكم ٢٤ سنة مسمى بالمحسن المحبوب
- ١٥- انهارت في عهدة السلطة المركزية للدولة القديمة
- ١٦- كاهن اصبح ملك
- ١٧- وزير اصبح ملك

- ١٨- امر بحفر قناة سيزوستريس
- ١٩- ارسل اسطولا لفينيقييا (لبنان) لجلب خشب الآرز
- ٢٠- طرد الهكسوس من مصر
- ٢١- قامت بأرسال بعثتين تجاريتين إلى بلاد بونت
- ٢٢- نقل عاصمة الدولة من طيبة إلى أتيت تاوى
- ٢٣- قاد اول ثورة دينية فى التاريخ
- ٢٤- أقام أقدم إمبراطورية عرفها التاريخ
- ٢٥- نادي بفكرة الوحدانية وعبادة الإله آتون
- ٢٦- أعاد عاصمة الدولة إلى طيبة كما أعاد لعبادة الإله امون مكانتها
- ٢٧- المؤسس الحقيقى للأسرة العشرين
- ٢٨- شيد قلعتى سمنا وقمنا
- ٢٩- اقام سد اللاهون بالفيوم - أقام مقياس علي النيل - معبد الابرنت
- ٣٠- انتصر على امير قاش فى معركة مجدو
- ٣١- طرد الآشوريين من مصر
- ٣٢- قاد المرحلة الاولى من الكفاح ضد الهكسوس
- ٣٣- استكمل قيادة المرحلة الاولى من الكفاح ضد الهكسوس
- ٣٤- شجعت زوجها وابنائها على حرب الهكسوس
- ٣٥- شيدت مسلتين فى الكرنك
- ٣٦- انتصر على شعوب البحر المتوسط عند مدينة رفح
- ٣٧- أرسل بعثة من الفينيقيين للدوران حول إفريقيا استمرت ثلاث سنوات
- ٣٨- أنتصر علي الحيثيين في معركة قادش
- ٣٩- قاموا بغزو مصر وقضوا على الأسرة السادسة والعشرين .
- ٤٠- اعاد حفر قناة سيزوستريس
- ٤١- صاحب أشهر مقبرة فرعونية اكتشفت عام ١٩٢٢
- ٤٢- اخترع حرب المفاجأة
- ٤٣- احتفظ بعلاقات ودية مع حكام الاقاليم ولو يسلبهم سلطانهم
- ٤٤- منظمة انقذت معبد اليونسكو من الغرق

٤٥- اتم بهو الاعمدة فى الكرنك

٤٦- قاد الفتح الاسلامى لمصر

اكتب ما تشير اليه العبارات

١- كل ما انتجه عقل الانسان ماديا او ادبيا

٢- عاصمة الوحدة الاولى ٤٢٤٢ ق م

٣- عاصمة الوحدة الثانية ٣٢٠٠ ق م

٤- عاصمة مملكة الشمال

٥- عاصمة مملكة الجنوب

٦- عاصمة الهكسوس

٧- السير لقتال الاخرين وسلب ديارهم

٨- عصر يسوده الصعف والانهيار

٩- شعار مملكة الشمال

١٠- شعار مملكة الجنوب

١١- شعار مملكة الشمال

١٢- معبد ضخيم بناه الملك امنمحات الثالث ويعرف بقصر التيه

١٣- قبائل بدوية وفدت من اسيا عن طريق فلسطين

١٤- دولة كبيرة مترامية الاطراف تسيطر على اراض وشعوب عديدة

١٥- عصور ما قبل اكتشاف الكتابة

١٦- اتفاق بين دولتين او اكثر لتنظيم العلاقات بينهم

اكمل العبارات الاتية بما يناسبها

١- العامل الاساسى فى قيام الحضارة المصرية القديمة هو

٢- السنوات قبل الميلاد

٣- يشمل العصر العتيق الاسرات و

٤- تشمل الدولة القديمة الاسرات من الى

٥- يشمل عصر الاضمحلال الاول الاسرات من الى

- ٦- يشمل عصر الدولة الوسطى الاسرات من الى
- ٧- يشمل عصر الدولة الحديثة الاسرات من الى
- ٨- يشمل العصر المتأخر الاسرات من الى
- ٩- عرف الانسان المصرى الكتابة عام
- ١٠- عاش الانسان فى العصر الحجرى القديم فوق
- ١١- هجر الانسان الهضاب ونزل الى فى العصر الحجرى الحديث
- ١٢- ظهرت المقابر لدفن الموتى فى العصر
- ١٣- اكتشاف الزراعة اهم ما يميز العصر
- ١٤- ظهور العبادات اهم ما يميز العصر
- ١٥- اكتشاف النار اهم ما يميز العصر
- ١٦- استخرج المصرى القديم النحاس فى العصر
- ١٧- حدثت الوحدة الاولى عام اما الوحدة الثانية عام على يد.....
- ١٨- كانت عاصمة مملكة الشمال
- ١٩- كانت عاصمة مملكة الجنوب و
- ٢٠- من القاب الملك مينا و.....
- ٢١- سمي عصر الدولة القديمة بعصر
- ٢٢- يعتبر اول بناء حجرى فى التاريخ
- ٢٣- يعتبر احد عجائب الدنيا السبع
- ٢٤- بنى المصرى القديم الاهرامات بسبب اعتقاده فى
- ٢٥- مؤسس الاسرة الرابعة وبنى هرمين فى دهشور
- ٢٦- حكم الملك سنfro مدة سنة
- ٢٧- ارسل سنfro و اسطولا تجاريا لبلاد لجلب
- ٢٨- تمثال ابو الهول على شكل وجسم ورأس

٢٩- كان عهد الملك اكثر حرية دينية من ابيه وجده

٣٠- اطلق الملك على نفسه لقب بن الاله رع

٣١- تفككت وحدة البلاد فى الدولة القديمة فى عهد الملك

٣٢- قامت اسرة بطرد الاسيويين من مصر

٣٣- تفككت الدولة القديمة خاصة فى اواخر عهد الملك احد ملوك

الاسرة السادسة

٣٤- استمرت مصر تحت حكم طوال الاسرتان ٧ و ٨

٣٥- نجح حكام طيبة فى اسقاط الاسرة

٣٦- اعلن امنمحات الاول نفسه ملكا عام ق. م

٣٧- نقل امنمحات الاول العاصمة من الى

٣٨- اسس امنمحات الاول اسوار عرفت باسم

٣٩- قام الملك بحفر قناة سيزوستريس

٤٠- اقام سنوسرت الثالث قلعتى و فى الجنوب

٤١- تعتبر البعد الاستراتيجى لمصر ناحية الجنوب

٤٢- اقام امنمحات الاول سد ومعبد وهرم

٤٣- اتى الهكسوس من ناحية واسسوا عاصمة جديدة تسمى

٤٤- اول من قاد حرب التحرير ضد الهكوس

٤٥- استكمل قيادة المرحلة الاولى

٤٦- كان ل دورا فى تشجيع زوجها وابنائها على حرب الهكسوس

٤٧- نشأت اول امبراطورية مصرية فى الدولة

٤٨- حكمت حتشبسوت مدة سنة

٤٩- شيدت حتشبسوت مسلتين فى معبد

٥٠- ارسلت الملكة حتشبسوت بعثتين تجاريتين الى بلاد

- ٥١- تم وضع مؤسسا للدولة الحديثة
- ٥٢- قام تحتمس الثالث بحوالى حملة عسكرية على كل من فلسطين وسوريا
- ٥٣- انتصر تحتمس الثالث على امير قادش فى معركة
- ٥٤- اسس اخناتون عاصمة جديدة سماها
- ٥٥- غير المنحوت الرابع اسمه الى
- ٥٦- يرمز لاله اتون ب
- ٥٧- اكتشفت مقبرة توت عنخ امون عام
- ٥٨- امتدت أهرامات الدولة القديمة من جنوباً إلى شمالاً .
- ٥٩- أول بناء حجري ضخيم عرفه التاريخ هو
- ٦٠- بنى ملوك الأسرة معابد الشمس والتي توجد معظمها في
- ٦١- أنشأ الملك سد اللاهون بالفيوم لا
- ٦٢- بعد عصر الاضمحلال الثاني سقطت مصر فريسة في يد
- ٦٣- استخدم الهكسوس وكانت سبباً في انتصارهم على المصريين
- ٦٤- تم إنقاذ آثار النوبة من مياه السد العالي بمساعدة هيئة
- ٦٥- اعاد العاصمة الى طيبة واعد لعبادة امون مكانتها
- ٦٦- ثار كهنة امون ضد الملك
- ٦٧- اول معاهدة سلام كانت بين الملك و
- ٦٨- نجح الملك فى هزيمة شعوب البحر المتوسط
- ٦٩- ارسل الملك نخاو بعثة من للدوران حول افريقيا
- ٧٠- ثار كهنة الاله امون على الملك
- ٧١- يعد الملك رمسيس الثانى من اهم ملوك الاسرة وشيد ٦ معابد اشهرهم
- ٧٢- اتم الملك بهو الاعمدة فى الكرنك

- ٧٣- نجح الملك رمسيس الثالث في هزيمة الليبيين عند
- ٧٤- استمرت رحلة الفينيقيون للدوران حول افريقياسنة
- ٧٥- وقعت مصر تحت ايدى الفرس عام وحكموا البلاد حتى الاسرة ...
- ٧٦- تمكن من تخليص مصر من الرومان عام
- ٧٧- بنى المصري القديم في عصر المعادن مساكنه من بدلاً من.....

- ٧٨- تحققت لأول مرة الوحدة بين أقاليم مصر الفرعونية في عامق.م
- ٧٩- كان شعار مملكة الشمالوعبد أهلها ولبس ملكها التاج
- ٨٠- كان شعار مملكة الجنوبوعبد أهلها ولبس ملكها التاج

رتب الاحداث التاريخية الاتية من الاقدم الى الالحداث

(الوحدة الثانية - تولى امنمحات الثالث الحكم - دعوة احناتون - اكتشاف النار)

.....

تولى ابسماتيك الحكم - الفتح الاسلامى لمصر - غزو الفرس لمصر -
مجيء الهكسوس لمصر

.....

(تولى نخاو - نهاية العصر الفرعونى - اكتشاف مقبرة توت غنخ امون -
اكتشاف الزراعة

.....

(ارسال نخاو بعثة من الفينيقيين للدوران حول افريقيا-- معركة مجدو - بناء الهرم
الاكبر)

.....

(نحت تمثال ابو الهول - مجيء الاسكندر لمصر - عصر الاضمحلال الاول -
اكتشاف النار)

ما رايك فى

- ١- تصرف رمسيس الثانى مع ملوك الدول المجاورة
- ٢- تصرف اياح حتب مع زوجها وابنائها
- ٣- سياسة منكاورع الدينية
- ٤- اعمال الملك تحتمس الثالث
- ٥- اعمال الملك ايسماتيك
- ٦- تصرف الهكسوس مع المصريين
- ٧- نزول المصرى القديم للوادي
- ٨- بناء المصرى القديم لاهرامات
- ٩- توحيد مينا لمملكتى الشمال والجنوب
- ١٠- انشاء امنمحات لمقياس النيل
- ١١- ضعف حالة مصر فى عصر الاضمحلال

ما الدروس المستفادة من

- ١- ضعف حالة مصر اواخر عصر الدولة الوسطى
- ٢- تصرف اياح حتب مع زوجها وابنائها
- ٣- اعتقاد المصرى القديم بالبعث والخلود
- ٤- وحدة مصر الاولى والثانية
- ٥- اكتشاف الزراعة
- ٦- بناء الاهرامات
- ٧- كفاح المصريين ضد الاعداء
- ٨- تصرف تحتمس مع الامراء الاسويين

ضع كلمة صواب أو كلمة خطأ أمام مايناسب كل عبارة :

- ١- عاش المصري القديم في العصر الحجري الحديث على جمع الثمار وصيد الحيوان ()
- ٢- عاش المصري القديم في عصر استخدام المعادن حياة مستقرة . ()
- ٣- نشأت الأقاليم المستقلة قبل اكتشاف قدماء المصريين للزراعة . ()
- ٤- لُقِّبَ الملك مينا بملك الأرضين وصاحب التاجين . ()
- ٥- كان المصريون القدماء يعتقدون في البعث والخلود . ()
- ٦- تولى أوسركاف عرش مصر وبه تبدأ الأسرة الخامسة . ()
- ٧- يُعتبر عصر الدولة الوسطى عصر الرخاء الاقتصادي . ()
- ٨- كان أمنمحات الأول وزيراً لآخر ملوك الأسرة الحادية عشرة . ()
- ٩- قام أمنمحات الثالث بنقل عاصمة الدولة من طيبة إلي أتيت تاوي ()
- ١٠- أقام الملك سنوسرت الثالث مقبساً للنيل عند الجندل الثانى ()
- ١١- تأثر الهكسوس بالحضارة المصرية . ()
- ١٢- قام رمسيس الثالث بـ ١٦ حملة في فلسطين وسورية ()
- ١٣- نادى إخناتون بعبادة إله واحد رمز له بقرص الشمس . ()
- ١٤- أتم الملك خفرع بهو الأعمدة في معبد الكرنك . ()
- ١٥- يُعد رمسيس الثالث آخر فراعنة مصر العظام . ()
- ١٦- نجح إسماتيك الأول في طرد الآشوريين من مصر . ()
- ١٧- يطلق اسم العصر المتأخر على الفترة التي أعقبت سقوط الدولة الحديثة ()
- ١٨- عصور ما قبل التاريخ هي العصور التي تسبق معرفة الإنسان للزراعة ()
- ١٩- تحققت الوحدة بين أقاليم البلاد للمرة الأولى عام ٣٥٠٠ ق م ()
- ٢٠- كانت مدينة بوتو هي عاصمة مملكة الجنوب . ()
- ٢١- يسمي عصر الدولة الوسطى بعصر بناء الأهرام ()
- ٢٢- يضم عصر الاضمحلال الأول الأسرات ٥ : ١٠ ()
- ٢٣- كانت عاصمة الهكسوس مدينة منف ()
- ٢٤- كان سبب انتصار الهكسوس على المصريين استخدامهم للرماح ()
- ٢٥- بدأت الدولة الفرعونية الحديثة بقيام الأسرة الحادية عشرة ()
- ٢٦- أرسل نخاو بعثة من الفينيقيين للدوران حول أفريقيا استمرت ٥ سنوات ()

- ٢٧- عمل ايسماتيك الأول علي تنمية التجارة الخارجية مع بلاد يونت ()
 ٢٨- يعتبر رمسيس الثاني آخر الفراعنة العظام ()
 ٢٩- تعرضت البلاد لغزو الرومان عام ٥٢٥ ق . م ()
 ٣٠- جاء الفتح الاسلامى لمصر على يد خالد بن الوليد عام ٦٤١ م ()

بـ تفسر

- ١- أهمية اختراع الكتابة .
- ٢- عاش المصري القديم حياة غير مستقرة في العصر الحجري القديم .
- ٣- هجرة الإنسان المصري القديم إلي وادي النيل .
- ٤- يُطلق على الدولة القديمة عصر بناء الأهرام .
- ٥- اهتمام الملوك الفراعنة ببناء الأهرامات .
- ٦- ضعف وانهيار الدولة القديمة .
- ٧- يطلق على الدولة الوسطى عصر الرخاء الاقتصادي
- ٨- إنشاء سنوسرت الثالث قلعتي سمنا وقمنا .
- ٩- أهمية قناة سيزوستريس .
- ١٠- يُعتبر عصر أمنمحات الثالث عصر الفلاح الذهبي .
- ١١- تسمية الهكسوس بالملوك الرعاة .
- ١٢- وقوع مصر فريسة لغزو الهكسوس .
- ١٣- كراهية المصريين للهكسوس .
- ١٤- تقدم النشاط البحري في عصر الملكة حتشبسوت .
- ١٥- استدعاء تحتمس الثالث أبناء أمراء البلاد الآسيوية إلي طيبة .
- ١٦- ثورة كهنة آمون ضد إخناتون .
- ١٧- شهرة الملك توت عنخ آمون .
- ١٨- يعتبر رمسيس الثالث آخر الفراعنة العظام .
- ١٩- نهاية الدولة الحديثة .
- ٢٠- يطلق على الفترة التي أعقبت سقوط الدولة الحديثة بالعصر المتأخر.
- ٢١- يعتبر رمسيس الثالث آخر الفراعنة العظام

٢٢- انتهاء عصر النهضة

٢٣- شيد امنمحات الثالث سد اللاهون

٢٤- شيد امنمحات الثالث هرم هواره

ما النتائج المترتبة على :

١- اكتشاف المصري القديم النار .

٢- ضعف هيبة الملوك في أواخر عهد الدولة القديمة .

٣- بناء سد اللاهون .

٤- بعثة الملكة حتشبسوت إلي بلاد بونت .

٥- سياسة تحتمس الثالث في كسب الأمراء الآسيويين .

٦- دعوة إخناتون إلي توحيد الإله .

دلل على صحة العبارات الاتية

١- تآثر الهكسوس بالمصريين كما تآثر المصريين بالهكسوس

٢- لرمسيس الثانى اعمال عمرانية عظيمة

٣- تعد اعمال تحتمس الثالث مفخرة لكل مصرى

٤- الهرم الاكبر احد عجائب الدنيا السبع

٥- اساء الهكسوس معاملة المصريين

٦- كونت حتشبسوت علاقات تجارية مع الدول المجاورة

٧- استرد اسماتيك لمصر مكانتها واستقلالها وقوتها الاقتصادية

٨- رمسيس الثانى اخر الفراعنة العظام

٩- مر تحقيق الوحدة السياسية بمصر القديمة بعدة مراحل

١٠- لم تكن العمارة فى الدولة القديمة مقتصرة فقط على الاهرامات

الوحدة الخامسة

المصطلحات

الحياة السياسية	هي نظام الحكم و السلطات الموجودة في المجتمع لإدارة شؤونه
الأسطول	هو عدد من السفن المجهزة لصيد المعتدين من جهة البحر .
الحياة الدينية	المعتقدات و الشعائر و الطقوس التي كان يؤديها المصري القديم داخل و خارج المعبد .
التحنيط	عملية الهدف منها المحافظة علي الجسد سليم
التوحيد	عبادة اله واحد لا اله غيره
الحياة الاقتصادية	الأنشطة البشرية التي كان يمارسها المصريون القدماء عبر العصور
المقايضة	تبادل سلعة بسلعة أخرى
التجارة الداخلية	هي حركة البيع والشراء بين القرى والمدن والاقاليم المصرية
التجارة الخارجية	هي حركة البيع والشراء التي تتم بين مصر والدول المجاورة
الصناعة	تحويل المادة الخام من صورة لصورة أخرى

بـ تفسر :-

١. قيام الحضارة المصرية القديمة :-

لتوفر مقومات الحضارة وهي

نهر النيل : و الموقع و المناخ : و وفرة الموارد الطبيعية و الانسان

٢. يسمى الفرعون بالملك المقدس

يجمع في يديه السلطتين الدينية والدنيوية

٣. نشأة وظيفة الوزير؟

بسبب تزايد أعباء ومهام الملك فاتخذ وزيراً له يعاونه في تنظيم شؤون البلاد.

٤. اسناد منصب الوزير لابن الفرعون او احد اقاربه

- بسبب اهمية هذا المنصب

٥. أهمية منصب حاكم الإقليم ؟

١- ينوبون عن الملك في حفرة الترع ، خزن الغلال ، حفظ الأمن)

٦. كانت وظيفة الكاتب عند الفراعنة محل تقدير واحترام؟

يتم اختياره من بين المتعلمين (٢) النابغون يرقون للمناصب العليا .

٧. لبس الجنود فى مصر الفرعونية ملابس قصيرة

لكي تمكنهم من سهولة الحركة أثناء القتال.

٨. لم يكن المصريون دعاة حرب ؟

لم يكن هناك من سبب يدفعهم للقتال وكان الشعب المصرى يفضل الحياة

الهادئة

٩. انشاء اول جيش نظامى فى عهد الدولة الحديثة

- تحرير البلاد من الغزاة المعتدين

- تأمين حدود البلاد

- تكوين الامبراطورية.

١٠. إهتمام المصريين القدماء بإنشاء الأسطول الحربي ؟

لصد المعتدين القادمين من جهة البحر . ٢- الدفاع عن سواحل مصر وموانئها

١١. تعددت الالهة المصرية القديمة؟

بسبب انقسام مصر الى عدة اقاليم قبل توحيدها على يد الملك مينا

١٢. رحب الملوك بتعدد الالهة ؟ حتى لا تترك السلطة الدينية فى يد كهنة

اله واحد يمكن ان ينافسوه فى الثراء والسلطة

١٣. بقاء الاثار المصرية حتى الان ؟ لانها كانت توجد فى الصحراء التى تتميز

بالجفاف

١٤. اهمية ورق البردي :-

◀ وأستخدموه فى صناعة الورق والقوارب - السفن - السلال - الجبال - الحصير

١٥. اقام المصري القديم السدود ؟ لحجز المياه والاستفادة منها

١٦. قامت الصناعات الزجاجية فى مصر القديمة ؟ حيث صنعوها من رمال الصحراء

التدريبات

لمن تنسب الاعمال الاتية

- ١- الاله الذى سادت عبادته فى الدولة القديمة
- ٢- الاله الذى سادت عبادته فى الدولة الوسطى
- ٣- الاله الذى سادت عبادته فى الدولة الحديثة
- ٤- يراس الادارة المركزية
- ٥- ينوب عن الملك فى حكم الاقليم
- ٦- اقام اول ثورة دينية فى التاريخ
- ٧- رحب بفكرة تعدد الالهة
- ٨- يسمى بالملك المقدس
- ٩- قسم السنة الزراعية ل٣ فصول
- ١٠- من مهامه الدفاع عن البلاد وحفظ الامن
- ١١- من المناصب الهامة وكان محل احترام وتقدير ويرقى للمناصب العليا
- ١٢- اله الحق والصدق فى مصر القديمة
- ١٣- اله الموتى فى مصر القديمة

اكمل العبارات الاتية

- ١- بدا نظام الحكم فى مصر القديمة ب.....وانتهت بالنظام.....
- ٢- لقب الفرعون بومن مهامهو.....و.....
- ٣- كان الفرعون يسند وظيفة الوزير الىاو.....
- ٤- من مهام حاكم الاقليمو.....و.....
- ٥- كانت ادارة النسخ والمحفوظات خاصة ب.....
- ٦- كانت ادارة الوثائق الملكية خاصة ب.....
- ٧- كانت ادارة الحقول خاصة ب.....
- ٨- كانت ادارة الخزانة خاصة.....
- ٩- كانت ادارة القضاء خاصة ب.....
- ١٠- كان محل تقدير واحترام المصريين ويرقى للمناصب العليا

- ١١- من اهم اسلحة الجيش المصرى و..... و.....
- ١٢- دارت معارك حربية بين الملك رمسيس الثالث وبين
- ١٣- انتشرت عبادة الاله فى الدولة القديمة والاله فى
الوسطى والاله فى الحديثة
- ١٤- حفظ المصرى القديم الجثث عن طريق
- ١٥- كان المصرى القديم بعد الموت ويتعرض للحساب على يدقاضى
يراسهم
- ١٦- كان اله العدل والصدق عند المصريين القدماء
- ١٧- ظهرت فكرة الوجدانية على يد الملك
- ١٨- قسم المصرى القديم السنة الزراعية الىفصول
- ١٩- يبدأ فصل الفيضان من منتصف يونيو الى
- ٢٠- يبدأ فصل البذر من منتصف اكتوبر حتى منتصف
- ٢١- يبدأ فصل الحصاد منوحتى
- ٢٢- من امثلة الخضروات الى زرعها المصرى القديم
- ٢٣- استخدملتقليب الاضى الزراعية
- ٢٤- استخدملرفع المياه للاراضى الزراعية المرتفعة
- ٢٥- من امثلة الصناعات الحجريةو..... وكان يصنع الزجاج من
- ٢٦- استورد المصرى القديم الاخشاب منو.....
- ٢٧- كان المصرى القديم يصنع ملابس من
- ٢٨- كانت المرأة المصرية القديمة تقوم لعملية الغزل والنسيج اعتمادا على....
- ٢٩- من امثلة الصناعات الجلديةو.....و.....و.....
- ٣٠- من امثلة الصناعات القائمة على البردىو.....و.....
- ٣١- استخدم المصرى القديم نظام فى التجارة ثم استخدمو.....
- ٣٢- استخدم المصرى القديمفى نقل الاشياء عبر الطرق البرية
- ٣٣- من واجبات فرعون و و
- ٣٤- كان الوزير يتسم بـ و و
- ٣٥- كان حكام الأقاليم يعينون بواسطة.....

- ٣٦- كانت وظيفة من الوظائف الهامة في الإدارة المركزية
 ٣٧- بدأ التفكير في إقامة جيش نظامي في عهد الدولة
 ٣٨- من خصائص الحياة الدينية عند المصريين القدماء و
 ٣٩- اهتم المصريون القدماء بالنيل فأقاموا و وحفروا
 ٤٠- قسم المصريون القدماء السنة الزراعية إلي ثلاثة فصول هي و و
 ٤١- تعد الصناعات أقدم الصناعات التي استغل بها المصريون القدماء
 ٤٢- استغل المصري القديم رمال الصحارى في صناعة
 ٤٣- صنع المصري القديم الورق والسلال والحصير من
 ٤٤- التجارة هي حركة البيع والشراء بين القرى والمدن المصرية
 ٤٥- عرف المصريون القدماء التجارة الخارجية مع بلاد وبلاد
 ٤٦- صنع المصري القديم ملابس من
 ٤٧- كلمة صواب أو كلمة خطأ أمام ما يناسب كل عبارة :

- ١- قدس المصريون القدماء الملك لاعتقادهم أنه ابن الإله . ()
 ٢- كان منصب الوزير يلي الملك في الأهمية والمنزلة . ()
 ٣- كان الوزير ابن الإله وعلى شعبه حق المهابة والتقديس . ()
 ٤- كان حكام الأقاليم يُعينون بواسطة الوزير . ()
 ٥- لم تعرف مصر نظم الإدارة المحلية قبل تحقيق الوحدة . ()
 ٦- تُعتبر الإلهة ماعت إلهة الحق والصدق والصدق عند المصريين القدماء . ()
 ٧- كانت محكمة الموتى مكونة من ٤٢ قاضياً . ()
 ٨- الصناعات الفخارية أقدم الصناعات التي اشتغل بها المصري القديم ()
 ٩- استخدم المصريون نبات البردي في صناعة الحصير والسلال . ()
 ١٠- استخدم المصريون خشب الأرز المستورد من ليبيا لصناعة السفن ()
 ١١- التجارة الداخلية هي حركة البيع والشراء خارج حدود البلاد . ()
 ١٢- كان النيل شريان المواصلات الأول في نقل البضائع بين المدن . ()
 ١٣- صنع المصري القديم ملابس من القطن ()

بـم تفسـر :

- ١- تقديس المصريين القدماء لفرعون .
- ٢- اتخاذ فرعون مصر وزيراً له من المخلصين .
- ٣- كان منصب الوزير من المناصب الهامة في مصر القديمة .
- ٤- كانت وظيفة الكاتب محل تقدير واهتمام في مصر القديمة .
- ٥- عرفت مصر قبل الوحدة وجود إدارة محلية .
- ٦- كان الجنود يلبسون الملابس القصيرة في مصر الفرعونية .
- ٧- تعدد الآلهة في مصر الفرعونية .
- ٨- تحنيط المصريين القدماء لجثث موتاهم .
- ٩- بناء المصريين القدماء قبور حصينة في الصحراء .
- ١٠- أهمية نبات البردي في مصر الفرعونية .
- ١١- نشاط حركة التجارة الخارجية في مصر الفرعونية
- ١٢- تعددت مجالات الحياة الاقتصادية فى مصر القديمة

: ما النتائج المترتبة على :

- ١- تزايد أعباء الفرعون في مصر القديمة.
- ٢- اعتقاد المصريين القدماء في البعث والخلود
- ٣- إقامة المصريين القدماء للمقاييس والسدود على النيل

قارن بين كل من :

- ١- أهمية كل من وظيفة الوزير ، ووظيفة الكاتب في مصر القديمة
- ٢- إدارة الوثائق الملكية وإدارة الحقول
- ٣- الصناعات الخشبية والصناعات الجلدية عند قدماء المصريين
- ٤- فصل الفيضان وفصل الحصاد

اكتب ما تُشير إليه كل عبارة من العبارات التالية :

- ١- يساعد الملك ويتولى رئاسة الإدارة المركزية .

- ٢- وظيفة في مصر القديمة كانت محل احترام وتقدير بل تفوق المهن الأخرى
- ٣- عملية يُقصد بها حفظ الجسم سليماً اعتقاداً في البعث .
- ٤- نادى بفكرة التوحيد وعدم تعدد الآلهة في مصر القديمة .
- ٥- إله مصري قديم انتشرت عبادته في عصر الدولة الوسطى .
- ٦- إلهة الحق والصدق والعدالة عند المصريين القدماء .
- ٧- فصل تغمر فيه المياه الأرض ويمتد من منتصف يونيه إلي منتصف أكتوبر
- ٨- فصل يبدأ من منتصف أكتوبر حتى منتصف فبراير عند القدماء المصريين
- ٩- نبات استخدمه المصري القديم في صناعة الحصير .
- ٩- حركة البيع والشراء بين مصر والبلدان المجاورة .

ما الدروس المستفادة من

- ١- تنوع الأنشطة الاقتصادية للمصري القديم
- ٢- تنوع المحاصيل الزراعية للمصري القديم
- ٣- اعتقاد المصري القديم في الثواب والعقاب
- ٤- اعتقاد المصري القديم في البعث والخلود
- ٥- سمو المصري القديم الى التوحيد
- ٦- استغلال المصري القديم الموارد من حوله لإنشاء حضارة
- ٧- اهتمام المصري القديم بوظيفة الكاتب
- ٨- اهتمام المصري القديم بنبات البردى
- ٩- تنوع الصناعات في مصر القديمة

ما رأيك في

- ١- اهتمام المصري القديم بوظيفة الكاتب
- ٢- تنوع الأنشطة الاقتصادية للمصري القديم
- ٣- تنوع المحاصيل الزراعية للمصري القديم
- ٤- اعتقاد المصري القديم في الثواب والعقاب
- ٥- اعتقاد المصري القديم في البعث والخلود

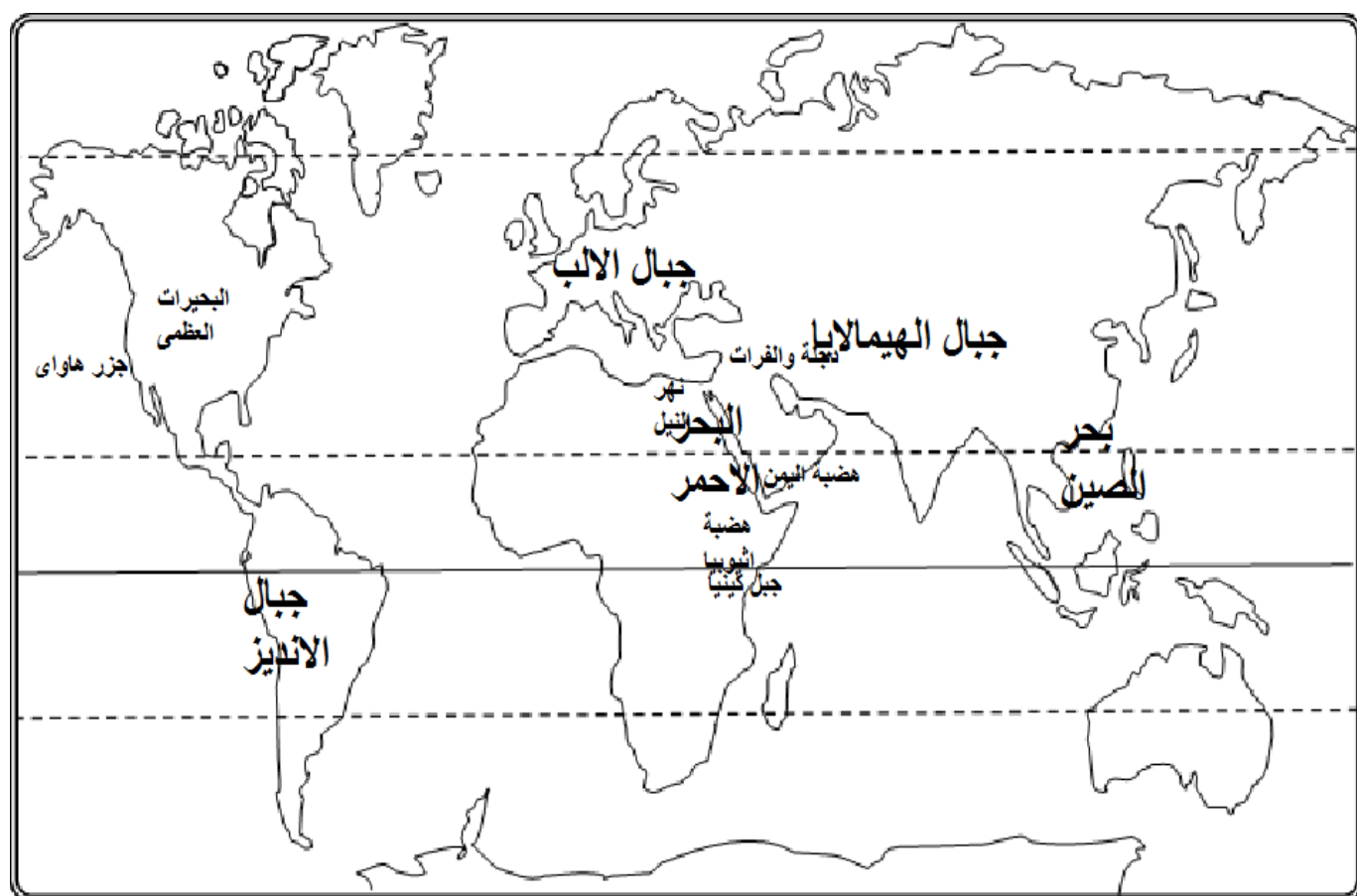
- ٦- سمو المصري القديم الى التوحيد
- ٧- استغلال المصري القديم الموارد من حوله لانشاء حضارة
- ٨- اهتمام المصري القديم بوظيفة الكاتب
- ٩- استخدام المصري القديم للبردى
- دلل على صحة العبارات الاتية
- ١- للفرعون مهام عديدة
- ٢- لاختيار الوزير شروط
- ٣- تعددت الادارات فى مصر القديمة
- ٤- تعددت اسلحة المصري القديم
- ٥- اهتم المصري القديم بشئون الرى
- ٦- تعددت المحاصيل فى مصر القديمة
- ٧- تعددت الصناعات فى مصر القديمة

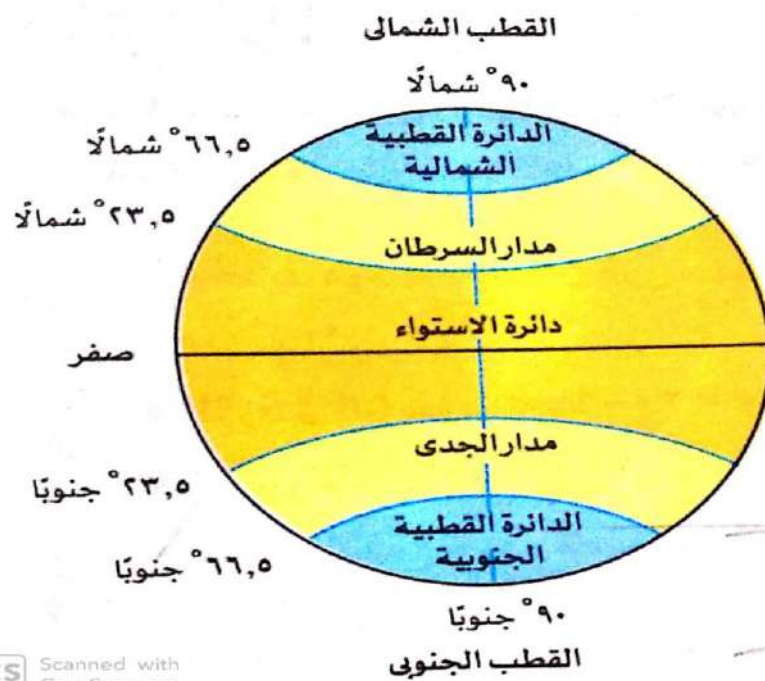
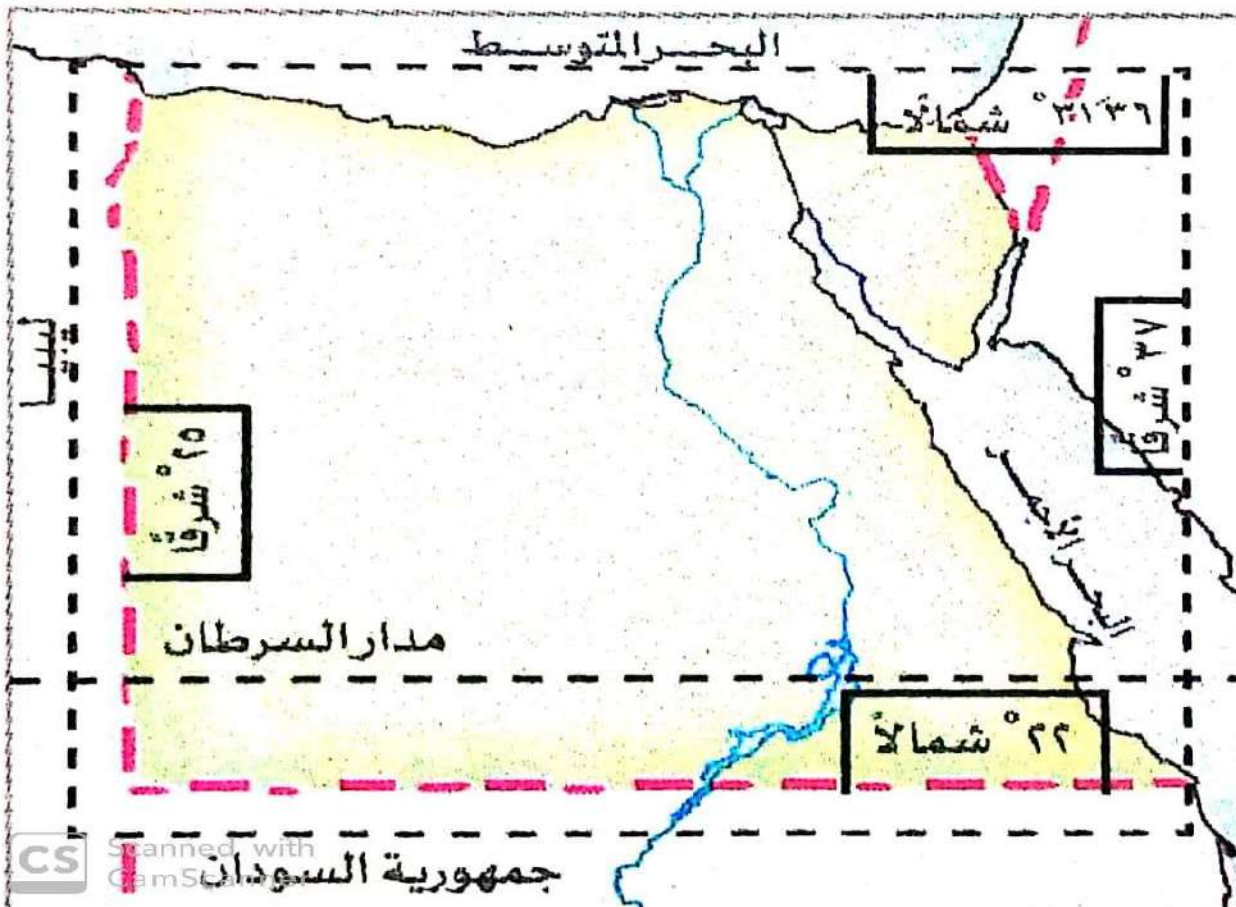
اسئلة مفتوحة

(لقد كانت الحضارة المصرية القديمة اعظم الحضارات ... فى ضوء العبارة
اجب

- ١- اسباب تعدد الالهة فى مصر القديمة
- ٢- صفات الوزير فى مصر القديمة
- ٣- اهمية نبات البردى
- ٤- ما الفرق بين التجارة الداخلية والتجارة الخارجية
- ٥- اذكر وظيفة واحدة لكل من
- الفرعون
- الوزير
- حاكم الاقليم

اهم الاشكال والخرائط

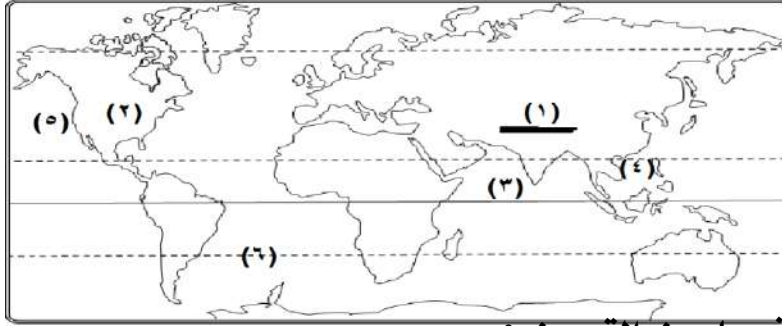




نماذج امتحانات (النموذج الاول)

اولا الجغرافيا

السؤال الاول : (أ) امامك خريطة للعالم وضع مدلول الارقام



١. جبال
٢. قارة
٣. المحيط
٤. بحر خارجى
٥. جزر بركانية
٦. مدار

(ب) اختر الاحابة الصحيحة مما بين القوسين :-

- ١- الكوكب الذى يعرف بالكوكب الاحمر (عطارد - الزهرة - الارض - المريخ)
- ٢- عندما تتعامد الشمس على السرطان يوم ٢١ يونيه يحدث شمالي (شتاء - ربيع - صيف - خريف)
- ٣- من العوامل الخارجية التى تشكل سطح الارض فى المناطق الصحراوية (الجليد - البراكين - المياه - الرياح)
- ٤- يقع المحيط غرب الأمريكتين (الهادى - الاطلنطى - الهندى - القطبى الشمالى)

السؤال الثانى (أ) اكتب كلمة (صواب) امام العبارة الصحيحة وكلمة (خطأ) امام العبارة الخطأ :

١. مجرتنا من النوع البيضاوى ()
٢. تفيدنا خطوط الطول فى تقسيم العالم لمناطق حرارية ()
٣. توزيع اليابس والماء غير متعادل فى نصفى الكرة الارضية ()
٤. يتصل بحر قزوين بالمحيط بفتحة واسعة ()

(ب) صنف الظواهر الطبيعية الاتية

- ١- الهيمالايا
- ٢- دجلة والفرات
- ٣- الاستواء
- ٤- المشتري

(ج) ما العلاقة بين

١. الزلازل وتشكيل سطح الارض

السؤال الثالث : (أ) اكمل العبارات الاتية :-

١. يتميز كوكب بوجود حلقات حلزونية
٢. تنحرف الرياح الى اتجاهها فى نصف الكرة الشمالى
٣. يعتبر هو التابع الوحيد للارض
٤. ثانى أصغر قارات العالم هى

(ب) بم تفسر :

- (١) تعاقب فصول السنة الاربعة
- (٢) يسمى كوكب الارض بالكوكب المائى

(ج) ما مقترحاتك

- ١- الحفاظ على المياه العذبة على كوكب الارض

(تابع الاسئلة فى الورقة الثانية تابع الاسئلة فى الورقة الثانية)

ثانيا : التاريخ

السؤال الرابع (أ) صوب ما تحته خط

- ١- عرف المصري القديم الزراعة فى العصر النجاسى
 - ٢- انشا امنمحات الثالث قلعتى سمته وقمته
 - ٣- قاد امراء الاسرة الخامسة عشر الكفاح المسلح ضد الهكسوس
 - ٤- يمتد فصل الفيضان من منتصف يونيه الى منتصف اغسطس
- (ب) رتب الاحداث التاريخية الاتية من الاقدم الى الاحداث**

- الفتح الاسلامى لمصر
- تولى منكاورع حكم مصر
- اعادة حفر قناة سيزوستريس
- اكتشاف مقبرة توت عنخ امون
- نزول المصري القديم الى الوادى
- غزو الفرس لمصر

السؤال الخامس (أ) لمن تنسب الاعمال الاتية

- ١- مؤسس الاسرة الرابعة
- ٢- اله الحق والصدق فى مصر القديمة
- ٣- انتصر على شعوب البحر المتوسط
- ٤- طرد الاشوريين من مصر

(ب) ما المقصود بـ

- ١- المعاهدة
- ٢- المقايضة

(ج) ما رايك فى

- ١- تشجيع اياح حتب لزوجها وابنائها على محاربة الهكسوس
- ٢- اعمال تحتمس الثالث العسكرية

السؤال السادس :

(أ) ما الدروس المستفادة من :

- ١- تشييد امنمحات الثالث مقياس للنيل
- ٢- تعدد الصناعات فى مصر القديمة

(ب) ساعد على قيام الحضارة المصرية القديمة عوامل فى ضوء العبارة وضح

- ١- ما النتائج المترتبة على

(أ) سياسة رمسيس الثانى الخارجية

(ب) اعتقاد المصري القديم فى البعث والخلود

- ٢- هم تفسر :

(أ) رجب الفراعنة بفكرة تعدد الالهة

(ب) يعتبر الهرم الاكبر احد عجائب الدنيا السبع القديمة

- ٣- اكمل العبارة الاتية

(أ) كانت ادارة تختص بالمحاكم فى مصر القديمة