

الوحدة الأولى : الجغرافية الطبيعية للعالم

الدرس الأول : قارات العالم (الموقع والمساحة)

- تبلغ مساحة الكرة الأرضية ٥١٠ ملايين كم^٢
- يمثل اليابس ٣ و ٢٩% من مساحة الكرة الأرضية ، ويشمل قارات
- تمثل المياه ٧ و ٧٠% من مساحة الكرة الأرضية ، وتشمل محيطات وبحار



المساحة	المحيط	م
١٦٦ مليون كم ^٢	الهادي	١
٨٦ و ٥ مليون كم ^٢	الأطلسي	٢
٧٣ و ٥ مليون كم ^٢	الهندي	٣
١٩ و ٥ مليون كم ^٢	المتجمد الجنوبي	٤
١٤ مليون كم ^٢	القطبي الشمالي	٥

المساحة	القارة	م
٤٤ و ٢ مليون كم ^٢	آسيا	١
٣ و ٣٠ مليون كم ^٢	إفريقيا	٢
٢٤ و ٢ مليون كم ^٢	أمريكا الشمالية	٣
١٧ و ٨ مليون كم ^٢	أمريكا الجنوبية	٤
١٢ و ٣ مليون كم ^٢	القطبية الجنوبية (أنتاركتيكا)	٥
١٠ و ٥ مليون كم ^٢	أوروبا	٦
٧ و ٨ مليون كم ^٢	أستراليا	٧

❖ **لاحظ أن :** يبلغ عدد قارات العالم ٧ وتنقسم إلى قارات ٥ قديمة (آسيا - إفريقيا - أوروبا) وقارات ٢ جديدة (أمريكا الشمالية - أمريكا الجنوبية - أستراليا - الأوقيانوسية - القارة القطبية الجنوبية)

الموقع الفلكي والجغرافي لقارات العالم

الموقع الفلكي : هو الموقع بالنسبة لدوائر العرض وخطوط الطول .
الموقع الجغرافي : يقصد به موقع المكان (قارة أو دولة أو غيرها) بالنسبة للأماكن الأخرى من بحار ومحيطات ودول مجاورة



الدول الجزرية : هي الدول التي تتكون من جزيرة أو أكثر أو قد تكون جزءا من جزيرة

(١) قارة آسيا :

- تمتد من دائرة عرض ١٠ جنوبا حتى ٨١ شمالا
- تمر بها دائرة قطبية شمالية ومدار سرطان ودائرة الاستواء
- تمتد بين من خط طول ٢٦ شرقا حتى ١٧٠ غربا
- تحاط بمياه من ثلاث جهات محيط هادي شرقا ومحيط قطبي شمالي شمالا ومحيط هندي جنوبا
- يفصلها عن قارة أوروبا غربا جبال الأورال ، ويفصلها عن افريقيا شبه جزيرة سيناء والبحر الأحمر ومضيق باب منديب

- يوجد بها أكبر بحر مغلق في العالم (بحر قزوين)
- تتميز بكثرة جزر قريبة من سواحلها (جزر اليابان - جزر الفلبين)
- توجد بها أشباه جزر (شبه جزيرة عربية - شبه جزيرة ملايو)



(٢) قارة افريقيا :

- تمتد من دائرة عرض ٣٠ و ٣٤ جنوبا حتى ٣٧ و ٣٠ شمالا
- تمتد من خط طول ١٧ غربا حتى ٥١ شرقا
- يمر بها دائرة الإستواء ومدار سرطان ومدار جدى
- يحدها من شمال بحر متوسط (يفصلها عن قارة أوروبا) ومن شرق محيط هندي والبحر الأحمر (يفصلها عن قارة آسيا) ومن غرب محيط الأطلنطي
- تقترب افريقيا من قارة آسيا عند مضيق باب منديب بينما تقترب من قارة أوروبا عند مضيق جبل طارق وجزيرة صقلية
- تقل جزر في افريقيا وأهمها (جزيرة مدغشقر - جزر القمر)



(٣) قارة أوروبا :

- تمتد من دائرة عرض ٣٦ شمالا حتى ٧١ شمالا
- تمتد من خط طول ٢٥ غربا (غرب ايسلندا) حتى ٦٦ شرقا
- يمر شمالها دائرة قطبية شمالية
- تحددها آسيا شرقا والمحيط الأطلنطي غربا والبحر المتوسط جنوبا والمحيط قطبي شمالي شمالا
- تتميز سواحلها بتعرج وكثرة جزر مما ساعد على إنشاء موانئ طبيعية وسهولة الاتصال بالعالم خارجي



(٤) قارة أمريكا الشمالية :

- تمتد من دائرة عرض ٣٠ و ٧ شمالا وحتى ٨٣ شمالا
- تمتد من خط طول ١٠ غربا حتى ١٦٨ غربا
- يمر مدار سرطان جنوبها ودائرة قطبية شمالية في شمالها
- يحدها المحيط الأطلنطي شرقا والمحيط الهادي غربا والمحيط قطبي شمالي من شمال ، وخليج مكسيك والبحر الكاريبي من جنوب شرقي



(٥) قارة أمريكا الجنوبية :

- تمتد من دائرة عرض ١٢ شمالا حتى ٥٦ جنوبا
- تمتد من خط طول ٣٥ غربا حتى ٨١ غربا
- يمر شمالها خط الإستواء ومنتصفها مدار الجدى
- شكلها أقرب إلى مثلث
- يحدها محيط الأطلنطى شرقا والمحيط الهادى غربا
- والبحر الكاريبى شمالا

(٦) قارة أستراليا (الأوقيانوسية)

- تمتد من دائرة عرض ١٠ جنوبا حتى ٤٤ جنوبا
- تمتد من خط طول ١١٣ شرقا حتى ١٧٨ شرقا
- يمر بها مدار الجدى
- يحدها محيط الهادى شرقا والمحيط الهندى غربا وجنوبا ،
- ويفصلها بحر أرافورا عن جزر أندونيسيا شمالا
- تتكون الأوقيانوسية من مجموعة من جزر أهمها (أستراليا - نيوزيلندا الشمالية - نيوزيلندا الجنوبية - تسمانيا) بجانب مجموعات جزر صغيرة بالمحيط الهادى

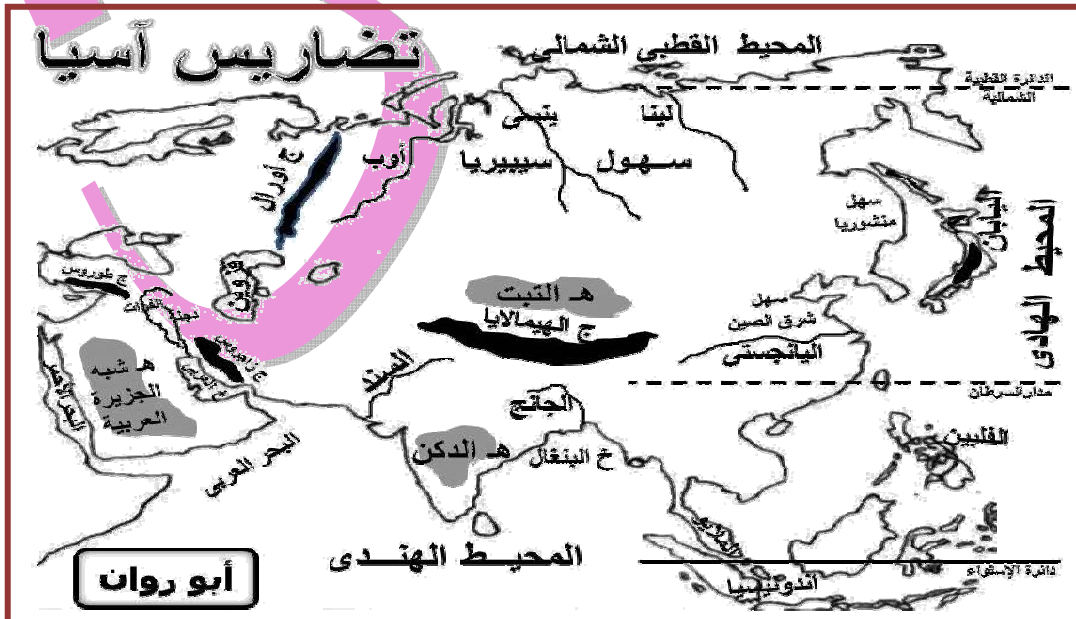
(٧) القارة القطبية الجنوبية (Antarctica)

- تقع أقصى جنوب الكرة الأرضية ويحيطها محيط قطبى جنوبى من جميع الجهات
- تبلغ مساحتها نحو ١٢ مليون كم^٢ .
- هي قارة متجمدة غير مأهولة بالسكان ، باستثناء مراكز بحوث ومناطق مقسمة بين عدد من الدول التى لها مصالح بها مثل (روسيا - ولايات المتحدة الأمريكية - فرنسا - إنجلترا)

الدرس الثانى : تضاريس العالم

- تنقسم تضاريس إلى ثلاثة أقسام هي : (الجبال - الهضاب - السهول)

تضاريس آسيا



✿ الجبال :

← عبارة عن سلاسل جبلية ضخمة ومنها :

- جبال غرب قارة (جبال طوروس في تركيا – جبال زاغروس في العراق وإيران)
- جبال وسط قارة وهي أعلى جبال العالم ، ومنها (سلسلة جبال الهمالايا) وبها أعلى قمة جبلية في العالم (قمة إفرست بارتفاع أكثر من ٨٨٤٨ متر)
- جبال شرق قارة ومنها (جبال اليابان)

✿ الهضاب :

- ← تتمثل في هضاب وسط آسيا التي تتشابه مع بعضها وتحتها سلاسل جبلية ضخمة ومرتفعة
- ← أكبر هضاب هضبة التبت في وسط قارة وهي أعلى هضاب العالم وتعرف بسقف العالم بسبب ارتفاعها عن قمم جبال
- ← توجد أيضا هضبة الدكن في وسط الهند جنوب قارة ، وهضبة شبه الجزيرة العربية غرب قارة

✿ السهول :

(١) سهول ساحلية : وتشمل :

- ← سهول ساحلية على طول سواحل البحار والمحيطات التي تحيط بقارة
- ← سهول متفرقة حول بحر قزوين داخل

(٢) سهول فيضية : وتشمل :

- ← سهول شمالية واسعة في سيبيريا وتجري فيها أنهار (أوب – ينسي – لينا) وتنبع من الجنوب تصب في محيط قطبي شمالي وتتجمد في شتاء ذلك تقل قيمتها الاقتصادية
- ← سهول شرق قارة وهي سهول شرق الصين ومنشوريا وتجري بها أنهار أهمها اليانجستي الذي يصب في محيط هادي
- ← سهول نهري دجلة والفرات الذين يصبان في خليج عربي غرب قارة
- ← سهل نهر السند الذي يصب في محيط هندي جنوب قارة

تضاريس أفريقيا

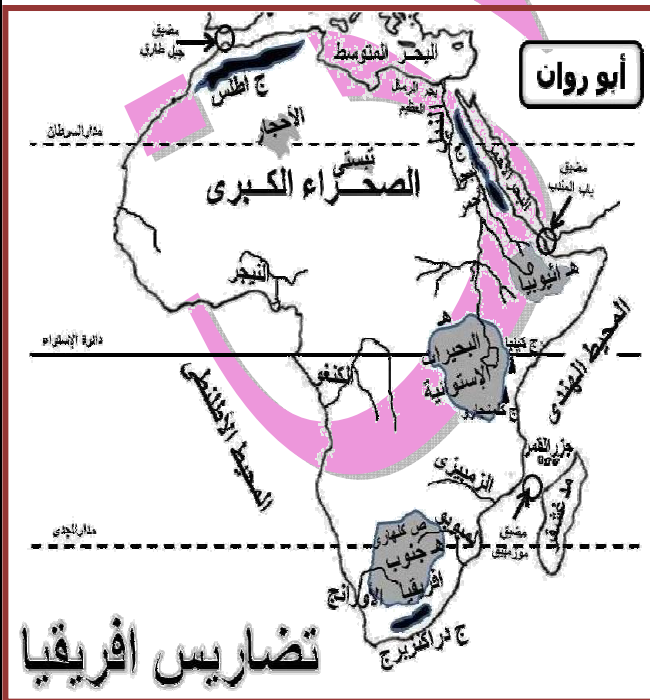
← يسود مظهر هضبي سطح قارة أفريقيا ، وتنقسم تضاريس أفريقيا إلى :

✿ الجبال :

- ← جبال أطلس وتقع في أقصى شمال غرب قارة وتحصر بينها هضبة شطوط
- ← جبال البحر الأحمر في مصر والسودان وأريتريا
- ← جبال كينيا و كمنجارو في شرق أفريقيا
- ← جبال دراكنزبرج في أقصى جنوب شرق أفريقيا

✿ الهضاب :

- (تمتد هضاب في مناطق واسعة في أفريقيا)
- ← شمال قارة هضاب الصحراء الكبرى ومنها هضبتا صحراء شرقية وغربية في مصر
- ← وسط قارة هضبة البحيرات الاستوائية وفي شرق قارة هضبة الحبشة (إثيوبيا) وتنبع منها روافد نهر النيل
- ← جنوب قارة هضبة جنوب أفريقيا ويجري بها نهر الأورنج والمبوبو



تضاريس أفريقيا

✱ السهول :

- (١) **سهول ساحلية :** توجد على سواحل البحار والمحيطات وتتميز بـ ضيق لاقتراب حافات الجبال وهضاب من الساحل ، وتنسج عند مصبات الأنهار
- (٢) **سهول فيضية :** (تتميز جميعها بجودة تربة وصلاحياتها لزراعة) مثل سهول نهر النيل في مصر وجمهورية السودان وجمهورية جنوب السودان ، وسهول نهر الكونغو و نهر النيجر و نهر الأورنج ونهر الزمبيزي ونهر اللمبوبو
- (٣) **سهول صحراوية رملية :** تنتشر في صحراء كبرى وهى سهول صحراوية متسعة ، ومنها (سهل كلنشو) في ليبيا و(بحر الرمال العظيم) بين مصر و ليبيا ، وسهول (صحراء كلهاري) جنوب قارة

حوض النهر عبارة عن الأرض التى يجرى فيها النهر أو أحد روافده أو تتحدر مياهه إليه

تضاريس أوربا

✱ الجبال :

- ♦ **سلاسل جبال الألب :** تمتد من غرب إلى شرق فى وسط أوربا وتعرف باسم :
 - ◀ جبال البرانس فى شمال أسبانيا
 - ◀ جبال الألب الدينارية وتمتد فى شبه جزيرة بلقان
- ✱ **خلي بالك :** تتميز جبال أوربا بارتفاعها وتغطية قممها بالجليد شتاء ، ويفصل بينها أودية تجرى بها الأنهار مثل نهر الراين والدانوب

✱ الهضاب :

- ◀ تمتد فى وسط قارة من شرق إلى غرب ، وتقطعها أودية نهريه ، وتجاورها جبال ، ومن أهمها :
 - (١) **هضبة الميزيتا :** تشغل معظم دولة أسبانيا
 - (٢) **هضبة فرنسا الوسطى :** فى فرنسا ، تقطعها أنهار أهمها سين

✱ السهول :

(١) سهول ساحلية :

- ◀ تتميز سواحل أوربا بكثرة تعاريج مما ساعد على إنشاء موانئ بها
- ◀ هى سهول متسعة تمتد على المحيط الأطلنطى والبحر البلطى وبحر الشمال فى غرب و شمال غربى ، وعلى بحر متوسط فى جنوب

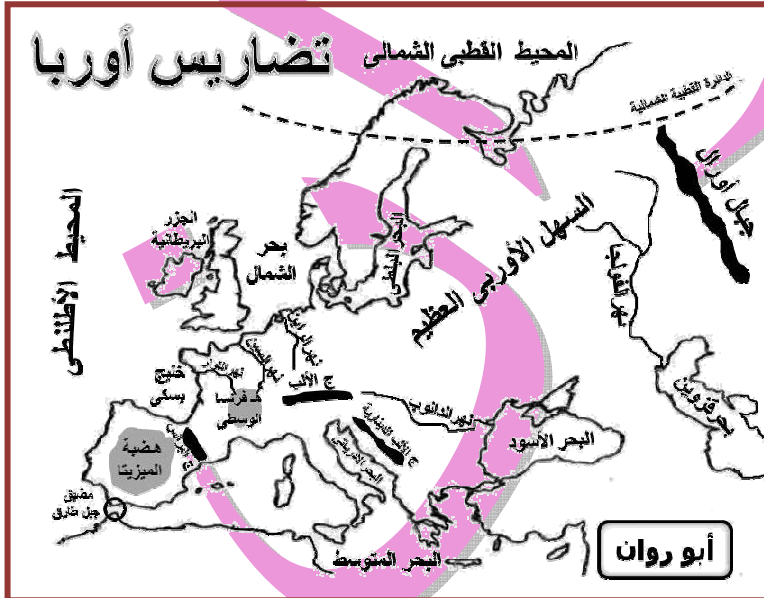
(٢) سهول فيضية :

- ◀ تمتد من المحيط الأطلنطى غربا حتى جبال الأورال فى شرق وتعرف بـ (السهل الأوروبى العظيم) الذى يتكون معظمه من رواسب طينية وتوجد به مدن الأوربية الرئيسية مثل (باريس - برلين)

- ◀ تتميز بأنها سهول خصبة جيدة صالحة لزراعة كونتها الأنهار

◀ أهم الأنهار :

- للنهر الفولجا وهو أطول أنهار أوربا ويصب فى بحر قزوين
- للنهر الراين ويصب فى بحر الشمال
- للنهر الدانوب ويصب فى بحر الأسود



تضاريس أمريكا الشمالية

الجبال :

- ← سلاسل جبال الأبلش في الشرق
- ← أعلى جبال قارة جبال روكي ويغطي قممها جليد في فصل الشتاء
- ← سلاسل جبال روكي في الغرب

الهضاب :

- ← هضبة ليرادور في الشمال الشرقي
- ← هضبة المكسيك في الجنوب

السهول :

(1) سهول ساحلية :

- ← في الشرق والجنوب الشرقي تمتد على المحيط الأطلنطي ، وخليج مكسيك
- ← في الشمال على خليج هدسن

- ← في الغرب على محيط هادي وهي سهول ساحلية ضيقة بسبب إقتراب المرتفعات من الساحل

(2) سهول فيضية : (تتعدد خصائصها) حيث :

- ← تتسع بوسط قارة إلى الشرق من جبال روكي حيث تمتد من المحيط القطبي الشمالي إلى خليج مكسيك جنوبا ويغطي جليد أطرافها الشمالية

- ← توجد بها بحيرات عظيمة في كندا ولايات المتحدة الأمريكية

- ← تنتهي في الجنوب بسهول نهر المسيسيبي بروافدة عديدة حيث الأراضي الزراعية الخصبة

- ← كما توجد سهول نهر نلسن ونهر سانت لورانس في الشمال الشرقي

تضاريس أمريكا الجنوبية

الجبال :

- ← تتمثل في (جبال الانديز) غرب قارة وهي سلاسل جبلية مرتفعة تقع قرب سواحلها على المحيط الهادي وتمتد من الشمال حتى الأطراف الجنوبية لقارة

الهضاب :

- ← تنتشر هضاب شرق جبال الانديز
- ← هضبة جيانا في الشمال

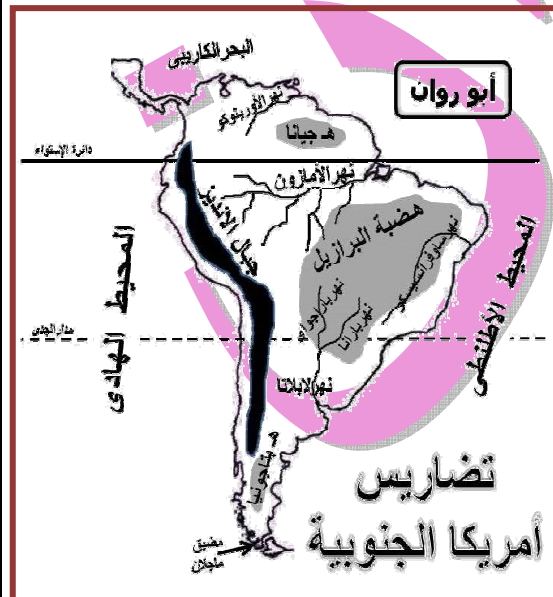
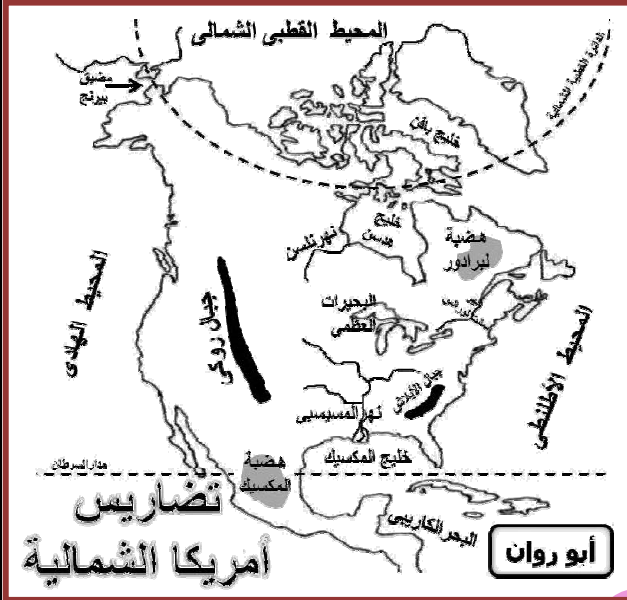
- ← هضبة البرازيل في الشرق (وهي أكبر هضاب وأكثرها ارتفاعا) ويجري فيها نهر ساو فرانسيسكو الذي يصب في المحيط الأطلنطي

- ← هضبة بتاجونيا في الجنوب وهي أصغر هضاب قارة مساحة

السهول :

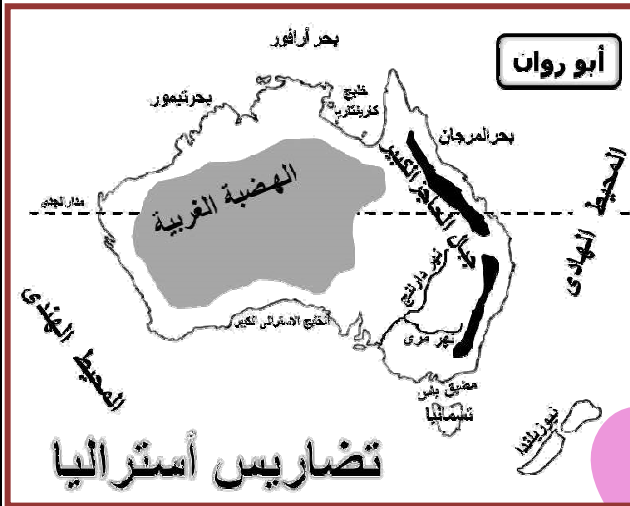
(1) سهول فيضية :

- ← سهول حوض نهر الأمزون (أوسع سهول فيضية في العالم)



- سهول نهر **لابلاتا** وهى تمتد من الشمال لجنوب ، وتجري فيها أنهار (**بارانا وبارجواى ولابلاتا**) التى تصب فى المحيط الأطلنطى
- سهل نهر **أورينوكو** فى الشمال ويصب فى المحيط الأطلنطى
- (٢) سهول ساحلية :**
- تضيق فى الغرب بسبب اقتراب جبال الانديز من المحيط الهادى
- تتسع فى شرق القارة وشمالها على سواحل المحيط الأطلنطى

تضاريس أستراليا (الأوقيانوسية)



الجبال :

- أهمها (جبال **الحاجز الكبير**) التى تمتد على طول الساحل الشرقى لقارة وتعرف بجبال **الأب الأسترالية** وتأخذ شكل قوس ومقسمة إلى قسمين **حاجز كبير** فى جنوب و **حاجز كبير** فى شمال شرقى
- تتميز جبال بارتفاعها ، كما تقطعها بعض الأنهار

الهضاب :

- تشبه تضاريس أستراليا تضاريس افريقيا حيث تشغل **الهضبة الغربية** نصف مساحة قارة أستراليا ويوجد وسطها جبال متفرقة كما يتميز معظم سطحها بالاستواء

السهول :

(١) سهول فيضية :

- هى سهول متسعة يجرى فيها نهر **مرى** و **دارلينج** ويصبان فى خليج **الاسترالى** كبير ، وهى سهول زراعية توجد بها كثير من المدن الهامة

(٢) سهول ساحلية :

- تتسع فى شمال و غرب و جنوب وتضيق فى شرق بسبب اقتراب جبال **حاجز كبير** من المحيط الهادى شرقا

(٣) سهول صحراوية :

- توجد فى داخل وفى غرب ، وهى صحارى رملية تقل بها موارد المياه

الدرس الثالث : المناخ والنبات الطبيعي

مفهوم الاقليم المناخى :

- هى منطقة محددة على سطح الأرض لها خصائصها المناخية من حيث (الحرارة - الرياح - المطر) وغيرها من عناصر المناخ التى تميزها عن المناطق الأخرى .

- تتنوع الأقاليم المناخية من قارة لأخرى كما يختلف مناخ داخل قارة واحدة وفقاً لعدة عوامل هى :

العوامل المؤثرة فى مناخ القارات :

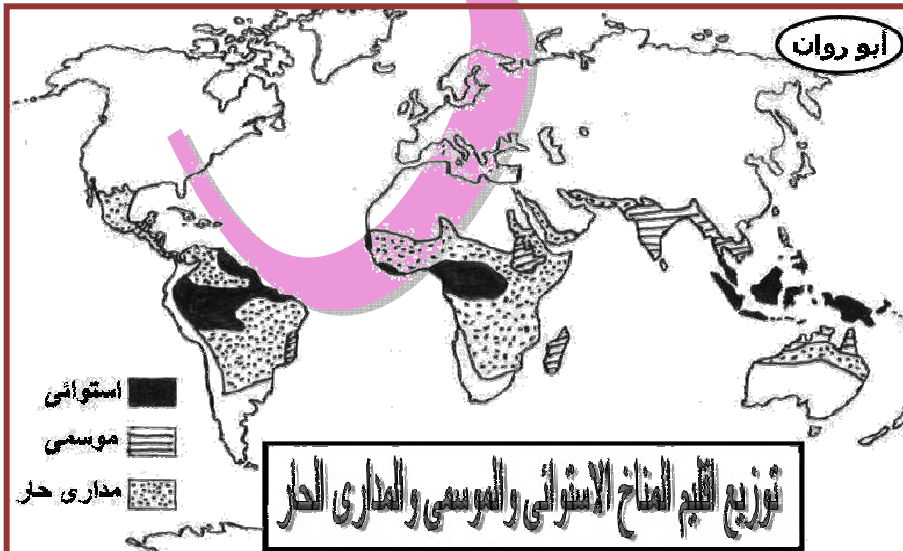
- (١) الموقع الفلكى
- (٢) الموقع الجغرافى
- (٣) التضاريس

الأقاليم المناخية فى العالم

أولا : الأقاليم المناخية الحارة ♥

← تمتد بين دائرتى عرض ٣٠ شمالا : ٣٠ جنوبا

الأقليم	الموقع	الخصائص المناخية	الخصائص النباتية والحيوانية
(١) الاستوائى وشبه الاستوائى	◀ مناطق قريبة من دائرة الاستواء عند دائرتى عرض (صفر - ١٠) شمالا وجنوبا ◀ حوض كنگو بأفريقيا ، جزر أندونيسيا بآسيا ، حوض الأمزون بأمريكا الجنوبية	◀ ارتفاع درجة حرارة طوال العام ◀ سقوط الأمطار طوال العام	◀ تنمو غابات الاستوائية التى تتميز بكثافة أشجارها وتشابكها ◀ أهم أشجارها (المطاط - الماهوجنى) ◀ تكثر بها زواحف وطيور وحيوانات متسلقة
(٢) المدارى الحار (السودانى)	◀ مناطق واسعة شمال وجنوب الأقليم الاستوائى عند دائرتى عرض (١٠ - ١٨) ◀ فى أفريقيا شمال وجنوب الأقليم الاستوائى ، فى أمريكا الجنوبية شمال وجنوب حوض الأمزون وفى هضبة جيانا وبرازيل ، فى شمال أستراليا ، بعض الأجزاء من جنوب أمريكا الشمالية ، وجنوب غرب آسيا	◀ يتميز بصيف حار ممطر وشتاء جاف	◀ تنمو به غابات مدارية وهى أقل كثافة وتشابكا من غابات الاستوائية ◀ كما تنمو حشائش سافانا وتتميز بتدرج فى أطوالها حسب كمية المطر وتعتبر حديقة حيوان طبيعية حيث تعيش بها حيوانات آكلة عشب (زراف والافئال) وآكلة لحوم (الأسود و نمور)
(٣) الموسمى	◀ فى آسيا فى (الهند - شبه جزيرة الهند - صينية - جنوب الصين) ◀ فى أقصى شمال قارة أستراليا ◀ فى أفريقيا (هضبة اثيوبيا - جزيرة مدغشقر)	◀ مناخ مدارى غزير مطر صيفا بينما يسوده جفاف شتاء	◀ تنمو الأشجار موسمية بسبب غزارة الأمطار صيفا ◀ أهم الأشجار (جوز الهند) ◀ كما تنمو به حشائش سافانا

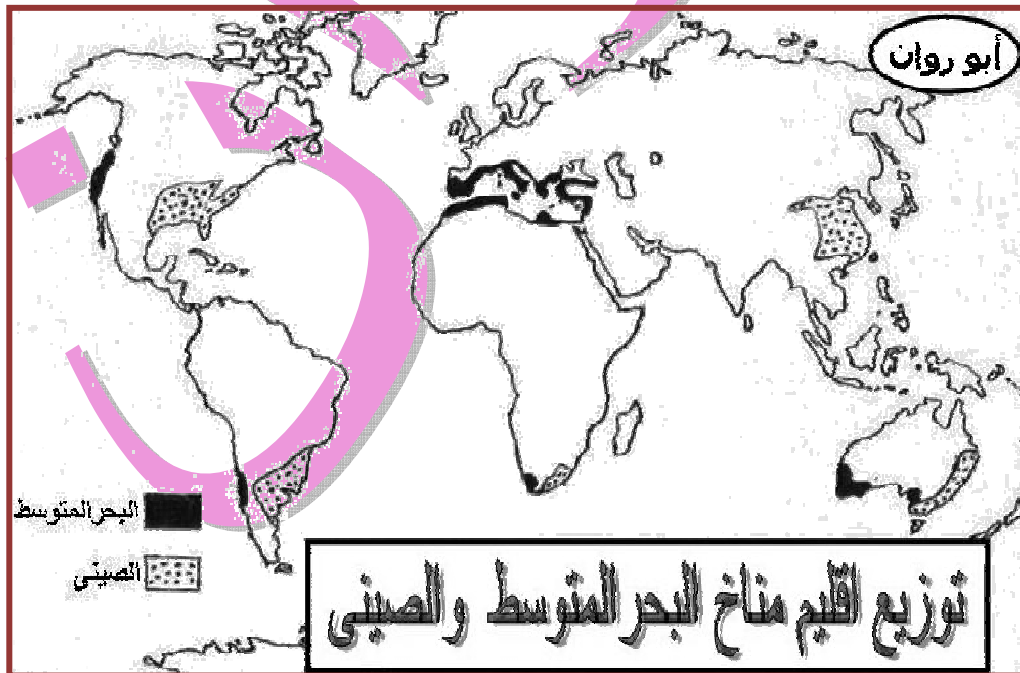


✳️ **خلى بالك :**
الاقليم المدارى والاقليم الموسمى يتشابهان فى صيف غزير المطر وشتاء جاف

♥ ثانيا : الأقاليم المعتدلة الدفئة ♥

← تمتد بين دائرتي عرض (٣٠ - ٤٥) شمالا وجنوبا

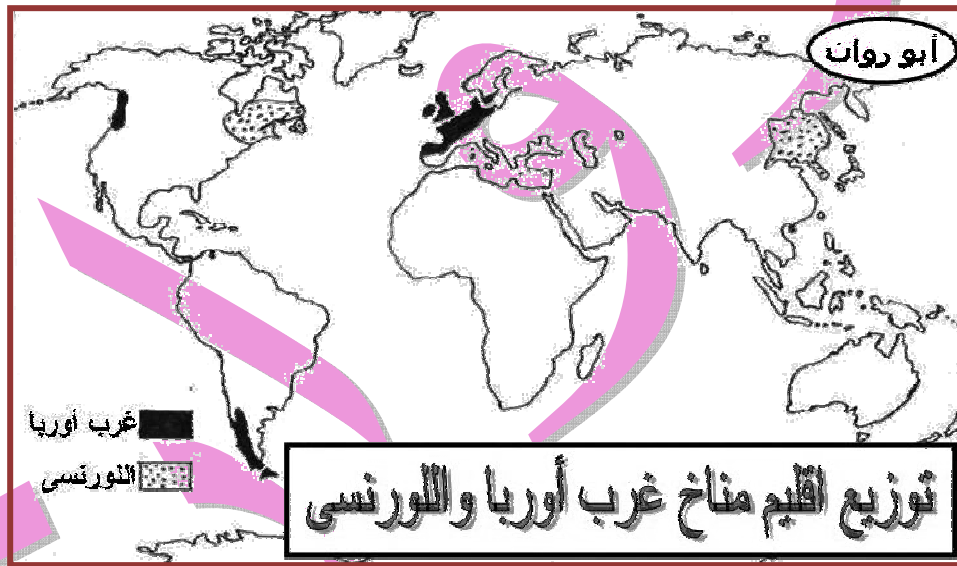
الأقاليم	الموقع	الخصائص المناخية	الخصائص النباتية والحيوانية
(١) البحر المتوسط	<p>◀ عروضا معتدلة غرب قارات ما بين دائرتي عرض (٣٠ - ٤٥) شمالا وجنوبا</p> <p>◀ في أفريقيا (على سواحل دول المغرب العربي) ، في آسيا (على سواحل الشام وتركيا) ، في أوروبا (على سواحل دول مطلة على البحر المتوسط) ، في أمريكا الشمالية (في غرب بولاية كاليفورنيا) ، في أمريكا الجنوبية (في ساحل الأوسط من شيلي) ، في أستراليا (جنوب غرب أستراليا)</p>	<p>◀ ارتفاع درجة حرارة و جفاف صيفا</p> <p>◀ الأمطار ودفء شتاء (حار جاف صيفا دفيء ممطر شتاء)</p>	<p>◀ تنمو غابات البحر المتوسط وحشائش الاستبس التي تستغل كمراعى طبيعية وتعرف في أمريكا الشمالية بحشائش البراري</p>
(٢) المعتدل شرق القارات (الصينية)	<p>◀ شرق قارات في نفس عروض اقليم البحر المتوسط بين دائرتي عرض (٣٠ - ٤٥) شمالا وجنوبا</p> <p>◀ في آسيا (شرق الصين) ، في أمريكا الشمالية (جنوب شرق قارة) ، في أمريكا الجنوبية (جنوب شرق قارة) ، في أستراليا (جنوب شرق أستراليا)</p>	<p>◀ ارتفاع درجة حرارة صيفا وانخفاضها شتاء</p> <p>◀ سقوط الأمطار طوال العام وتزداد صيفا</p> <p>◀ تعرض أحيانا لعواصف مدارية مثل (تيفون)</p>	<p>◀ تنمو غابات الإقليم الصيني وهي غابات دائمة خضرة ومن أشجارها (الصفصاف - البلوط)</p> <p>◀ تنمو بقرب من غابات الإقليم الصيني حشائش الاستبس</p>



ثالثا : الأقاليم المعتدلة الباردة ♥

← تمتد بين دائرتي عرض (٤٥ - ٦٠) شمالا وجنوبا

الأقاليم	الموقع	الخصائص المناخية	الخصائص النباتية والحيوانية
(١) غرب أوروبا	<p>← بين دائرتي عرض (٤٥ - ٦٠) غرب القارات</p> <p>← في شمال غرب أوروبا (بريطانيا - شمال غرب فرنسا - نرويج) ، شمال غرب أمريكا الشمالية ، أقصى جنوب غرب أمريكا الجنوبية</p>	<p>← دفء صيفا و برودة شتاء</p> <p>← الأمطار دائمة طوال العام خاصة في فصلي شتاء و خريف</p>	<p>← تنمو غابات نفضية (سميت بذلك لأنها تنفض أوراقها شتاء بسبب شدة البرودة) ومن أهم أشجارها (الزان)</p>
(٢) المعتدل البارد شرق القارات (اللورنسي)	<p>← يقع في نفس عروض مناخ غرب أوروبا بين دائرتي عرض (٤٥ - ٦٠) شمالا في شرق القارات</p> <p>← في أمريكا الشمالية (شمال شرق القارة) ، في آسيا (شمال شرق الصين - كوريا - شمال اليابان)</p>	<p>← شتاء بارد وصيف معتدل</p> <p>← سقوط الأمطار طوال العام خاصة في الصيف</p>	<p>← تنمو غابات مخروطية ومن أهم أشجارها (الصنوبر - الشربين)</p> <p>← توجد به حيوانات ذات فراء كثيف مثل دب قطبي</p>



رابعا : الأقاليم الباردة ♥

الأقاليم	الموقع	الخصائص المناخية	الخصائص النباتية والحيوانية
(١) مناخ التندرا	<p>← يقع فيما وراء دائرتي قطبيتين بين دائرتي عرض (٦٠ - ٩٠) شمالا وجنوبا</p> <p>← يسود مناطق قطبية متجمدة ، في آسيا (الاجزاء القطبية شمال سيبيريا) ، في أوروبا (شمال القارة) ، في أمريكا الشمالية (شمال كندا) ، في أمريكا الجنوبية (بعض جزر المحيط المتجمد الجنوبي) ، في أنتاركتيكا</p>	<p>← صيف قصير تسقط خلاله أمطار قليلة</p> <p>← شتاء طويل شديد برودة تتساقط خلاله ثلوج</p>	<p>← طحالب تنمو سريعا في فصل ذوبان الجليد (صيف)</p> <p>← توجد به حيوان الرنة</p>

◀ يشغل قمم و منحدرات عليا لمناطق
جبلية في عام
◀ مناخ شديد
برودة وكثيرا ما
تغطي قمم جبلية
جليد طوال عام
مثل (جبال هيمالايا)
◀ تنوع حياة
نباتية طبقا لارتفاع
وكمية مطر



الأسئلة

س١: صوب ما تحته خط :

- ١- تبلغ مساحة ☐ كرة الأرضية ٧٠ مليون كم^٢
- ٢- تمتد قارة آسيا في ٧٣ دائرة عرض
- ٣- يفصل قارة آسيا عن قارة أوروبا جبال أطلس
- ٤- عدد خطوط ☐ طول بقارة أمريكا ☐ شمالية ١٦٩ خطا طويا
- ٥- يمر مدار الجدي جنوب قارة أمريكا ☐ شمالية
- ٦- يقع معظم قارة أمريكا ☐ جنوبية في نصف ☐ كرة الأرضية الشمالي
- ٧- يفصل قارة استراليا عن جزر اندونيسيا بآسيا في ☐ شمال بحر المرجان
- ٨- من الأنهار الآسيوية ☐ التي تصب في ☐ محيط ☐ هندي نهر أوب
- ٩- تمتد جبال أطلس في قارة إفريقيا عند حافتها الجنوبية الشرقية
- ١٠- توجد جبال كلمنجارو في غرب أفريقيا
- ١١- تمتد في شرق أمريكا ☐ شمالية جبال روكي
- ١٢- من أنهار أمريكا ☐ شمالية نهر نلسن ☐ الذي يصب في المحيط الأطلنطي
- ١٣- تمتد هضبة ☐ برازيل في قارة أمريكا ☐ جنوبية في ☐ جزء الغربي
- ١٤- من مميزات الاقليم الصحراوي ارتفاع درجة ☐ حرارة طوال العام
- ١٥- يوجد اقليم ☐ مناخ الاستوائي في قارة آسيا على سواحل ☐ شام وجنوب تركيا
- ١٦- يوجد اقليم مناخ ☐ بحر ☐ متوسط في قارة آسيا في ☐ ساحل الأوسط من شيلي
- ١٧- يقع اقليم ☐ مناخ ☐ صيني في ☐ عروض ☐ معتدلة وسط قارات بين دائرتي عرض (٣٠ - ٤٥)
- ١٨- من أشجار الغابات الاستوائية جوز ☐ هند
- ١٩- تكثر ☐ زواحف و ☐ طيور و ☐ حيوانات ☐ متسلقة في الاقليم الصيني
- ٢٠- من أشجار ☐ غابات ☐ مخروطية البلوط

س٢: ضع علامة (✓) أو علامة (x) :

- ١- تبلغ مساحة قارة إفريقيا حوالي ٤٤,٢ مليون كم^٢
- ٢- ☐ سلاسل ☐ جبلية في قارة آسيا تظهر ملاصقة ☐ لهضاب والأحواض الكبرى
- ٣- تعرف هضبة الأناضول بسقف ☐ عام
- ٤- من ☐ سهول ☐ فيضية في قارة آسيا ☐ سهول ☐ شمالية ☐ واسعة في سيبيريا
- ٥- تتبع روافد نهر ☐ نيل من هضبتى ☐ بحيرات الاستوائية و ☐ حبشة
- ٦- تمتد ☐ سلاسل ☐ جبلية في قارة أوروبا باتجاه عام من ☐ شرق ☐ إلى ☐ غرب
- ٧- يوجد ☐ سهل الأوروبي ☐ عظيم مدن رئيسية مثل باريس وأمستردام
- ٨- سلاسل جبال الأبلش أعلى قمم جبال قارة أمريكا ☐ شمالية
- ٩- هضبة ☐ مكسيك توجد في شمال شرق أمريكا ☐ شمالية
- ١٠- هضبة ☐ بتاجونيا أصغر مساحة من هضبة ☐ برازيل
- ١١- تشغل ☐ هضبة ☐ غربية نصف مساحة استراليا
- ١٢- يتشابه الاقليم ☐ مدارى والاقليم ☐ موسمى في غزارة الأمطار في فصل ☐ صيف
- ١٣- من ☐ عوامل ☐ مؤثرة في مناخ ☐ قارات ☐ موقع ☐ فلكى و ☐ موقع ☐ جغرافى و ☐ تضاريس
- ١٤- يوجد ☐ مناخ ☐ موسمى في حوض الأمزون وهضبة جيانا بأمريكا ☐ جنوبية
- ١٥- يوجد اقليم ☐ مناخ ☐ مدارى ☐ حار في شمال قارة استراليا
- ١٦- من مميزات الاقليم ☐ موسمى مناخ مدارى غزير ☐ مطر صيفا ويسود ☐ جفاف شتاء
- ١٧- يوجد مناخ ☐ بحر ☐ متوسط في قارة أمريكا ☐ شمالية في ☐ غرب بولاية كاليفورنيا
- ١٨- يسود اقليم مناخ ☐ تندرا في ☐ مناطق ☐ قطبية ☐ متجمدة

- ١٩- يقع مناخ غرب أوروبا بين دائرتي عرض (٤٥ - ٦٠) غرب قارات
- ٢٠- تتميز سواحل دول المغرب العربي وجبل الاخضر في ليبيا بمناخ بحر متوسط
- ٢١- من اشجار غابات الاستوائية جوز الهند وصندل
- ٢٢- اهم اشجار غابات الاقليم صيني صفصاف وبلوط
- ٢٣- غابات الاقليم صيني تتبع مناخ معتدل دفيء غرب قارات
- ٢٤- يتميز الاقليم لورانسى بسقوط الأمطار طوال عام خاصة في فصل شتاء
- ٢٥- يسود مناخ تندرا مناطق قطبية متجمدة

س٣: أكمل ما يأتي :

- ١- تبلغ مساحة قارة افريقيا مليون كم ٢ ويك تحتل مرتبة بين قارات عام حيث مساحة
- ٢- تطل قارة اسيا على ثلاث محيطات هي المحيط من شمال والمحيط من
- جنوب والمحيط من شرق
- ٣- تمتد قارة أفريقيا بين دائرتي عرض شمالا و جنوبا
- ٤- تمر دائرة الاستواء في وسط قارة وجنوب قارة
- ٥- تطل قارة افريقيا على المحيط من غرب وعلى بحر والمحيط من شرق
- ٦- تمتد قارة اوربا بين دائرتي عرض و شمالا وبين خطي طول شرقا حتى غربا
- ٧- تعتبر قارة اوربا شبة جزيرة إذ تطل من شمال على المحيط ومن جنوب على بحر
- ومن غرب على المحيط
- ٨- تقع قارة استراليا في نصف الكرة بين دائرتي عرض و جنوبا
- ٩- أكبر هضاب قارة اسيا وتوجد قارة
- ١٠- سهول شمالية في قارة اسيا يجرى بها انهار و و
- ١١- تتألف سهول شرقية في قارة أسيا من سهل وسهل
- ١٢- يصب نهر سند في المحيط أما أنهار أوب وينسى وينا فتصب في المحيط
- ١٣- تمتد في شمال غرب افريقيا جبال وفي أقصى جنوب شرق قارة جبال
- ١٤- من سهول صحراوية في افريقيا سهل في ليبيا
- ١٥- أطول أنهار قارة اوربا نهر ويصب في بحر
- ١٦- توجد بحيرات عظي في كل من و بأمريكا شمالية
- ١٧- تشمل جبال شرقية في استراليا سلاسل جبال حاجز كبير وتعرف باسم
- ١٨- هضبة غربية قارة أستراليا تشغل مساحة قارة
- ١٩- تكثر جزر في جنوب شرق أستراليا وأهمها و
- ٢٠- يتمثل مناخ في جزر أندونيسيا بآسيا
- ٢١- يقع اقليم في شمال وجنوب الامازون وفي هضبة جيانا و برازيل
- ٢٢- يوجد مناخ بحر متوسط بافريقيا على سواحل وجبل الاخضر في
- ٢٣- بريطانيا وشمال غرب فرنسا و نرويج تنتمي مناخ
- ٢٤- من أشجار غابات الاستوائية و
- ٢٥- تعرف حشائش الاستبس في امريكا شمالية باسم حشائش

س٤: بم تفسر :

- ١- أهمية سهول فيضية في عام
- ٢- تعرف هضبة تبت بسقف عام
- ٣- تتميز سهول ساحلية قارة افريقيا ب ضيق
- ٤- أهمية هضبة حبشة (اثيوبيا) مصر
- ٥- إنشاء موانئ ب سهول ساحلية في قارة اوربا
- ٦- ضيق سهول ساحلية غرب امريكا جنوبية
- ٧- تشابه تضاريس افريقيا وأستراليا
- ٨- يتميز حوض الامزون بارتفاع درجة حرارة طوال عام وسقوط مطر
- ٩- تسمية غابات نفضية بهذا الاسم
- ١٠- تعتبر سافانا حديقة حيوان طبيعية

س٥: قارن بين :

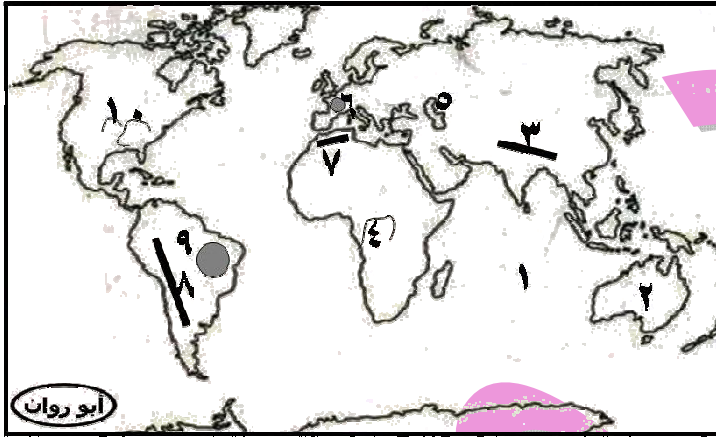
- ١- قارة اسيا و قارة افريقيا من حيث (موقع فلكي - موقع جغرافي - هضاب)
- ٢- قارة امريكا شمالية وقارة امريكا جنوبية من حيث (موقع فلكي - سهول فيضية)
- ٣- قارة اوربا وقارة استراليا من حيث (هضاب - سهول ساحلية)
- ٤- الاقليم الاستوائي والاقليم موسمي من حيث (موقع - خصائص مناخية ونباتية)
- ٥- اقليم بحر متوسط و اقليم غرب اوربا من حيث (موقع - خصائص مناخية ونباتية)

س٦: ما المقصود بكل من :

- ١- موقع جغرافي
- ٢- دول جزرية
- ٣- حوض نهر
- ٤- الإقليم مناخي

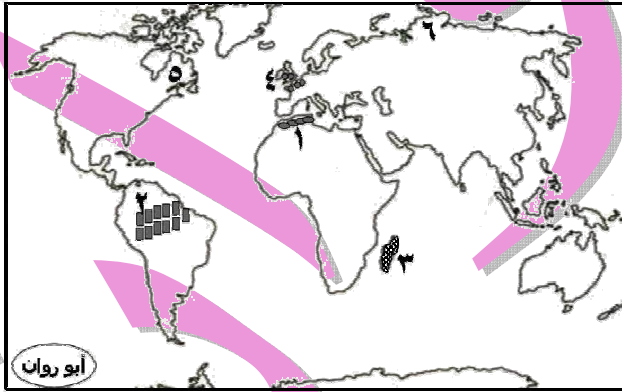
س٧: أسئلة الخرائط :

(١) أكتب مدلول الأرقام الموضحة على خريطة العالم التالية :



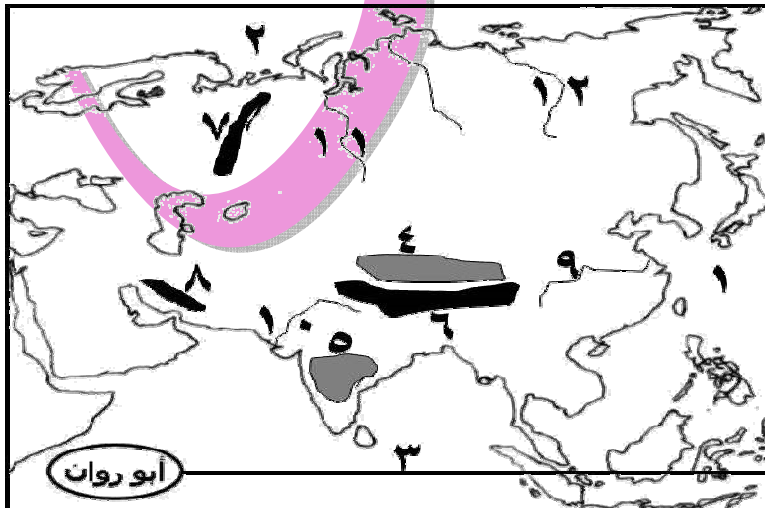
- ١- محيط
- ٢- قارة
- ٣- جبال
- ٤- نهر
- ٥- بحر
- ٦- هضبة
- ٧- جبال
- ٨- جبال
- ٩- هضبة
- ١٠- نهر

(٢) أكتب مدلول الأرقام الموضحة على خريطة العالم التالية :



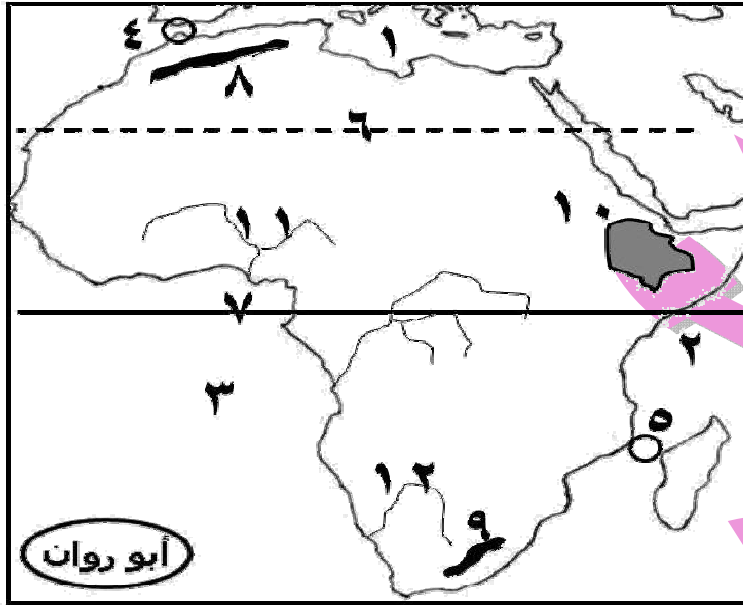
- ١- اقليم مناخ
- ٢- اقليم مناخ
- ٣- اقليم مناخ
- ٤- اقليم مناخ
- ٥- اقليم مناخ
- ٦- اقليم مناخ

(٣) أكتب مدلول الأرقام الموضحة على خريطة آسيا :



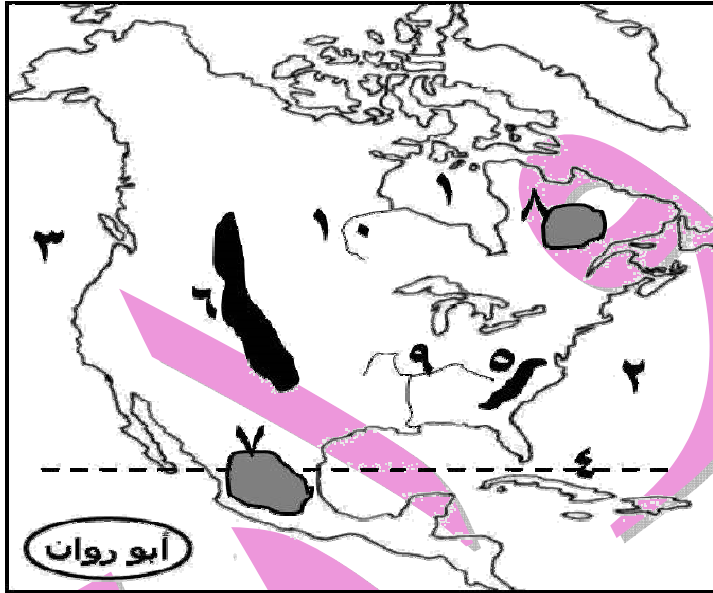
- ١- المحيط
- ٢- المحيط
- ٣- دائرة
- ٤- هضبة
- ٥- هضبة
- ٦- جبال
- ٧- جبال
- ٨- جبال
- ٩- نهر
- ١٠- نهر
- ١١- نهر
- ١٢- نهر

(٤) أكتب مدلول الأرقام الموضحة على خريطة افريقيا :



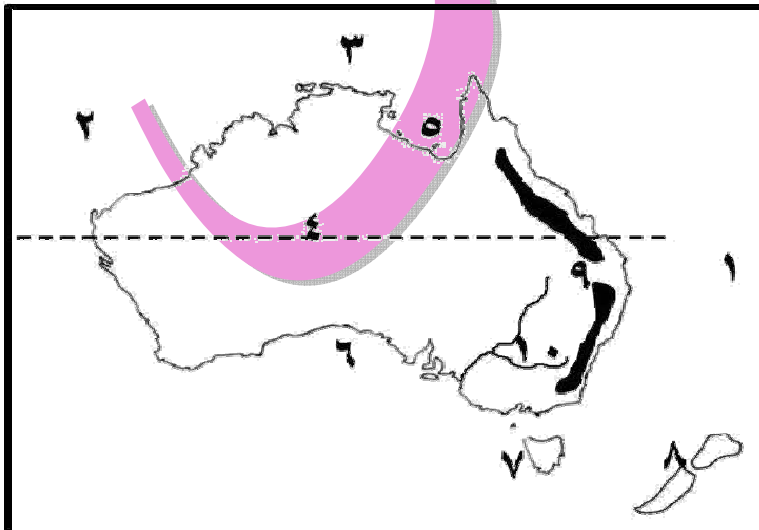
- ١- البحر
- ٢- المحيط
- ٣- المحيط
- ٤- مضيق
- ٥- مضيق
- ٦- مدار
- ٧- دائرة
- ٨- جبال
- ٩- جبال
- ١٠- هضبة
- ١١- نهر
- ١٢- نهر

(٥) أكتب مدلول الأرقام الموضحة على خريطة أمريكا الشمالية :



- ١- خليج
- ٢- المحيط
- ٣- المحيط
- ٤- دائرة
- ٥- جبال
- ٦- جبال
- ٧- هضبة
- ٨- هضبة
- ٩- نهر
- ١٠- نهر

(٦) أكتب مدلول الأرقام الموضحة على خريطة أستراليا :




- ١- المحيط
- ٢- المحيط
- ٣- بحر
- ٤- مدار
- ٥- خليج
- ٦- خليج
- ٧- جزيرة
- ٨- جزر
- ٩- جبال
- ١٠- نهرا

الوحدة الثانية : جغرافية سكان العالم

الدرس الأول : السلالات البشرية في العالم

بدأ انتشار الإنسان في قارات العالم خاصة في قارة أوروبا وأواخر عصر بلايستوسين مع استقرار الإنسان في بيئات مختلفة بدأ يؤثر فيها ويتأثر بها ، ذا بدأت تنشأ سلالات بشرية يختلف الناس في مظهرهم خارجي تبعاً لسلالاتهم مثل (طول و لون بشرة وشكل العين والأنف وحجم الرأس) ويرجع هذا الاختلاف في تعدد سلالات بشرية أصل سلالات بشرية واحد ، وأسس تقسيم سلالات بشرية أسس ظاهرية ، ولا توجد سلالة أكثر ذكاء أو أكثر قدرة على العمل والابداع من سلالة أخرى

السلالات الرئيسية في العالم



أنواع السلالات البشرية :

١- السلالة الزنجية (السوداء)

٢- السلالة المغولية (الصفراء)

٣- السلالة القوقازية (البيضاء)

السلالة البشرية

هي مجموعة بشرية تتشابه في صفاتها الجسمية الخارجية

أولاً : السلالة الزنجية (السوداء)

« صفاتها الجسمية : (بشرة داكنة - أنف عريض - شعر أجعد - شفاه غليظة)

يمثل أزواج حوالي ١٠% فقط من جملة سكان العالم

« أين تتركز السلالة الزنجية ؟ » قرب دائرة الاستواء في إفريقيا ، ويمثلون نحو ٧٠% من سكان إفريقيا ، ويوجد بإفريقيا حوالي ٧٥% من عدد أزواج في العالم

أنواع السلالة الزنجية :

(١) الأزواج السودانيون (٢) البانتو (٣) النيليون الحاميون (٤) الأقزام (٥) البوشمن والهوتنتوت

❖ خلى بالك :

يوجد عدد كبير من الأزواج في دول أوروبا وحصل كثير منهم على جنسية هذه الدول
تعرض عدد كبير من الأزواج للهجرة الإجبارية إلى الأمريكتين ضمن تجارة العبيد التي سادت في الماضي للعمل في مزارع القطن وقصب السكر والتبغ التي أنشأها الأوروبيون في الأمريكتين

ثانياً : السلالة المغولية (الصفراء)

« صفاتها الجسمية : (بشرة صفراء - عيون منحرفة ضيقة - شعر الأسود مسترسل)

يتركز جنس مغولي في دول العالم المختلفة بنسبة تزيد على ٤٠% من جملة سكان العالم وذلك لأن :

(نسبة كبيرة من سكان الصين ودول شرق وجنوب شرق آسيا هم من سلالة مغولية صفراء)

« أين تتركز السلالة الصفراء ؟

(١) في قارة آسيا : في دول الصين و اليابان و كوريا و منغوليا ودول جنوب شرق آسيا

(٢) توجد في سيبيريا والأمريكتين : و منهم :

للإسكيمو في شمال كندا و ألاسكا للهنود أحمر في الأمريكتين للجماعة التي تنجوس في سيبيريا

ثالثاً : السلالة القوقازية (البيضاء)

« الصفات الجسمانية : (بشرة بيضاء وردية - شعر متموج - شفاه رفيعة)
 « تمثل هذه سلالة حوالي نصف عدد سكان العالم (٥٠ %)

« ما أنواع السلالة القوقازية ؟

- ١) مجموعة سكان حوض البحر المتوسط : وينتمي إليها عرب و عدد كبير من سكان جنوب أوروبا
- ٢) مجموعة الأيبية : سكان غرب ووسط أوروبا
- ٣) مجموعة نورديّة شمالية : معظم سكان دول شمال أوروبا

« خلى بالك :

« تنتشر السلالة القوقازية في قارات العالم المختلفة

« يتركزون في شمال الصحراء في الدول العربية

« بم تفسر : ندرة وجود السلالات

« النقية في الوقت الحاضر بالعالم ؟

ج : بسبب انصهار واختلاط السلالات في صفاتهم الطبيعية التي تميز كل سلالة عن أخرى فلا يوجد حالياً ما يعرف بالسلالة النقية إلا في المجتمعات البدائية

« من السلالات النقية الموجودة في الوقت

الحاضر : « سكان غابات حوض كنغو و صحراء كلهاري بآفريقيا وهي سلالة زنجية قصيرة قامّة م تختلط بغيرها وفي طريقها لإنقراض « الاسكيمو في صحاري تندرّا باردة شمال كندا « هِنود حمر في غابات أمريكا الجنوبية وجبّاها « الاستراليون الأصليون

« ماذا ترتب على الهجرات وانتشار السلالات بين قارات العالم ؟

« لا توجد دولة واحدة في العالم يتكون شعبها من سلالة واحدة

مثال ١ : « ولايات متحدة تضم سلالات مختلفة مثل زنوج الذين حصلوا علي حقوقهم كاملة كمواطنين - « هِنود حمر وهم سكان الأصليون - « قوقازيون وهم سكان بيض قادمون من أوروبا

مثال ٢ : « عرب يسوا سلالة واحدة فالأغلبية من سلالة قوقازية وكن حدث مع فتوحات و هجرات اختلاط مع سلالات الأخرى

الدرس الثاني : توزيع السكان في العالم

- « بلغ عدد سكان العالم عام ٢٠١٤ م حوالي (٧ و ٢ مليار نسمة)
- « تعد آسيا هي أكبر قارات من حيث عدد سكان (٤ و ٣ مليار نسمة)
- « الأوقيانوسية هي أقل قارات من حيث عدد سكان (٣٩ مليون نسمة)
- « قارة أنتاركتيكا خالية من سكان لأنها شديدة البرودة

« مناطق تركيز السكان في العالم :

- ١- سهول فيضية خصبة حيث وفرة مياه وخصوبة التربة
- ٢- سهول ساحلية حيث مناخ معتدل و نشاط سياحي
- ٣- مدن كبرى (يعيش بالمدن الكبرى حوالي نصف سكان العالم تقريبا)

« ماهي أسباب تركيز السكان بالمدن الكبرى ؟

- ١- وفرة فرص العمل
- ٢- وفرة الخدمات المتنوعة
- ٣- وفرة المناطق الصناعية

توزيع سكان العالم :

قارة آسيا

← يسكنها حوالي ٣ و ٤ مليار نسمة أي نحو ٦٠ % من سكان العالم
 ← يوجد في آسيا أكبر دولتين في العالم من حيث عدد السكان هما الصين والهند

مناطق يتركز بها السكان :

- سهول فيضية مثل سهول نهر يانجستي في الصين ونهر جانج في الهند
- بعض جزر خاصة ذات تربة خصبة مثل جزيرة جاوة في اندونيسيا وهي أكثر مناطق العالم ازدحاما بالسكان ، وجزر يابانية وجزر فلبيين

مناطق يقل بها السكان :

- مناطق شمالية في سيبيريا بسبب برودة شديدة
- مناطق جبال وهضاب في وسط قارة بسبب وعورة سطح
- مناطق صحراوية مثل شبه جزيرة عربية بسبب جفاف

ما النتائج المترتبة على زيادة عدد السكان في معظم دول آسيا ؟

(حدوث مشكلات عديدة منها)

- ١- نقص غذاء
- ٢- قلة نصيب الفرد من دخل قومي
- ٣- انخفاض مستوى معيشة
- ٤- كثرة هجرات غير شرعية إلى دول متقدمة مثل دول

الهجرات غير الشرعية :

يقصد بها الهجرة التي تتم من خلال وسائل غير قانونية مثل هجرة أعداد كبيرة من الأفارقة في مراكب والوصول إلى سواحل أوربا خاصة إسبانيا وإيطاليا والهروب من سلطات الحدود والإقامة غير الشرعية بالبلاد .

قارة أفريقيا

← بلغ عدد سكانها نحو ١ و ١ مليار نسمة

مناطق يتركز بها السكان :

- سهول فيضية خصبة مثل سهول وادي النيل في مصر والسودان
- سهول ساحلية معتدلة خصبة مثل سواحل بحر المتوسط في مصر ودول المغرب العربي ، وسواحل جنوب إفريقيا

- مناطق مرتفعة سطح في دول مدارية حيث يعتدل المناخ بسبب ارتفاع سطح مثل أوغندا وكينيا

مناطق يقل بها السكان :

- مناطق الاستوائية بسبب غابات كثيفة وبيئة طبيعية قاسية وانتشار الأمراض
- نطاقات صحراوية فقيرة صحراء كبرى وصحراء كلهاري
- بعض مناطق جبلية وعرة مثل جبال بحر الأحمر

قارة أوروبا

← بلغ عدد سكانها نحو ٧٤١ مليون نسمة

مناطق يتركز بها السكان :

- دول غرب ووسط أوروبا مثل بريطانيا وألمانيا وفرنسا وإسبانيا وهولندا ، ويتركز معظم هؤلاء السكان في مناطق صناعية ومدن كبرى مثل لندن وباريس ، وفي سهول زراعية خصبة مثل سهل الأوروبي العظيم
- يتركز سكان بدرجة أقل في دول شرق أوروبا لأنها أقل تقدما من غرب ووسط أوروبا

مناطق يقل بها السكان :

- في مناطق شمالية بسبب شدة البرودة مثل فنلندا والنرويج
- مناطق جبلية وعرة

قارة أمريكا الشمالية

- ← بلغ عدد سكانها نحو ٥٦٢ مليون نسمة
- ← تضم أمريكا الشمالية كلا من كندا والولايات المتحدة الأمريكية والمكسيك ودول أمريكا الوسطى والبحر الكاريبي
- ← الولايات المتحدة الأمريكية أكبر دول قارة سكانا (٥٧% من سكان قارة) يليها المكسيك (٢١% من سكان قارة)

يتركز سكان الولايات المتحدة الأمريكية في عدة مناطق هي :

١. ساحل شمالي شرقي : بسبب تركيز مدن كبرى وموارد الاقتصادية ضخمة ومن أكبرها مدينة نيويورك
 ٢. ولايات وسطى : بسبب وجود الأقاليم الزراعية الخصبة (سهول نهر المسيسيبي)
 ٣. منطقة بحيرات عظمى : بسبب وفرة الموارد الاقتصادية ضخمة
- يتركز السكان في المكسيك في : مدن رئيسية خاصة مدينة مكسيكو عاصمة
- يتركز السكان في دولة كندا في : مدن كبرى مثل مونتريال
- يقل سكان في دول برزخ مثل هندوراس ، و كوستاريكا ، وبعض جزر صغيرة

قارة أمريكا الجنوبية

- ← بلغ عدد سكانها نحو ٤١٠ مليون نسمة
- مناطق يتركز بها السكان : على سهول ساحلية وسهول فيضية مثل سهول الأورينوكو في فنزويلا ، وسهول " لا بلاتا " التي تعرف في الأرجنتين بسهول بمباس ، وكذلك في هضبة برازيل وعلى سواحلها حيث مدن كبرى .
- مناطق يقل بها السكان : في سهول نهر الأمازون بسبب وجود غابات الاستوائية وعلى قمم جبال الأنديز وفوق هضبة بتاجونيا في الجنوب
- * **خلي بالك :** البرازيل أكبر دول القارة سكانا (٥٠% من سكان القارة) ، وهناك دول أخرى يزيد فيها عدد السكان عن ٤٠ مليون نسمة مثل (الأرجنتين وكولومبيا) ، ودول يقل عدد سكانها عن مليون نسمة مثل (جويانا وسورينام)

القارة الأوقيانوسية (أستراليا والجزر المجاورة لها)

- ← بلغ عدد سكانها نحو ٣٩ مليون نسمة منها : (٦٠% في أستراليا) و (١١% في جزيرتي نيوزيلندا) وباقي في جزر متناثرة في محيط هادي مثل سولومون .

مناطق يتركز بها السكان :

- على سواحل شرقية حيث مدن كبرى مثل سيدني ومناطق صناعية كبرى
- الأراضي الزراعية الخصبة وفي سهول نهرى مري ودالنج في الجنوب شرقي

مناطق يقل بها السكان :

- داخل وغرب بسبب سيادة ظروف صحراوية
- في شمال بسبب وجود حشائش سافانا وغابات موسمية

الدرس الثالث : خصائص السكان

← خصائص السكان تعنى الاهتمام بدراسة السكان من ناحية ديموجرافية وتعليمية وصحية واقتصادية

الديموجرافية

Demography

هى علم دراسة السكان
من حيث نمو وتوزيع
وتركيب السكان

الخصائص الديموجرافية للسكان

* معدل المواليد :

← يبلغ معدل المواليد في العالم ٢٠ في الألف

← يرتفع معدل المواليد في دول نامية مثل دول افريقيا (٣٦ في الألف) وهى أعلى قارات في معدل

المواليد ، بينما أوروبا أقل معدلات المواليد في العالم (١١ في الألف)

← معدل المواليد في آسيا (١٨ في الألف) ، وفى أمريكا الجنوبية (١٧ في الألف) ، وفى أمريكا الشمالية

(١٧ في الألف) ، وفى الأوقيانوسية (١٨ في الألف)

← معدل المواليد في مصر (٣١ و ٣ في الألف) عام ٢٠١٤م وهو معدل مرتفع

ماهى أسباب ارتفاع معدل المواليد في افريقيا ؟

١- انتشار الامية والفقر في معظم دول قارة

٢- الاعتماد على زراعة بدائية ورعى

٣- انتشار بعض عادات وتقاليدها سلبية مثل رغبة في انجاب عدد كبير من الابناء والزواج المبكر للإناث

* معدل الوفيات :

← يبلغ معدل وفيات على مستوى العالم حوالى ٨ في الألف يزيد في دول نامية وفقيرة عن ١١ في الألف

ويقل في دول متقدمة يصل إلى أقل من ٧ في الألف

← معدل وفيات في أوروبا ١١ في الألف (يزيد عدد وفيات في أوروبا بسبب زيادة عدد كبار السن) ، وفى

افريقيا ١٠ في الألف ، وفى أمريكا الشمالية ٧ في الألف ، وفى آسيا ٧ في الألف ، وفى الأوقيانوسية

٧ في الألف ، وأقل معدل لوفيات في أمريكا الجنوبية ٦ في الألف

← انخفاض معدل الوفيات في مصر حوالى (٦ و ١ في الألف) بسبب الرعاية الصحية والاهتمام بصحة الاطفال

العوامل المؤثرة على معدل الوفيات فى العالم :

١- مستوى سكن وتغذية

٢- خدمات صحية عامة

٤- كوارث طبيعية مثل جفاف وزلازل

٣- حروب

← ذلك نجد ارتفاع معدلات وفيات في دول التى تنتشر بها الامراض وتقل فيها رعاية صحية ، وقد

تؤدى حروب وكوارث طبيعية إلى زيادة معدلات وفيات

← بينما تقل نسبة وفيات في دول التى تهتم بالرعاية الصحية وحماية البيئة من تلوث

* الزيادة الطبيعية :

← هى الفرق بين معدل المواليد ومعدل وفيات

← تقل معدلات الزيادة الطبيعية في دول متقدمة بسبب انخفاض معدلات المواليد ووفيات

← تزداد معدلات الزيادة الطبيعية في قارة افريقيا بسبب ارتفاع معدلات المواليد وقلة معدلات وفيات نسبيا

← تقل معدلات الزيادة الطبيعية في قارة أمريكا الشمالية بسبب قلة معدلات المواليد ووفيات

← يبلغ معدل الزيادة الطبيعية في أوروبا صفر (عدد السكان ثابت) لأن معدلات المواليد ووفيات متساوية

(١١ في الألف)

← يبلغ معدل الزيادة الطبيعية في مصر حوالى (٢ و ٥ في الألف) وهو معدل مرتفع

* التركيب العمرى :

← التركيب العمرى هو دراسة عدد ونسبة كل مجموعة من سكان المنطقة وفقا لفئات عمرية محدد

فئة كبار السن	الفئة المتوسطة (البالغون)	فئة صغار السن
أكبر من ٦٥ سنة	من ١٥ - ٦٤ سنة	أقل من ١٥ سنة

أولا : فئة صغار السن :

- تضم (الرضع / الاطفال /مراهقين) تمثل قاعدة الهرم السكاني وهى فئة غير منتجة
- تصل نسبة صغار السن فى دول نامية ٢٩ % من جملة سكان وهى نسبة مرتفعة مثل مصر ٣٢ %
- تنخفض نسبة فى دول متقدمة مثل السويد ١٧ %

ما نتيجة ارتفاع فئة صغار السن فى الدول النامية ؟ ج : زيادة العبء الإقتصادى على الدولة لأنهم يكلفون الدولة أموال ضخمة لتوفير الغذاء والملبس والرعاية الصحية والتعليم والخدمات الأخرى

ثانيا : الفئة المتوسطة (البالغون) :

- هى فئة سن العمل منتجة وهى متقاربة بين دول العالم مختلفة
- أعلى نسبة من البالغين فى دول غرب أوروبا
- أقل نسبة فى قارة افريقيا

ثالثا : فئة كبار السن :

- عبارة عن فئة غير منتجة
- ترتفع نسبة كبار السن فى دول متقدمة ١٧ % مقارنة بدول نامية ٦ % ماذا ؟ بسبب تقدم فى مجالات الخدمات الصحية والتعليمية

الخصائص التعليمية

- ترتفع نسبة الامية فى دول نامية وتقل فى دول متقدمة فى سكان أكبر من ١٥ سنة
- تصل نسبة متعلمين فى دول متقدمة مثل أمريكا شمالية وأوروبا وأستراليا وياپان وروسيا أكثر من ٩٥ % ، وفى معظم دول أمريكا جنوبية ودول جنوب افريقيا والصين ٧٥ % ، أما فى معظم دول افريقيا وهند فى آسيا تتراوح بين ٤٠ - ٦٠ %
- تصل نسبة متعلمين فى مصر ٦٥ % بسبب الاهتمام بتعليم فى كل مراحله وجهود الدولة فى محو الامية وتحقيق مبدأ تكافؤ الفرص

تؤثر بعض العادات والتقاليد فى معدل التعليم فى العالم خاصة معدل تعليم الاناث ومن هذه العادات :

- بعض المناطق تحرم المرأة من التعليم حفاظا عليها أو بسبب المعتقدات الخاطئة
- تفضيل الزواج المبكر للاناث

الخصائص الصحية

- يعد زيادة عدد الاطباء بالنسبة لسكان الدولة دليلا على الاهتمام بالرعاية الطبية

تنقسم الرعاية الصحية فى الدول الى :

- دول ذات رعاية طبية فائقة : معظم دول أوروبا ، وروسيا ، ودول أمريكا شمالية
- دول ذات رعاية طبية مرتفعة : مصر والأردن والإمارات
- دول ذات رعاية طبية منخفضة : ومعظمها يقع فى افريقيا مثل نيجرواثيوبيا ، وفى نيبال بآسيا

الخصائص الاقتصادية

تختلف الخصائص الاقتصادية لسكان العالم بسبب :

- تنوع الأنشطة التي يقوم بها السكان فى كل دولة
- دخول السكان

معدل دخل الأفراد السنوى في قارات العالم (بالآلف دولار)

القارة	آسيا	أفريقيا	أوروبا	أمريكا الشمالية	أمريكا الجنوبية	الأوقيانوسية
معدل الدخل	١٠ و ٤	٥ و ٤	٣٠	١٦	١٢ و ٦	٣٠ و ١

↪ الأوقيانوسية يوجد بها أعلى نصيب للفرد من الدخل القومى ثم أوروبا ، وقارة أفريقيا بها أقل نصيب للفرد من الدخل القومى

« وتنقسم دول العالم من حيث الدخل الى :

١- دول ذات دخل اقتصادي مرتفع : (تتمثل فى الدول الصناعية)

ويعيشون فى مدن فى مستوى معيشى مرتفع ويعتمدون على صناعة وخدمات ويستهلكون كميات كبيرة من طاقة مثل : (دول غرب أوروبا ، و أمريكا الشمالية ، و دول الخليج العربي) التي تعتمد على استخراج البترول وتصديره إلى خارج وتصنيع مشتقاته .

٢- دول ذات دخل فوق المتوسط :

وتعتمد على تصنيع نامي والأنشطة التقليدية مثل : (تركيا - دول شرق أوروبا - المكسيك - جنوب أفريقيا)

٣- دول ذات مستوى اقتصادي أقل من المتوسط :

وتعتمد على تصنيع وتنمية الاقتصادية والأنشطة الأخرى مثل : (الصين) فى آسيا ، (مصر - المغرب) فى أفريقيا ، (البرازيل) فى أمريكا الجنوبية ، (أوكرانيا) فى أوروبا ، (هايتى) فى أمريكا الشمالية

٤- دول ذات اقتصاد زراعي منخفض :

ويعتمدون على حرفة زراعة ويتركز معظم سكانها فى ريف مثل : (الكونغو) فى أفريقيا ، و (باكستان) فى آسيا

✳ خلى بالك :

↪ الدول ذات الدخل الإقتصادي المرتفع تعتمد على النشاط الصناعى ، بينما الدول ذات الدخل الإقتصادي المنخفض يسودها النشاط الزراعي

↪ إذا قامت دول افريقيا (النامية والفقيرة) بالاستفادة من ثرواتها المعدنية والزراعية فى التصنيع بدلا من تصديرها خاما لأصبحت من الدول ذات الدخل الإقتصادي المرتفع

✳ قوة العمل :

↪ يقصد بها عدد الأفراد فى سن العمل والقادرين على العمل والذين يعملون فعليا أو يبحثون عن عمل .

↪ قوة العمل فى مجال الزراعة : يعمل فى زراعة حوالى :

- (أكثر من ٨٠ ٪) من سكان فى دول نامية فى افريقيا مثل أثيوبيا
- (٦٠ - ٨٠ ٪) فى السودان بأفريقيا ، و الهند فى آسيا
- (٣٠ - ٦٠ ٪) فى مصر بأفريقيا ، وتركيا فى آسيا
- (أقل من ١٠ ٪) فى دول متقدمة فى غرب أوروبا ، وأمريكا الشمالية ، وأستراليا

« ما نتيجة زيادة قوة العمل فى الزراعة فى افريقيا ؟

ج : يؤدى ذلك الى : ١- انخفاض مستوى معيشة ٢- قلة نصيب الفرد من دخل

↪ العاملين فى مجال الصناعة :

- تزداد نسبة عاملين فى مجال صناعة وخدمات مرتبطة بها فى دول متقدمة غنية عنها دول فقيرة
حتى يعمل معظم سكانها فى زراعة والأنشطة الأولية و(ثانوية) (صيد - زراعى - قطع غابات)



الأسئلة

س ١: صوب ما تحته خط :

- ١- يرجع انتشار الإنسان في قارات العالم المختلفة إلى أواخر عصر الميوسين
- ٢- تتركز سلالة زنجية قرب مدار السرطان بقارة إفريقيا
- ٣- جماعة التنجوس توجد في شمال كندا و ألاسكا
- ٤- تتميز سلالة الصفراء بشعر متموج وشفاه رفيعة
- ٥- تتركز سلالة القوقازية في جنوب ووسط إفريقيا
- ٦- معظم سكان شمال كندا من سلالة الزنجية
- ٧- تعد قارة إفريقيا هي أكبر قارات من حيث عدد سكان
- ٨- سهول وادي النيل في مصر و السودان من مناطق قليلة سكان بإفريقيا
- ٩- يتركز معظم سكان أوروبا في مناطق الجبلية
- ١٠- أكبر دول قارة أمريكا الجنوبية سكانا دولة الأرجنتين
- ١١- يتركز سكان أستراليا على سواحل الشمالية حيث مدن كبرى مثل سيدني
- ١٢- الكثافة السكانية هي الفرق بين معدلات المواليد ووفيات
- ١٣- تمثل فئة كبار السن ٣٢% من جملة سكان مصر
- ١٤- النيجر واثيوبيا من دول ذات رعاية طبية مرتفعة
- ١٥- جنوب إفريقيا من دول إفريقيا ذات مستوى الاقتصادي اقل من متوسط

س ٢: ضع علامة (√) أو علامة (×) :

- ١- قبائل بانطو تنتمي لسلالة زنجية
- ٢- ينتمي العرب لسلالة قوقازية
- ٣- تنتمي جماعة تنجوس في سيبيريا إلى سلالة زنجية
- ٤- يقل سكان في سهول فيضية مثل سهول نهر يانجستي بآسيا
- ٥- يزداد عدد سكان في جزر الاسيوية ذات تربة خصبة مثل جزيرة جاوة
- ٦- يزداد عدد سكان في مناطق الاستوائية ذات غابات كثيفة بإفريقيا
- ٧- يقل عدد سكان في سهول الأورينوكو في فنزويلا وسهول بمباس في الأرجنتين
- ٨- يقل عدد سكان في أوروبا في مناطق شمالية بسبب شدة البرودة
- ٩- يتركز معظم سكان أستراليا في داخل وغرب قارة
- ١٠- معدل المواليد في إفريقيا أعلى معدل مواليد في العالم
- ١١- تقل نسبة وفيات في دول التي تهتم بالرعاية الصحية وحماية بيئة من تلوث
- ١٢- تنخفض معدلات زيادة طبيعية في قارة أمريكا شمالية
- ١٣- ترتفع نسبة الامية في دول نامية وتقل في دول متقدمة
- ١٤- مصر والأردن من دول ذات رعاية طبية فائقة
- ١٥- أعلى نصيب لفرد من دخل في العالم في قارة آسيا
- ١٦- مصر و المغرب من دول الافريقية ذات دخل فوق متوسط

س ٣: أكمل ما يأتي :

- ١- من صفات سلالة زنجية
- ٢- من صفات سلالة قوقازية
- ٣- من صفات سلالة مغوية
- ٤- بانطو من سلالة بينما الهنود حمر من سلالة
- ٥- جماعة تنجوس تعيش في بينما الاسكيمو يعيشون في

- ٦- تتركز سلاية زنجية قرب في إفريقيا
- ٧- ينتمي عرب إلى سلاية
- ٨- الإسكيمو في شمال كندا و ألاسكا ينتمون لسلاية
- ٩- تعد قارة اكبر قارات سكانا بينما قارة أقلها سكانا
- ١٠- اكبر دولتين في العالم من حيث عدد سكان و
- ١١- يتركز سكان الولايات المتحدة في ساحل حيث مدن كبرى و
- ١٢- أكبر دول أمريكا الجنوبية سكانا دولة
- ١٣- زيادة طبيعية هي الفرق بين معدلات و
- ١٤- معظم دول أوروبا ذات رعاية طبية
- ١٥- تختلف خصائص الاقتصادية سكان العالم وفقا - و
- ١٦- تصل نسبة قوة عمل في مجال إلى ٨٠% في دول نامية بإفريقيا

س٤: بم تفسر :

- ١- عرب يسوا من سلاية واحدة
- ٢- ندرة سلايات نقية في العالم حاليا
- ٣- انتقال أعداد من زئوج إلى الأمريكتين
- ٤- تنوع سلايات بشرية في العالم
- ٥- الولايات المتحدة الأمريكية يسوا من سلاية واحدة
- ٦- تركيز سكان في إفريقيا دول مدارية
- ٧- يقل عدد سكان في سيبيريا وألاسكا
- ٨- قلة عدد سكان في مناطق الاستوائية بإفريقيا وأمريكا الجنوبية
- ٩- تركيز سكان في مونتريال بكندا
- ١٠- يعيش أكثر من نصف عدد سكان العالم في مدن كبرى
- ١١- قلة عدد سكان شمال استراليا
- ١٢- منطقة بحيرات عظمى من مناطق مرتفعة كثافة سكانية
- ١٣- ارتفاع معدلات مواليد في قارة إفريقيا
- ١٤- تعد أمريكا شمالية أقل قارات العالم في معدلات وفيات
- ١٥- تتركز دول ذات دخل اقتصادي منخفض في إفريقيا

س٥: قارن بين :

- ١- سلاية زنجية وسلاية مغوية وسلاية قوقازية من حيث : (نسبة في العالم - صفات جسمانية)
- ٢- قارة آسيا وقارة إفريقيا وقارة أوروبا من حيث : (عدد سكان - مناطق تركيز سكاني)
- ٣- قارة أمريكا الجنوبية وقارة الأوقيانوسية من حيث : (عدد سكان - مناطق قليلة سكان)

س٦: ما النتائج المترتبة عن :

- ١- هجرات وانتشار سلايات بين قارات العالم
- ٢- زيادة عدد سكان في معظم دول آسيا
- ٣- ارتفاع صغار سن في دول نامية
- ٤- اهتمام مصر بتعليم في كل مراحله

س٧: ما المقصود بكل من :

- ١- سلاية بشرية
- ٢- ديموجرافية
- ٣- زيادة طبيعية
- ٤- تركيب عمري
- ٥- قوة عمل



الوحدة الثالثة : مصر تحت الحكم العثماني

الدرس الأول : مصر بين المماليك والعثمانيين

توسعات العثمانيين :

مع بداية القرن السادس عشر ميلادي اتجه سلطان سليم الأول بغزواته نحو الشرق فكان صدام عسكري مع الدولة الصفوية في إيران والدولة المملوكية في مصر والشام

دولة المماليك :

قامت في مصر والشام والحجاز وجزء من ساحل أفريقيا الشرقية المطل على البحر الأحمر

تعرضت دولة المماليك في أواخر القرن ١٥ - ١٥ لأزمات مالية وتدهور اقتصادي

أسباب التدهور الاقتصادي والأزمات المالية لدولة المماليك :

للم اكتشاف البرتغاليين طريق رأس الرجاء الصالح عام ١٤٩٨م وتحول تجارة الشرق من أيديهم ، وتحطم الأسطول المملوكي عام ١٥٠٩م في معركة ديو البحرية

كما تعرضت لأزمات سياسية بسبب : (اضطراب الأمن - التنافس المستمر بين المماليك - كثرة الفتن والثورات الداخلية) مما أدى إلى ضعف قوتهم العسكرية

الدولة الصفوية :

مركزها بلاد فارس قديما (إيران) عاصمتها تبريز تدين بـ مذهب شيعي

الصدام بين العثمانيين والصفويين : (معركة جالديران)

تاريخها : عام ١٥١٤م

أطرافها : عثمانيين يقودهم سليم الأول ، و صفويين

نتائجها : انتصار سليم الأول وهزيمة صفويين ودخول عاصمة تبريز

أسباب اتجاه العثمانيين نحو مصر والشام :

- (١) رغبة سليم الأول في توسيع ممتلكاته في الشرق بالاستيلاء على مصر (التي تمثل قلب العالم الإسلامي)
- (٢) إدراك سلطان عثماني سليم الأول أن صدام مع دول الأوربية في ذلك الوقت محفوف بمخاطر بسبب تفوق أوربا حضارياً وعسكرياً على عثمانيين (وذلك توجه نحو الشرق لتحقيق سيطرة على منطقة

استيلاء العثمانيين على مصر والشام :

معركة مرج دابق (أغسطس عام ١٥١٦م) :

بأمر سلطان عثماني سليم الأول بالاستيلاء على إمارة ذي القادر مملوكية التي تقع على حدود بين دولتين عثمانية ومملوكية ، فخرج سلطان قنصوة الغوري لشام ودارت معركة بين المماليك والعثمانيين عند مرج دابق في أغسطس عام ١٥١٦م

نتائج معركة مرج دابق :

(١) انتصار العثمانيون وهزيمة المماليك

معركة الريدانية (يناير عام ١٥١٧م) :

تقدم سلطان سليم الأول تجاه مصر حيث تقى بجيوش طومان باي عند ريديانية بصحراء عباسية في يناير عام ١٥١٧م

نتائج معركة الريدانية :

(١) هزيمة طومان باي ودخول العثمانيين القاهرة

(٢) انتهت دولة المماليك في مصر والشام

(٣) أصبحت مصر ولاية عثمانية عام ١٥١٧م

أسباب هزيمة الجيوش المملوكية :

(١) التفوق العسكري للجيش العثماني واستخدام أساليب القتال الحديثة والأسلحة المتطورة

(٢) تأثر الدولة المملوكية بعدم الاستقرار الداخلي والنزاع المستمر على السلطة



* نتائج هزيمة الجيوش المملوكية :

- (١) تحولت مصر من دولة مستقلة إلى مجرد ولاية من ولايات الدولة العثمانية
- (٢) سيطرة العثمانيون على العالم العربي من اتجاهين أسبوي وأفريقي
- (٣) انتقال خلافة العالم الإسلامي الدينية والسياسية إلى الدولة العثمانية ، وإعلان سليم الأول نفسه الحامي الوحيد للحرمين الشريفين ولجميع رعاياه في العالم الإسلامي

ملاحم الحكم العثماني بمصر

- ↪ خضعت مصر لحكم عثماني أربعة قرون متتالية
- ↪ كان حكم عثمانيون جامداً راکداً نتج عنه تحول مصر إلى ولاية معزولة تماماً عن مؤثرات حضارية حديثة في أوروبا

أحوال مصر تحت الحكم العثماني

أولاً : الحياة السياسية

- ↪ وضع العثمانيون نظاماً للحكم العثماني تمثل في :
- (١) الوالي (الباشا)
- (٢) الديوان (ديوان القاهرة)
- (٣) الحامية العثمانية
- (٤) إدارة الأقاليم

- ↪ حمل نظام الحكم العثماني في ثنياه عوامل ضعفه بسبب :
- (١) قصر مدة حكم الوالي (تتراوح ما بين سنة وثلاث سنوات)
- (٢) زيادة سلطة الديوان والحامية العثمانية
- (٣) ضعف الدولة العثمانية أواخر القرن ١٧ الميلادي
- (٤) تطلع البكوات المماليك (حكام الأقاليم) للانفراد بالحكم نتيجة ضعف الدولة العثمانية

حركة علي بك الكبير ١٧٦٨م



« انفراد علي بك الكبير بالحكم :

- ↪ كان علي بك كبير طموحاً حيث استطاع التخلص من منافسيه الأقوياء من مماليك حتى أصبح حاكماً فعلياً بمصر عام ١٧٦٨ م ، وطلب من مشايخ دعوة في مساجد تحاف علي بك كبير مع شيخ ظاهر عمر حاكم جنوب شام ضد سلطان عثماني قام بإخضاع حجاز نفوذه
- ↪ أرسل نائبه (محمد بك أبو الذهب) غزو شام فدخل دمشق

« نتائج حركة علي بك الكبير :

- ↪ فشلت حركة علي بك كبير بسبب انحياز محمد بك أبو ذهب لسلطان عثماني واتفاقه معه ضد علي بك كبير مقابل توليته مشيخة بلد
- ↪ عادت مصر ولاية عثمانية تحت حكم شيخ بلد محمد بك أبو ذهب

ثانياً : الحياة الاقتصادية

- ↪ تدهورت الأوضاع الاقتصادية في مصر

* الزراعة :

- ↪ كانت الأرض ملكاً لدولة ممثلة في سلطان وتزرع عن طريق تكليف فلاحين بزراعتها فيما عُرف بحق الانتفاع (حيث ينتفع فلاح بزراعة الأراضي ويسحقه تصرف فيها أو بيعها أو توريثها)

مع ضعف الدولة العثمانية تم تطبيق نظام الإلزام في منتصف القرن ١٧
أقل فلاح الضرائب المفروضة على الأراضي الزراعية وشدة تعسف وظلم ملتزمين في جمعها وعدم
اهتمام طبقة حاكمة بتنظيم الري أو إقامة سدود وحفر ترع ، مما أدى إلى تدهور زراعة وتدهور
أحوال مجتمع ريفي بوجه عام

بم تفسر : تدهور الزراعة في العصر العثماني ؟ بسبب :

- ١- كثرة الضرائب المفروضة على الأراضي الزراعية
- ٢- ظلم الملتزمين في جمعهم للضرائب
- ٣- عدم اهتمام الطبقة الحاكمة بتنظيم الري أو إقامة السدود وحفر الترع

الصناعة :

تأخرت الصناعة في العصر العثماني بسبب :

- (١) تدهور الزراعة
- (٢) انتقال الصناع المهرة إلى (الأستانه) عاصمة الدولة العثمانية
- وأدى ذلك إلى : أصبحت الصناعات يدوية بسيطة وريثة

التجارة :

أولاً : التجارة الداخلية :

بم تفسر : كسدت التجارة الداخلية ؟ ج : بسبب :

- (١) تدهور الزراعة والصناعة
- (٢) افتقاد الأمن
- (٣) عدم الاهتمام بطرق التجارة البرية
- (٤) الاغارات المتلاحقة لبدو الصحراء

ثانياً : التجارة الخارجية :

بم تفسر : تدهور التجارة الخارجية ؟ ج : بسبب :

- (١) تحول الطريق التجاري بين الشرق والغرب إلى طريق رأس الرجاء الصالح
- (٢) منح الدولة العثمانية الامتيازات الأجنبية للدول الأوروبية

ثالثاً : الحالة الاجتماعية

كان مجتمع مصري أثناء حكم عثماني ينقسم إلى فئتين (حكام - محكومين)

(١) فئة الحكام :

كان لها كافة سلطات في شئون حكم الإدارة وجيش وتركزت في أيدي الأتراك والمماليك

(٢) فئة المحكومين :

- تنقسم إلى طبقة وسطى محدودة من مشايخ وعلماء الأزهر ورجال دين وكبار تجار
- طبقة دنيا وهم الأكثرية من فلاحين وصغار حرفيين وعامة ناس ، وقد عانت هذه طبقة فقر وظلم وتفشى الأوبئة والأمراض

رابعاً : الحياة الفكرية والثقافية

اتسمت حياة فكرية وثقافية خلال فترة حكم عثماني بالجمود والتخلف بسبب عقلية التي فرضها
عثمانيون على بلاد ، وترتب على ذلك :

- ١- اهتزت مكانة الأزهر العلمية ولم يعد هناك اهتمام بالعلوم العقلية أو الرياضية أو الطبيعية حيث كان الإهتمام بالعلوم الشرعية فقط
- ٢- تدهورت الحياة الأدبية
- ٣- انتشرت ظاهرة الدجل والشعوذة والخرافات وشاع الجهل

الدرس الثاني : الحملة الفرنسية على مصر (١٧٩٨ م - ١٨٠١ م)

❁ مقدمات الحملة :

→ تعد الحملة الفرنسية على مصر و الشام (١٧٩٨ - ١٨٠١) بقيادة نابليون بونابرت جزءا من تنافس الاستعماري بين إنجلترا وفرنسا على مستعمرات ، وقد بدأ هذا تنافس في القرن السابع عشر ميلادي ، واستمر طوال القرن الثامن عشر ، حتى أرسل قنصل فرنسي في مصر تقارير تفيد بسوء الأوضاع السياسية و الداخلية في مصر ويحث فيها حكومة ثورة فرنسية على إرسال حملة عسكرية على مصر .

❁ لم تفسر مجئ الحملة الفرنسية إلى مصر ؟

→ أسباب الحملة الفرنسية على مصر :

- ١- تعويض فرنسا عن فقدان مستعمراتها
- ٢- قطع الطريق بين إنجلترا ومستعمراتها في الهند
- ٣- إنشاء مستعمرة فرنسية في الشرق تكون قاعدتها مصر

❁ الإعداد للحملة :

→ أعد نابليون بونابرت جيشا سرا ، واصطحب معه مجموعة من العلماء في مختلف العلوم والفنون (لماذا) لدراسة أحوال مصر من جميع النواحي ، وكيفية استغلال مواردها حمل معه مطبعة عربية وأخرى فرنسية طبع منشورات لأهالي

❁ خط سير الحملة :

→ كانت مصر ولاية عثمانية وكن ضعف الدولة عثمانية كان حكم فعلى لممليك أبجرت حملة من ميناء طولون سرا ثم أصدر نابليون أوامره بأن تتجه حملة نحو مصر وصلت حملة إلى الإسكندرية وقبل أن تصل قوات ممليك من القاهرة ملاقة فرنسيين ، كان أهالي الإسكندرية بزعماء سيد / محمد كريم حاكم مدينة قد واجهوا قوات حملة وهذا

اعتقلته قوات فرنسية ثم اعدم رميا بالرصاص في سبتمبر ١٧٩٨ م وصلت قوات فرنسية زحفها في طريقها إلى القاهرة ، قامت بقوات ممليك بقرب من شبراخيت في بحيرة

❁ موقعة شبراخيت :

→ تاريخها : (يوليو ١٧٩٨ م)

→ أطرافها : فرنسيين بقيادة نابليون ضد ممليك بقيادة مراد بك
→ نتائجها : هزيمة ممليك وتقهقر قواتهم جنوبا إلى إمبابية لدفاع عن القاهرة .

❁ موقعة إمبابية :

→ تاريخها : (يوليو ١٧٩٨ م)

→ أطرافها : فرنسيين بقيادة نابليون ضد ممليك بقيادة مراد بك وإبراهيم بك
→ نتائجها : انهزم ممليك وفر مراد بك إلى صعيد و هرب إبراهيم بك ومعه واهي عثماني إلى شام

❁ لم تفسر : هزيمة المماليك أمام الحملة الفرنسية في شبراخيت وإمبابية ؟

- بسبب اعتماد المماليك على الفروسية بينما كان الفرنسيون يستخدمون المدافع والمعدات الحديثة

❁ دخول القاهرة : (يوليو ١٧٩٨ م)

→ دخل نابليون بونابرت القاهرة في ٢٤ يوليو ١٧٩٨ م ، بعد أن أمن العلماء ومشايخ على الأرواح والأموال

❁ موقعة أبوقير البحرية :

→ تاريخها : أغسطس ١٧٩٨ م

→ أطرافها : الأسطول الانجليزي بقيادة نلسون ضد الأسطول الفرنسي
→ نتائجها :

- ١- تحطيم الأسطول الفرنسي وإغراقه في خليج أبى قير



٢- حاصر الأسطول البريطاني شواطئ مصر الشمالية **مما أدى إلى :**

- القضاء على آمال فرنسا في السيطرة على سواحل البحر المتوسط
- حرمان الحملة في مصر من إمدادات فرنسا لها
- شعر الجنود الفرنسيون بأنهم محاصرون داخل مصر مما أدى لضعف روحهم المعنوية
- توقفت حركة التجارة الخارجية بالنسبة لمصر

✿ مقاومة الشعب المصري للاحتلال الفرنسي :

✱ مقاومة أبناء الصعيد :

→ فشلت قوات فرنسية في إخضاع أهالي الصعيد لأنهم اتبعوا حرب المناوشات ومعارك متفرقة ، والتي أنهكت قوة فرنسيين نظر طول وادي
→ أدى ذلك إلى تعاضد شعور وطني ونمو وعي قومي تجاه الاحتلال الفرنسي

✱ ثورة القاهرة الأولى (أكتوبر ١٧٩٨ م)

📖 **بم تفسر : قيام ثورة القاهرة الأولى ؟ (الأسباب)**

- ١- فرض نابليون بونابرت ضرائب فادحة
- ٢- قيام قوات الاحتلال الفرنسي بتفتيش البيوت واقتحام الحوانيت بحثا عن الاموال
- ٣- هدم أبواب الحارات والدروب لمطاردة عناصر المقاومة
- ٤- هدم كثير من المباني والآثار والمساجد بحجة تحصين القاهرة

« أحداث الثورة :

→ أصبح الازهر الشريف مقر قيادة ثورة وازدادت شدة مقاومة وامتدت ثورة إلى الأقاليم المجاورة
→ قتل حاكم مدينة القاهرة الفرنسي ، واستخدمت قوات الاحتلال الفرنسية سياسة القمع والارهاب لاختماد
→ ثورة

→ دخلو الفرنسيون جامع الازهر بخيوطهم مما أثار شعور ديني لدى مصريين

📖 **ما النتائج المترتبة على ثورة القاهرة الأولى ؟ (النتائج)**

- ١- أعدم الفرنسيون الكثير من الاهالي والثوار
- ٢- فرضت الغرامات المالية على التجار والعلماء
- ٣- شرعت القوات الفرنسية في تحصين مدينة القاهرة

✿ الحملة الفرنسية على الشام : (مارس ١٧٩٩ م)

→ تجافت دولة عثمانية مع انجلترا وروسيا لاجراج فرنسيين بقوة عسكرية ، فأعدوا حملة بحرية في جزيرة رودس غزو مصر من شمال وحملة برية غزو مصر من شرق عن طريق الشام .

« أسبابها :

- ١- رغبة نابليون في القضاء على جيش عثماني قبل وصوله مصر
- ٢- رغبة نابليون سيطرة على موانئ الشام وفك حصار على شواطئ

« أحداثها :

→ تحرك نابليون بونابرت بقواته إلى الشام من جهة عريش وذلك في (مارس ١٧٩٩ م) ، واستولى في طريقه على عريش وغزة ، وحاصر يافا حصارا شديدا
→ وبعد استيلائه على يافا أعدم جميع أفراد حاميتها باغ عددهم أربعة الاف مقاتل رغم تأمينه على أرواحهم ، مرتكبا جريمة بشعة والتي سميت باسم **مذبحة يافا البشرية** ، مما أدى إلى مقاومة واستبسال أهالي عكا عن مدينتهم بقيادة **أحمد باشا الجزار** ، وبمساعدة الاسطول البريطاني وامداده لمدينة يافا مؤن وذخائر

« نتائجها :

- ١- فشل حملة فرنسية على الشام
 - ٢- اضطر نابليون بونابرت لعودة إلى مصر
- 📖 **بم تفسر : فشل الحملة الفرنسية على الشام ؟**

- ١- استبسال جنود عكا في الدفاع عن مدينتهم بقيادة احمد باشا الجزار
- ٢- مساعدة الاسطول البريطاني وامداده لمدينة عكا بالمؤن والذخائر

✱ موقعة أبوقير البرية : (يوليه ١٧٩٩ م)

→ وصل الاسطول العثماني عند أبي قير في يولييه ١٧٩٩ م مما أدى إلى اشتباك قوات حملة فرنسية بقيادة

نابليون بونابرت مع قوات الاسطول العثماني وهزيمة قوات العثمانية

«رحيل نابليون :

في تلك الاثناء وصلت رسالة نابليون توضح متاعب التي تواجهها فرنسا على أثر قيام حرب تحالف فيها أوربا ضد فرنسا ، فقرر عودة سرا تاركا أمر حملة نائبه كليبر

❁ كليبر والحملة :

كان كليبر من أنصار جلاء عن مصر لأن الأخطار تهدد حملة فرنسية من كل جانب فاجيش في تناقص عددي بسبب معارك وحروب داخلية وخارجية ، ودولة عثمانية أرسلت حملة أخرى إلى عريش ودمياط ، ومماليك عادوا لمقاومة ، وتجددت ثورات مصريين في شرقية وإمدت إلى وسطها وغربها ، مما أدى إلى اتجاه كليبر لتفاوض مع دولة عثمانية (إتفاقية العريش ١٨٠٠ م)

«شروطها : خروج حملة فرنسية بجنودها إلى فرنسا على نفقة دولة عثمانية

«نتائجها :

- ١- بدأت قوات عثمانية في تقدم نحو القاهرة
- ٢- رفضت حكومة بريطانية الاتفاق ، وطلبت استسلام جيش فرنسي كأسرى حرب فرفض كليبر
- ٣- هاجم كليبر قوات عثمانية وأعادها متقهقرة إلى الشام مرة أخرى .

❁ ثورة القاهرة الثانية (مارس ١٨٠٠ م)

«بم تفسر : قيام ثورة القاهرة الثانية ؟

- ١- استغلال المصريون خروج كليبر لمطاردة الأتراك بالشام
- ٢- ضيق الزعماء المصريين بالوجود الفرنسي بعد فشل معاهدة العريش
- ٣- تدهور الأحوال الاقتصادية بسبب فرض الضرائب

«أحداث الثورة :

قام مصريون بثورة عارمة بزعامة سيد عمر مكرم نقيب الأشراف ضد قوات الاحتلال الفرنسي ، واشتدت ثورة خاصة في حي بولاق

«ما النتائج المترتبة على ثورة القاهرة الثانية ؟

- ١- نجحت القوات الفرنسية في إخماد الثورة سريعا
 - ٢- دمر الفرنسيون حي بولاق
 - ٣- اشتد كليبر في فرض المزيد من الغرامات ومصادرة الاموال
- قتل كليبر في (يونيه ١٨٠٠ م) على يد سليمان الحلبي أحد طلاب الازهر ، وتولى (مينو) أمر حملة

❁ مينو و جلاء الحملة :

كان مينو ينوي الإقامة في مصر وتحويلها إلى مستعمرة فرنسية كبرى ، وتحقيقا لذلك قام بوضع خطة اصلاحية في مجالات الزراعة والصناعة والتجارة والصحة والنظام القضائي (مشروع مينو العظيم)

أرسلت إنجلترا أسطولا حربيا إلى أبي قير (فبراير ١٨٠١ م) وانضم إليه جيش عثماني ، ولم تستطع قوات فرنسية مقاومة ، واستسلمت وغادرت حملة فرنسية مصر في (سبتمبر ١٨٠١ م)

❁ نتائج الحملة الفرنسية :

لم تكن حملة فرنسية على مصر مجرد حملة عسكرية تقليدية لغزو والاحتلال ، حيث اصطحب نابليون بونابرت مع حملة مجموعة كبيرة من علماء في مختلف المجالات ، ولهذا تركت الحملة نتائج بعيدة المدى تمثلت فيما يلي :

«أولا : نمو الروح القومية :

أيقظت حملة فرنسية روح قومية لدى مصريين ، حيث تمسك مصريون بعد خروج حملة فرنسية بحقوقهم في حرية وفي تقرير مستقبل بلادهم ، واختيار حاكمهم .

«ثانيا : الاعمال التي قام بها علماء الحملة الفرنسية : (النتائج العلمية)

محاولة شق قناة تربط بين البحرين الأحمر والمتوسط ، وكان من نتيج فكرة بسبب خطأ في حسابات



جلاء : هو رحيل قوات الاحتلال عن البلد المحتل

مستوى مياه البحر .

↳ إنشاء مجمع علمي مصري

↳ تأليف كتاب (وصف مصر)

↳ اكتشاف ضابط فرنسي (بوشار) حجر رشيد في يوليو ١٧٩٩ م ، وما ترتب على ذلك

من تعرف على تاريخ مصري قديم

« ثالثا : توجيه أنظار الدول الأوروبية إلى أهمية موقع مصر الجغرافي :

↳ وجهت حملة أنظار دول الأوروبية عامة وإنجلترا خاصة لأهمية موقع مصر جغرافي والاستراتيجي ، فكان حرص بريطانيا على سيطرة عليها ، وقد تحقق لها ذلك باحتلالها مصر عام ١٨٨٢ م . (لذلك تعتبر حملة فرنسية فاتحة الإستعمار الأوربي مصر)

« رابعا : نظم الحكم والإدارة :

↳ أنشأ نابليون بونابرت ديوان عام ودواوين الأقاليم وديوان القاهرة

↳ وهدفت تلك الدواوين إلى تدريب الأعيان و العلماء مصريين على نظام مجاس شورى من حيث

الإستشارة وتلقي الأراء ، فيما يعود على الأهالي بالنفع عام

« خامسا : الآثار الإقتصادية والإجتماعية :

↳ وضعت حملة فرنسية بعض مشروعات لإصلاح الإقتصادي وخاصة في عهد مينو (مشروع مينو العظيم) والذي تمثل في :

« الزراعة : تنوع المحاصيل الزراعية والإهتمام بمشاريع الري .

« الصناعة : إنشاء مصانع لنسيج وبعض صناعات دقيقة و دباعة وصناعة حروف طباعة .

« التجارة : فتح أسواق مصر في بلاد البحر الأحمر و دارفور في السودان و حبشة و بلاد شمال إفريقيا .

« الصحة العامة : إنشاء محاجر صحية في القاهرة و العديد من مدن الأخرى .

الدرس الثالث : ثورة الشعب المصري وتولية (محمد علي)

♥ أحوال مصر قبل تولية محمد علي :

↳ شهدت مصر منذ خروج فرنسيين عام ١٨٠١ م وحتى تولية محمد علي حكم في (١٣ مايو عام ١٨٠٥ م) فترة من الإضطراب والفوضى والصراع على السلطة بمصر بين مماليك وعثمانيين وإنجلترا وفي نهاية إستمرت مصر ولاية تابعة لدولة عثمانية .

♥ تولية محمد علي حكم مصر :

↳ بدأت دولة عثمانية تستعيد حكم بلاد ، كن شعب مصري قام بالعديد من

ثورات ضد ولاة عثمانيين وزعماء مماليك مثل ثورة الشعب في مارس ١٨٠٤ م بسبب :

لـ فرض الضرائب والإتاوات على الأهالي

↳ خشى محمد علي أن تصيب ثورة جنوده فقام بالانضمام إلى علماء ومشايخ واختلط بالأهالي ساخطين وتعهد لعلماء بأن يبذل قصارى جهده لرفع الضرائب عن الناس ، واقترح تعيين (خورشيد باشا) وليا على مصر ، والذي عينه سلطان عثماني ، وبهذه سياسة كسب (محمد علي) عطف الشعب وثقة زعماء وبدأ الناس ينظرون إليه كرجل عادل يكره الظلم

↳ في ١٣ مايو عام ١٨٠٥ م اجتمع زعماء شعب من علماء ونقباء طوائف بدار محكمة (بيت القاضي) وقرروا عزل خورشيد باشا وتعيين محمد علي بدلا منه ، واخذوا عليه عهود ومواثيق أن يحكم بالعدل وألا يبرم أمرا إلا بمشورتهم ، وكانت هذه أول مرة في تاريخ مصر الحديث تى يعزل فيها وليا ويعين وليا آخر بإرادة الشعب

↳ في ٩ يولية ١٨٠٥ م أصدر سلطان عثماني فرمانا تضمن عزل خورشيد باشا وتعيين محمد علي وليا على حكم مصر .

♥ توطيد سيادة محمد علي :

قبل ان يتفرغ **محمد علي** ببناء دولة حديثة كان عليه أن يطمئن لاستقرار الحكم في يده ومواجهة
عديد من مشكلات التي إعترضت طريقه .

* المشكلات التي واجهت محمد علي في بداية حكمه

(١) محاولة نقل محمد علي من مصر عام ١٨٠٦م :

م ترسخ برطانيا بسهولة بعد توية **محمد علي** إذ كانت تسعى توية **محمد بك الألفي** (مملوكي) كي
تطمئن على مصالحها الاقتصادية في منطقة فحاحات إقناع سلطان عثمانى بعزل **محمد علي** واسناد ولاية
إلى **محمد بك الألفي** أو أي ولي عثمانى آخر بحجة استقرار الأوضاع في مصر .
استجاب سلطان برطانيا وأرسل أسطولا يحمل فرمانا بنقل **محمد علي** وإيا علي (**سالونيك**) في
مقدونيا بإيوان مع تسليم سلطة دون معارضة أو مقاومة إلى ولي عثمانى جاء مع الاسطول (يوية
١٨٠٦م)

كن زعامة شعبية مصرية وقفت بجانب **محمد علي** فرضخ سلطان عثمان وتخلي عن فكرة نقل
محمد علي من ولاية مصر مع تثبيته عليها .

(٢) حملة فرير مارس عام ١٨٠٧م :

أسبابها : انتهزت برطانيا فرصة تدهور علاقتها مع سلطان عثمانى وأرسلت حملة عسكرية في
مارس ١٨٠٧م لاحتلال مصر وخلع **محمد علي** وتثبيت تابعها **محمد بك الألفي**



« نتائجها :

- ١- هزيمة حملة في رشيد وحما
- ٢- جلاء حملة مقابل الإفراج عن الأسرى
- ٣- دخل محمد علي الإسكندرية منتصرا

(٣) القضاء على الزعامة الشعبية :

أدرك **محمد علي** قوة زعامة شعبية ممثلة في سيد **عمر مكرم** ودورها في تويته حكم وإقيود التي
فرضتها عليه عند قبول ولاية
رأى **محمد علي** ضرورة أن ينفرد بالحكم دون وصاية أو رقابة شعبية وأخذ يترقب وقت مناسب
لتخلص من سيد **عمر مكرم** وقد ساعده في تحقيق ذلك انقسام قيادات شعبية فيما بينها حول تقدير **عمر
مكرم** ومكانته بين الناس حيث أخذ منافسوه يدسون له عند **محمد علي** (ساعدت الإنقسامات بين زعامة
شعبية محمد علي في التخلص منهم تارة بإترغيب وتارة أخرى بإترهيب)
انتهم **محمد علي** فرصة وأقدم على خلع **عمر مكرم** من نقابة الأشراف وإبعاده ونفيه إلى دمياط (١٨٠٩م
) وبعدها خارج بلاد

(٤) التخلص من المماليك :

تخلص **محمد علي** من مماليك لأنه كان يرى أنهم مصدر قلق وفوضى ، ذلك تخلص منهم بعدة
أساليب منها : ◀ حرماتهم من توي مناصب رفيعة في دولة مثل مشيخة بلاد
مطاردتهم بكل مكان
◀ تدبير مذبة القلعة هم في مارس ١٨١١م
◀ وبذلك تمكن **محمد علي** من الأفراد تماما بحكم بلاد ، التي أرادها ببعد نظره وطموحه في مصاف
دول الأوروبية الحديثة .

الدرس الرابع : (محمد علي) وبناء مصر الحديثة

أدرك **محمد علي** أن نهضة مصر ن تتحقق إلا من خلال بناء دولة قوية تأخذ بأساليب مدنية حديثة
في الغرب وذلك قام باصلاحات شملت كل جوانب حياة مختلفة .

♥ مظاهر بناء الدولة الحديثة في عصر محمد علي :

❁ أولا : البناء الاقتصادي :

استخدم محمد على سياسة الاحتكار في تنظيم الإقتصاد المصري في الزراعة والصناعة والتجارة ، وبهذا النظام ضمن محمد على دخول في سوق التجارة الدولية منافس غير من دول .

«الاحتكار» هو أن تقوم الحكومة ممثلة في محمد على بتحديد نوع الغلات التي تزرع ونوع المصنوعات التي تنتج وتحديد أثمان شرائها وأثمان بيعها في السوق .

* مجالات البناء الاقتصادي :

(١) الزراعة :

قام محمد على بإلغاء نظام الإلتزام وتوزيع الأرض على فلاحين كما إتبع سياسة زراعية تهدف الى توفير أكبر قدر من الدخل من الإنتاج الزراعي بوسائل متعددة أهمها :

- ١- إدخال أساليب وغللات زراعية جديدة
- ٢- إستقدام خبراء زراعيين من خارج وإنشاء مدرسة زراعية
- ٣- تحسين طرق الري وإنشاء عديد من قناطر على النيل أهمها القناطر الخيرية
- ٤- تزويد فلاحين بكل ما يلزم الزراعة من بذور ومواشي وأدوات زراعية

(٢) الصناعة :

قام محمد على بتطوير وتحديث الإنتاج الصناعي عن طريق :

- ١- إقامة مصانع حكومية مثل (الغزل ، نسيج ، ورق ، سكر ، الأسلحة) وغيرها
- ٢- الإستعانة بالخبرات الأجنبية في مختلف صناعات
- ٣- جمع صبية لعمل في مصانع الدولة بأجور رمزية فأصبحت بمثابة مدارس صناعية
- ٤- إرسال بعثات لخارج دراسة فنون الصناعة المختلفة وترجمة الكتب خاصة بها

«مظاهر الإحتكار في الصناعة :

إتبع سياسة تهدف إلى السيطرة على الإنتاج الصناعي وتوزيعه عن طريق :

- ١- إمداد صناع بامواد خام لازمة للصناعة
- ٢- شراء منتجات صناعية

(٣) التجارة :

أسباب نشاط التجارة الداخلية والخارجية في عهد محمد على :

- ١- نهوض الزراعة والصناعة
- ٢- الإستقرار الداخلي

«مظاهر الإحتكار في التجارة : عن طريق»

- ١- تسويق جميع حاصلات زراعية بعد شرائها وجمعها في مخازن الدولة
- ٢- بيع لتجار الاجانب في مصر
- ٣- بيع في خارج حساب حكومة مصرية
- ٤- إحتكار تجارة وارادات

(٤) النقل و المواصلات :

اهتم محمد على بتمهيد وتأمين طرق البرية والبحرية وبناء أسطول في البحرين الأحمر والمتوسط ، وحفر ترع وإصلاح موانئ مصرية ، وتطهير بحر الاحمر من قرصنة

❁ ثانيا : البناء الاجتماعي :

أثرت سياسة محمد على الاقتصادية في تشكيل وبناء القوى الاجتماعية في مصر ، حيث :

- ❖ انتهاء نفوذ مماليك كهيئة حاكمة وحل محلهم أسرة محمد على وبعض عناصر تركية
- ❖ تضاعف نفوذ علماء الأزهر وقيادات شعبية وظهرت طبقة الأعيان
- ❖ ظهرت طبقة عمال الصناعة واستمرار طوائف حرف كوسطاء للحكومة
- ❖ تدهور طبقة تجار
- ❖ ظهر بدو كقوة اجتماعية مستقرة

❁ ثالثا : التعليم والثقافة :

اهتم محمد على بالتعليم لحاجته إلى :

- ١- موظفين سد حاجة مصالح حكومية
- ٢- فنيين ومتخصصين في مختلف فروع خاصة سد حاجة جيش والأسطول



« جهود محمد على في التعليم والثقافة :

- ١- إنشاء مدارس حديثة مثل : (طب و زراعة و مهندسخانة)
- ٢- إرسال بعثات علمية إلى أوروبا (من أبرز أعضائها رافعة الطهطاوى وعلى باشا مبارك) لئلا أسهما في استمرار نهضة تعليمية بعد عودتهم من أوروبا)
- ٣- الإستعانة ببعض الأساتذة الأجانب لتدريس في مدارس عليا و مساهمة في ترجمة
- ٤- إنشاء مطبعة الأميرية في بولاق طبع كتب لازمة لمدارس ، و كتب الأدبية و فنية ، وإصدار صحيفة وقائع مصرية .

❁ رابعا : بناء القوة العسكرية :

« أدرك محمد على أن بناء قوة عسكرية هي دعامة الأساسية لتحقيق أهدافه وبناء دولة حديثة حيث كانت كافة مشروعات عمرانية و تعليمية بهدف سد حاجة جيش وبناء قوة عسكرية .

« مراحل إنشاء الجيش في عهد محمد على :

« إعداد الضباط :

- أنشأ محمد على عديد من مدارس عسكرية منها مدرسة عسكرية في أسوان
- استقدم هذه مدارس ضباطا ومعلمين ذوي خبرة إدارية من أوروبا كان أشهرهم أحد ضباط جيش نابليون وهو الكولونيل سيف

« إعداد الجنود :

- كانت بداية تجنيد سودانيين ثم إتجه بعد ذلك إلى تجنيد مصريين
- وقد أثبت مصريين كفاءتهم بالانتظام في تدريب وإطاعة الأوامر عسكرية وفي ميادين قتال خارجية

« الأسطول :

- اهتم محمد على بتأسيس ترسانة في بولاق ثم في الإسكندرية صناعة سفن حربية و تجارية وزودت ترسانة بحرية بكافة أنواع الأسلحة
- كما تم إعداد أماكن تدريب وتعليم بحارة و جنود على الأعمال البحرية

« مصانع الأسلحة والذخيرة :

📖 كيف اهتم محمد على بالتصنيع الحربي ؟

- ١- أنشأ ترسانة في القلعة لتصنيع الأسلحة والمدافع والبارود
- ٢- أنشأ القلاع للدفاع عن البلاد في الإسكندرية ورشيد ودمياط

❁ خامسا : البناء السياسي :

السياسة الداخلية

« عندما تولى محمد على الحكم بدأ في إعادة تنظيم الإدارة بما يكفل له السيطرة الكاملة على شئون البلاد عن طريق :

- ١- قسم مصر إلى سبع مديريات ، وأنشأ على رأس هذا نظام الإداري حكومة مركزية في القاهرة ومنها تصدر جميع الأوامر واجبة التنفيذ
- ٢- أنشأ عدة مجالس ودواوين تعاونه في تسيير شئون بلاد داخلية ومنها (ديوان عالى - مجلس مشورة)
- ٣- أصدرلائحة جديدة عام ١٨٣٧م لإعادة تنظيم الإدارة إلى سبع دواوين وحدد اختصاصاتها

السياسة الخارجية

« سعى محمد على إلى الانفصال عن دولة عثمانية والاستقلال بمصر

« مرت العلاقة بينه وبين السلطان العثماني بمرحلتين :

- أولا : مرحلة الاتفاق تمثلت في حروب بناء على طلب سلطان عثماني (في جزيرة عربية و يونان)
- ثانيا : مرحلة الاختلاف تمثلت في حروب بناء على رغبة محمد على شخصا (في السودان و شام)

❁ حروب محمد على :

١- حروب محمد علي في الجزيرة العربية (الحروب الوهابية)

- ↔ تاريخها : (١٨١١ - ١٨١٩ م)
- ↔ أسبابها : هدفت إلى القضاء على الدعوة الوهابية وذلك لتهديدهم نفوذ دولة عثمانية في جزيرة عربية
- ↔ نتائجها : انتهت بسيطرة على جزيرة عربية

٢- ضم السودان (مشروع محمد علي)

- ↔ تاريخها : (١٨٢٠ - ١٨٢٢ م)
- ↔ أسبابها : كان ذلك لأسباب سياسية واقتصادية وعسكرية
- ↔ نتائجها :
- ١- أدى إلى امتداد نفوذ مصري إلى جنوب السودان
- ٢- إنشاء عاصمة الخرطوم
- ٣- إكتشاف منابع النيل

٣- حروب اليونان :

- ↔ تاريخها : (١٨٢١ - ١٨٢٨ م)
- ↔ أسبابها : هدفت إلى القضاء على ثوار يونان في مورة والذين طالبوا بالاستقلال عن دولة عثمانية
- ↔ نتائجها :
- ١- إنتهت بهزيمة جيش مصري
- ٢- تحطيم الأسطول مصري في موقعة نفاارين (١٨٢٧ م)
- ٣- ضم جزيرة كريت ولاية مصر
- ٤- علو مكانة مصر دوليا حيث تفاوضت دول الأوروبية مع محمد علي مباشرة لتوصل إلى اتفاقية لإنهاء حرب (١٨٢٨ م) مما ساعد على نمو فكرة الانفصال عن دولة عثمانية وتحقيق إستقلال مصر

٤- حروب الشام الأولى والثانية :

- ↔ تاريخها : (١٨٣١ - ١٨٣٩ م)
- ↔ أسبابها :
- ١- توتر علاقات بين محمد علي سلطان عثماني بسبب تفاوض محمد علي مع قوى الأوروبية تأمين انسحاب جيش مصري من مورة دون الرجوع لسلطان
- ٢- تصميم محمد علي على الانفصال والاستقلال بمصر
- ↔ نتائجها :
- ١- وصلت قوات مصرية إلى الشام وأعلى فترات
- ٢- إمتداد نفوذ مصري في بلاد الشام

* تدخل الدول الأوروبية :

- أثارت انتصارات محمد علي وتهديده لسلطان عثماني دول الأوروبية خشية إزدياد نفوذ محمد علي وقوته وما تمثله من خطر على توازن دولي
- إذا تدخلت دول الأوروبية في مفاوضات مع سلطان عثماني فرض ما تراه من شروط على محمد علي إنتهت بمعاهدة لندن الدولية عام (١٨٤٠ م) والتي إضطر محمد علي إلى قبول شروطها
- ↔ شروط معاهدة لندن ١٨٤٠ م :
- ١- إعادة بلاد الشام و الجزيرة العربية إلى سلطان عثماني
- ٢- تثبيت محمد علي في حكم مصر وإعلان خضوعه لسلطان عثماني
- ↔ فرمان يونيو ١٨٤١ م :

- ↔ في يونيو ١٨٤١ م أصدر سلطان عثماني فرمانا يقضى بحق وراثه مصر لأكبر أبناء محمد علي ذكور سنا
- ↔ ثم أصدر سلطان عثماني فرمانا آخر بولاية محمد علي على السودان في نفس العام

فرمان : أمر سلطاني يصدره السلطان العثماني واجب التنفيذ

الأسئلة

س١: ضع علامة (✓) أو علامة (×) :

- ١- انتهى صدام بين دولتين صفوية وعثمانية بهزيمة سلطان سليم الاول
- ٢- تم اكتشاف طريق رأس الرجاء ص١٨٩٤م
- ٣- تعرضت دولة ممليك تدهور اقتصادي نتيجة لاكتشاف طريق رأس الرجاء ص١٨٩٤م
- ٤- هُزمت جيوش طومان باي في موقعة مرج دابق
- ٥- أصيب عام١٨٠٧م في عصر عثماني بجمود
- ٦- تعد حملة فرنسية على مصر و شام جزء من صراع الاستعماري بين إنجلترا وفرنسا
- ٧- علم جنود حملة فرنسية في ميناء طون باتجاه أسطوهم في مصر
- ٨- واجه أهالي الاسكندرية حملة فرنسية بزعمارة سيد محمد كريم
- ٩- استخدم ممليك مدافع ومعدات حديثة في مواجهة قوات فرنسية
- ١٠- قضت موقعة أبي قير بحرية على آمال فرنسا في سيطرة على سواحل بحر متوسط
- ١١- استطاعت قوات فرنسية إخضاع أهالي صعيد
- ١٢- تم اختيار محمد علي ويا على مصر بعد عزل خورشيد باشا
- ١٣- تنكر محمد علي لزعمارة شعبية رغبته في الانفراد بحكم مصر
- ١٤- جاءت حملة فريزر على مصر عام ١٨٠٧ م
- ١٥- نفى محمد علي زعيم محمد كريم في دمايط عام ١٨٠٩ م
- ١٦- تخلص محمد علي من ممليك في مذبحه قلعة عام ١٨٠٠ م
- ١٧- تولى محمد علي حكم مصر بارادة شعب قبل موافقة سلطان
- ١٨- أثرت سياسة محمد علي الاقتصادية في تشكيل وبناء قوى الاجتماعية
- ١٩- زاد نفوذ علماء الازهر وقيادات شعبية في عهد محمد علي
- ٢٠- أنشأ محمد علي مدارس حديثة مثل طب ومهندسخانه
- ٢١- اهتم محمد علي بارسال بعثات علمية إلى أوروبا
- ٢٢- أدرك محمد علي أن بناء قوة عسكرية هي دعامة الأساسية لتحقيق أهدافه
- ٢٣- أنشأ محمد علي ترسانة بحرية في أسوان صناعة سفن
- ٢٤- دخل محمد علي حروب شام بناء على طلب سلطان عثماني
- ٢٥- هدفت حروب يونان قضاء على حركة وهابية

س٢: أكمل ما يأتي :

- ١- اتجه سلطان سليم الاول في توسعته نحو شرق واصطدم بدوتى و.....
- ٢- استطاع سلطان عثماني هزيمة صفويين في موقعة عام ١٥١٤م
- ٣- تدهورت دولة ممليك بعد اكتشاف طريق عام
- ٤- خضعت مصر لحكم عثماني قرون
- ٥- استطاع سلطان عثماني هزيمة سلطان مملوكى في موقعة عام ١٥١٦م
- ٦- قاد سلطان ممليك في موقعة ريديانية عام ١٥١٧م
- ٧- أصبحت مصر ولاية عثمانية منذ عام
- ٨ - تراوحت مدة بقاء بين سنوات
- ٩- بدأ تنافس الاستعماري بين إنجلترا وفرنسا على مستعمرات في قرن ميلادي
- ١٠- أبحرت قوات حملة فرنسية من ميناء سرا
- ١١- تقطعت قوات حملة فرنسية بقوات ممليك بقرب من في بحيرة

- ١٢- اعتمد مماليك في حربهم مع الفرنسيين على بينما استخدم الفرنسيون
- ١٣- أغرق الأسطول البريطاني بقيادة الأسطول في معركة
- ١٤- اتبع أبناء الصعيد حرب مقاومة قوات حملة فرنسية
- ١٥- عاد نابليون سراي فرنسا وترك قيادة حملة في مصر نائبه
- ١٦- بعد أن أدرك كليبر استحالة بقاء حملة في مصر تفاوض مع وعقد معاهدة عام ١٨٠٠م
- ١٧- من أعمال علماء حملة فرنسية في مصر تأليف كتاب واثور على
- ١٨- وجهت حملة فرنسية أنظار دول أوروبا وخاصة لأهمية موقع مصر الجغرافي والإستراتيجي
- ١٩- تصارع على حكم مصر بعد خروج حملة فرنسية و..... و.....
- ٢٠- نظم محمد علي الاقتصاد المصري على أساس
- ٢١- من أهم مشاريع الري التي أنشأها محمد علي
- ٢٢- أدت سياسة محمد علي إلى إنتهاء نفوذ كهيئة حاكمة وحل محلها
- ٢٣- أنشأ محمد علي عدة مجاس ودواوين منها و.....
- ٢٤- تحطم الاسطول المصري في موقعة عام ١٨٢٧م
- ٢٥- أضطر محمد علي إلى قبول شروط معاهدة عام ١٨٤٠م

س٣ : بم تفسر :

- ١- تدهور دولة مماليك مع بداية قرن السادس عشر ميلادي
- ٢- اتجاه سليم الأول بجيوشه نحو الشرق
- ٣- تدهور زراعة في مصر في عهد دولة عثمانية
- ٤- كساد تجارة داخلية وخارجية في مصر في عصر عثماني
- ٥- هزيمة مماليك أمام عثمانيين في مصر و الشام
- ٦- حمل حكم عثماني في ثناية عوامل ضعف
- ٧- فشل حركة على بك الكبير
- ٨- مجئ حملة فرنسية على مصر ١٧٩٨م
- ٩- اصطحاب نابليون مجموعة من علماء في حملته على مصر
- ١٠- هزيمة مماليك في أكثر من موقعة أمام الفرنسيين
- ١١- كانت موقعة أبو قير بحرية نقطة تحول مهمة بالنسبة لحملة فرنسية في مصر
- ١٢- فشل قوات فرنسية في سيطرة على الصعيد
- ١٣- قيام ثورة القاهرة الأولى عام ١٧٩٨م
- ١٤- قيام نابليون بوناپرت بحملته على الشام ١٧٩٩م
- ١٥- فشل نابليون في دخول عكا
- ١٦- عودة نابليون إلى فرنسا سرا
- ١٧- كان كليبر يرى استحالة بقاء حملة فرنسية في مصر
- ١٨- م يتم تنفيذ اتفاقية عريش يناير ١٨٠٠م
- ١٩- حملة فرنسية على مصر بداية الاستعمار الأوروبي عليها
- ٢٠- إنشاء نابليون بوناپرت دواوين
- ٢١- ثورة شعب مصري عام ١٨٠٤م
- ٢٢- فرمان سلطان عثماني بنقل محمد علي عام ١٨٠٦م
- ٢٣- ارسال انجلترا حملة فريزر على مصر عام ١٨٠٧م
- ٢٤- اصرار محمد علي لقضاء على زعامة شعبية
- ٢٥- نشاط تجارة داخلية وخارجية في عهد محمد علي
- ٢٦- اهتمام محمد علي بالتعليم
- ٢٧- انشاء محمد علي مطبعة الأميرية في بولاق
- ٢٨- اهتمام محمد علي ببناء قوة عسكرية
- ٢٩- حروب محمد علي في جزيرة عربية
- ٣٠- دخول محمد علي حروب يونان
- ٣١- تدخل دول الأوروبية أمام انتصارات محمد علي على سلطان عثماني

س٤ : ما النتائج المترتبة عن :

- ١- اكتشاف البرتغاليين طريق رأس الرجاء الصالح
- ٢- هزيمة الصفويين أمام السلطان عثمانى سليم الاول عام ١٥١٤م
- ٣- هزيمة مماليك في موقعة ريدانية سنة ١٥١٧م
- ٤- إهمال عثمانيين الحياة الفكرية والثقافية في مصر
- ٥- موقعة مرج دابق ١٥١٦م
- ٦- وجود نظام الالتزام في عهد عثمانيين في مصر
- ٧- انحياز محمد ابودهب لسلطان عثمانى ضد قائده على بك الكبير
- ٨- تزويد حملة فرنسية بمجموعة من العلماء
- ٩- هزيمة مماليك في موقعة إمبابية على يد فرنسيين
- ١٠- موقعة أبى قير بحرية عام ١٧٩٨م
- ١١- حصار الأسطول الانجليزى شواطئ مصر شمالية أثناء حملة فرنسية
- ١٢- ثورة القاهرة الأولى ١٧٩٨م
- ١٣- قيام نابليون بارتكاب مذبحه يافا بشرية
- ١٤- رفض الإنجليز اتفاقية عريش ١٨٠٠م
- ١٥- ثورة القاهرة الثانية مارس ١٨٠٠م
- ١٦- عثور فرنسيين على حجر رشيد
- ١٧- تدهور علاقة بين انجلترا والسلطان عثمانى عام ١٨٠٧م
- ١٨- مذبحه قلعة مارس ١٨١١م
- ١٩- ضم محمد على لسودان
- ٢٠- دخول محمد على حروب يونان

س٥ : اكتب ما تشير إليه العبارات التالية :

- ١- رفض شعوب الاحتلال ومظاهرة ودفعه عن بلاد بمختلف وسائل
- ٢- رحيل قوات الاحتلال عن بلد محتل
- ٣- وجهت أنظار دول الاوربية الى أهمية موقع مصر الجغرافى
- ٤- عمل قام به محمد على سنة ١٨١١م مما ساعده على الانفراد بسلطة
- ٥- إحدى المنشآت التى أنشأها محمد على على النيل توفير مياه لرى
- ٦- نظام طبقه محمد على لسيطرة على الإقتصاد مصرى
- ٧- أمر سلطانى يصدره السلطان عثمانى واجب تنفيذ

س٦ : ماذا يحدث اذا :

- ١- لم تتحول تجارة شرق الى رأس الرجاء الصالح
- ٢- انهزمت قوات عثمانية في موقعة مرج دابق
- ٣- انتصر طومان باى في معركة ريدانية عام ١٥١٧م
- ٤- نجحت حركة على بك الكبير
- ٥- لم ينحاز محمد بك ابودهب لسلطان عثمانى ضد سيده على بك الكبير
- ٦- لم يطبق نظام الالتزام في مصر
- ٧- انتصر الأسطول الفرنسى على الاسطول الإنجليزى في موقعة أبى قير بحرية
- ٨- نجح نابليون في دخول عكا

س٧ : قارن بين :

- ١- موقعة جديران وموقعة ريدانية من حيث (تاريخ - الأطراف - نتائج)
- ٢- حياة ثقافية في عهد عثمانى وفي عهد محمد على
- ٣- موقعة أبوقير بحرية وموقعة أبوقير برية من حيث (تاريخ - الأطراف - نتائج)
- ٤- ثورة القاهرة الأولى وثورة القاهرة الثانية من حيث (تاريخ - نتائج)

الوحدة الرابعة : مصر والزحف الاستعماري ومحاولات التحرر الوطني

الدرس الأول : خلفاء محمد علي وازدياد النفوذ الأجنبي

← **تولى محمد علي حكم مصر خلال (١٨٠٥ : ١٨٤٨ م) ، ثم تعاقب على الحكم :**
 لـ إبراهيم باشا (١٨٤٨ م) لعدة شهور
 لـ سعيد باشا (١٨٥٤ : ١٨٦٣ م)
 لـ الخديو توفيق (١٨٧٩ : ١٨٩٢ م)

← لم يكن خلفاء محمد علي مثله من حيث القوة والوعي ، ولم يثبتوا كفاءتهم في الحكم ، ولم يمتلكوا كفاءة لازمة لمواجهة تدخل غربي ، ذلك أفلت زمام الأمور من أيديهم ، واختلفوا في ميولهم كل من فرنسا وبريطانيا والدولة العثمانية على حساب استقلال مصر .



أولاً : عصر عباس باشا الأول (١٨٤٨ : ١٨٥٤ م)

← **تولى عباس باشا الأول حكم مصر في نوفمبر ١٨٤٨م .**
 ← في عصره توقفت حركة النهضة التي ظهرت في عصر محمد علي حيث : أغلقت معظم المدارس ، ومعظم مصانع ، وتم تخفيض حجم جيش ، وعطلت أعمال ترسانة بحرية .
 ← **من الأعمال القليلة التي تمت في عهد عباس باشا الأول :**

- إصلاح طريق برى بين القاهرة والسويس .
- بدء في إنشاء أول خط حديدي بين القاهرة والإسكندرية عام ١٨٥٢م .



ثانياً : عصر سعيد باشا (١٨٥٤ : ١٨٦٣ م)

← **تولى سعيد باشا حكم عقب وفاة عباس الأول عام ١٨٥٤م**

أهم أعمال سعيد باشا : أ- الزراعة :

📖 **بم تفسر : إهتم سعيد باشا بإصلاح أحوال الفلاحين ؟**

- ١- أصدر في أغسطس ١٨٥٨م ماعرف بإسم اللائحة السعيدية (ما النتائج) ترتب عليها أن أصبح لـ فلاح حق في توريث الأرض الزراعية .
- ٢- إهتم بتطهير ترعة محمودية تفي بحاجة الري والزراعة .

ب- النقل والمواصلات :

📖 **بم تفسر : إهتم سعيد باشا بالنقل والمواصلات ؟**

- ١- أتم سعيد باشا الانتهاء من خط حديدي بين القاهرة والإسكندرية .
- ٢- أنشأ خطاً حديدياً من القاهرة إلى السويس .
- ٣- مد خطوط تلغرافية على طريقة حديثة بين الإسكندرية وقاهرة والسويس .

ج- التعليم :

📖 **بم تفسر : إستمّر في عهد سعيد باشا الجمود الذي أصاب التعليم في عهد عباس ؟**

حيث أغنى ديوان مدارس ولكنه شجع بعثات الأجنبية في مصر على فتح مدارس بها بالقاهرة والإسكندرية .

د- الجيش والبحرية :

📖 **ما الدليل على : بذل سعيد باشا جهداً كبيراً للنهوض بالجيش والبحرية ؟**

- ١- جعل خدمة عسكرية إجبارية لجميع وقصيرة مدة سنة واحدة .

٢- فتح سعيد باشا باب ترقى أمام ضباط مصريين.

٣- وجه عنايته بإثرائة بحرية فشرع فى إصلاح سفن وتجديد الأسطول.

★ ه- القروض الأجنبية :

- شهد عصر سعيد باشا بدايات تدخل الأجنبي في مصر عندما إعتد على رؤوس الأموال الأجنبية.
- بدأت الأزمة المالية فى عهده عن طريق الإستدانة من بيوت المالية الأوربية فعقد فى عام ١٨٦٢م أول قرض مع أحد بنوك بريطانيا.
- اندفع سعيد باشا بعد ذلك فى طريق الاستدانة فلجأ لمرابين يستدين منهم مقابل سندات على حساب خزانة مصرية.



★ و- إمتياز قناة السويس :

« عقد الإمتياز الأول :

تاريخه : نوفمبر ١٨٥٤م.

أصدره : سعيد باشا فرديناند ديليبس (فرنسى).

نصوصه : يقضى بمنح ديليبس إمتياز تأسيس شركة عامة حفر قناة السويس وإستثمارها مدة ٩٩ سنة ابتداءً من تاريخ فتح قناة لملاحة.

« عقد الامتياز الثانى :

تاريخه : يناير ١٨٥٦م.

أصدره : سعيد باشا فرديناند ديليبس.

نصوصه : جاء مجحفاً (ظمًا) حقوق مصر ومصريين .

« أهم شروط إمتياز حفر قناة السويس :

- (١) منحت حكومة مصرية شركة إمتياز حفر قناة السويس وحفر ترعة مياه صالحة لملاحة نيلية (ترعة الإسماعيلية) ، وإنشاء فرعين لرى وشرب يستمدان مياههما من ترعة الإسماعيلية
- (٢) يكون أربعة أخماس عمال (٨٠ %) من مصريين وكان ذلك إزاما على حكومة مصرية لشركة
- (٣) تتنازل حكومة لشركة مجاناً عن جميع الأراضى المملوكة لها المطلوبة لإنشاء قناة ملاحية وترعة مياه عذبة.
- (٤) مدة الامتياز ٩٩ سنة تبدأ من افتتاح قناة لملاحة بحرية بعدها تعود قناة مصر .
- (٥) لشركة حق فى فرض ما تشاء من رسوم على سفن تى تمر فى قناة بحرية أو ترعة عذبة.
- (٦) تحصل مصر مقابل الأراضى والامتيازات الممنوحة لشركة على ١٥% من صافى الأرباح .
- (٧) اشترط صحة الامتياز أن يصدق عليه سلطان عثمانى .



ثالثاً : عصر الخديوى إسماعيل (١٨٦٣ : ١٨٧٩)م

↳ يعتبر عصر إسماعيل أزهى فترات وأكثرها تقدماً وعمراناً فى تاريخ مصر الحديث بسبب وجود نهضة وإصلاح فى مجالات كثيرة.

✻ مظاهر النهضة والإصلاح فى عهد إسماعيل :

★ ١- مجال الزراعة والرى :

- ١- زادت مساحة الأراضى الزراعية
- ٢- تم حفر العديد من ترع مثل ترعة الإبراهيمية .
- ٣- أنشئت قناطر على النيل ، وتم إصلاح قناطر خيرية.

★ ٢- مجال الصناعة :

- ١- عاد نشاط كثير من مصانع التى كانت تعمل فى عهد محمد على
- ٢- توسع إسماعيل فى إنشاء مصانع سكر وإواجه قبل.

★ ٣- التعليم والنهضة العلمية :

📖 ما الدليل على : أوجد إسماعيل نهضة علمية حقيقية فى البلاد ؟

- ١- أعاد فتح ديوان مدارس (وزارة التربية والتعليم حيا)
- ٢- توسع فى إنشاء مدارس بمختلف أنواعها.

٣- أنشأ دار الكتب ودار الرصد بعباسية ومصلحة الإحصاء ومساحة

٤- أنشأ جمعية جغرافية عام ١٨٧٥م.

٤- الجيش والبحرية :

اهتم خديوى إسماعيل بـ جيش وتنظيمه وتسليحه ومضاعفة قوته ، كما اهتم بنهضة تعليم بحرى

٥- الأعمال العمرانية :

شهد عصر إسماعيل نهضة عمرانية عظيمة دلل ؟

١- أنشئت دار الأوبرا وأقيمت جسور وكبارى مثل كوبرى قصر النيل بـ القاهرة

٢- تم بناء عدد من قصور معروفة الآن منها (قصر عابدين)

اهتم إسماعيل بوسائل الإتصال ... كيف ؟ كمد خطوط تلغرافية بين مختلف محافظات مصر ، كما

أنشئت مصلحة بريد مصرية بها مكاتب فى الإسكندرية والقاهرة والأقاييم

٦- تأسيس مجلس شورى النواب :

عرفت مصر هيئات شبه نيابية حين تأسس "مجلس شورى نواب" عام ١٨٦٦م والذي يعتبر بداية تاريخ مؤسسات نيابية فى مصر حديثة

عرفت مصر فى عصر خديو إسماعيل أيضاً نظام "وزارة مسئلة" عام ١٨٧٨م

وضعت مصر "لائحة أساسية" كأول دستور عرفته مصر بهدف إقامة حياة دستورية سليمة ، وإن كان تدخل دول الأوروبية قد أعاق هذه التطورات الدستورية.

٧- إمتداد النفوذ المصرى :

لماذا : وجه إسماعيل عدة حملات حربية إلى الأقاليم الإستوائية فى أفريقيا ؟

ج : منع تجارة الرقيق ، والتوسع فى الجنوب ، وسيطرة على مياه النيل

وقد وصل نفوذ مصرى إلى ساحل بحر الأحمر بكامله فى عام ١٨٧٥م

الأزمة المالية وازدياد التدخل الأجنبي فى مصر

رغم من مميزات عهد إسماعيل فإن فترة حكمه تعد حقبة من أخطر ما تعرضت لها بلاد من تدخل أجنبى فى شئون مصر بسبب الأخطاء التى أدت إلى تدهور مركز مصر مما أدى وما تبعه إنقيار استقلالها سياسى . كورث خديو إسماعيل دولة مقيدة فى سيادتها بالدولة العثمانية ، كما أدت سياسته إلى زيادة تدخل الأجنبى وحدث أزمة مالية فى مصر .

عوامل الأزمة المالية :

(١) سياسة الاقتراض :

- اتبع خديو إسماعيل سياسة الاقتراض لوفاء بالتزاماته ومشروعاته.

(٢) افتتاح قناة السويس :

- أقام خديو إسماعيل العديد من حفلات لافتتاح قناة فى ١٧ نوفمبر ١٨٦٩م.

- دعا إليها ملوك أوروبا وملكانها وأنفق ببذخ على هذه الاحتفالات مما أدى إلى ازدياد حدة الأزمة المالية.

(٣) علاقة الخديو إسماعيل بالدولة العثمانية :

اعتمد خديو إسماعيل فى علاقته مع سلطان عثمانى على تقديم مال وإهدايا لسلطان عثمانى وحاشيته يحصل على فرمانات تى يوسع بها نطاق حكمه ، ويجعل وراثته عرش فى أكبر أبنائه ، وزيادة عدد جيش مصرى وغيرها من فرمانات .

(٤) الامتيازات الأجنبية :

- منحت الدولة العثمانية رعايا بعض دول الأوربية العديد من الامتيازات تشجيعاً لهم على الإقامة والتجارة واستثمار أموالهم ، مع تعهد الدولة العثمانية بمحافظتها على أموالهم وأرواحهم وممتلكاتهم ، وإعطائهم حق الرجوع إلى قناصلهم فى شئونهم التجارية والشخصية ومنازعاتهم المدنية.

أدت الامتيازات الأجنبية إلى:

١- ازدياد الأزمة المالية فى مصر

٢- ازدياد التدخل الأجنبى فى البلاد

الامتيازات الأجنبية : هي تسهيلات منحتها الدولة العثمانية لرعايا الدول الأجنبية تشجيعاً

لهم على الإقامة والتجارة واستثمار أموالهم مقابل حماية أموالهم وأرواحهم وممتلكاتهم.

مظاهر ازدياد التدخل الأجنبي

كأدت سياسة إسماعيل إلى زيادة تدخل الأجنبي في شئون مصر المالية والذي يتمثل في :

« المحاكم القنصلية :

- كانت تختص في فصل في منازعات بين الأجانب وبمرور الوقت زاد نفوذ قناصل الأجانب وظهرت عيوب محاكم قنصلية

« عيوب المحاكم القنصلية :

(١) أصبحت محاكم قنصلية تنظر في جرائم التي يرتكبها رعايا الأجانب ضد مصريين ومصريين وحكومة

(٢) كانت الأحكام لا تستأنف إلا في الخارج مما أدى إلى تنازل مصريين عن حقوقهم.

« المحاكم المختلطة :

بم تفسر: قيام إسماعيل بإنشاء المحاكم المختلطة ١٨٧٥؟ ج : للحد من مساوئ المحاكم القنصلية .

كانت محاكم مختلطة تتولى فصل في قضايا مدنية ومنازعات عقارية بين الأجانب ومصريين ، وفصل في منازعات بين الأجانب وحكومة مصرية نفسها .

« مساوئ المحاكم المختلطة :

١- كانت تضم قضاة مصريين وأجانب وكان رئاستها لأجانب فأدى إلى تدخلهم في سلطة قضاء تشريعي.

٢- كانت تتحاز إلى الأجانب وأمتنحت حقوق مصريين .

« بعثة كيف cave (ديسمبر ١٨٧٥ م) :

- عرض إسماعيل على بريطانيا إيفاد موظف كف دراسة أسباب سوء الأوضاع المالية في مصر وتقديم

مقترحات حلها ، إستجابت بريطانيا وأرسلت بعثة برئاسة (المستر كيف) واقترحت البعثة :

- إنشاء إدارة لمراقبة مالية يرأسها موظف انجليزي .
- ألا يعقد خديوى قرض مالم توافق عليه إدارة رقابة مالية .

« صندوق الدين (مايو ١٨٧٦ م) :

- أصدر خديوى إسماعيل مرسوماً بإنشاء صندوق دين وهو بمثابة خزانة فرعية لخزانة مصرية .

- كان يتولى تسليم مبالغ مخصصة لديون من مصاح مختلفة والإشراف على تسديدها لأصحابها .

- تولى إدارة صندوق مندوبون أجانب تنتدبهم دول دائنة .

« المراقبة الثنائية (نوفمبر ١٨٧٦ م) :

- إقترحت دول الأوروبية فرض رقابة الأوربية على المالية مصرية .

- إضطرت خديوي إسماعيل إصدار مرسوم في نوفمبر ١٨٧٦م بتعيين مراقبين أجنيين على المالية مصرية .

- كان إحداهما مراقب بريطاني ومراقبة الإيرادات والثاني فرنسي مراقبة مصروفات ، وعرف هذا نظام مراقبة ثنائية

« لجنة التحقيق العليا الأوربية (يناير ١٨٧٨ م) :

- زادت الأمور المالية في مصر سوءاً وإرتباكاً مما أدى مطالبة رقيبان بإنشاء لجنة دولية لتحقيق في جميع

شئون المالية والإدارية ، إستجاب إسماعيل وأصدر مرسوماً بتأليف اللجنة وموافقة على مطالبها وأهمها :

« تنازل خديو عن سلطته المطلقة وزارة مسئولة عن حكم البلاد

« تنازل خديو عن أطيانه وأطيانه عائلته ووضعها تحت رقابة دولية مقابل مخصصات مالية تصرفهم

« الوزارة المختلطة (أغسطس ١٨٧٨ م) :

- بناء على اتفاق حكومتين بريطانية وفرنسية ، أصدر إسماعيل مرسوماً بتأليف وزارة مسئولة برئاسة

نوبار باشا .

- كان بها وزيران أجنيان أحدهما بريطاني ووزارة المالية والآخر فرنسي وزارة الأشغال .

« اللائحة الوطنية وعزل الخديوي إسماعيل :

- عارضت حركة وطنية الوزارة مختلطة ، مما شجع إسماعيل عزل وزيرين الأجنيين عن

الوزارة ، وأصدر مرسوم في أبريل ١٨٧٩م بتسوية ديون طبقاً ما قرره لائحة وطنية مما أدى إلى :

تدخل الحكومتين البريطانية وفرنسية و ضغط على سلطان عثماني فأصدر فرمانا بخلع خديو إسماعيل وتولية ابنه توفيق في يونيه ١٨٧٩م.

الدرس الثاني : الحركة الوطنية والثورة العربية



الخديو توفيق وإردياد التدخل الأجنبي

- تولى الخديوي توفيق حكم خلف والده خديوي إسماعيل بعد عهده في يونيه ١٨٧٩م
- أدرك توفيق منذ بداية مدى قوة وتسلط نفوذ الأجنبي في مصر
- إتخذ توفيق سياسة أدت إلى زيادة تدخل الأجنبي في شئون بلاد


« سياسة الخديوي توفيق :

- ١- إعادة نظام مراقبة ثنائية
- ٢- رفض لائحة الأساسية "دستور" مجلس نواب
- ٣- وضع نفسه تحت حماية إنجلترا وفرنسا بإسناد وزارة إلى رياض باشا (معروف بميوله لأجانب)

الثورة العربية

♥ أسباب الثورة العربية :

- ١- إزدیاد تدخل الأجنبي في شئون مصر نتيجة لقروض وفقدان مصر نصيبها من أسهم شركة قناة السويس
- ٢- مؤثرات فكرية غربية التي أدت إلى نمو الوعي القومي وتطورت إلى المطالبة بدستور وحكم نيابي
- ٣- سوء أحوال مصر الاقتصادية في وزارة رياض باشا
- ٤- إضطهاد عثمان رفقي باشا لضباط مصريين وعدم ترقيتهم



♥ المراحل التي مرت بها الثورة العربية :

* حادثة قصر النيل : (منتصف يناير ١٨٨١م)

- « أسبابها : تقديم أحمد عرابي وزملائه شكوى إلى مجلس وزراء طابوا فيها بإقالة عثمان رفقي ناظر جهادية (وزير حربية)
- « أحداثها : أمر خديوي توفيق بإقبض عليهم وتقديمهم لمحاكمة أمام مجلس عسكري وتم اعتقالهم في سجن قصر النيل .

« نتائجها :

- ١- تحرك رجال جيش إلى قصر النيل وأخرجوا أحمد عرابي وزملائه بقوة
- ٢- استجاب خديوي توفيق لمطالبهم فعزل "عثمان رفقي" وعين "محمود سامي البارودي" بدلاً منه وزيراً لجهادية

* مظاهرة عابدين : (٩ سبتمبر ١٨٨١م)

« المكان : ساحة ميدان عابدين

« الأحداث : خرج أحمد عرابي على رأس جيش ومعه الآلاف من وطنيين إلى ساحة ميدان عابدين في مظاهرة شعبية وطنية أبرزت مدى مؤازرة شعب عرابي وزملائه تقديم مطالب الأمة ، نزل خديوي توفيق إلى ميدان وبرفته بعض ضباط الأتراك وقنصل بريطاني ومراقب إلى بريطاني

« مطالب الشعب التي قدمها أحمد عرابي للخديوي توفيق في ٩ سبتمبر ١٨٨١م :

- ١- إسقاط الحكومة المستبدة برئاسة رياض باشا
- ٢- تشكيل مجلس نواب على النسق الأوروبي
- ٣- زيادة عدد الجيش إلى ١٨٠٠٠ جندي

« ما النتائج المترتبة على المظاهرة العسكرية في ٩ سبتمبر ١٨٨١م ؟

- ١- إضطّر الخديوي أن يوافق على مطالب الأمة والجيش
- ٢- عزل وزارة رياض باشا وأسند الوزارة إلى شريف باشا

☆ وزارة شريف باشا :

- أجريت الإنتخابات مجلس نواب جديد في ١٨٨١م
- عرض شريف باشا على مجلس نواب اللائحة الأساسية (دستور)

﴿ **بم تفسر : الخلاف بين شريف باشا ومجلس النواب ؟ ج : لأن اللائحة الأساسية لم تتضمن حق المجلس في مناقشة الميزانية ، فقد كان شريف باشا يرى تأجيلها لتجنب الإصطدام بالدول الأوربية ، مما أثار الجدل بين شريف باشا والمجلس** ﴾

☆ المذكرة المشتركة الأولى (يناير ١٨٨٢م) :

- ﴿ **أسبابها :** رغبة بريطانيا وفرنسا تقوية مركز خديو في مواجهة حركة وطنية .
- ﴿ **أحداثها :** أرسلتا بريطانيا وفرنسا في يناير ١٨٨٢م " مذكرة مشتركة الأولى " التي نصت على (رغبتهما صريحة في حل مجلس نواب وتأييدهما تام موقف خديوي ومساندته ضد حركة وطنية)
- ﴿ **نتائجها :** اضطر شريف باشا للإستقالة لإصرار مجلس نواب على مناقشة ميزانية
- ﴿ **تولى** محمود سامي بارودي رئاسة وزارة

☆ وزارة البارودي (وزارة الثورة) فبراير ١٨٨٢م :

- أسند بارودي وزارتنا جهادية و بحرية إلى أحمد عرابي .
- ﴿ **دور وزاره البارودي :** أصدرت اللائحة الأساسية " دستور " ونصت على مبدأ مسؤولية وزارة أمام مجلس نواب ، وحق مجلس في مناقشة ميزانية وإقرارها

☆ مؤامرة الضباط الشراكسة :

- ﴿ **قام بها :** ضباط شراكسة
- ﴿ **هدفها :** إغتيال عرابي وضباط وطنيين والإطاحة بوزارة جديدة (وزارة بارودي)
- ﴿ **نتائجها :** كشفت وزارة مؤامرة وأدى ذلك إلى محاكمة مشتركين ، وحكم عليهم بالنفي إلى أقاصي السودان كن خديوي رفض تصديق على حكم مما أدى إلى زيادة التوتر بين وزارة وخديوي

☆ المذكرة المشتركة الثانية (مايو ١٨٨٢م) :

- ﴿ **أسبابها :** تدخل بريطانيا وفرنسا مرة ثانية مساندة خديوي أمام عسكريين
- ﴿ **أحداثها :** أرسلت بريطانيا وفرنسا قطعاً من أسطو هما إلى الإسكندرية كما أرسلت دوتين مذكرة مشتركة ثانية في مايو ١٨٨٢م تطالبان فيها ب (إقالة بارودي وإبعاد عرابي وزملائه خارج بلاد) .
- ﴿ **نتائجها :** موافقة خديو وإستقالة وزارة بارودي احتجاجاً على مذكرة مشتركة ثانية

الاحتلال البريطاني لمصر

☆ حوادث الإسكندرية (١١ يونيو ١٨٨٢م) :

- ﴿ **أسبابها :** - حدوث خلاف عادي بين أحد رعايا الأجانب وأحد الأهالي
- تطور نزاع إلى نشوب معركة بين الأهالي وبعض رعايا من الأجانب
- ﴿ **نتائجها :** ما النتائج التي ترتبت على حوادث الإسكندرية ؟

إحتلال : الإستيلاء على أرض الغير بالقوة

- ١- وقوع عدد من قتلى من جانبين
- ٢- اجتماع قناصل دول الأجنبية بالإسكندرية
- ٣- سافر خديو إلى الإسكندرية بحجة تهدئة الأوضاع
- ٤- كلف خديوي توفيق " **راغب باشا** " بتأليف وزارة جديدة في ٢٠ يونيو ١٨٨٢م بعد أن ظلت بلاد بلا وزارة مدة أسبوعين

☆ مؤتمر الأستانة :

- إجتمع ممثلو دول عظمى بالأستانة على هيئة مؤتمر (ماذا) لنظر في مسألة مصرية
- ﴿ **نتائجه :** ١- قرر أعضاء مؤتمر أن ترسل تركيا قوة لإعادة الأمن والنظام في مصر
- ٢- عدم تدخل دول الأجنبية منفردة تجاه مسألة مصرية

☆ الإحتلال البريطاني لمصر :

- كانت بريطانيا تستعد ضرب مدينة الإسكندرية بقناصل تمهيداً لإحتلال مصر
- ﴿ **وتم ذلك على النحو التالي :** - أرسل قائد الأسطول البريطاني إنذار لحكومة مصرية يطلب فيه تسليم بعض مدافع منصوبة في حصون على ساحل الإسكندرية ، وقد رفضت حكومة مصرية هذا الإنذار

- أعطى قائد بريطاني إشارة ببداية ضرب في ١٨٨٢م واستمر ضرب عدة أيام
- رغم دفاع أهل مدينة الإسكندرية وجنود مصريين عنها ، إلا أن قوات بريطانية نزلت في شواطئ مدينة الإسكندرية وقرر خديوى توفيق عدم مغادرة قصر رأس تين هو وأسرته
- قرر عرابيون ترك الإسكندرية والانسحاب إلى كفر الدوار وإنشاء الإستحكامات هناك لمواجهة زحف جيش بريطاني
- أرسل خديوى في ١٨٨٢م إلى زعيم أحمد عرابى بكفر الدوار يأمره بالكف عن استعداداته حربية وأن يحضر إلى سراي رأس تين لتلقي تعليماته ، كن عرابى رفض وأتهم خديوى بالإنحياز لبريطانيين
- وفي ١٨٨٢م أصدر خديوى أمراً بعزل عرابى من وزارة حربية وحذر مصريين من الإنضمام إليه ، وأظهر خديوى زعيم عرابى بمظهر عاصي لأوامره ، إلا أن الأمة المصرية إزدادت تمسكاً بعرابى وصممت على مقاومة معتدين

★ معركة كفر الدوار :

- قام عرابيون بتحسين خطوطهم وتقويتها عند كفر الدوار ، ودارت معارك بين جيش بريطاني وقوات مصرية وتمكن عرابيون من صد هجمات قوات بريطانية

« خيانة ديليسبس :

- أخذت قوات بريطانية تتحرك إلى منطقة قناة السويس دخول مصر من الشرق
- عقد أحمد عرابى مجلساً عسكرياً لنظر في أمر قناة السويس وأجمع المجلس على ضرورة تعطيل الملاحة في القناة وفقاً لاتفاقيات دولية
- رغم تأكيد ديليسبس حيادية قناة إلا أن السفن البريطانية إجتاحت قناة دون مراعاة وضعها بالنسبة للملاحة الدولية حتى وصلت إلى الإسماعيلية واحتلتها واتخذوها قاعدة تقدمهم داخل البلاد
- فى أغسطس ١٨٨٢م إحتلت قوات بريطانية مدينة قصاصين وأصبح جيش بريطاني على مقربة من تل كبير حيث أستعدت قوات مصرية صد هجمات الإنجليز بإقامة تحصينات ، وانضم إليهم كثير من متطوعين
- أقنع بريطانيون سلطان عثماني بإعلان عصيان عرابى فأصدر منشوراً بذلك مما أضعف الروح المعنوية لمقاتلين

★ معركة التل الكبير سبتمبر ١٨٨٢م :

- فى سبتمبر ١٨٨٢م هاجمت قوات بريطانية خطوط دفاع مصرية فى تل كبير
- شهد ميدان قتال بطولات مصرية جادة رغم هزيمة مثل ضابط (محمد عبيد) الذى صمد بقواته أمام قوات بريطانية وقاتلهم بعنف حتى استشهد هو ومعظم رجاله
- ورغم بطولات ومقاومة بأسلة فقد حقت هزيمة لجيش مصرى

« دخول القاهرة سبتمبر ١٨٨٢م :

- اتجه عرابى إلى القاهرة في محاولة لدفاع عن عاصمة إلا أن روح يأس وهزيمة تسربت إلى عديد من أنصاره وطلبوا منه عدم الاستمرار في مقاومة والاستسلام لقوات بريطانية التي استمرت في تقدمها نحو القاهرة حتى تم احتلالها في سبتمبر ١٨٨٢م

★ محاكمة العرابيين :

- تم إعتقال زعماء ثورة عرابية وضباط والأعيان الذين أيدوها ما عدا خطيب ثورة عبد الله النديم ، ولم تستطع الحكومة أن تصل إليه
- فى ديسمبر ١٨٨٢م أصدرت محكمة عسكرية حكمها بإعدام قادة ثورة ثم عذبت الأحكام إلى نفى مؤبد ومصادرة أملاكهم
- اختارت حكومة بريطانية "جزيرة سيلان" لتهند نفى هؤلاء زعماء بينما صدرت أحكام أخرى على بقية عرابيين
- وهكذا انتهت أحداث ثورة عرابية وبدأ الاحتلال البريطاني بغرض مصر لأكثر من سبعين عاماً

★ أسباب فشل الثورة العرابية :

- ١- عدم تكافؤ القوة العسكرية بين قوات الاحتلال البريطانى والقوات المصرية
- ٢- تواطؤ إدارة شركة قناة السويس الأجنبية مع الجيش البريطانى
- ٣- إصدار السلطان العثماني إعلاناً بعصيان عرابى

- ٤- عدم إدراك قيادة الثورة العربية لأهمية التعبئة الشعبية لمساندة القوات المصرية
- ٥- ميول بعض عناصر القوات المصرية للخديو والبريطانيين
- ٦- الظروف الدولية في عام ١٨٨٢ م ، لم تكن في صالح الحركات الوطنية

الدرس الثالث : الكفاح الوطني ضد الاحتلال البريطاني

↳ إستمر المصريون في مواصلة الكفاح بعد الاحتلال البريطاني مصر من أجل الاستقلال واقامة حكمه دستورية

↳ واجه المصريون في كفاحهم حكام مستبدين من أسرة محمد علي وسياسة الاحتلال البريطاني ، الذي

أتى بحجة حماية الخديو وتدعيم سلطته وتأمين حياه الأجانب ومصالحهم ، وقضاء على ثورة عربية

مصر تحت الاحتلال البريطاني : (سياسة الاحتلال البريطاني في مصر)

الحكم والإدارة :

- أصبحت سلطة فعلية في يد المعتمد البريطاني (هو ممثل سلطة الاحتلال في مصر)
- انحصرت سلطة (الخديوى) في تصديق على قرارات سلطة الاحتلال

الجيش :

- إنشاء جيش مصري قليل عدد لا يتعدى ٦ آلاف جندي يتولى قيادته ضابط انجليزي وتنحصر مهمته في إقرار الأمن وحفظ نظام

الحياة النيابية :

- إلغاء مجلس نواب منتخب عام ١٨٨١م وإنشاء مجالس صوريه لا سلطة لها مثل :
- (مجلس شورى القوانين ، وجمعية عمومية ، ثم جمعية تشريعية)

الاقتصاد :

فرض سياسة إقتصادية تخدم مصالح بريطانيا عن طريق :

- ١- توسع في زراعة قطن توفير مادة خام لازمة لمصانع بريطانية
- ٢- محاربة صناعة مصرية
- ٣- تسويق منتجات بريطانية والأجنبية في سوق مصرية
- ٤- إيجاد طبقة من كبار ملاك والأعيان تستفيد من سياسة الاحتلال ويرتبط ازدهارها ونموها الاقتصادي ببقاء الاحتلال البريطاني

التعليم :

- إهمال تعليم وجعله بمصروفات مرتفعة وحصره في فئة قليلة بهدف تخريج مجموعة من موظفين لعمل في الإدارات ومصالح حكومية

مصطفى كامل باعث الحركة الوطنية (١٨٧٤م : ١٩٠٨م)

↳ تولى زعيم مصطفى كامل قيادة حركة وطنية في أواخر القرن التاسع عشر

بعد أن تمكن الاحتلال من إحكام قبضته على بلاد وأشاعت روح يأس في نفوس مواطنين

تمثلت تحركات مصطفى كامل في اتجاهين :

داخليا :

- ١- كانت خطبة ومقالاته تحت مصريين على تمسك بوحدة وطنية والإخلاص
- مصر وتحارب يأس وإحياء روح كرامة في نفوسهم
- ٢- مطالبة دستور باعتباره أداة حكم صالح في مصر



٣- تأسيس **جريدة اللواء** عام ١٩٠٠م

٤- تأسيس **الحزب الوطني** ١٩٠٧م

٥- إنشاء **الجامعة المصرية** عام ١٩٠٨م (جامعة القاهرة حاليا)

✨ خارجيا :

١- تعريف رأي عام الأوربي وقوى دولية وفي مقدمتها فرنسا بحق مصر في الإستقلال ورفضها للاحتلال وسياسته التي تخلت عن مساندة مصطفى كامل بعقد **الإتفاق الودي** مع انجلترا عام ١٩٠٤م

٢- استغلال حادثة دنشواي عام ١٩٠٦م لتنديد بالاحتلال البريطاني وسياسته قمعية مما أدى إلى إستقالة معتمد بريطاني (**اللورد كرومر**)

٣- دعوة إلى رفض اتفاقية حكم ثنائي في السودان (يناير ١٨٩٩م)

لاحظ أن : اتفاقية الحكم الثنائي أعطت بريطانيا رسميا حق الاشتراك في إدارة السودان ورفع العلم البريطاني بجانب العلم المصري في جميع أرجاء السودان

● **وفاة مصطفى كامل :** توفي زعيم مصطفى كامل في ١٠ فبراير ١٩٠٨م

الإتفاق الودي : هو
إتفاق بين فرنسا وانجلترا عام ١٩٠٤م نص على أفراد انجلترا بحكم مصر مقابل أفراد فرنسا بحكم مراكش (المغرب حاليا)

كفاح (محمد فريد)



كان **تولى محمد فريد** رئاسة حزب وطني بعد وفاة مصطفى كامل رفيقة في كفاحه كن في ظروف صعبة غير مواتية **بسبب :**

- تحول خديوى عباس حلمي الثاني عن مساندة حركة وطنية إلى مولاة الانجليز ، فكان كفاح محمد فريد ضد الاحتلال البريطاني وخديوي في وقت واحد

◀ **ظل محمد فريد يجاهد لتحقيق الجلاء والدستور داخل مصر وخارجها حيث قام بـ**

١- طالب بإنشاء مجلس نيابي له سلطات واسعة

٢- طالب بإنشاء نقابات للعمال

٣- دعا إلى إنشاء مدارس الشعب الليلية لتعليم العمال والفقراء مجاً

٤- دعا إلى جعل التعليم إلزاميا في المرحلة الابتدائية وبالمجان

كان **نجح محمد فريد** بتأييد من رأي عام في إقرار حكومة على دعوة مجلس شورى قوانين وجمعية عمومية مناقشة طلب شركة قناة السويس مد إمتياز قناة السويس ٤٠ عام أخرى مما أدى إلى رفض حكومة مصرية طلب شركة

● **وفاة محمد فريد :** توفي محمد فريد في نوفمبر ١٩١٩م

الدرس الرابع : مصر من الحماية البريطانية حتى ثورة يوليو ١٩٥٢م



كانت مصر منذ عام ١٩١٤م وحتى قيام ثورة ٢٣ يوليو ١٩٥٢م بمراحل من صدام بين حركة وطنية وسلطات الاحتلال البريطاني

🔔 مقدمات الثورة :

◀ **تأليف الوفد المصري :**

- عقب إنتهاء حرب عالمية الأولى في نوفمبر ١٩١٨م تألف وفد مصري من أعضاء جمعية تشريعية برئاسة **سعد زغلول** وآخرون

- توجهوا لمقابلة مندوب سامي بريطاني (**السير ونجت**) **للمطالبة بـ :**

١- إلغاء حماية بريطانية على بلاد

٢- إنهاء الأحكام عرفية

٣- إلغاء رقابة على صحف ومطبوعات

٤- الاستقلال و السماح لهم بالسفر إلى باريس عرض مطاب و وطنية على مؤتمر صلح

الحماية البريطانية هي خضوع مصر المطلق للإحتلال البريطاني

الصدام بين أعضاء الوفد وسلطات الاحتلال :

- اعترض مندوب سامي بريطاني لأن صفة هؤلاء مجموعة لا تعطيهم حق في تحديث باسم الأمة
- بدأ وفد جمع توكيلات من الأمة لسعي نحو الاستقلال تام ، وأصبح وفد مصري بزعامة سعد زغلول يمثل الأمة
- رفضت سلطات الاحتلال مطاب وفد وقبضت على سعد زغلول وزملائه في مارس ١٩١٩م ونفثهم في جزيرة مالطة

عوامل قيام (إشتعال) الثورة :

- ١- إزدياد نمو الوعي وطني لدى مصريين من أجل الإستقلال
- ٢- الإجراءات عنيفة التي إتخذتها سلطات الاحتلال أثناء حرب عام ١٩١٤م
- ٣- إدعاء انجلترا وحلفائها أنها تحارب من أجل حرية الشعوب وإستقلالها
- ٤- إعلان مبادئ الرئيس الأمريكي (ولسن) الأربعة عشر ومنها حق الشعوب في تقرير مصيرها

أحداث الثورة :

- إمتدت ثورة من القاهرة إلى كافة مدن والأقاليم
- كانت ثورة شعبية بسبب مشاركة جميع فئات وعناصر الشعب المصري مما يؤكد على وحدة وطنية بين أبناء الأمة

نتائج الثورة :

- انزعجت الحكومة البريطانية للأوضاع التي تترتب على سياستها فقامت بـ :

- ١- عزل سير (ونجت) وتعيين جنرال (اللنبى) مندوبا ساميا في مصر
- ٢- الإفراج عن سعد زغلول ورفاقه في ابريل ١٩١٩م والسماح لهم بالسفر إلى مؤتمر صلح في باريس

الوفد في باريس :

- وصل أعضاء الوفد إلى باريس كنهم وجدوا أبواب مؤتمر مغلقة في وجوههم حيث إعترفت دول في مؤتمر بحماية بريطانية على مصر كما أعلن ذلك رئيس الأمريكي ولسن مما أصابهم بالإحباط

لجنة ملنر (ديسمبر ١٩١٩م):

- قررت انجلترا إرسال لجنة مصر برئاسة لورد ملنر وزير مستعمرات بريطانية لإقناع شعب مصري بقبول حماية بريطانية ، كن شعب رفض تفاوض مع لجنة ملنر وقاطعها لأن تفاوض معها يعنى تنازل عن وكياله لوفد مصري

التفاوض مع سعد زغلول :

- أبدى ملنر استعدادهم للتفاوض مع وفد مصري (سعد زغلول ورفاقه)
- إنتهت المفاوضات بمشروع معاهدة رفضها شعب مصري بجميع طوائفه لأنها كانت تؤدي إلى إستقلال مصر إستقلالاً سوريا

مفاوضات عدلي - كيرزون (مارس ١٩٢١م):

- في مارس ١٩٢١م تولى عدلي يكن باشا رئاسة وزارة وكان يرجو أن يوفق في الإتفاق مع بريطانيا على وضع دستور يحقق أمانى ومطاب مصريين
- كن مفاوضات بين عدلي يكن باشا و كيرزون وزير خارجية بريطانيا فشلت لأنها لم تؤدي إلى نتيجة

ما نتيجة فشل مفاوضات عدلي - كيرزون ؟

- ١- إستقالة عدلي يكن باشا
 - ٢- رفض رجال سياسة تشكيل حكومة
- للم بعد ذلك تم قبض على سعد زغلول ونفيه للمرة الثانية إلى جزيرة سيشل فتجددت ثورة مرة أخرى قاطع الشعب مصري البضائع الانجليزية مما أضطر حكومة بريطانية لإفراج عن سعد زغلول

تصريح ٢٨ فبراير ١٩٢٢م :

- بعد فشل مفاوضات (عدلي - كيرزون) أصدرت بريطانيا تصريح ٢٨ فبراير ١٩٢٢م والذي نص على:
- إعتراف بريطانيا بمصر دولة مستقلة ذات سيادة

- إنهاء حماية بريطانية على مصر

- إلغاء الأحكام عرقية

- مع وجود أربع تحفظات تمثلت في الآتي :

١- تأمين المواصلات البريطانية في مصر

٢- الدفاع عن مصر ضد أي اعتداء أو تدخل أجنبي

٣- حماية المصالح الأجنبية وحماية الأقليات في مصر

٤- استمرار أوضاع السودان حسب اتفاقية الحكم الثاني عام ١٨٩٩م

لاحظ أن : رغم اعتراف بريطانيا بمصر دولة مستقلة ومنحها الحق في وضع دستور وتشكيل حكومة مسنولة ، إلا أن التصريح لم يعطى مصر استقلال تاما ولم يحقق للمصريين أمانهم الوطنية كاملة بسبب التحفظات الأربعة

نتائج تصريح ٢٨ فبراير ١٩٢٢م :

- إعلان الملك فؤاد نفسه ملكا مصر مارس ١٩٢٢م

- أعيدت وزارة خارجية مصرية

- شكلت وزارة عبد الخالق ثروت باشا جنة من ثلاثين عضوا لإعداد دستور الذي عرف باسم دستور ١٩٢٣م

دستور ١٩٢٣م أبريل ١٩٢٣م :

مميزات دستور ١٩٢٣م	عيوب دستور ١٩٢٣م
١- يعتبر خطوة في تقرير مبدأ أن الأمة مصدر سلطات ووضع نهاية لحكم مطلق	١- أعطى لملك سلطات واسعة
٢- أقر دستور مبدأ مساواة بين جميع مصريين في حقوق واجبات ومبدأ احترام حريات عامة	٢- أعطى لملك حق في حل بل مان ودعوة لانتخابات جديدة
	١- إزاء سلطة تشريعية وتنفيذية
	٢- أعطى لملك حق في حل بل مان ودعوة لانتخابات جديدة

وزارة سعد زغلول يناير ١٩٢٤م : (وزارة الشعب)

طبقاً لدستور ١٩٢٣م أجريت الانتخابات العامة وفاز حزب وفد بالأغلبية وشكل سعد زغلول في

يناير ١٩٢٤م أول وزارة برلمانية عرفت بوزارة الشعب وأفتتح أول بل مان مصري في مارس ١٩٢٤م

في ١٩ نوفمبر ١٩٢٤م تم اغتيال قائد عام جيش مصري وحاكم عام لسودان (السير لي ستاك)

ونتيجة الإغتيال قدم مندوب سامي بريطاني (الجنرال اللبني) إنذار لحكومة مصرية

في ٢٢ نوفمبر ١٩٢٤م ترتب عليه إستقالة وزارة سعد زغلول بسبب رفضها الإنذار

تألفت وزارة جديدة برئاسة زيوار باشا رئيس مجلس شيوخ قبلت مطالب بريطانيا التي جاءت في الإنذار

ومنها سحب جيش مصري من السودان

توفي سعد زغلول في أغسطس ١٩٢٧م

دستور ١٩٣٠م :

شكل إسماعيل صدقي وزارة جديدة في يونيه ١٩٣٠م وقام بإلغاء دستور ١٩٢٣م ووضع مكانه دستور

(١٩٣٠م) الذي أعطى ملك مزيد من سلطات وأهدر سلطة الأمة وحقوقها في مواضع كثيرة

عارض الشعب (دستور ١٩٣٠م) وقام بإعداد مظاهرات لإغاثة مما اضطر الملك فؤاد لإغاثة

وإرضوخ مطالب الأمة وإعادة دستور ١٩٢٣م

تعدد الأحزاب :

تعددت الأحزاب في مصر منذ صدور دستور ١٩٢٣م وكان تعددهم يؤد لإثراء حياة

نيابية لأنها كانت أداة لقصر ملكي وبريطانيا لتحقيق مصالحها دون النظر لمصالح الشعب

معاهدة ١٩٣٦م :

إضطرت بريطانيا عقد معاهدة مع مصر تخوفها من قيام ثورة جديدة في وقت الذي

ستخوض فيه بريطانيا حربا عالمية جديدة حيث دارت مفاوضات بين مصطفى النحاس

باشا والانجليز وإنتهت بتوقيع معاهدة في أغسطس ١٩٣٦م والتي نصت على :

١- جلاء القوات البريطانية عن القاهرة وجميع الجهات الأخرى مع بقاء قوات في منطقة القناة

٢- تقوم مصر بوضع موانئها ومطاراتها وطرق مواصلاتها تحت تصرف بريطانيا في حالة الحرب

٣- تتعهد الحكومة المصرية ببناء وصيانة الثكنات والمعسكرات والطرق والكمباري للقوات البريطانية



- ٤- تعاون بريطانيا مصر في دخول عصبة الأمم وإلغاء الامتيازات الأجنبية
- ٥- استمرار إدارة السودان طبقاً لاتفاقية الحكم الثنائي يناير ١٨٩٩م وعودة القوات المصرية إلى السودان
- ٦- تسري المعاهدة لمدة ٢٠ عام

◀ النتائج المترتبة على معاهدة ١٩٣٦ م :

- ١- إنتهاء احتلال مصر عسكرياً
- ٢- إنضمام مصر إلى عصبة الأمم باعتبارها دولة مستقلة ذات سيادة
- ٣- إلغاء الامتيازات الأجنبية وفقاً لمؤتمر مونترال ١٩٣٧م
- ٤- تقوية الجيش المصري لكي يتمكن من الدفاع عن قناة السويس بمفرده وبالتالي ترحل القوات البريطانية عن مصر
- ٥- حرية مصر في عقد المعاهدات السياسية مع الدول الأجنبية بشرط عدم تعارضها مع المعاهدة
- ٦- إعادة الجيش المصري للسودان وإعتراف بريطانيا بالإدارة المشتركة في السودان

📌 المتغيرات الداخلية والدولية بعد معاهدة ١٩٣٦ م :

- ↪ تحولات العلاقة بين مصر وبريطانيا من علاقة إحتلال إلى علاقة تحالف
- ↪ إزداد نفوذ قصر وسيطرته منذ إعتلاء الملك فاروق عرش
- ↪ تغيرت الأوضاع الدولية بين مصر وبريطانيا عقب إندلاع حرب عالمية ثانية في سبتمبر ١٩٣٩م بسبب خلافات بين حكومة مصر والانجليز بسبب أصرار بريطانيا أن تعلن مصر حرب على دول محور وهذا ما كانت ترفضه حكومة مصرية لإتباعها سياسة (تجنب مصر ويلات حرب)
- ↪ حادثة ٤ فبراير ١٩٤٢ م :

- في ٤ فبراير ١٩٤٢م حاصرت دبابات بريطانية قصر عابدين ووجهت انذاراً لملك فاروق وهددته بخلعها عن عرشه وذلك لأنه ماطلهم عندما طلبوا منه تشكيل حكومة برئاسة مصطفى النحاس باشا (رئيس حزب الوفد) ، فقبل الملك الإنذار البريطاني وعرض على مصطفى النحاس تأييد وزارة فقبل ذلك

↪ عرض القضية المصرية على مجلس الأمن :

- عرضت مصر قضية جلاء قوات بريطانية بكامل عن مصر ووحدة وادي النيل على مجلس الأمن في عام ١٩٤٧م ولكن مجلس الأمن لم يتخذ قراراً وترك القضية معلقة

↪ إلغاء معاهدة ١٩٣٦ م :

- في أكتوبر ١٩٥١م أعلن النحاس باشا رئيس الوزارة وقتها إلغاء معاهدة ١٩٣٦م وأطلق حرية للشعب لنضال مسلح ضد قوات بريطانية في قناة

↪ النتائج المترتبة على إلغاء معاهدة ١٩٣٦ م :

- قامت جماعة فدايين بمهاجمة معسكرات بريطانية
- تعمدت حكومة على زيادة عدد جنود شرطة مساعدة فدايين
- ↪ وعندما إكتشف الانجليز الأمر حاصروا مبنى محافظة بالإسماعيلية نزع سلاح جنود شرطة ورفض جنود تسليم وحدث اشتباك بينهم في ٢٥ يناير ١٩٥٢م إستشهد فيه كثير من مصريين (ذلك تحتفل مصر بعيد شرطة يوم ٢٥ يناير من كل عام) .
- بعد هذه الأحداث وتطورات وقع حريق القاهرة في يوم ٢٦ (٢٦ يناير ١٩٥٢م) فكان ذلك ايذاناً بنهاية نظام ملكي وقيام ثورة ٢٣ يوليو ١٩٥٢م .



الأسئلة

س١: ضع علامة (√) أو علامة (×) :

- ١- كان شركة قناة السويس حق الانتفاع قناة مدة ٩٩ عاما من تاريخ حفر
- ٢- شروط امتياز حفر قناة السويس كانت في صالح مصر
- ٣- تولى سعيد باشا حكم مصر في فترة من ١٨٤٨م - ١٨٥٤م
- ٤- كانت وزارة نوبار وزارة وطنية خاصة
- ٥- تولى شريف باشا رئاسة وزارة مختلطة
- ٦- عقد سعيد باشا أول قرض مع أحد بنوك بريطانيا عام ١٨٦٢م
- ٧- وافق اسماعيل على حفر قناة السويس عام ١٨٥٦م
- ٨- تمثل فترة حكم اسماعيل أزهى فترات وأكثرها تقدما وعمرانا في تاريخ مصر الحديث
- ٩- تم عزل اسماعيل وتولية ابنه توفيق حكم مصر عام ١٨٦٩م
- ١٠- تنسب ثورة عربية إلى زعيم سعد زغلول باشا
- ١١- أعاد خديوى توفيق عمل اللائحة الأساسية مجلس نواب وأغى مراقبة ثنائية
- ١٢- قررت سلطات الاحتلال البريطاني تكوين جيش مصرى مزودا بأحدث الاسلحة
- ١٣- فرضت سلطات الاحتلال البريطاني سياسة اقتصادية تهدف نهوض بمصر
- ١٤- أدت خطب زعيم مصطفى كامل إلى إشاعة روح يأس في نفوس المواطنين
- ١٥- عقد الاتفاق ودى عام ١٩٠٤م بين فرنسا ودولة عثمانية
- ١٦- دعا محمد فريد إلى إنشاء مدارس شعب ليلية تعليم عمال و فقراء مجانا
- ١٧- من عوامل قيام ثورة ١٩١٩م إزدیاد وعى وطنى
- ١٨- شكل عبد الحاق ثروت أول وزارة بل مانية فى مصر
- ١٩- عارض شعب مصرى دستور عام ١٩٣٠م
- ٢٠- تم إلغاء معاهدة ١٩٣٦م فى اكتوبر ١٩٥١م

س٢: أكمل ما يأتى :

- ١- توقفت حركة نهضة فى عهد
- ٢- تنازلت حكومة مصرية مجانا عن المطلوبة لإنشاء قناة ملاحية وترعة الاسماعيلية
- ٣- تم افتتاح قناة السويس لملاحة عام
- ٤- تم فى عهد اسماعيل تعيين مراقبين اجنبيين أحدهما لإيرادات والآخر لمصروفات
- ٥- مدت خطوط تلغرافية فى مختلف انحاء مصر وأنشئت مصلحة بريد مصرية فى عهد
- ٦- عرفت مصر فى عصر خديوي إسماعيل نظام عام ١٨٧٨م
- ٧- واجه المصريون فى كفاحهم من أسرة محمد على وسياسة
- ٨- عقب الاحتلال البريطاني أصبحت سلطة فعلية فى مصر
- ٩- طاب محمد فريد بإنشاء سلطات واسعة
- ١٠- سافر سعد زغلول ١٩١٩م عرض قضية بلاد على مؤتمر فى
- ١١- تفاوضت انجلترا عام ١٩٢١م مع رئيس وزراء مصر
- ١٢- وضعت وزارة دستور عام ١٩٣٠م

س٣: بم تفسر :

- ١- توقف حركة نهضة فى عهد عباس

- ٢- اهتم سعيد باشا بأحوال الفلاحين
- ٣- كانت شروط امتياز حفر قناة السويس مجحفة مصر
- ٤- سخط الشعب على وزارة الأوروبية المختلطة
- ٥- ازدياد الأزمة المالية في عهد اسماعيل
- ٦- كانت الامتيازات الأجنبية كارثة على مصر
- ٧- عزل خديوى اسماعيل عام ١٨٧٩م
- ٨- كانت محاكم مختلطة عدوانا صارخا على سيادة مصرية
- ٩- قيام ثورة عربية
- ١٠- مذكرة مشتركة الأولى في يناير ١٨٨٢ م
- ١١- مذكرة مشتركة ثانية في مايو ١٨٨٢ م
- ١٢- فشل ثورة عربية
- ١٣- خلاف بين شريف باشا ومجلس نواب
- ١٤- سياسة الاقتصادية في مصر بعد الاحتلال البريطاني
- ١٥- تخلى فرنسا عن مساندة مصطفى كامل بعد عام ١٩٠٤م
- ١٦- توسع الاحتلال البريطاني في زراعة قطن
- ١٧- تولى محمد فريد رئاسة حزب وطنى في ظروف صعبة
- ١٨- قيام شعب مصرى بثورة عام ١٩١٩م
- ١٩- إستقالة حكومة سعد زغلول عام ١٩٢٤م
- ٢٠- إرسال إنجلترا جنة ملنر الى مصر

س٤: ما النتائج المترتبة عن :

- ١- الامتيازات الأجنبية
- ٢- تشكيل وزارة مختلطة
- ٣- تشكيل جنة تحقيق الأوروبية ١٨٧٨م
- ٤- إنضمام اسماعيل لحركة وطنية أواخر عهده
- ٥- إنشاء محاكم قنصلية
- ٦- إنشاء محاكم مختلطة ١٨٧٥م
- ٧- مظاهرة عسكرية في ٩ سبتمبر ١٨٨١م
- ٨- حوادث الاسكندرية
- ٩- مذكرة مشتركة ثانية في مايو ١٨٨٢ م
- ١٠- الاتفاق ودى بين فرنسا وبريطانيا ١٩٠٤م
- ١١- تنديد ازعيم مصطفى كامل بحادثة دنشواى
- ١٢- قيام وفد مصرى بجمع توكيلات من الأمة
- ١٣- اشتعال ثورة عام ١٩١٩ م
- ١٤- مفاوضات على كيرزون ١٩٢١م
- ١٥- إغتيال سيرى ستاك ١٩٢٤م
- ١٦- عقد معاهدة عام ١٩٣٦ م
- ١٧- حادث ٤ فبراير ١٩٤٢م
- ١٨- إلغاء معاهدة عام ١٩٣٦ م

س٥: ما المقصود بالمفاهيم الآتية :

- ١- الإمتيازات الأجنبية
- ٢- احتلال
- ٣- الاتفاق ودى
- ٤- حماية بريطانية

لا روك