

أهم المصطلحات

دولة جزرية: دولة تتكون من جزيرة أو أكثر أو قد تكون جزءاً من جزيرة.
موقع فلكي: موقع المكان بالنسبة لدوائر العرض وخطوط الطول.
موقع جغرافي: موقع المكان بالنسبة للأماكن الأخرى
حوض النهر: الأرض التي يجري داخلها النهر وروافده
إقليم مناخي: منطقة محددة على سطح الأرض لها خصائص مناخية معينة من حيث الحرارة والرياح والمطر
سلالة بشرية: مجموعة بشرية تتشابه في صفاتها الجسمية الخارجية.
ديموجرافية: علم دراسة السكان من حيث النمو والتوزيع والتركيبة السكانية .

زيادة طبيعية: ناتج الفرق بين معدلات المواليد ومعدلات الوفيات.
قوة العمل : عدد الأفراد في سن العمل والقادرين عليه والذين يعملون فعلياً أو يبحثون عن عمل.

حق الانتفاع : نظام طبقه العثمانيون جعل الأرض الزراعية ملكاً للدولة ويتم تكليف الفلاحين بزراعتها وليس له حق التصرف فيها .

مقاومة : رفض الشعب للاحتلال ودفعه عن البلاد بمختلف الوسائل.

جلاء : حيل قوات الاحتلال عن البلد المحتل.

احتلال : الاستيلاء على أرض الغير بالقوة.

نظام الاحتكار: نظام تقوم فيه الحكومة ممثلة في محمد على بتحديد نوع الغلات التي تزرع ونوع المصنوعات التي تنتج وتحديد أثمان شرائها من المنتجين وأثمان بيعها في السوق.

فرمان : أمر سلطاني واجب التنفيذ .

اللائحة السعيدية : أصدرها سعيد باشا في أغسطس ١٨٥٨م وبموجبها

أصبح للفلاح حق توريث الأرض الزراعية .

محاكم قسطنطينية: محاكم تنظر في الجرائم التي يرتكبها الأجانب ضد المصريين والحكومة المصرية.

محاكم مختلطة : محاكم أنشأها الخديو إسماعيل تهدف إلى الحد من

مسائو المحاكم القسطنطينية وقضاتها أجنبى ومصريين .

مراقبة ثنائية : فرض رقابة على مالية مصر عن طريق مراقبين بريطاني للإيرادات وفرنسي للمصروفات .

الاتفاق الودى: انفراد إنجلترا بمصر مقابل انفراد فرنسا بمراكش

حق تقرير المصير : مبدأ من المبادئ الأربعة عشر التي دعا إليها

الرئيس الأمريكى ولسن فى الحرب العالمية الأولى.

الحماية البريطانية: خضوع مصر المطلق للإحتلال البريطانى .

امتيازات أجنبية : تسهيلات منحتها الدولة العثمانية لرعايا بعض الدول

الأوروبية تشجيعاً لهم على الإقامة والتجارة



الأقاليم المناخية

النبات	الإقليم المناخى	الخصائص المناخية
المطاط الماهوجنى	الاستوائى وشبه الاستوائى	حار ممطر طوال العام .
تشبه الاستوائى لكن اقل كثافة - السافانا	المدارى (السودانى)	حار ممطر صيفاً جاف شتاءً .
جوز الهند - السافانا	الموسمى	حار غزير المطر صيفاً جاف شتاءً .
الزيتون - الاستيس	البحر المتوسط	حار جاف صيفاً دافئ ممطر شتاءً .
الصفصاف - البلوط	الصينى	حار صيفاً معتدل شتاءً ممطر طوال العام تزداد صيفاً .
الزنان (غابات نفضية)	غرب أوروبا	دافئ صيفاً بارد شتاءً ممطر طوال العام تزداد شتاءً وخريفاً .
الصنوبر - الشربين	اللورانسى (غابات مخروطية)	معتدل صيفاً بارد شتاءً ممطر طوال العام وخاصة صيفاً .
حشائش التندرا	أقليم التندرا	شديد البرودة فى شتاء طويل/ قليل المطر فى صيف قصير
تنوع حسب الارتفاع والمطر	الإقليم الجبلى	شديد البرودة وكثيراً ما يغطى القمم بالجليد طوال العام

موسم سقوط المطر :

١- الاستوائى - الصينى - اللورانسى - غرب أوروبا : ممطر طوال العام

٢- الموسمى - المدارى (السودانى) : ممطر صيفاً

٣- البحر المتوسط : ممطر شتاءً

الرعاية الطبية:

١- فائقة ◀ معظم دول أوروبا - روسيا - دول أمريكا الشمالية .

٢- مرتفعة ◀ مصر - الأردن - الإمارات .

٣- منخفضة ◀ نيبال فى آسيا - النيجر وإثيوبيا فى أفريقيا

الدخل الاقتصادى	المرتفع	فوق المتوسط	أقل من المتوسط	المنخفض
تعتمد على الصناعة والخدمات	التصنيع النامى وتعدد الأنشطة التقليدية	التصنيع والتنمية الاقتصادية والأنشطة الأخرى	الزراعة	
مثل	غرب أوروبا - أمريكا - دول الخليج العربى	تركيا - دول شرق أوروبا - المكسيك - جنوب أفريقيا	الصين - مصر - المغرب - أوكرانيا - البرازيل - هايتى	باكستان - الكونغو

السلالة

البشرة الداكنة - الأنف العريض - الشعر الأجعد الشفاه الغليظة	أفريقيا: قرب الإستواء ٧٥% من زواج العالم. ٧٠% من سكان القارة. آسيا: شرق الهند- أوروبا- أستراليا : السكان الأصليون- الأمريكتين	أهم الأقسام
البشرة الصفراء العيون المنحرفة الشعر الأسود المسترسل	آسيا: الصين- اليابان- كوريا- منغوليا- سيبيريا- جنوب شرق القارة- كندا وألاسكا- أمريكا الجنوبية	الزنجية ١٠% ٤٠%
البشرة البيضاء اللوردية الشعر المتموج الشفاه الرفيعة	أوروبا - الأمريكتين- شمال الصحراء الكبرى فى الدول العربية - الهند وإيران	المغولية ٤٠%
	أوروبا - الأمريكتين- شمال الصحراء الكبرى فى الدول العربية - الهند وإيران	القوقازية ٥٠%

بم تفسر

١. كثرة الموانئ الطبيعية بقارة أوروبا ؟

ج . بسبب كثرة التعاريج والجزر القريبة.

٢. قلة عدد السكان فى شمال أوروبا(فنلندا والنرويج)/سهول سيبيريا / شمال

كندا و ألاسكا؟ ج. بسبب شدة البرودة .

٣. يسود المظهر الهضبي سطح قارة أفريقيا؟ ج . بسبب كثرة الهضاب بالقارة

مثل هضاب الصحراء الكبرى فى الشمال وإثيوبيا فى الشرق و البحيرات

الإستوائية فى الوسط وجنوب إفريقيا فى الجنوب .

٤. انعدام تواجد شعب بالكامل من سلالة واحدة؟

ج. بسبب إنصهار السلالات وإختلاط الصفات الطبيعية .

٥. اختلاف الخصائص الاقتصادية لسكان العالم؟

ج. لتنوع الأنشطة التى يقوم بها السكان فى كل دولة ودخل السكان.

٦. تركيز السكان فى منطقة البحيرات العظمى بالولايات المتحدة الأمريكية . أو

(الساحل الشمالى الشرقى) ؟ ج. بسبب الموارد الاقتصادية الضخمة - وجود

المدن الكبرى مثل نيويورك.

٧. ارتفاع معدلات المواليد فى قارة أفريقيا بشكل كبير ؟

ج. بسبب أ-انتشار الأمية والفقر . ب- الاعتماد على الزراعة البدائية والرعى.

ج-انتشار العادات والتقاليد السلبية مثل الزواج المبكر وإجباب أكبر عدد من

الأبناء.

٨. تسمية الغابات النفضية بهذا الاسم؟

ج. لأنها تنفض أوراقها فى فصل الشتاء لشدة البرودة.

٩. يتميز السهل الأوروبي العظيم بترية زراعية جيدة ؟

ج. لأنه يتكون من إرسابات طينية خصبة صالحة للزراعة.

١٠. إنتشار عدد كبير من الزوج في الأمريكتين؟

ج. بسبب إنتقالهم إليها عبر الهجرات الإجبارية ضمن تجارة الرقيق للعمل في مزارع القطن وقصب السكر والتبغ التي أقامها الأوروبيون هناك.

١١. يتركز أكثر من نصف سكان العالم في المدن الكبرى ؟ ج. ١. لوفرة فرص العمل ٢. لوفرة الخدمات المتنوعة ٣. لوفرة المناطق الصناعية.

١٢. نشأة السلاسل البشرية المختلفة؟

بسبب إنتشار الإنسان في قارات العالم المختلفة في أواخر عصر البلايستوسين واستقراره في البيئات المختلفة فبدأ يؤثر فيها ويتأثر بها .

١٣. تعرف هضبة التبت بسقف العالم ؟

ج . لأنها تعلو عن قمم الجبال ، فهي أعلى هضاب العالم .

١٤. ارتفاع معدل الوفيات في قارة أفريقيا؟

ج. بسبب ١. قلة الرعاية الصحية وإنتشار الأمراض. ٢. كثرة الحروب والكوارث الطبيعية مثل الجفاف والزلازل.

١٥. تعتبر قارة أستراليا جزيرة كبيرة ؟

ج. حيث تحيط بها المياه من جميع الجهات.

١٦. تصل نسبة المتعلمين في مصر إلى ٦٥ ٪ ؟

ج. بسبب ١. زيادة الإهتمام بالتعليم في مراحل المختلفة.

٢. جهود الدولة في محو الأمية.

١٧. ضيق السهول الساحلية لقارة أفريقيا ؟

ج. لإقتراب حافات الجبال والهضاب من الساحل .

١٨. ضيق السهول الساحلية في شرق أستراليا وغرب أمريكا الجنوبية؟

ج. لإقتراب جبال الحاجز الكبير في أستراليا وإندونيسيا في أمريكا الجنوبية

من ساحل المحيط الهادئ.

١٩. انخفاض معدلات الوفيات في مصر ؟ ج. بسبب تقدم الرعاية

الصحية وإهتمام بصحة الأطفال.

٢٠. تتركز الدول ذات الدخل الاقتصادي المنخفض في قارة أفريقيا؟

ج. لإعتماد معظم دول أفريقيا على الزراعة.

٢١. للسهول الفيضية أهمية اقتصادية ؟

ج. لأنها تتميز بخصوبة تربتها مما يساعد على قيام الزراعة.

٢٢. انخفاض معدل تعليم الاناث في بعض الدول؟

ج. بسبب العادات والتقاليد مثل أ- بعض القرى التي تحرم المرأة من

التعليم حفاظاً عليها. ب- الزواج المبكر للإناث .

٢٣. تنوع الحياة النباتية في الأقاليم الجبلي ؟

ج. بسبب ارتفاع السطح وكمية المطر.

٢٤. تتدرج حشائش السافانا في الطول كلما بعدنا عن دائرة الاستواء ؟

ج. لأن الأمطار تقل كلما بعدنا عن دائرة الاستواء

٢٥. تعتبر السافانا حديقة حيوان طبيعية ؟ ج. لأن بها حيوانات أكلة

لحوم وحيوانات أكلة عشب .

٢٦. امتداد جميع الأقاليم المناخية في قارة آسيا ؟ ج. بسبب كبر مساحتها

وامتدادها في عدد كبير من دوائر العرض.

٢٧. يتميز حوض الأمازون بارتفاع درجة الحرارة وسقوط الأمطار طوال

العام ؟ ج. لأنه يقع في نطاق إقليم المناخ الاستوائي الذي يتميز بارتفاع

درجة الحرارة وسقوط الأمطار طوال العام

٢٨. زيادة نسبة الجنس المغولي في العالم ؟ ج. لأن النسبة الكبرى من

سكان الصين ودول شرق وجنوب شرق آسيا ينتمون إلى السلالة

المغولية.

٢٩. تفقد أنهار أوب وينسي ولينا أهميتها الاقتصادية في فصل الشتاء؟

ج. لأنها تتجمد في فصل الشتاء .

٣٠. عدم وجود ما يعرف بالسلالة النقية حالياً(لا توجد دولة في العالم

يتكون شعبها من سلالة واحدة)؟ ج. بسبب انصهار السلالات واختلاط

الصفات الطبيعية وانتشار السلالات البشرية بين قارات العالم.

٣١. العرب ليسوا من سلالة بشرية واحدة؟ ج. بسبب اختلاط العرب مع

السلالات الأخرى بعد حدوث الفتوحات والهجرات على مر التاريخ.

٣٢. تركز السكان في جزيرة جاوة ؟

ج. بسبب تربتها الجيدة الصالحة للزراعة.

٣٣. أهمية هضبة الحبشة والبحيرات الاستوائية لمصر ؟

ج . لأن روافد نهر النيل تتبع منهما .

٣٤. يقل عدد السكان في المناطق الاستوائية بأفريقيا و حوض الأمازون

بأمريكا الجنوبية ؟ ج. بسبب انتشار الغابات الاستوائية الكثيفة والبيئة

الطبيعية القاسية حيث تنتشر الأمراض.

٣٥. ازدهام السكان في المناطق المرتفعة بالدول المدارية ؟

ج. بسبب اعتدال المناخ لإرتفاع السطح.

٣٦. يتركز السكان في دول غرب أوروبا أكثر من شرقها؟

ج. لأن دول شرق أوروبا أقل تقدماً من دول الغرب.

٣٧. تركز السكان في الولايات المتحدة ؟

ج. - لوجود المدن الصناعية الكبرى. - وفرة الموارد الاقتصادية

الضخمة. - وجود الأقاليم الزراعية الخصبة.

٣٨. يتركز سكان أستراليا على الساحل الشرقي للقارة ؟

ج. لوجود- المدن الكبرى مثل سيدني / والمناطق الصناعية .

٣٩. يقل السكان في داخل وغرب أستراليا و الشمال ؟

ج. أ- في الداخل والغرب : لسيادة الظروف الصحراوية.

ب- في الشمال : لإنتشار مناطق حشائش السافانا والغابات المدارية

٤٠. ارتفاع معدل الوفيات في أوروبا ؟

ج. بسبب زيادة عدد كبار السن.

٤١. تنوع الأقاليم المناخية ؟

ج. بسبب إختلاف الموقع الفلكي والجغرافي والتضاريس .

٤٢. تركز السكان في السهول السياحية والسهول الفيضية ؟

ج. أ- السهول الساحلية : لإعتدال المناخ والمناطق الساحلية.

ب- الفيضية: لوجود التربة الخصبة الصالحة للزراعة

ما النتائج المترتبة على :

١. كثرة الجزر وتعاريج السواحل في قارة أوروبا ؟ ج. كثرة قيام الموانئ

الطبيعية وسهولة إتصالها بالعالم الخارجى.

٢. زيادة السكان في معظم دول قارة آسيا ؟ ج. نقص الغذاء- إنخفاض

مستوى المعيشة- قلة نصيب الفرد من الدخل القومى. - وجود الهجرات

غير الشرعية

٣. تساوى معدلات المواليد ومعدلات الوفيات في أوروبا؟

ج. ثبات عدد السكان حيث وصلت الزيادة الطبيعية إلى صفر

٤. ارتفاع فئة صغار السن في الدول النامية ؟

ج. تحمل الدولة ميزانية ضخمة لتوفير الغذاء والرعاية الصحية

والتعليمية

٥. هجرة السلاسل البشرية بين القارات (انصهار السلالات واختلاطهما

معاً)؟ ج. أدى إلى إختلاط السلالات وعدم وجود دولة واحدة يتكون شعبها

من سلالة واحدة - وعدم وجود سلالة نقية إلا في المجتمعات البدائية.

٦. سيادة الظروف الصحراوية غرب قارة أستراليا ؟

ج. أدى لقلة عدد السكان في غرب أستراليا.

٧. الرعاية الطبية الفائقة في دول قارة أوروبا؟

ج . أدى إلى ارتفاع نسبة كبار السن .

٨. وقوع قارة أنتاركتيكا عند القطب الجنوبي ؟

ج. أصبحت متجمدة وغير مأهولة بالسكان.

٩. ارتفاع الحرارة وسقوط الأمطار طوال العام في حوض الكونغو ؟

ج. نمو الغابات الاستوائية ذات الأشجار الكثيفة .

١٠. سقوط الأمطار الغزيرة في مناطق المناخ الموسمي ؟

ج. أدى لنمو الغابات الموسمية.

١١. التقدم الصناعي في قارة أوروبا ؟ ج .أدى إلى أ-تركز السكان في

المدن . ب-أصبحت دول ذات دخل اقتصادى مرتفع

١٢. كثافة الغابات الاستوائية في سهول الأمازون؟

ج. أدى إلى قلة تركز السكان في هذه المنطقة.

١٣. اقتراب جبال الإنديز من ساحل المحيط الهادئ؟

ج . أدى إلى ضيق السهول الساحلية في غرب أمريكا الجنوبية .

١٤. انصهار السلاسل البشرية واختلاط الصفات الطبيعية ؟

ج. أدى إلى عدم وجود دولة يتكون شعبها من سلالة واحدة وندرة وجود

السلالات النقية في الوقت الحاضر.

١٥. ارتفاع معدلات المواليد وانخفاض معدلات الوفيات في مصر؟

ج. أدى إلى ارتفاع معدل الزيادة الطبيعية في مصر ووصل إلى ٢٥.٢ في

الآلاف لعام ٢٠١٤ م

تعويزة الالة

مسألة فهم التوقعات

أهم الأدلة

١. تقسيم السلالات أمر ظاهري وليس جوهري؟ ج. حيث يتم التقسيم على حسب الشكل الظاهري وليس الصفات الجهرية فلا توجد سلالة أكثر ذكاءً من أخرى أو أكثر قدرة على العمل والإبداع.
٢. وجود بعض العادات والتقاليد تؤثر سلباً على معدل تعلم الإناث؟ ج. حيث حرمان المرأة من التعليم في بعض المناطق حفاظاً عليها أو بسبب المعتقدات الخطأ- تفضيل الزواج المبكر
٣. يتشابه مناخ الإقليم المداري (السوداني) مع مناخ الإقليم الموسمي؟ ج. حيث يسود فيهما صيف حار ممطر وشتاء جاف
٤. هناك عدة عوامل تؤثر على معدلات الوفيات في العالم؟ ج. حيث يؤثر (١- مستوى السكن والتغذية والخدمات الصحية. ٢- الحروب والكوارث الطبيعية.) على معدلات الوفيات.
٥. يؤثر مستوى السكن والتغذية والخدمات الصحية العامة في معدل الوفيات؟ ج. حيث : ١- تقل معدلات الوفيات في الدول التي تراعى الوقاية الصحية وحماية البيئة من التلوث ٢- تزداد معدلات الوفيات في الدول التي تقل بها الرعاية الصحية وتنتشر فيها الأمراض .
٦. تضم الولايات المتحدة شعباً من سلالات مختلفة؟ ج. حيث يوجد بها السلالة القوقازية والمغولية والزنجية (إشرح)
٧. هناك علاقة بين المناخ وتوزيع السكان في قارة أفريقيا ؟ ج. حيث يتركز سكان أفريقيا في مناطق المناخ المعتدل كما في السواحل والمناطق المرتفعة ويقفون في المناطق الاستوائية الحارة والصحراوية.
٨. هناك علاقة بين التضاريس وتوزيع السكان في قارة آسيا ؟ ج. حيث يتركز سكان آسيا في السهول الفيضية وبعض الجزر ويقفون في المناطق الهضبية والجبلية.
٩. اختلاف المناخ الصيني عن مناخ البحر المتوسط رغم وقوعهما في نفس دوائر العرض؟ ج. حيث يتميز المناخ الصيني بمناخ حار صيفاً معتدل شتاءً ممطر طوال العام ويقع في شرق القارات ، أما مناخ البحر المتوسط مناخ حار جاف صيفاً معتدل ممطر شتاءً ويقع في غرب القارات
١٠. وجود دول جزرية في معظم قارات العالم خاصة آسيا وأفريقيا وأستراليا ؟ ج. حيث توجد في آسيا جزر اليابان والفلبين و إندونيسيا ، وفي قارة أفريقيا جزر القمر (دولة عربية) و مدغشقر . ، وفي قارة أستراليا جزيرة نيوزيلندا الشمالية والجنوبية وجزيرة تسمانيا .
١١. يوجد في الوقت الحاضر بعض السلالات النقية في بعض المجتمعات البدائية؟ ج. حيث تتمثل هذه السلالات في أ- سكان حوض الكونغو وصحراء كلهاري بأفريقيا ب- الإسكيمو وهي تعيش في صحاري التندرا الباردة شمال كندا . ج- الهنود الحمر وهم يعيشون في الأمريكتين خاصة في غابات وجبال أمريكا الجنوبية د- الأستراليون الأصليون .
١٢. يُعد عدد الأطباء مؤشراً مهماً على الرعاية الطبية ؟ ج. حيث كلما زاد عدد الأطباء بالنسبة للسكان في دولة ما دل ذلك على زيادة الرعاية الطبية بها
١٣. تتشابه التضاريس في قارة أمريكا الشمالية وقارة أمريكا الجنوبية ؟ ج. حيث تمتد الجبال من الشمال للجنوب في غرب القارتين وتمتد السهول الفيضية في وسط القارتين .

قارن بين

١. قوة العمل في الدول الفقيرة وقوة العمل في الدول المتقدمة من حيث نوع النشاط الاقتصادي .
- * في الدول المتقدمة : يعملون في الصناعة والخدمات وأقل من ١٠% في الزراعة.
- * في الدول الفقيرة : يعملون بالزراعة فتصل إلى ٨٠% .
٢. السهول الفيضية في أوروبا والسهول الفيضية أمريكا الشمالية من حيث : أ- الامتداد . ب- أهم الأنهار.
- * في أوروبا : يمتد السهل الأوروبي العظيم من المحيط الأطلنطي غرباً إلى جبال أورال شرقاً (الفلوجا-السين- الرين).
- * في أمريكا الشمالية : تمتد السهول في الوسط مثل: نهر) نلسن-سانت لونس - المسيسيبي)
٣. الجبال في قارة أمريكا الشمالية وقارة أمريكا الجنوبية .
- * أمريكا الشمالية : الأبالاش في الشرق- الروكي في الغرب
- * أمريكا الجنوبية : جبال الإنديز في الغرب من أقصى الشمال إلى أقصى الجنوب.
٤. قارة أفريقيا وأستراليا من حيث : مناطق التركيز السكاني في كل منهما
- * أفريقيا: السهول الفيضية (النيل- النيجر)- السهول الساحلية المعتدلة (البحر المتوسط)- المناطق المدارية المرتفعة
- * أستراليا : في السواحل الشرقية (المدن الكبرى والصناعية "سdney")- الجنوب الشرقي في سهول مري ودارلنج

مناطق مرتفعة الكثافة السكانية	السبب
جزيرة جاوة (أكثر مناطق العالم ازدهاماً بالسكان)	من الجزر ذات التربة الجيدة والخصبة .
المناطق مرتفعة السطح بالدول المدارية (أوغندا وكينيا)	لإعتدال المناخ لإرتفاع السطح
دول شرق أوروبا بدرجة أقل	لأنها أقل تقدماً من غرب أوروبا .
البحيرات العظمى بالولايات المتحدة .	لوجود الموارد الاقتصادية الضخمة .
الساحل الشمالي الشرقي بالولايات المتحدة .	وجود موارد اقتصادية ضخمة. والمدن الكبرى مثل نيويورك
مدينة مكسيكو عاصمة المكسيك ومونتريال بكندا.	لوجود المدن الكبرى .
هضبة البرازيل وسواحلها .	لوجود المدن الكبرى .
السواحل الشرقية باستراليا .	لوجود المدن الكبرى مثل سدني والمناطق الصناعية الكبرى.
السهول الساحلية .	لإعتدال المناخ ووجود المناطق السياحية.
السهول الفيضية .	لوجود التربة الخصبة وموارد المياه

01017975786

مناطق منخفضة الكثافة السكانية	السبب
شمال آسيا (سيبيريا) – شمال أوروبا (فنلندا - النرويج)	لبرودة الجو .
المناطق الاستوائية في أفريقيا أمريكا الجنوبية (الأمازون)	لنمو الغابات الاستوائية الكثيفة والظروف الطبيعية القاسية
داخل(وسط) وغرب أستراليا	لسيادة الظروف الصحراوية.
شمال أستراليا	لوجود الغابات الموسمية وحشائش السافانا.
المناطق الجبلية وسط آسيا /ج.البحر الأحمر ، ج.الألب ، ج.الأنديز	لوعورة السطح .
دول البرزخ (هندوراس و كوستاريكا) وبعض الجزر الصغيرة بأمريكا.ش ، هضبة بتاجونيا جنوب أمريكا.ج	

١	انتصر على الصفويين في جالديران ١٥٠١م – انتصر على المماليك في مرج دابق والريديانية	سليم الأول
٢	سلطان مملوكي هُزم من العثمانيين في معركة مرج دابق ١٥١٦م .	قنصوه الغوري
٣	نائب السلطان قنصوه الغوري هُزم من العثمانيين في معركة الريديانية ١٥١٧م .	طومان باي
٤	استطاع الانفراد بحكم مصر ١٧٦٨م- تحالف مع ظاهر العمر حاكم جنوب الشام وأخضع الحجاز	علي بك الكبير
٥	نائب علي بك الكبير لغزو الشام الذي خانه وانحاز للسلطان العثماني واتفق معه ضده.	محمد بك أبو الذهب
٦	قائد الحملة الفرنسية على مصر والشام والذي ترك الحملة وعاد سراً لفرنسا ١٧٩٩م.	نابليون بونابرت
٧	حاكم الاسكندرية الذي واجه الحملة الفرنسية واعتقلته القوات البريطانية واعدمته بالرصاص.	محمد كريم
٨	زعيم المماليك هُزم من الفرنسيين في معركة شبراخيت وإمبابة وهروب إلى الصعيد.	مراد بك
٩	أحد زعماء المماليك اشترك مع مراد بك في مقاومة الفرنسيين وهُزم وفر إلى الشام.	إبراهيم بك
١٠	قائد الأسطول الإنجليزي الذي أغرق الأسطول الفرنسي في معركة أبي قير البحرية .	نلسون
١١	قائد جنود عكا ضد الفرنسيين بمساعدة الأسطول البريطاني .	أحمد باشا الجزائر

١٢	تولى قيادة الحملة بعد رحيل نابليون – أدرك استحالة بقاء الحملة فعقد معاهدة العريش مع العثمانيين – قامت في عهده ثورة القاهرة الثانية - قتل على يد سليمان الحلبي.	كليب
١٣	نقيب الأشراف – زعيم ثورة القاهرة الثانية – لعب دور في تولية محمد على حكم مصر - خلعه محمد على من نقابة الأشراف ثم نفاه إلى دمياط ١٨٠٩م .	عمر مكرم
١٤	تولى قيادة الحملة بعد كليب – كان ينوى البقاء في مصر وتحويلها إلى مستعمرة كبرى – استسلم للقوات البريطانية والجيش العثماني وخرج بالحملة الفرنسية من مصر.	مينو
١٥	والى عثمانى قام زعماء الشعب بعزله وتعيين محمد على مكانه .	خورشيد باشا
١٦	سعت بريطانيا لإسناد ولاية مصر إليه عن طريق حملة فريزر لكنه توفي قبل وصول الحملة	محمد بك الألفى
١٧	قائد الحملة البريطانية (الإنجليزية) على مصر عام ١٨٠٧م .	فريزر
١٨	ساهم في استمرار النهضة التعليمية بعد عودته من أوروبا في عهد محمد على .	رفاعة الطهطاوى
١٩	من علماء النهضة العلمية في عهد محمد على	على مبارك
٢٠	ضابط فرنسي من ضباط جيش نابليون استعان به محمد على في المدارس العسكرية لخبرته	الكولونيل سيف
٢١	توقفت في عهده حركة النهضة التى ظهرت في عهد محمد على بدا إنشاء أول خط حديدي	عباس باشا الأول
٢٢	شهد عهده بداية الأزمة المالية – عقد أول فرض من أحد البنوك البريطانية ١٨٦٢م – منح دليسبس في نوفمبر ١٨٥٤م امتياز تأسيس شركة عامة لحفر قناة السويس.	سعيد باشا
٢٣	موظف أرسلته بريطانيا لمصر ١٨٧٥ لدراسة أسباب سوء الأوضاع المالية وتقديم مقترحات	كيف
٢٤	رئيس الوزارة المختلطة التي تألفت في عهد إسماعيل بناء على طلب لجنة التحقيق الأوروبية	نوبار باشا
٢٥	أعاد المراقبة الثنائية /ورفض اللانحة الأساسية لمجلس النواب/ قامت الثورة العربية في عهده	الخدو توفيق
٢٦	غرف عنه عدانة للحركة الوطنية وخضوعة للنفوذ الأجنبى وتعاونه مع المراقبة الثنائية/عزله الخديو توفيق مضطراً نتيجة لمظاهرة عسكرية في ميدان عابدين ٩ سبتمبر ١٨٨١م .	رياض باشا
٢٧	وزير الجهادية في وزارة رياض باشا الذى عزله الخديو توفيق بعد حادثة قصر النيل .	عثمان رفقى

٢٨	قائد الثورة العربية- قام بمظاهرة عسكرية في ميدان عابدين ٩ سبتمبر ١٨٨١م –عين وزيراً للجهادية في وزارة البارودى- أعتقل وحكم عليه بالإعدام ثم عدل للنفي لجزيرة سيلان.	أحمد عربى
٢٩	شكل الوزارة بعد مظاهرة عابدين/ قدم استقالته لإصرار مجلس النواب على النظر في الميزانية	شريف باشا
٣٠	عين وزيراً للجهادية بعد عزل عثمان رفقى- تولى رئاسة الوزراء بعد استقالة شريف باشا- قدم استقالته احتجاجاً على المذكرة المشتركة الثانية.	محمود سامى البارودى
٣١	كلفه الخديو توفيق بتأليف الوزارة في يونية ١٨٨٢م بعد أن ظلت البلاد بلا وزارة لمدة أسبوعين بعد استقالة البارودى	راغب باشا
٣٢	حصل من سعيد باشا على امتياز تأسيس شركة عامة لحفر قناة السويس – أقتع عربى بعدم تعطيل الملاحة في قناة السويس	فرديناند دليسبس
٣٣	صمد بقواته أمام القوات البريطانية في معركة التل الكبير حتى أستشهد هو ومعظم رجاله.	محمد عبيد
٣٤	خطيب الثورة العربية / ولم يُعتقل مع زعماء الثورة حيث اختفى عن الأنظار.	عبدالله النديم
٣٥	أسس جريدة اللواء ١٩٠٠م/ أسس الحزب الوطنى ١٩٠٧م/ دعا لإنشاء الجامعة المصرية ١٩٠٨م	مصطفى كامل
٣٦	أول وأقوى معتمد بريطانى / واستقال نتيجة تنديد مطفى كامل بحادثة دنشواى ١٩٠٦م .	اللورد كروكر
٣٧	تولى زعامة الحزب الوطنى ١٩٠٨م بعد وفاة مصطفى كامل/ طالب بإنشاء (مجلس نيابى له سلطات واسعة - نقابات للعمال- مدارس الشعب الليلية) أن يكون التعليم إلزامياً وبالمجان فى المرحلة الابتدائية	محمد فريد
٣٨	عارض مشروع مد امتياز قناة السويس ٤٠ عام.	عباس حلمى الثانى
٣٩	تحول عن موازنة الحركة الوطنية إلى موالاة الاحتلال الإنجليزي	رئيس أمريكى أعلن مبادنة ١٤ منها حق ابشعوب فى تقرير مصيرها / اعترف بالحماية البريطانية على مصر فى مؤتمر الصلح بباريس.
٤٠	شكل أول وزارة برلمانية ١٩٢٤م/ استقال بعد مقتل السير لى ستاك/نفي لجزيرة مالطة ثم سيشل	سعد زغول
٤١	المنذوب السامى الذى رفض السماح للوفد المصرى بالسفر لمؤتمر الصلح ونفى سعد زغول	السير ونجت
٤٢	عين بدلاً من ونجت وقدم إنذار لحكومة سعد زغول لسحب الجيش من السودان بعد قتل لى ستاك	الجنرال اللنبى

٤٣	رئيس الوزراء شكل لجنة من ٣٠ عضواً لإعداد الدستور الذى عرف بدستور ١٩٢٣م.	عبدالحق ثروت
٤٤	رئيس مجلس الشيوخ تولى الوزارة بعد استقالة سعد زغول وقام بسحب الجيش من السودان	زيور باشا
٤٥	تولى رئاسة الوزراء وألغى دستور ١٩٢٣م ووضع مكانه دستور ١٩٣٠م.	إسماعيل صدقى
٤٦	تولى زعامة حزب الوفد بعد وفاة سعد زغول ١٩٢٧م/ وقع مع بريطانيا معاهدة ١٩٣٦م / ألغا معاهدة ١٩٣٦م فى أكتوبر ١٩٥١م .	مصطفى النحاس
٤٧	اعلن نفسه ملكاً على مصر بعد تصريح ٢٨ فبراير ١٩٢٢م/ قام بإلغاء دستور ١٩٣٠م واعداد دستور ١٩٢٣م بعد إعتراض الشعب على دستور ١٩٣٠م .	الملك فؤاد
٤٨	إزداد نفوذ القصر الملكى بإعتلائه العرش بعد معاهدة ١٩٣٦م/ قبل إنذار ٤ فبراير ١٩٤٢م وعرض الوزارة على مصطفى النحاس فقبل .	الملك فاروق
٤٩	وزير المستعمرات البريطانية أرسلته بريطانيا لإقناع الشعب المصرى بقبول الحماية البريطانية	ملتر
٥٠	تفاوض مع سعد زغول وانتهت المفاوضات بمشروع معاهدة رفضه الشعب .	كيرزون
٥١	وزير خارجية بريطانيا الذى دارت مفاوضات بينه وبين عدلى يكن ١٩٢١م ولكنها فشلت.	السير لى ستاك
٥٢	القائد العام للجيش المصرى والحاكم العام للسودان والذى أعتيل ١٩ نوفمبر ١٩٢٤م	رئيس وزراء مصر الذى دارت مفاوضات بينه وبين كيرزون ١٩٢١م ولكنها فشلت.

بم تفسر

- ١ : توجيه الخديو إسماعيل حملات حربية للأقاليم الاستوائية ؟
- ج : لمنع تجارة الرقيق والتوسع فى الجنوب السيطرة على مياه النيل
- ٢ : إنشاء الخديو إسماعيل للمحاكم المختلطة عام ١٨٧٥م ؟
- ج : للحد من مساوئ المحاكم القبطية .
- ٣ : إنشاء الخديو إسماعيل لصندوق الدين مايو ١٨٧٦م ؟
- ج : لتسلم المبالغ المخصصة للديون – الإشراف على تسديد الديون لأصحابها. (كان بمثابة خزانة فرعية للخزانة المصرية
- ٤ : رفض شريف باشا مناقشة مجلس النواب للميزانية ؟
- ج : لكى يتجنب الاصطدام بالدول الأوروبية .
- ٥ : تخلى فرنسا عن مساندة مصطفى كامل ؟
- ج : بسبب عقدها الاتفاق الودى مع إنجلترا عام ١٩٠٤م .
- ٦ : نفى سعد زغول ورفاقه إلى جزيرة مالطة فى مارس ١٩١٩م ؟
- ج : بسبب قيام الوفد المصرى بجمع التوكيلات من الأمة – رفض سلطات الاحتلال مطالب الوفد المصرى .

٧ : إرسال بريطانيا لجنة برئاسة اللورد ملنر إلى مصر ؟

ج : لإقناع الشعب المصري بقبول الحماية البريطانية على مصر .

٨ : رفض الشعب المصري التفاوض مع لجنة ملنر ومقاطعتها ؟

ج : لأن التفاوض مع لجنة ملنر يعنى التنازل عن الوكالة للوفد المصري برئاسة سعد زغلول .

٩ : فشل مهمة الوفد المصري في باريس. صُدم أعضاء الوفد المصري بعد وصولهم إلى باريس ؟ ج : لإعتراف كل من الدول الموجودة بالمؤتمر والرئيس الأمريكي ولسن بالحماية البريطانية على مصر .

١٠ : لم يحقق تصريح ٢٨ فبراير ١٩٢٢م للمصريين أمانيهم الوطنية؟ ج: بسبب إحتفاظ بريطانيا بعدة أمور قيدت إستقلال مصر وهى التحفظات الأربعة . (أكتيهم)

١١ : استقالة وزارة سعد زغلول (أول وزارة برلمانية) عام ١٩٢٤م ؟

ج : بسبب رفضها إنذار اللورد اللنبى بعد مقتل السير لى ستاك وطلبه لعدة مطالب منها سحب الجيش من السودان

١٢ : معارضة الشعب المصري لدستور ١٩٣٠م ؟ ج : لأنه أعطى للملك مزيداً من السلطات وأهدر سلطة الأمة وحقوقها في مواضع كثيرة .

١٣ : لم يودى تعدد الأحزاب بعد دستور ١٩٢٣م إلى إثراء الحياة النيابية في مصر ؟ ج : لأن الأحزاب كانت أداة للقصر الملكى وبريطانيا لتحقيق مصالحهما دون النظر لمصالح الشعب المصري ؟

١٤ : إنشاء مدارس الشعب الليلية ؟ ج : لتعليم العمال والفقراء مجاناً .

١٥ : اتصال مصطفى كامل بالقوى الدولية ؟

ج : لتعريف القوى الدولية وخاصة فرنسا بحق مصر في الاستقلال .

١٦ : تدهور التعليم في ظل الاحتلال البريطانى لمصر ؟

ج : لأنهم عملوا على جعله بمصروفات مرتفعة وحصره في فئة قليلة بهدف تخريج موظفين للعمل في الإدارات الحكومية

١٧ : المذكرة المشتركة الأولى يناير ١٨٨٢م ؟ ج : لرغبة بريطانيا وفرنسا في تقوية مركز الخديو توفيق في مواجهة الحركة الوطنية .

١٨ : المذكرة المشتركة الثانية مايو ١٨٨٢م ؟ ج : لرغبة بريطانيا وفرنسا في تقوية مركز الخديو توفيق في مواجهة العسكريين .

١٩ : استقالة وزارة شريف باشا ؟

ج : لإصرار مجلس النواب على مناقشة الميزانية .

٢٠ : استقالة البارودى من رئاسة الوزارة ١٨٨٢م ؟

ج : اعتراضاً على المذكرة المشتركة الثانية .

٢١ : وقوع حادث ٤ فبراير ١٩٤٢م (حصار الدبابات البريطانية قصر

عابدين) ؟ ج : بسبب ملاحظة الملك فاروق في تعيين مصطفى النحاس باشا رئيساً للحكومة .

٢٢ : اعتبار يوم ٢٥ يناير من كل عام عيداً للشرطة ؟

ج : لأنه ذكرى استشهاد عدد كبير من المصريين في المقاومة الباسلة لجنود الشرطة عندما حاصرت القوات البريطانية مبنى محافظة الاسماعيلية لنزع سلاح جنود الشرطة .

٢٣ : يعتبر عهد إسماعيل عهد الإصلاح النيابى ؟

ج : لأنه أنشأ مجلس شورى النواب عام ١٨٦٦م وعمل على وضع اللائحة الأساسية (الدستور) والحكومة المسؤولة ١٨٧٨ م

٢٤ : عزل الخديو إسماعيل وتولية ابنه الخديو توفيق ؟

ج : بسبب قيامه بـ ١-إقصاء الوزيرين الأجبيين عن الوزارة. ٢- إصدار مرسوم أبريل ١٨٧٩م بتسوية الديون طبقاً للائحة الوطنية . لذلك قامت بريطانيا وفرنسا بالضغط على السلطان لعزلة وتولية ابنه توفيق .

٢٥ : المظاهرة الوطنية بقيادة أحمد عرابى ٩سبتمبر ١٨٨١م في ميدان عابدين ؟ للمطالبة بـ

ج: ١-عزل وزارة رياض المستبدة-٢تشكيل مجلس نواب على النسق الأوروبى٣-زيادة عدد الجيش إلى ١٨ ألف جندى.

٢٦ : هزيمة العربيين في التل الكبير ؟

ج :-إعلان السلطان العثماني منشوراً بعصيان عرابي في ٩سبتمبر ١٨٨٢م - عدم تكافؤ القوة العسكرية بين الطرفين.

- ميول بعض عناصر القوات المصرية للخديو والانجليز.

٢٧ : توقف حركة النهضة في عهد عباس باشا الأول ؟

ج : أ- أغلق معظم المدارس والمصانع ب- خفض حجم الجيش من حيث العدد والأسلحة ج- عطل أعمال الترسانة البحرية

٢٨ : إجحاف شروط الامتياز الثانى لحفر قناة السويس بالنسبة لمصر

والمصريين ؟ ج : بسبب :أنها كانت لصالح الشركة ١- تنازل الحكومة المصرية مجاناً عن جميع الأراضي المطلوبة لإنشاء القناة المالحة والترعة الخصبة.٢- يكون اربع أخماس العمال من المصريين . ٣- تحصل مصر ١٥% من صافى الأرباح.

٢٩ : ازدياد التدخل الاجنبى في مصر في عهد الخديو اسماعيل ؟

ج : بسبب ١-سياسة الاقتراض ٢-الإتفاق ببذخ على حفلات افتتاح قناة السويس ٣-الامتيازات الاجنبية. ٤- علاقته بالسلطان

٣٠ : إنشاء لجنة التحقيق الأوروبية في مصر عام ١٨٧٨م ؟

ج : لزيادة الأمور المالية سوءاً وارتباكاً في مصر فطالب الرقيبان الأجبيين إنشائها للتحقيق في الشئون المالية والإدارية

٣١ : قيام الثورة العربية ؟ ج : ١- ازدياد التدخل الاجنبى في شئون مصر . ٢- المؤثرات الفكرية الغربية التى أدت لنمو الوعي القومى.

٣- سوء أحوال مصر الاقتصادية في عهد وزارة رياض باشا. ٤- اضطهاد عثمان رفقى للضباط المصريين .

٣٢ : قيام ثورة ١٩١٩م ؟

ج : ١-ازدياد نمو الوعي الوطنى. ٢- الإجراءات العنيفة التى اتخذتها بريطانيا أثناء الحرب ١٩١٤- ٣- ادعاء إنجلترا وحلفائها أنها تحارب من أجل حرية واستقلال الشعوب. ٤- إعلان الرئيس الأمريكى ولسن مبادنة ١٤٠١ .

٣٣ : وجود خلاف بين الحكومة المصرية وبريطانيا عقب اندلاع الحرب العالمية الثانية ؟ ج : بسبب إصرار بريطانيا على أن تعلن مصر الحرب على دول المحور وهو ما كانت ترفضه الحكومة المصرية.

٣٤ : اعتمد الخديو عباس في علاقته بالسلطان على تقديم المال والهدايا ؟

ج : للحصول على فرمانات يوسع بها نطاق حكمه ومنها

(جعل وراثة العرش في أكبر أبنائه- زيادة عدد الجيش المصر).

01017975786

٣٥ : فشل الثورة العربية ؟

ج : - عدم تكافؤ القوة العسكرية بين الطرفين.

- ميول بعض عناصر القوات المصرية للخديو والانجليز.

- تواطؤ إدارة قناة السويس(دليسيبس) مع الانجليز وتسهيل دخولهم القناة.

- اعلان السلطان العثماني منشوراً بعصيان عرابي في ٩سبتمبر ١٨٨٢م - عدم إدراك قيادة الثورة لأهمية التعبئة الشعبية لمساندة القوات المصرية - الظروف الدولية عام ١٨٨٢م لم تكن في صالح الحركة الوطنية .

٣٥ : هزيمة الجيوش المملوكية في معاركهم مع العثمانيين ؟

ج : ١- عدم الاستقرار الداخلى للممالك والنزاع المستمر على السلطة. ٢- التفوق العسكرى للجيوش العثمانية .

٣٦ : هزيمة المماليك أمام الحملة الفرنسية ؟

ج : بسبب: اعتماد المماليك على الفروسية بينما استخدم الفرنسيون المدافع والمعدات الحديثة .

٣٧ : اصطحاب نابليون لمجموعة من العلماء عند قدوم الحملة الفرنسية إلى مصر ؟

ج : لدراسة أحوال مصر من جميع النواحي وكيفية استغلال مواردها .

٣٨ : حمل نظام الحكم العثماني في ثنياه عوامل ضعفه ؟

ج : بسبب: - قصر مدة حكم الوالى من ١ : ٣ سنوات . - زيادة سلطة الديوان والحامية العثمانية .

٣٩ : فشل حركة على بك الكبير ؟

ج : بسبب إحتياز محمد بك أبو الذهب (نائب على بك الكبير) للسلطان العثماني واتفاقه معه ضد على بك الكبير.

٤٠ : تدهور وتأخر الصناعة في مصر أثناء العصر العثماني ؟

ج : بسبب:- تدهور الزراعة. - إرسال أمهر الحرفيين والصناع المصريين إلى الآستانة عاصمة الدولة العثمانية.

٤١ : اتسمت الحياة الفكرية والثقافية في مصر بالجمود والتخلف أثناء الحكم العثماني ؟ ج : بسبب العزلة التى فرضها العثمانيون على مصر .

٤٢ : فشل القوات الفرنسية في إخضاع أهالى الصعيد ؟

ج : مقاومة أهالى الصعيد واتباعهم حرب المناوشات والمعارك المتفرقة التى أنهكت قوة الفرنسيين نظراً لطول الوادى .

٤٣ : الحملة الفرنسية على الشام فى مارس ١٧٩٩م ؟

ج: لرغبة نابليون فى القضاء على الجيش العثماني القادم من الشام قبل أن يصل إلى مصر .

٤٤ : فشل نابليون فى دخول عكا ؟

ج- مقاومة واستبسال أهالى عكا بقيادة احمد باشا الجزار. - مساعدة الأسطول البريطانى وإمداده لأهالى عكا بالمؤن .

٤٥ : رحيل نابليون سراً إلى فرنسا ؟

ج :بسبب تحالف الدول الأوروبية ضد فرنسا .

٤٦ :عقد معاهدة العريش عام ١٨٠٠م ؟ج: لأن كليبر أدرك استحالة بقاء الحملة الفرنسية في مصر في ظل الأخطار التى تهددها من كل جانب .

٤٧ : فشل معاهدة العريش عام ١٨٠٠م ؟

ج : بسبب رفض حكومة بريطانيا الاتفاق وطلبت استسلام الجيش الفرنسى كأسرى حرب فرفض كليبر.

٤٨: ثورة الشعب المصري في مارس ١٨٠٤م ؟

ج : بسبب فرض الولاة العثمانيين الضرائب والإتاوات على الأهالي .

٤٩: تخلص محمد علي من المماليك ؟ ج : لأنه كان يرى أنهم يمثلون مصدر للقلق والفوضى في مصر ، بالإضافة لرغبته في الأفراد بالحكم .

٥٠: تنظيم محمد علي الاقتصاد المصري على أساس نظام الاحتكار ؟

ج : ليضمن دخوله منافساً في سوق التجارة الدولية .

٥١: نشطت التجارة الداخلية والخارجية في عهد محمد علي ؟

ج : بسبب ازدهار الزراعة والصناعة - والاستقرار الداخلي .

٥٢: تدهور طبقة التجار في عهد محمد علي ؟

ج : بسبب تطبيق محمد علي لنظام الاحتكار في التجارة .

٥٣: اهتمام محمد علي بالتعليم والثقافة ؟ ج : لحاجته إلى - موظفين لسد حاجة المصالح الحكومية. - فنيين ومتخصصين لسد حاجة الجيش والأسطول

٥٤: استعان محمد علي ببعض الأساتذة الأجانب ؟

ج : بهدف : - التدريس في المدارس العليا . - المساهمة في الترجمة .

٥٥: إنشاء محمد علي للمطبعة الأميرية في بولاق ؟

ج : بهدف : - طبع الكتب اللازمة للمدارس. - طبع الكتب الأدبية والفنية . - إصدار صحيفة الوقائع المصرية .

٥٦: أعاد محمد علي تنظيم الإدارة في مصر ؟

ج : لكي يضمن السيطرة الكاملة في شئون البلاد .

٥٧: عقد معاهدة لندن الدولية عام ١٨٤٠م . (تدخل الدول الأوروبية أمام

ازدياد نفوذ محمد).

ج : بسبب إدراك الدول الأوروبية أن محمد علي أصبح يمثل خطراً على التوازن الدولي نتيجة انتصاراته وازدياد نفوذه.

٥٨: توتر العلاقة بين محمد علي والسلطان العثماني في نهاية حروب

اليونان ؟ ج : بسبب تفاوض محمد علي مباشرة مع الدول الأوروبية لتأمين انسحاب الجيش دون الرجوع للسلطان .

٥٩: اهتمام محمد علي ببناء القوة العسكرية ؟ ج : لأنه أدرك أن القوة

العسكرية هي الدعامة الأساسية لتحقيق أهدافه في بناء الدولة الحديثة .

٦٠: اهتمام نابليون بإنشاء الدواوين في مصر ؟

ج : لتدريب العلماء والأعيان على نظام مجالس الشورى من حيث

الاستشارة وتلقى الآراء بما يعود بالنفع على الأهالي.

٦١: شهدت مصر فترة فوضى واضطرابات بعد خروج الحملة الفرنسية

وحتى توليه محمد علي الحكم ؟

ج: بسبب الصراعات بين المماليك والعثمانيين وانجلترا رغبة في استئثار

كل منهم في السيطرة وبسط النفوذ على مصر.

٦٢: التحالف البريطاني الروسي مع الدولة العثمانية عام ١٧٩٩م ؟

ج : لإخراج الفرنسيين من مصر بالقوة العسكرية واسترداد مصر .

٦٣: نجاح محمد في كسب عطف الشعب المصري وثقة زعمائه أثناء ثورة الشعب في مارس ١٨٠٤م ؟

ج :- جاهر بالانضمام إلى العلماء والمشايخ. - اختلط بالأهالي الساخطين .

- تعهد للعلماء ببذل قسار جهده لرفع الضريبة عن الناس. - اقترح تعيين

خورشيد باشا والياً على مصر وتم تعيينه من قبل السلطان العثماني

٦٤: نفى محمد علي للسيد عمر مكرم إلى مدينة دمياط ؟

ج : لأنه أراد أن ينفرد بالحكم دون وصاية أو رقابة شعبية .

٦٥: حملة فريزر على مصر ١٨٠٧م ؟ ج : ١- إحتلال مصر . ٢- خلع محمد

على . ٣- تولية محمد بك الألفي حكم مصر.

٦٦: ازدهار التعليم والنهضة التعليمية في عهد الخديو إسماعيل ؟

ج : أعاد فتح ديوان المدارس - وأنشأ دار الكتب ودار الرصد ومصلحة الإحصاء والمساحة والجمعية الجغرافية ١٨٧٥م.

٦٧: حروب محمد علي في الجزيرة العربية والسودان واليونان والشام ؟

ج : - الجزيرة العربية: للقضاء على الحركة الوهيبية التي تهدد نفوذ الدولة

العثمانية في الجزيرة العربية. - السودان: لرغبة محمد علي في تحقيق

مكاسب سياسية واقتصادية وعسكرية. - اليونان: للقضاء على ثوار

اليونان في المورة الذين طالبوا بالاستقلال عن الدولة العثمانية .

- الشام: لتوتر العلاقة بين محمد علي والسلطان بعد تفاوضه مع الدول

الأوروبية./تصميم محمد علي على الانفصال

٦٨: إصدار السلطان العثماني فرمان بنقل محمد علي إلى ولاية أخرى عام

١٨٠٦م ؟ ج : بسبب ضغط بريطانيا على السلطان لعزل محمد علي وتولية

محمد بك الألفي أو أي والي عثماني أخر .

٦٩: كان كليبر من أنصار رحيل الحملة الفرنسية عن مصر ؟

ج : بسبب الأخطار التي تحيط بالحملة من كل جانب (تناقص عدد الجنود ،

عودة المماليك للمقاومة ، تجدد ثورات المصريين)

٧٠: تدهور دولة المماليك اقتصادياً وسياسياً منذ أواخر القرن الـ ١٥ م ؟

ج: أ- اقتصادياً : إكتشاف طريق رأس الرجاء الصالح عام ١٤٩٨م . - تحطم

الأسطول المملوكي في معركة ديو البحرية ١٥٠٩م .

ب- سياسياً : - اضطراب الأمن . - الصراع المستمر بين المماليك. - كثرة

الفتن والثورات الداخلية .

٧١: اتجاه العثمانيين للاستيلاء على مصر والشام .(رغبة سليم الأول في

الاستيلاء على أراضي الدولة المملوكية) ؟

ج : أ- إدراك سليم الأول خطورة التوسع في أوروبا لتفوقها حضارياً

وعسكرياً على العثمانيين . ب- رغبة سليم الأول في توسيع ممتلكاته في

الشرق بالاستيلاء على مصر التي تمثل قلب العالم الإسلامي .

٧٢: تدهور الزراعة في مصر خلال العصر العثماني. (تدهور أحوال المجتمع

الريفي في مصر أثناء الحكم العثماني).ج: بسبب معاناة الفلاح من - كثرة

الضرائب المفروضة على الأراضي الزراعية وتعسف وظلم الملتزمين في

جمعها - إهمال الحكام لتنظيم الري وإقامة السدود وحفر الترع .

٧٣: تدهور التجارة الداخلية والخارجية في مصر تحت الحكم العثماني ؟

ج : أ- التجارة الداخلية : بسبب : تدهور الزراعة والصناعة . - افتقاد

الأمن . - إهمال الطرق البرية . ب- التجارة الخارجية : بسبب : تحول

الطريق التجاري بين الشرق والغرب إلى طريق رأس الرجاء الصالح .

ج - منح الدولة العثمانية الامتيازات الأجنبية للدول الأوروبية .

٧٤: قيام ثورة القاهرة الأولى في أكتوبر ١٧٩٨م ؟ج: بسبب - فرض نابليون

ضرائب فادحة على المصريين . - قيام جنود الحملة بـ (تفتيش البيوت بحثاً

عن الأموال . - هدم أبواب الحارات لمطاردة عناصر المقاومة. - هدم كثير

من المباني والآثار والمساجد بحجة تحصين القاهرة)

٧٥: اتجاه محمد فريد إلى الجهاد ضد الاحتلال والخديو عباس حلمي الثاني

في وقت واحد؟ ج: بسبب تحول الخديو عباس حلمي الثاني عن موازنة

الحركة الوطنية إلى مولاة الإحتلال البريطاني.

٧٦: الحملة الفرنسية على مصر عام ١٧٩٨م ؟

ج : ١- تعويض فرنسا عن فقد مستعمراتها بإنشاء مستعمرة تكون قاعدتها مصر. ٢- قطع الطريق بين إنجلترا ومستعمراتها في الهند .

٧٧: ازدهار الزراعة في عهد محمد علي ؟ ج : حيث قام بـ أ- إلغا نظام

الإلتزام ووزع مساحات الأراضي على الفلاحين. ب- إحلال اساليب

زراعية حديثة ومحاصيل جديدة. ج- الاهتمام بالتعليم الزراعي واستقدام

خبراء. د- تحسين طرق الري وبناء القناطر الخيرية.

ما النتائج المترتبة على

١. حملة فريزر على مصر ١٨٠٧م. ؟ ج. أ- هزيمة الحملة في رشيد

والحماد. ب- جلاء الحملة مقابل الإفراج عن الأسرى. ج- دخول محمد

علي الأسكندرية منتصراً

٢. حادثة قصر النيل ١٨٨١م ؟ ج. موافقة الخديوي توفيق وعزل عثمان

رفقي ناظر الجهادية وتعيين محمود سامي البارودي

٣. المظاهرة عابدين يوم ٩ سبتمبر ١٨٨١م ؟

ج. اضطر الخديو إلى الموافقة على مطالب الأمة والجيش وإسناد

الوزارة إلى شريف باشا بعد عزل رياض باشا.

٤. إلغاء إسماعيل صدقي لدستور ١٩٢٣م ووضع دستور ١٩٣٠م. ؟

ج. - رفض الشعب المصري له (ما النتائج) فاضطر الملك فؤاد للرضوخ

لمطالب الأمة وإعادة دستور ١٩٢٣م.

٥. الاحتلال البريطاني بالنسبة للجيش المصري ؟

ج. أنشاء جيش لا يتجاوز ستة آلاف جندي بقيادة ضابط إنجليزي .

٦. معاهدة ١٩٣٦م. ؟

ج. ١- إنهاء إحتلال مصر عسكرياً ٢- إلغاء الإمتيازات الأجنبية بعد

مؤتمر مونتر و١٩٣٧م. ٣- إنضمام مصر لعصبة الأمم . ٤- تقوية

الجيش المصري. ٥- حرية مصر في عقد المعاهدات السياسية. ٦- عودة

القوات المصرية للسودان.

٧. إلغاء معاهدة ١٩٣٦م. ؟ ج. أدى إلى أ- إطلاق الحرية للشعب

للمضال ضد القوات البريطانية في القناة. ب- مهاجمة جماعات الفدائيين

للمعسكرات البريطانية. ج- زيادة عدد جنود الشرطة لمساعدة الفدائيين

٨. انتصار السلطان سليم الأول على الدولة المملوكية في مصر والشام؟

ج. - انتهاء الدولة المملوكية في مصر والشام - وانتقال خلافة العالم

الإسلامي الدينية والسياسية إلى الدولة العثمانية - أعلن سليم الأول

نفسه الحامي الوحيد للحرمين الشريفين - تحول مصر من دولة مستقلة

إلى مجرد ولاية عثمانية.

٩. معارضة الإنجليز لتولية محمد علي حكم مصر ؟

ج. قامت بـ ١- الضغط على السلطان العثماني لنقله إلى ولاية سالونيك.

٢- إرسال حملة فريزر لخلعه ١٨٠٧م.

١٠. انحياز محمد بك أبو الدهب للسلطان العثماني ضد علي بك الكبير؟

ج. فشل حركة علي بك الكبير الاستقلالية.

١١. فشل حركة علي بك الكبير الاستقلالية؟ ج. عودة مصر ولاية

عثمانية تحت حكم شيخ البلد محمد بك أبو الدهب.

١٢. معاهدة العريش ١٨٠٠م. ؟ ج. فشلت المعاهدة - هاجم كليبر القوات

العثمانية بعد أن سمح بدخولها القاهرة .

١٣. إكتشاف حجر رشيد ؟ ج. التعرف على التاريخ المصري القديم .

١٤. معركة نفارين البحرية عام ١٨٢٧م ؟

ج. هزيمة الجيش وتحطيم الأسطول المصري .

١٥. معركة ديو البحرية ١٥٠٩م ؟ هزيمة وتحطيم الأسطول المملوكي .

١٦. صراع المماليك المستمر على السلطة ؟

ج. إضعاف القوة العسكرية للمماليك وهزيمتهم أمام العثمانيين.

١٧. مذبحه القلعة مارس ١٨١١م ؟

ج. تخلص محمد علي من خطر المماليك وانفرد بحكم مصر .

١٨. ثورة القاهرة الأولى ١٧٩٨م ؟

ج. إعدام كثير من الأهالي والثوار – فرض الغرامات خاصة على التجار

والعلماء . – الشروع في تحصين القاهرة.

١٩. ثورة القاهرة الثانية ؟ ج. أ- تدمير حى بولاق . ب- فرض المزيد من

الضرائب ومصادرة الأموال .

٢٠. اكتشاف طريق رأس الرجاء الصالح ١٤٩٨م ؟

ج. تعرض دولة المماليك لآزمات مالية وتدهور اقتصادي. وتدهور التجارة

الخارجية لمصر أثناء العصر العثماني.

٢١. مفاوضات محمد علي مع القوى الأوروبية لتأمين انسحاب الجيش

المصري من المورة ؟ ج. أ- علو مكانة مصر دولياً ب- توتر العلاقة بين

محمد علي والسلطان العثماني ج. نمو فكرة الانفصال لدى محمد علي

٢٢. الانتقادات التي وجهتها الحركة الوطنية للوزارة المختلطة ؟

ج. قيام الخديوي إسماعيل بـ

أ. إقصاء الوزيرين الأجبيين عن الوزارة. ب- إصدار مرسوم أبريل ١٨٧٩م

بتسوية الديون طبقاً لـ الانحة الوطنية.

٢٣. إنشاء المحاكم المختلطة ؟

ج. تدخل القضاة الأجانب في سلطة القضاء التشريعي المصري .

٢٤. إنشاء المحاكم القنصلية ؟

ج. تنازل المصريين عن حقوقهم لأن أحكامها لا تستأنف إلا في الخارج.

٢٥. صدور دستور ١٩٢٣م ؟

ج. إجراء إنتخابات عامة وحصول حزب الوفد على الأغلبية وبالتالي

أ- شكل سعد زغلول أول وزارة برلمانية يناير ١٩٢٤م. ب- افتتاح أول

برلمان مصري مارس ١٩٢٤م .

٢٦. معركة أبي قير البحرية في أغسطس ١٧٩٨م ؟

أ- تحطيم الأسطول الفرنسي. ب- حصار الأسطول البريطاني لسواحل مصر

الشمالية. توقف حركة التجارة الخارجية. ج- حرمان الحملة من امدادات

فرنسا لها. د. شعور الجنود أنهم محاصرون داخل مصر .

٢٧. حروب محمد علي في الجزيرة العربية ؟

ج. أدى إلى سيطرة " محمد علي" على الجزيرة العربية .

٢٨. حروب محمد علي في بلاد اليونان ؟

أ- ضم جزيرة كريت لولاية مصر. ب- هزيمة الجيش وتحطيم الأسطول

المصري. ج- علو مكانة مصر دولياً .

٢٩. تنديد الزعيم مصطفى كامل بحادثة دنشواي عام ١٩٠٦م

(كفاح مصطفى كامل ضد الاحتلال البريطاني) ؟

أ- استقالة اللورد كرومر . ب- إشتداد الحركة الوطنية.

٣٠. هزيمة طومان باي في معركة الريدانية ١٥١٧م ؟

أ- انتصار العثمانيين. ب- دخول العثمانيين القاهرة. ج- انتهاء دولة

المماليك وأصبحت مصر ولاية عثمانية

٣١. مذبحه يافا البشرية ١٧٩٩م ؟ ج. أدى إلى شدة مقاومة جنود عكا في

الدفاع عن مدينتهم بقيادة أحمد باشا الجزار

٣٢. قيام ثورة ١٩١٩م ؟ ج. قيام الحكومة البريطانية بـ

أ- عزل السير ونجت وتعيين الجنرال النني. ب- الإفراج عن سعد زغلول

والسماح له بالسفر لحضور مؤتمر الصلح.

٣٣. الاتفاق الودى بين فرنسا وبريطانيا عام ١٩٠٤م ؟

ج. تخلى فرنسا عن تأييدها لمصطفى كامل .

٣٤. استعانة محمد علي بالمصريين في تكوين الجيش ؟

ج. أثبتوا كفاءتهم في : أ- الانتظام في التدريب. ب- إطاعة الأوامر

العسكرية. ج- ميادين القتال الخارجية .

٣٥. ضم محمد علي للسودان ؟ أ- امتداد نفوذ مصر إلى جنوب السودان.

ب- إنشاء مدينة الخرطوم . ج- اكتشاف منابع النيل .

٣٦. إهمال الدولة العثمانية الحياة الفكرية والثقافية في مصر ؟

ج. جمود وتخلف الحياة الفكرية والثقافية وإهتزاز مكانة الأزهر وتدهور

الحياة الأدبية وشاع الجهل وانتشر الدجل والشعوذة

٣٧. حروب محمد علي في شبه الجزيرة العربية ؟

ج. سيطرة محمد علي شبه الجزيرة العربية.

٣٨. العزلة التي فرضها العثمانيون على البلاد ؟ ج. أصبحت ولاية معزولة

عن الموثرات الحضارية الحديثة في أوروبا.

٣٩. اغتيال السير لى ستاك القائد العام للجيش المصري ؟

ج. تقديم اللورد النني إنذاراً للحكومة وطلب عدة مطالب منها سحب الجيش

من السودان. – رفضت وزارة سعد زغلول المطالب واستقالت. – تألفت

وزارة برئاسة زيور باشا والتي قبلت المطالب البريطانية .

٤٠. حادث ٤ فبراير ١٩٤٢م ؟

ج. قبول الملك فاروق الإنذار وعرض الوزارة على مصطفى النحاس فقبل .

٤١. معارضة محمد فريد مشروع مد امتياز قناة السويس ؟

ج. إجبار الحكومة على دعوة مجلس شورى القوانين والجمعية العمومية

لمناقشة طلب الشركة مما أدى لرفض المشروع.

٤٢. فشل مفاوضات عدلي / كيرزون ١٩٢١م ؟

ج. أ- استقالة عدلي يكن. ب- رفض رجال السياسة تشكيل حكومة جديدة .

٤٣. إصدار تصريح ٢٨ فبراير ١٩٢٢م ؟

ج. أعلن الملك فؤاد نفسه ملكاً على مصر. ب- أعيدت وزارة الخارجية. جـ

شكلت وزارة عبدالخالق ثروت لجنة من ٣٠ عضواً لإعداد دستور ١٩٢٣م

٤٤. معركة التل الكبير سبتمبر ١٨٨٢م ؟

ج. هزيمة الجيش المصري – اتجاه القوات البريطانية إلى القاهرة لاحتلالها.

٤٥. إصدار السلطان العثماني منشوراً بإعلان عصيان عرابي ؟ ج. إضعاف

الروح المعنوية للمقاتلين المصريين مما كان سبباً في هزيمتهم في التل الكبير.

٤٦. خيانة ديليسبس لعرابي بالنسبة لأمر قناة السويس ؟

ج. دخول القوات البريطانية لقناة السويس واحتلت الاسماعيلية.

٤٧. حروب محمد علي في الشام ١٨٣١م – ١٨٣٩م ؟ ج. وصول القوات

المصرية إلى الشام وأعلى الفرات. ب- امتداد النفوذ المصري في بلاد الشام.

٤٨. إصدار سعيد باشا اللاحة السعيدية عام ١٨٥٨م ؟

ج - جعلت للفلاح الحق في توريث الأرض الزراعية

دلل على صحة العبارة الآتية

١. حدوث نهضة زراعية في عهد سعيد باشا؟. حيث أ - أصدر اللانحة

السعيدية والتي جعلت للفلاح الحق في توريث الأرض الزراعية .

ب - اهتم بتطهير ترعة المحمودية لتقى بحاجة الري والزراعة.

٢. توحدت جميع فئات وعناصر الشعب المصري خلال ثورة ١٩١٩م ؟

حيث أشترك فيها جميع طوائف الشعب المصري.

٣. أثرت سياسة محمد علي الاقتصادية في تشكيل وبناء القوى

الاجتماعية في مصر ؟ حيث تدهورت وإختفت بعض الطبقات الاجتماعية

وظهرت طبقات أخرى مثل إختفاء المماليك كهيبة حاكمة وظهور أسرة

محمد علي وبعض العناصر التركية وتضائل نفوذ ومكانة العلماء وظهور

طبقة الأعيان وظهور البدو كهيبة إجتماعية وعمال الصناعة وتدهور

طبقة التجار وظهور التجار الأجانب ووكلائهم.

٤. كان لدستور عام ١٩٢٣م العديد من المزايا ولكنه لم يخل من العيوب ؟

* حيث المزايا: ١- كان خطوة في تقرير أن الأمة هي مصدر السلطات.

٢- وضع نهاية للحكم المطلق. ٣- قرر مبدأ المساواة بين جميع

المصريين في الحقوق والواجبات مع احترام الحريات العامة.

العيوب : أعطى للملك سلطات واسعة تجاه السلطتين التشريعية

والتنفيذية فكان من حقه حل البرلمان.

٥. تصريح ٢٨ فبراير ١٩٢٢م لم يحقق الاستقلال الكامل لمصر ؟

ج. حيث إحتفاظ بريطانيا بالتحفظات الأربعة وهي ١- تأمين المواصلات

البريطانية في مصر. ٢- الدفاع عن مصر ضد أى إعتداء أو تدخل

أجنبي. ٣- حماية المصالح الأجنبية والأقليات. ٤- إستمرار الوضع في

السودان كما هو.

٦. لعلماء الحملة الفرنسية آثاراً بعيدة المدى وعميقة الأثر على مصر؟

حيث تمكنوا من فك رموز حجر رشيد ووضع مشروع توصيل البحرين

وتأليف كتاب وصف مصر.

٧. كان لإنجلترا دوراً كبيراً في فشل وجلاء الحملة الفرنسية عن مصر؟

حيث قامت بإغراق الاسطول الفرنسي في موقعة أبي قير البحرية وكذلك

الوقوف بجانب جنود عكا ثم دخولها بالأسطول البريطاني في

فبراير ١٨٠١م ومعها القوات العثمانية لإخراج الفرنسيين .

٨. تدهور التعليم في مصر عقب الإحتلال البريطاني ١٨٨٢م ؟

حيث أهمل التعليم وجعله بمصرفوات مرتفعة وحصره في فئة قليلة

لتخريج موظفين للمصالح الحكومية.

٩. أدرك محمد علي قوة الزعامة الشعبية لذلك سعى للتخلص منها ؟

حيث أدرك دور الزعامة الشعبية في توليه الحكم والقيود التي فرضتها

عليه عند قبوله الحكم لذلك سعى لتقريب الوقت المناسب للتخلص منها

بخلع عمر مكرم من نقابة الأشراف ثم نفيه لدمياط ١٨٠٩م ثم التخلص

من باقى الزعماء

١٠. شهدت مصر في عهد الخديو إسماعيل نهضة علمية حقيقية ؟

حيث أعاد ديوان المدارس وأنشأ المدارس المختلفة ودار الرصد ودار

الكتب والجمعية الجغرافية ١٨٧٥م .

١١. أثرت الحملة الفرنسية في نمو الروح القومية عند المصريين ؟

حيث أيقظت الروح القومية فدافعوا عن بلادهم بالمال والسلاح والأرواح

وتمسكوا بعد خروج الحملة بالحرية.

١٢. شهدت مصر في عهد الخديو إسماعيل نهضة عمرانية كبرى ؟
 أ - قام ببناء العديد من القصور والسرايات مثل (قصر عابدين) ب- بناء الكبارى. ج- بناء دار الأوبرا المصرية.
ماذا يحدث إذا
 ١. إقتصرت الحملة الفرنسية على العسكريين فقط؟
 لم يكن للحملة نتائج علمية مثل : كتاب وصف مصر و مشروع توصيل البحرين و فك رموز حجر رشيد .
 ٢. لم يتم فك رموز حجر رشيد (الكتابة المصرية القديمة)؟
 ج. عدم معرفة الحضارة المصرية القديمة.
 ٣. لم يتفاوض محمد على مع القوى الأوروبية لتأمين انسحاب الجيش المصرى من المورة ؟
 لم ترتفع مكانة مصر دولياً – لم تتوتر العلاقات بين محمد على والسلطان -
 ٤. لم يتم تحطيم الأسطول الفرنسى فى معركة أبى قير البحرية عام ١٧٩٨م ؟
 لم يتم ١- محاصرة سواحل مصر الشمالية ٢- قطع إمدادات الحملة من فرنسا ٣- توقف التجارة الخارجية .
 ٥. لم تتدخل دول أوروبا فى الصراع بين محمد على والسلطان العثمانى عام ١٨٤٠م. لم يتم فرض معاهدة لندن ١٨٤٠م على محمد على ويستقل عن السلطان العثمانى وعدم إعادة الشام والجزيرة العربية.
 ٦. قام عرابى بتعطيل الملاحة فى قناة السويس عام ١٨٨٢م ؟ (لم تتواطأ إدارة قناة السويس مع بريطانيا)؟
 لم تتمكن القوات البريطانية من إحتلال مصر عن طريق قناة السويس .
 ٧. لم يقاوم محمد فريد مشروع مد امتياز قناة السويس ؟ يصبح للشركة الحق فى البقاء لمدة ٤٠ سنة أخرى وازدياد التدخل الأجنبى فى مصر
أسئلة متنوعة وهامة
 - قارن بين الزراعة فى مصر فى العهد العثمانى ، وفى عهد محمد علي.
 * العثماني : تدهورت لـ [كثرة الضرائب على الفلاح-ظلم الملتزم] إهمال الحكام لشئون الري .
 * محمد على : نهضت لـ [إلغاء الإلتزام وتوزيع الأراضى على الفلاحين-إحلال أساليب حديثة- إدخال غلات جديدة – الإهتمام بالتعليم الزراعى – تحسين طرق الري وإنشاء القناطر الخيرية]
 - قارن بين الصناعة فى عهد محمد على والصناعة تحت الإحتلال البريطانى.
 *الصناعة فى عهد محمد على : تقدمت حيث قام ببناء المصانع وجمع الصببة للعمل بها فأصبحت بمثابة مدارس صناعية واستعان بالخبرات الأجنبية وأرسل البعثات للخارج لدراسة فنون الصناعة الحديثة وترجمة الكتب الخاصة بها.
 *الصناعة تحت الإحتلال البريطانى : حارب الإحتلال الصناعة بتسويق المنتجات البريطانية والأجنبية فى السوق المصرية.
 - أهم مطالب الجيش والأمة التى طالب بها عرابى فى مظاهرة سبتمبر ١٨٨١م. ١- عزل وزارة رياض باشا المستبدية. ٢- تشكيل مجلس نواب على النسق الأوروبى. ٣- زيادة عدد الجيش لـ ١٨ ألف جندي.

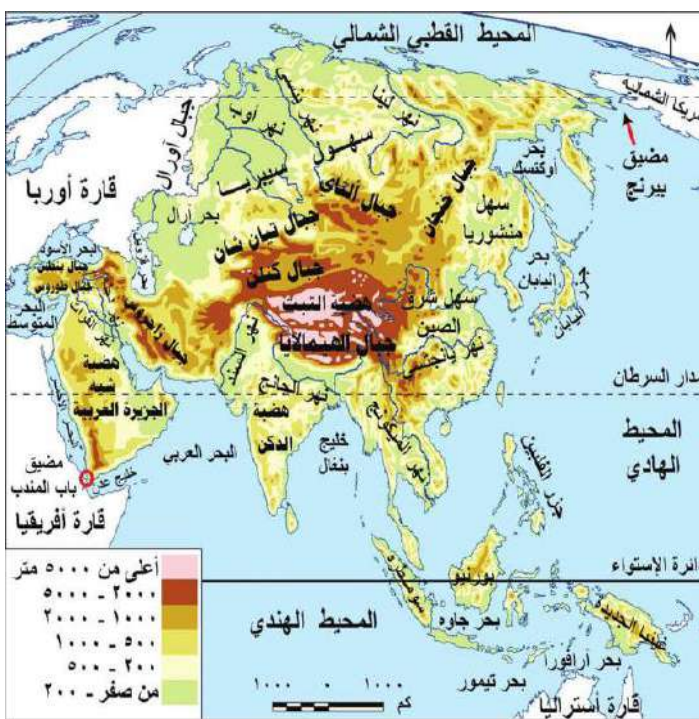
- ما الجهود التى بذلها مصطفى كامل فى محاربة الاستعمار الإنجليزي داخلياً و خارجياً ؟
 داخلياً ١- دفع عوامل اليأس. ٢- الدعوة للوحدة الوطنية. ٣- المطالبة بالدستور. ٤- تأسيس جريدة اللواء ١٩٠٠م. ٥- تأسيس الحزب الوطنى ١٩٠٧م. الإهتمام بالدعوة لنشر التعليم بإنشاء الجامعة المصرية ١٩٠٨م.
 خارجياً : ١- تعريف الرأى العام الأوروبى خاصة فرنسا بحق مصر فى الاستقلال. ٢- استغلال حادث دنشواى ١٩٠٦م للتنديد بالاحتلال البريطانى وسياسته القمعية . ٤- الدعوة لرفض اتفاقية الحكم الثنائى فى السودان ١٨٩٩م
 - قارن بين أحوال التعليم أثناء حكم الخديو اسماعيل وفترة وجود الاحتلال البريطانى.
 التعليم فى عهد إسماعيل: إهتم بالتعليم فأعاد ديوان المدارس وأنشأ المدارس بمختلف أنواعها .
 التعليم فى عهد الاحتلال: أهمل للتعليم وجعله بمصروفات مرتفعة وحصره فى فئة قليلة بهدف موظفين للعمل فى الحكومة
ما العلاقة بين :
 ١. موقعة أبى قير البحرية و ثورة القاهرة الأولى.
 كان من نتائج موقعة أبى قير البحرية أن فرض نابليون الضرائب خاصة على التجار فكان ذلك سبباً لقيام ثورة القاهرة الأولى اكتوبر ١٧٩٨م.
 ٢. اكتشاف طريق رأس الرجاء الصالح، وتعرض دولة المماليك لآزمات سياسية واقتصادية .
 اكتشاف طريق رأس الرجاء الصالح أدى إلى تحول التجارة إلى أيدي البرتغاليين فتعرضت دولة المماليك للآزمات
 ٣. بناء القوة العسكرية، وبناء الدولة الحديثة فى عهد محمد على .
 كان محمد على يعتبر أن بناء القوة العسكرية هى الدعامة الأساسية لبناء الدولة الحديثة فى مصر .

التواريخ الهامة

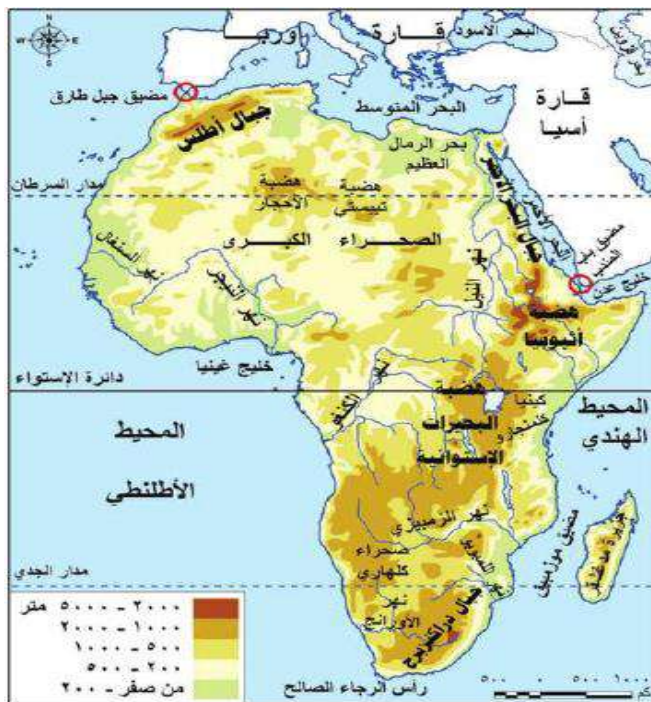
١٧٩٨	مذبحة القلعة	١٧٩٨	ثورة القاهرة الأولى	١٨٠٥	تولية محمد على
١٨٠١	معركة مرج دابق	١٨٠٧	مؤتمر مونترو	١٨٠٨	حملة فريزر
١٨٠٧	معركة الريدانية	١٨٠٨	موقعة أبى قير البحرية	١٨٠٩	نفى عمر مكرم إلى دمياط
١٨٠٩	معركة ديو البحرية	١٨٠٩	موقعة أبى قير البرية	١٨٢٠	معاهدة لندن
١٨٩٨	اكتشاف طريق رأس الرجاء الصالح	١٨٠٠	اتفاقية العريش	١٨٢٧	افتتاح قناة السويس



حركة على - ثورة القاهرة



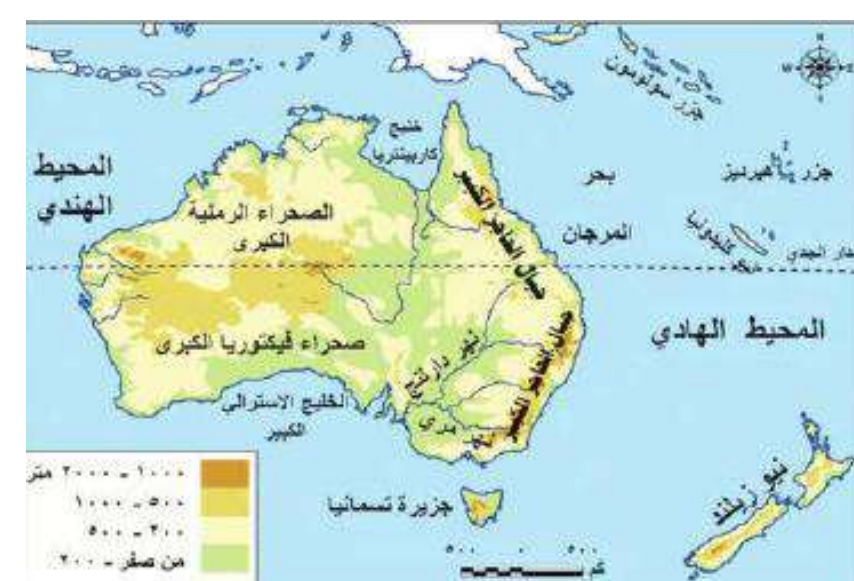
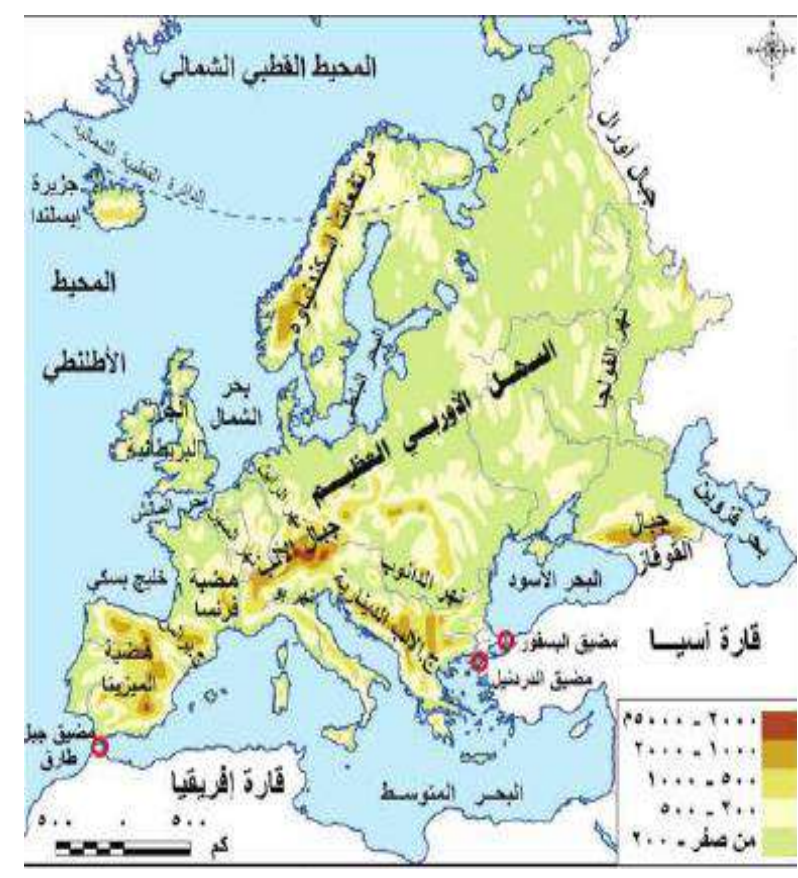
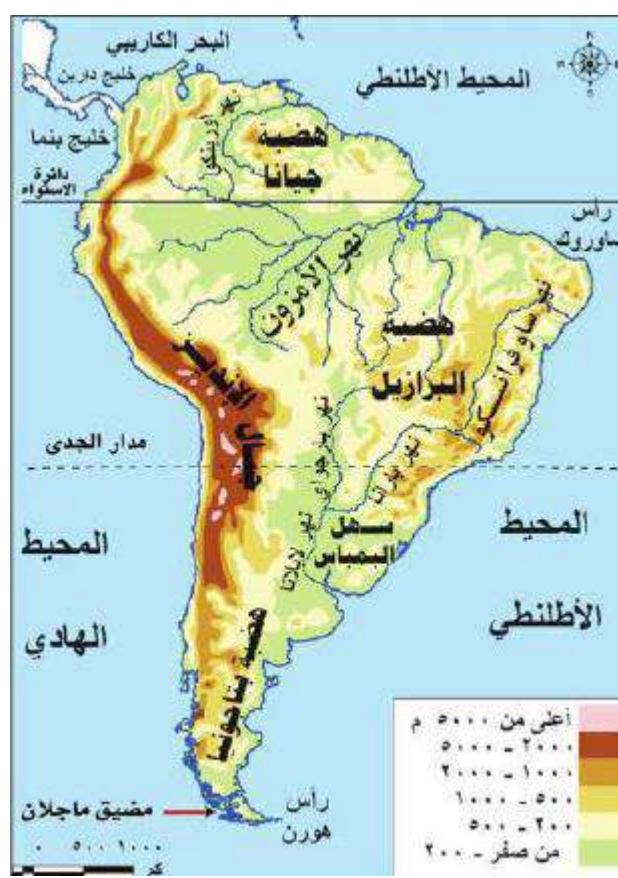
النهر	المصب	النهر	المصب	النهر	المصب
النيل	البحر المتوسط	سانت لورنس	خليج سانت لورنس	الفلجا	بحر قزوين
النيجر	خليج غينيا	السند	المحيط الهندي	الراين	بحر الشمال
الكونغو/الأورنج	المحيط الاطلنطي	الجانج	خليج البنغال	الأورينكو	البحر الكاريبي
لمبوبو	المحيط الهندي	دجلة والفرات	الخليج العربي	الأمازون	المحيط الأطلنطي
المسيبي	خليج المكسيك	سهول سيبيريا (أوب/ينسي/لينا)	المحيط القطبي الشمالي	بارانا وباراجواي ولاپلاتا(البمباس)	المحيط الأطلنطي
نلسن	خليج هدسن	الدانوب	البحر الأسود	مرى-دارلنج	الخليج الاسترالي الكبير
المظهر التضاريسي		القارة	المظهر التضاريسي	القارة	المظهر التضاريسي
ج. الهيمالايا - افرست	آسيا	ج. أطلس- البحر الأحمر	أفريقيا	ه. لبرادور(شمال شرق)	أمريكا. ش
ج. طوروس - زاجروس	آسيا	ه. أنثيوبيا	أفريقيا	ه. المكسيك	أمريكا. ش
ه. التبت -الدكن	آسيا	ه. البحيرات الاستوائية	أفريقيا	ج. الأبلش(فى الشرق)	أمريكا. ش
ج. الألب - الألب الدينارية	أوروبا	هضاب الصحراء الكبرى	أفريقيا	ج. روكى (أعلى الجبال)	أمريكا. ش
ج. البرانس(شمال إسبانيا)	أوروبا	بحر الرمال العظيم بمصر	أفريقيا	السهول الوسطى	أمريكا. ش
ه. الميزيتا (معظم إسبانيا)	أوروبا	سهل كلنشوا - كلهارى	أفريقيا	ه. البرازيل(أوسع وأعلى)	أمريكا. ج
ه. فرنسا الوسطى	أوروبا	سهول سيبيريا/ منشوريا	آسيا	ه. جيانا (فى الشمال)	أمريكا. ج
السهل الأوروبي العظيم	أوروبا	الهضبة الغربية	استراليا	ه. بتاجونيا(أصغر-فى ج)	أمريكا. ج
ج. دراكنزبرج -كينيا-كلمنجارو	أفريقيا	جبال الحجاز الكبير	استراليا	ج. الانديز	أمريكا. ج



مس : آية السمكري

٠١٠١٧٩٧٥٧٨٦

رقم ١ فى التوقعات



اللهم إني استودعك ما قرأت وما حفظت وما تعلمت
فرده إليّ عند حاجتي إليه ، إنك علي كل شئ قدير