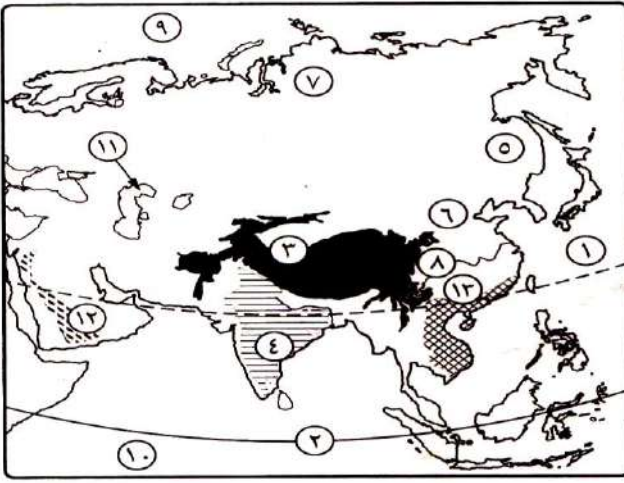


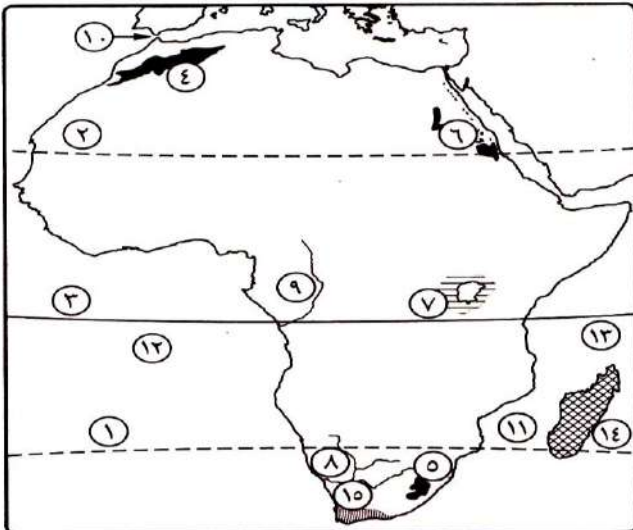


٢ أمامك خريطة صماء لقارة آسيا، اكتب ما تدل عليه الأرقام التي عليها :



- (١) مدار
- (٢) دائرة
- (٣) جبال
- (٤) هضبة
- (٥) سهل
- (٦) سهل
- (٧) سهول
- (٨) نهر
- (٩) المحيط
- (١٠) المحيط
- (١١) بحر
- (١٢) إقليم مناخى
- (١٣) إقليم نباتى

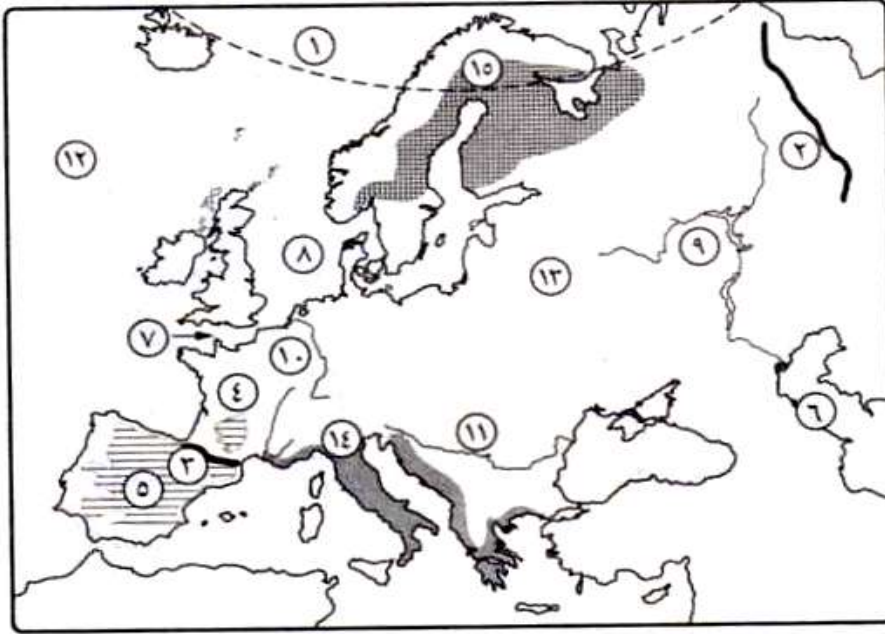
٣ أمامك خريطة صماء لقارة أفريقيا، اكتب ما تدل عليه الأرقام التي عليها :



- (١) مدار
- (٢) مدار
- (٣) دائرة
- (٤) جبال
- (٥) جبال
- (٦) جبال
- (٧) هضبة
- (٨) نهر
- (٩) نهر
- (١٠) مضيق
- (١١) مضيق
- (١٢) المحيط
- (١٣) المحيط

..... (١٤) إقليم مناخى (١٥) إقليم نباتى

أمامك خريطة صماء لقارة أوروبا، اكتب ما تدل عليه الأرقام التي عليها :



(١) الدائرة

(٢) جبال

(٣) جبال

(٤) هضبة

(٥) هضبة

(٦) بحر

(٧) بحر

(٨) بحر

(٩) نهر

(١٠) نهر

(١١) نهر

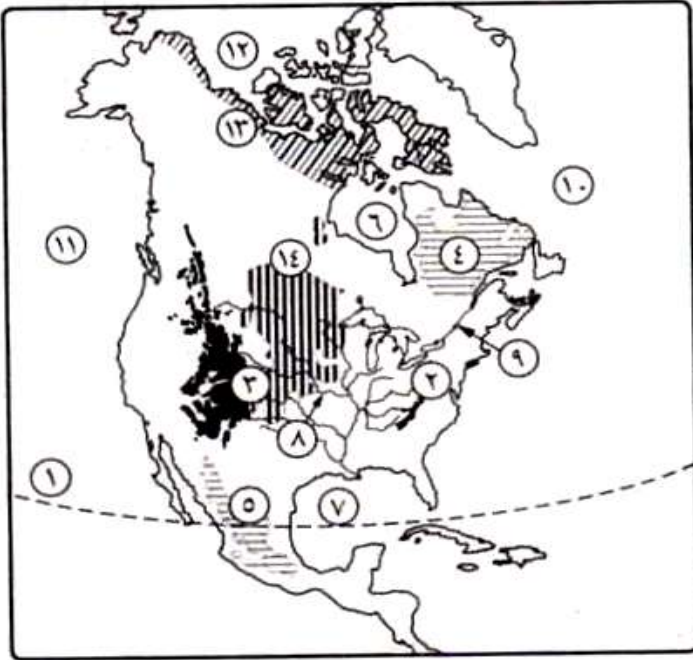
(١٢) المحيط

(١٣) السهل

(١٤) إقليم مناخى

(١٥) إقليم نباتى

أمامك خريطة صماء لقارة أمريكا الشمالية، اكتب ما تدل عليه الأرقام التي عليها :



(١) مدار

(٢) جبال

(٣) جبال

(٤) هضبة

(٥) هضبة

(٦) خليج

(٧) خليج

(٨) نهر

(٩) نهر

(١٠) المحيط

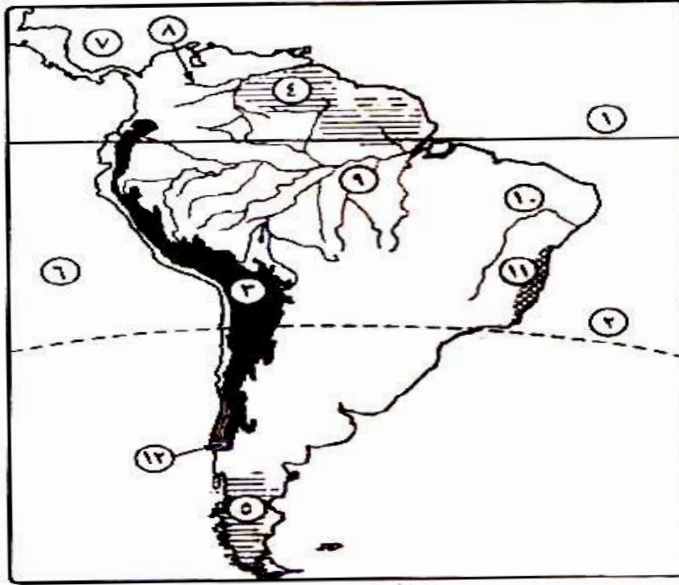
(١١) المحيط

(١٢) المحيط

(١٣) إقليم مناخى

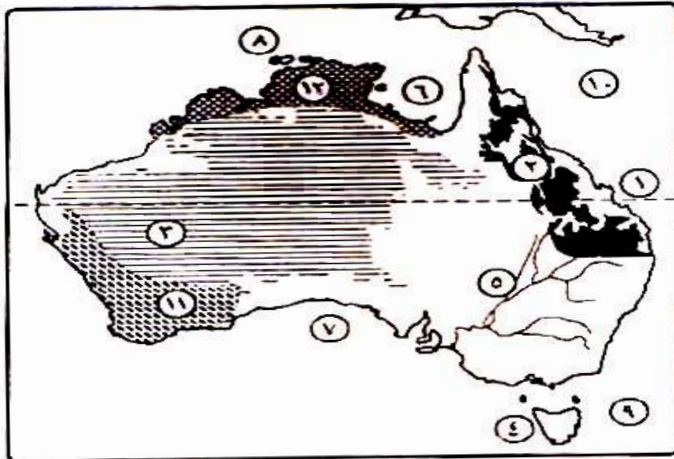
(١٤) إقليم نباتى

٦ أمامك خريطة صماء لقارة أمريكا الجنوبية، اكتب ما تدل عليه الأرقام التي عليها :



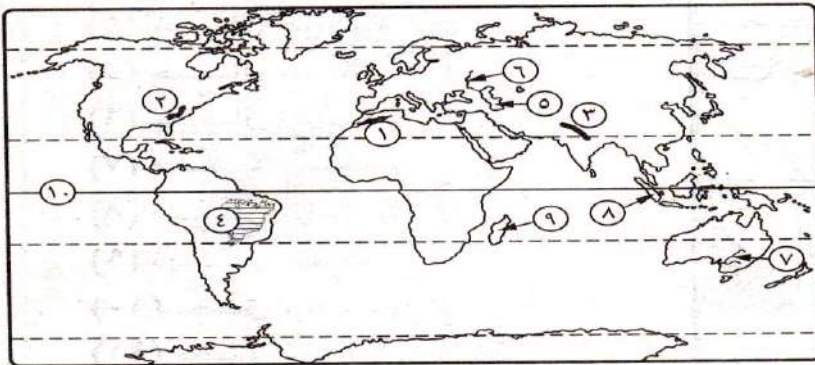
- (١) دائرة
- (٢) مدار
- (٣) جبال
- (٤) هضبة
- (٥) هضبة
- (٦) المحيط
- (٧) البحر
- (٨) نهر
- (٩) نهر
- (١٠) نهر
- (١١) إقليم مناخى
- (١٢) إقليم نباتى

٧ أمامك خريطة صماء لقارة أستراليا، اكتب ما تدل عليه الأرقام التي عليها :



- (١) مدار
- (٢) جبال
- (٣) الهضبة
- (٤) جزيرة
- (٥) نهر
- (٦) خليج
- (٧) الخليج
- (٨) بحر
- (٩) بحر
- (١٠) المحيط
- (١١) إقليم مناخى
- (١٢) إقليم نباتى

٨ أمامك خريطة صماء للعالم، وضع ما تدل عليه الأرقام :



- (١) جبال
- (٢) جبال
- (٣) جبال
- (٤) هضبة
- (٥) بحر داخلى
- (٦) نهر
- (٧) نهر
- (٨) جزر
- (٩) جزيرة
- (١٠) الدائرة

أكمل ما يأتي:- أكبر قارات العالم مساحة..... بينما أكبر محيطات العالم مساحة هو المحيط

- (١) من أهم البحار المتصلة بالمحيطات..... ومن البحار الداخلية
- (٢) تقترب افريقيا من آسيا عند مضيق..... بينما تقترب من أوروبا عند.....
- (٣) تمتد السلاسل الجبلية بأوروبا من الي ومن أهمها
- (٤) تظهر أعلى القمم الجبلية في العالم في جبال
- (٥) يجري نهر المسيسيبي ورافده في السهول..... بأمريكا الشمالية
- (٦) من أهم هضاب أمريكا الشمالية هضبة في الشمال ، وهضبة في الجنوب
- (٧) توجد الي الجنوب الشرقي من استراليا جزيره و
- (٨) يحد افريقيا غرباً المحيط وشرقاً المحيط
- (٩) يفصل استراليا عن جزر اندونيسيا في الشمال بحر
- (١٠) من أهم السهول الفيضية بأستراليا سهول نهري و بالجنوب الشرقي
- (١١) تمتد سلاسل جبال الانديز من..... الي
- (١٢) تمتد سلاسل جبال روكي في قارة بينما تمتد جبال الابلاش في قارة أمريكا الشمالية
- (١٣) توجد سهول سيبريا في شمال قارة وتجري بها أنهار..... و..... و
- (١٤) من أهم جبال أفريقيا..... و..... و
- (١٥) تتميز سواحل دول المغرب العربي بمناخ
- (١٦) يقع مناخ غرب أوروبا بين دائرتي عرض ٤٥ ، ٦٠ القارات
- (١٧) يقع مناخ..... في العروض المعتدلة غرب القارات بين ٣٠ ، ٤٥ شمال وجنوب دائرة لاستواء
- (١٨) يتميز إقليم المناخ الموسمي بغزارة أمطاره..... ، بينما يسود الجفاف
- (١٩) تمتد حشائش الاستبس بين دائرتي عرض و شمالاً وجنوباً
- (٢٠) من جبال قارة آسيا و
- (٢١) تمتد السهول الفيضية في أوروبا من المحيط غرباً حتي جبال الاورال في الشرق وتعرف بالسهل

- (٢٢) من أهم السهول الفيضية بأفريقيا سهول نهر بمصر والسودان
- (٢٣) تطل أمريكا الجنوبية من الشمال علي البحر
- (٢٤) تشمل السلالة نصف سكان العالم وتنتشر في قارات و..... و
- (٢٥) تتركز السلالة الصفراء في قارة في دول..... و..... و ومن أقسامهم في شمال كندا والاسكا
- (٢٦) يبلغ عدد الزنوج..... % من سكان العالم
- (٢٧) تنتمي جماعة التنجوس في سيبريا إلي السلالة
- (٢٨) من أقسام السلالة الزنجية و..... و
- (٢٩) تعد دولتا و أكبر دولتين في العالم من حيث عدد السكان
- (٣٠) من أكبر دول قارة أمريكا الجنوبية سكاناً دولة ، تليها دولة.....
- (٣١) يقل السكان في المناطق الصحراوية مثل بآسيا و بأفريقي

- (٣٢) أكبر دول أمريكا الشمالية سكاناً
- (٣٣) من أهم السهول الفيضية بالهند سهول نهر..... ، وفي الصين سهول أنهار.....
- (٣٤) يتركز السكان باستراليا في المدن الكبرى مثل مدينة
- (٣٥) أعلي نصيب للفرد من الدخل في العالم يوجد في قارة ، بينما أقل نصيب للفرد من الدخل في العالم يوجد في قارة.....
- (٣٦) الدول ذات الدخل لاقتصادي المرتفع تعتمد علي النشاط ، بينما الدول ذات الدخل الاقتصادي المنخفض يسودها النشاط
- (٣٧) يعد العرب من السلالة
- (٣٨) يتركز سكان الولايات المتحدة في عدة مناطق أهمها الساحل الشمالي الشرقي ومنطقة..... والوادي الأوسط بولاية كاليفورنيا.
- (٣٩) يتركز سكان العالم ف السهول الفيضية والسهول
- (٤٠) تتركز الدول ذات الاقتصاد الزراعي المنخفض في افريقيا ومنها و.....
- (٤١) ينتمي سكان مصر إلي السلالة
- (٤٢) أكبر بحر داخلي في العالم بحر
- (٤٣) أطول أنهار أوربا نهر
- (٤٤) أكبر دول أمريكا الجنوبية سكاناً دولة
- (٤٥) يتركز سكان كندا في المدن الكبرى مثل
- (٤٦) لا يتواجد مناخ غرب أوربا في قارتين هما و.....
- (٤٧) يتشابه الإقليم و في صيف غزير المطر وشتاء جاف .
- (٤٨) اكبر مساحة من الغابات الاستوائية توجد في قارة..... في حوض
- (٤٩) يرجع انتشار الإنسان في قارات العالم إلي أواخر عصر.....
- اكتب ما تشير إليه العبارات الآتية:-**

- (١) مجموعة من السكان يتميزون بصفات وراثية وجسمية معينة
- (٢) علم دراسة السكان
- (٣) الفرق بين عدد المواليد والوفيات
- (٤) نسبة عدد المواليد لكل ألف من السكان
- (٥) دراسة عدد ونسبة كل مجموعة من سكان المنطقة وفقاً لفئات عمرية معينة
- (٦) سلالة زنجية قصيرة القامة لم تختلط بغيرها من السكان وهي في طريقها للانقراض .
- (٧) الدول التي تتكون من جزيرة أو أكثر أو قد تكون جزءاً من جزيرة
- (٨) الموقع بالنسبة لخطوط الطول ودوائر العرض
- (٩) الموقع بالنسبة لليابس والماء
- (١٠) نوع من العواصف يتعرض له الإقليم الصيني
- (١١) عدد السكان علي مساحة معينة بالكيلو مترات المربعة
- (١٢) البحر الذي يفصل استراليا عن جزر اندونيسيا .

- (١٣) الجبال التى تمتد داخل روسيا وتفصل بين اسيا واوربا .
- (١٤) موقع المكان بالنسبة للاماكن الاخرى والبحار والمحيطات .
- (١٥) المحيط الذى يمتد غرب الأمريكتين
- (١٦) اعلى هضاب العالم وتمتد وسط اسيا
- (١٧) اشهر انهار شرق اسيا .
- (١٨) سهول صحراوية متسعة فى ليبيا .
- (١٩) تنحصر بين جبال أطلس فى شمال غرب القاره
- (٢٠) النبات الذى ينمو بدون تدخل الانسان
- (٢١) الغابات التى تنمو فى الاقليم المدارى ذو المطر الصيفى الغز

بم تفسر :-

- (١) تعرف هضبة التبت بسقف العالم
- (٢) تتميز السهول الساحلية بافريقيا بشكل عام بالضيق
- (٣) إنشاء الموانئ بالسهول الساحلية باوربا
- (٤) أهمية السهول الفيضية فى العالم
- (٥) أهمية السهول الفيضية فى أمريكا الجنوبية
- (٦) وجود الجليد فوق قمم الجبال فى المناطق الاستوائية والمدارية
- (٧) يتميز حوض الامازون بارتفاع الحرارة طوال العام وسقوط الامطار
- (٨) تنمو الاشجار الموسمية فى شبه جزيرة الهند الصينية جنوب الصين
- (٩) يختلف المناخ القاري البارد فى نصف الكرة الجنوبي
- (١٠) يسود القمم الجبلية فى العالم مناخ يشبه التندرا
- (١١) آسيا أكثر القارت تنوعاً فى مناخها
- (١٢) عدم وجود حشائش السافانا بأوربا
- (١٣) قلة الموانئ على السواحل الأفريقية
- (١٤) مصر مركز تجاري وحضاري فى العالم
- (١٥) تعد سهول لابلاتا من أغنى مناطق الأرجنتين فى أمريكا الجنوبية
- (١٦) يتميز مناخ الجهات الساحلية بالاعتدال أكثر من المناطق الداخلية
- (١٧) تعمل الجبال على زيادة سقوط الامطار
- (١٨) لا يوجد فى الوقت الحاضر ما يعرف بالسلالة النقية
- (١٩) قلة عدد السكان فى شمال كندا
- (٢٠) تعتبر جزيرة جاوة من أكثر مناطق العالم ازدحاماً بالسكان
- (٢١) يقل عدد السكان فى سيبيريا والاسكا
- (٢٢) قلة عدد السكان فى المناطق الاستوائية فى افريقيا وأمريكا الجنوبية
- (٢٣) يركز السكان فى مدينة مونتريال بكندا
- (٢٤) يعيش أكثر من نصف سكان العالم فى المدن الكبرى

- (٢٥) ارتفاع معدل المواليد بأفريقيا
- (٢٦) انتقال عدد كبير من الزوج الى الأمريكتين
- (٢٧) انخفاض معدل الوفيات في مصر
- (٢٨) زيادة اعداد فئة كبار اسن في الدول المتقدمة
- (٢٩) تعد أمريكا الجنوبية أقل قارات العالم في معدل الوفيات
- (٣٠) تصل نسبة المتعلمين في مصر نحو ٦٥ %
- (٣١) تتركز الدول ذات الدخل الاقتصادي المنخفض في افريقيا
- (٣٢) توجد أعلى معدلات الوفيات في افريقيا
- (٣٣) قلة عدد سكان استراليا في الداخل والغرب
- (٣٤) يقل السكان في سهول الامزون بأمريكا الجنوبية
- (٣٥) يتركز السكان في العالم في السهول الخصبة
- (٣٦) لا توجد دولة واحدة في العالم يتكون شعبها من سلالة واحدة
- (٣٧) وجود المساحة الأكبر من اقليم السافانا بقارة افريقيا
- (٣٨) أهمية الموقع الفلكي بالنسبة لمناخ الاقليم

ما النتائج المترتبة على:-

- (١) زيادة عدد السكان في معظم دول آسيا
- (٢) زيادة نسبة العاملين من السكان في دول غرب أوربا
- (٣) تساوي معدلات المواليد مع معدلات الوفيات في أوربا
- (٤) ارتفاع معدل المواليد في معظم دول افريقيا
- (٥) زيادة عدد السكان في دول آسيا
- (٦) التقدم الصناعي في غرب أوربا
- (٧) الهجرات وانتشار السلاسل بين قارت العالم
- (٨) ارتفاع فئة صغار السن في الدول النامية وانخفاضها في الدول المتقدمة
- (٩) تركيز السكان في المدن الصناعية الكبرى
- (١٠) اقتراب جبال الانديز من شواطئ المحيط الهادي
- (١١) تنوع الانشطة التي يقوم بها سكان كل دولة

ماذا يحدث اذا :-

- (١) أزيلت الغابات المدارية (الاستوائية)
- (٢) زاد اهتمام دول افريقيا بتعليم الإناث
- (٣) ارتفع عدد الأطباء في إثيوبيا ونيبال
- (٤) انخفضت معدلات المواليد في افريقيا
- (٥) استغل سكان افريقيا ثرواتها المعدنية والزراعية في التصنيع
- (٦) اقتربت الجبال من سواحل المحيط الاطلنطي في أمريكا الشمالية

أين تقع الظواهر الآتية:-

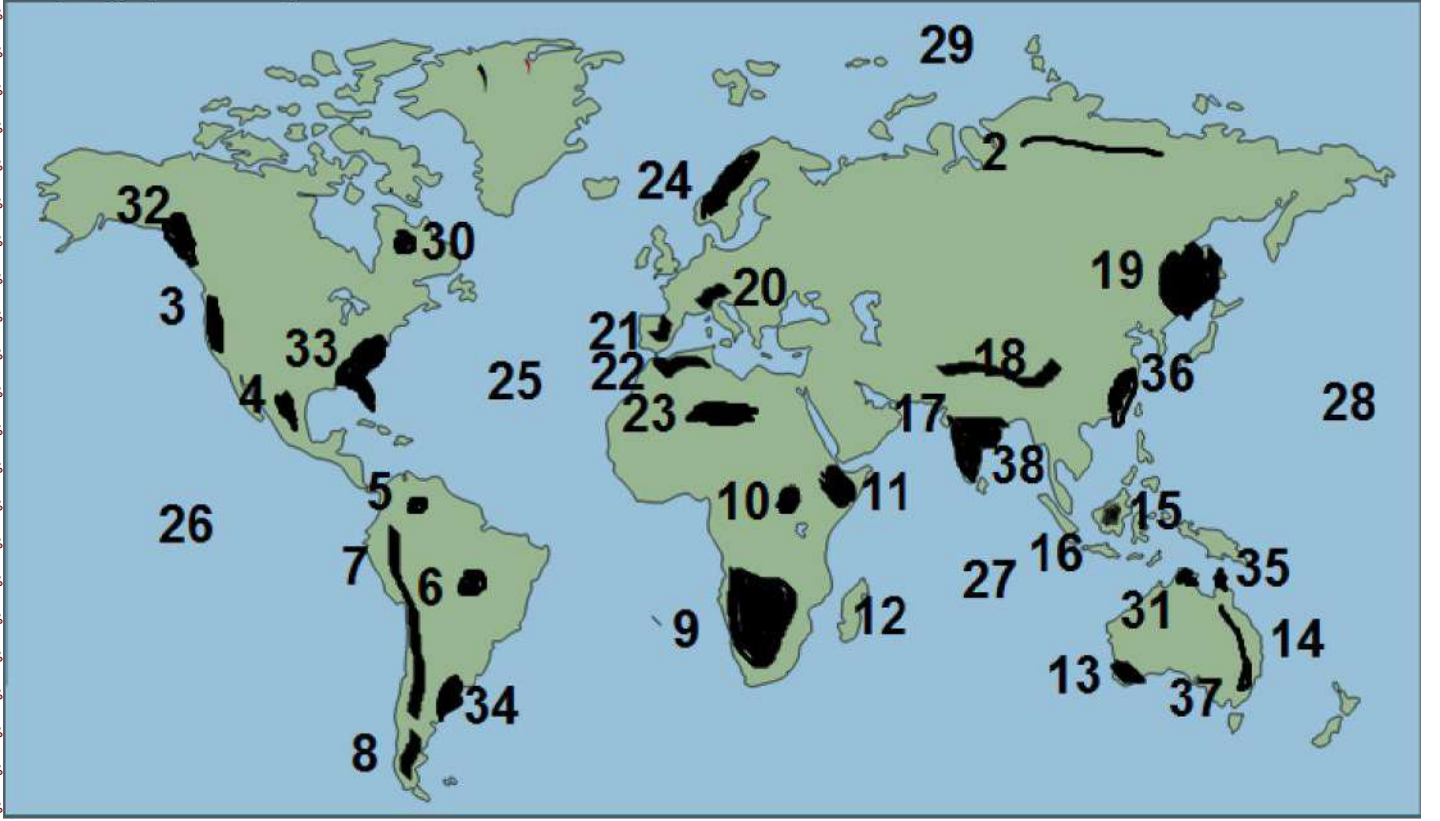
خليج هدسن - اقليم المناخ الموسمي - حشائش البمباس - الأقزام - نهر اليانجنسي - هضبة الأناضول .
 ↓ ↓ ↓ ↓ ↓

في أي المناطق تتوقع تركيز السكان ولماذا :- سهول الامزون - سهول المسيسيبي - شمال استراليا

صنف الدول الآتية من حيث مستوى الدخل الاقتصادي:- مالي - مصر - المانيا - تركيا

اكمل الجداول الآتية:-

وجه المقارنة		الغابات الاستوائية			الغابات الموسمية	
الموقع						
توجد في						
اهم الاشجار						
وجه المقارنة		غابات البحر المتوسط			غابات الاقليم الصينى	
الموقع						
توجد في						
اهم الاشجار						
وجه المقارنة		الاستبس			السافانا	
الموقع						
توجد في						
استغلال الانسان لها						
المقارنة	أفريقيا	أوربا	آسيا	أمريكا الشمالية	أمريكا الجنوبية	استراليا
حدد نهريين						
أسماء الجبال						
الهضاب						



- | | | | |
|------------|--------------------------|------------|------------|
| ١- مناخ | ٢- سهول | ٣- مناخ | ٥- هضبه |
| ٦- هضبه | ٧- جبال | ٨- هضبه | ٩- سلاله |
| ١٠- هضبه | ١١- هضبه | ١٢- مناخ | ١٣- مناخ |
| ١٤- جبال | ١٥- مناخ | ١٦- جزيره | ١٧- مناخ |
| ١٨- جبال | ١٩- مناخ | ٢٠- جبال | ٢١- هضبه |
| ٢٢- جبال | ٢٣- هضبه | ٢٤- مناخ | ٢٥- المحيط |
| ٢٦- المحيط | ٢٧- المحيط | ٢٨- المحيط | ٢٩- محيط |
| ٣٠- هضبه | ٣١- منطقه يقل بها السكان | ٣٢- مناخ | ٣٣- مناخ |
| ٣٤- مناخ | ٣٥- مناخ | ٣٦- مناخ | ٣٧- خليج |
| ٣٨- خليج | | | |
- السؤال الاول :-
 ١- الدول الجزريه
 ٢- السلاله البشريه
 ٣- قوه العمل
 ٤- الموقع الجغرافي
 ٥- الاقليم المناخي
 ٦- الزياده الطبيعيه
 ٧- الديموجرافيا
 ٨- التركيب العمري
 ٩- سهل كلنشو
 ١٠- جماعه التجوس
 ١١- الهجره الغير شرعيه

- ١٢- حوض النهر
١٣- غابات نفضيه
١٤- بحر مغلق

السؤال الثاني :- بما تفسر

- ١- اهميه السهول الفيضيه في العالم؟
- ٢- اقامه اكثر من نصف سكان العالم في المدن الكبرى؟
- ٣- قله عدد السكان في المناطق الاستوائيه بافريقيا؟
- ٤- تؤثر العادات و التقاليد علي معدلات تعليم الاناث ؟
- ٥- اهميه اقليم مناخ البحر المتوسط نباتيا ؟
- ٦- ارتفاع معدل المواليد في قاره افريقيا ؟
- ٧- تركيز السكان في سواحل شرق استراليا ؟
- ٨- اهميه هضبه البحيرات و الحبشه لاستوائيه ؟
- ٩- تعدد اصول سكان البلاد العربيه ؟
- ١٠- قله السكان في شرق اوربا عن غربها ؟
- ١١- انخفاض معدل الوفيات في مصر؟
- ١٢- لا يوجد اقليم المناخ الاستوائي و شبه الاستوائي في اوربا و استراليا ؟
- ١٣- ارتفاع نسبه التعليم في مصر؟
- ١٤- تركيز سكان الولايات المتحده الامريكه في الساحل الشمالي الشرقي ؟
- ١٥- ندره وجود السلاسل النقيه في العالم ؟
- ١٦- اختلاف الخصائص الاقتصاديه لسكان العالم ؟

السؤال الثالث :- في اي القارت و اين يصب الانهار الاتيه :-

السند	دجله و الفرات	النيل	الكونغو
النيجر	اورانج	لمبوبو	الفولجا
الراين	الدانوب	نلسن	سانت لورانس
المسيسبي	الاورينوكو	الامازون	لابلاتا
بارانا	بارجواي	مري و دارلنج	

السؤال الرابع قارن بين

- ١- قاره افريقيا و قاره اسيا من حيث السهول الصحراويه ؟
- ٢- مناخ البحر المتوسط و غرب اوربا من حيث الخصائص المناخيه و النبات الطبيعي و الموقع الفلكي؟
- ٣- اوروبا و استراليا من حيث السهول الساحليه و مناطق التركيز السكاني ؟
- ٤- شمال غرب افريقيا وجنوب شرق استراليا من حيث السلاسل الجبلية والاقاليم المناخيه واسباب تركيز السكان ؟

- ٥- الخصائص التعليميه لكل من الدول المتقدمه و الناميه ؟

السؤال الخامس ما العلاقة بين

- ١- راوafd نهر النيل و هضاب شرق و وسط افريقيا ؟
- ٢- الدخل الاقتصادي و النشاط الصناعي مع ذكر امثله ؟

- ٣- معدل الوفيات في العالم و مستوى السكن والخدمات الصحية ؟
 ٤- ارتفاع معدل المواليد و انتشار العادات و التقاليد في قاره افريقيا ؟
 ١- السؤال السادس ما مقترحاتك ١- ارتفاع معدل المواليد في مصر ؟
 ٢- ما مقترحاتك لتتحول مصر من دولة ذات دخل اقتصادي اقل من المتوسط الي دخل اقتصادي مرتفع؟
 ٣- الهجره الغير شرعيه من بعض الدول الافريقيه الي الدول المتقدمه الصناعيه ؟

ثانيا التاريخ

السؤال الأول أكمل الجمل الآتية :-

- ١- تعرضت دولة لتدهور اقتصادي نتيجة لاكتشاف طريق راس الرجاء الصالح.
- ٢- انتهى الصدام بين الدولتين الصفوية والعثمانية بانتصار السلطان
- ٣- هزمت جيوش المماليك بقيادة فى موقعة حرج وابق ١٥١٦م
- ٤- اتجه السلطان سليم الأول مع بداية القرن فى فتوحاته إلى الشرق العربى .
- ٥- عقدت معاهدة العريش عام بين كليبر والدولة العثمانية .
- ٦- قائد ثورة القاهرة الثانية مارس - ابريل ١٨٠٠م هو
- ٧- من عوامل فشل الحملة الفرنسية على مصر ،
- ٨- ابحرت الحملة الفرنسية من ميناء سراً
- ٩- التقت قوات الحملة الفرنسية قوات مراد بك بالقرب من فى ١٣ يولييه ١٧٩٨ م .
- ١٠- دخل نابليون القاهرة عام بعد أن أمن العلماء والمشايخ على ارواحهم وأموالهم .
- ١١- أغرق الاسطول البريطانى بقيادة الاسطول فى معركة اغسطس ١٧٩٨ م .
- ١٢- استمرت مقاومة أبناء الصعيد للقوات الفرنسية بسبب
- ١٣- وجهت الحملة الفرنسية أنظار الدول الأوربية إلى أهمية
- ١٤- قتل سليمان الحلبي القائد الفرنسي
- ١٥- تخلص محمد على من المماليك فى مارس ١٨١١م
- ١٦- واجهت مصر بعد خروج الحملة الفرنسية فترة من ،
- ١٧- تطلع السلطان العثماني إلى إعادة بعد خروج الحملة الفرنسية من مصر .
- ١٨- قرر زعماء الشعب ، عزل الوالي العثماني وتولية محمد على حكم مصر وكان ذلك فى ١٣ مايو ١٨٠٥ م
- ١٩- سعت بريطانيا إلى تولية حكم مصر .
- ٢٠- بعد أن غادر الفرنسيون مصر عين والياً على مصر من قبل السلطان العثماني .
- ٢١- جاهر محمد على باشا بالانضمام إلى العلماء والمشايخ أثناء ثورة الشعب ضد وذلك خوفاً أن تصيب الثورة جنوده
- ٢٢- أصدر السلطان العثماني فرماناً بعزل وتعيين فى ٩ يوليو ١٨٠٥ م .
- ٢٣- نفى عمر مكرم إلى مدينة عام
- ٢٤- نظم محمد على الاقتصاد المصرى على أساس نظام
- ٢٥- عقدت معاهدة لندن ١٨٤٠ بين ،
- ٢٦- أنشأ محمد على على نهر النيل .
- ٢٧- أنشأ محمد على مصانع ،

- ٢٨- أهتم محمد على بإصلاح الموانئ وخاصة ميناء
- ٢٩- أدت سياسة محمد على إلى انتهاء نفوذ كهينة حاكمة .
- ٣٠- تضاول نفوذ ، فى عهد محمد على .
- ٣١- أهتم محمد على بترجمة كتب العلوم المختلفة من إلى
- ٣٢- أدرك محمد على أن بناء هى الدعمة الأساسية لتحقيق أهدافه .
- ٣٣- أنشأ محمد على ترسانة فى ثم فى لصناعة السفن .
- ٣٤- تحطم الاسطول المملوكى فى موقعة عام
- ٣٥- احطب نابليون مجموعة من لدراسة أحوال مصر .
- ٣٦- أدرك محمد على قوة فى توليته الحكم .
- ٣٧- أنشأ محمد على عدة ، لتعاونه فى تسيير كافة الأمور فى البلاد .
- ٣٨- ارسل نابليون قواته إلى الشام ليدمر
- ٣٩- عزل محمد على من نقابة الاشراف .
- ٤٠- هزم السلطان فى موقعة الريدانية ١٥١٧ م .
- ٤١- قائد الحملة الفرنسية على مصر والشام هو
- ٤٢- تحالف على بك الكبير مع حاكم جنوب الشام (عكا) .
- ٤٣- استطاع سليم الأول هزيمة المماليك فى موقعة ،
- ٤٤- اتسمت الحياة الفكرية خلال فترة الحكم العثماني بـ ، حتى مجئ الحملة الفرنسية ١٧٩٨ م .
- ٤٥- أصدر سعيد باشا فى اغسطس ١٨٥٨ م .
- ٤٦- أنشأ محمد على المطبعة الأميرية فى
- ٤٧- هزم الصفويين فى موقعة ١٥١٤ م .
- ٤٨- الغى نظام الالتزام وزرع الأراضى على الفلاحين .
- ٤٩- يعتبر تأسس ١٨٦٦ م بداية تاريخ المؤسسات النيابية فى مصر .
- ٥٠- وضعت لمصر لائحة اساسية كأول دستور عرفته مصر خلال عصر
- ٥١- تم افتتاح قناة السويس خلال عصر
- ٥٢- توقفت حركة الترجمة فى عهد
- ٥٣- تم افتتاح قناة السويس عام
- ٥٤- تم فى عهد الخديو اسماعيل تعيين مراقبين أجنيين أحدهم للإيرادات ، والآخر للمصروفات
- ٥٥- مدت الخطوط التلغرافية فى مختلف أنحاء مصر وأنشئت مصلحة البريد المصرية فى عهد
- ٥٦- تولى حكم مصر فى الفترة من ١٨٤٨ - ١٨٥٤ م .
- ٥٧- عقد أول قرض مع أحد البنوك البريطانية عام ١٨٦٢ م
- ٥٨- تمثل فترة حكم أزهى الفترات وأكثرها تقدماً وعمراناً فى العصر الحديث .
- ٥٩- من العوامل التى أدت إلى الأزمة المالية فى عهد اسماعيل و
- ٦٠- أدرك الخديو توفيق منذ بداية حكمه ازدياد قوة فى مصر .
- ٦١- خلال عصر توفيق طالب المصريون بوقف التدخل الأجنبي والقضاء على

- ٦٢- أدت الأزمة المالية فى عصر الخديوي توفيق إلى
- ٦٣- أعاد الخديوي توفيق والغى نظام العمل باللائحة الأساسية لمجلس النواب .
- ٦٤- طالبت الثورة العربية بغزل وزير الحربية وتعيين بدلاً منه .
- ٦٥- تأسس الحزب الوطنى عام على يد
- ٦٦- واجه المصريون فى كفاحهم و
- ٦٧- عقب الاحتلال البريطانى ، أصبحت السلطة الفعلية لـ
- ٦٨- طالب مصطفى كامل بـ ،
- ٦٩- عقد الاتفاق الودى بين فرنسا وبريطانيا عام
- ٧٠- أصدرت من جانبها تصريح ٢٨ فبراير ١٩٢٢م واعترفت بمصر دولة مستقلة ، وذلك بعد فشل مفاوضات
- ٧١- كانت أول وزارة برلمانية برئاسة وشكلت فى يناير م
- ٧٢- افتتح أول برلمان مصرى فى مارس عام
- ٧٣- بعد استقالة سعد زغلول تألفت وزارة برئاسة رئيس مجلس الشيوخ
- ٧٤- فرضت بريطانيا الحماية على مصر اثناء الحرب
- ٧٥- كان بمثابة الشرارة التى اشعلت ثورة ١٩١٩م .
- ٧٦- الجانب المصرى فى معاهدة ١٩٣٦م كان برئاسة
- ٧٧- أكد دستور أن الأمة هي مصدر السلطات .
- ٧٨- أعطى دستور الملك سلطان واسعة .
- ٧٩- وع شريف باشا دستور فى أواخر حكم إسماعيل عام
- ٨٠- أدى كفاح إلى استقالة اللورد كرومر من منصبه .
- ٨١- تألف الوفد المصرى عقب انتهاء الحرب
- ٨٢- أنشأ الخديوي إسماعيل مجلس شورى النواب عام ١٨٦٣م .
- ٨٣- قاطع الشعب المصرى لجنة (وكان وزير المستعمرات البريطانى)
- ٨٤- منحت بريطانيا استقلال مصر بموجب
- ٨٥- أنشأ دار الكتب ودار الرصد بالعباسية .
- ٨٦- أسس جريدة اللواء عام ١٩٠٠م بالعربية والفرنسية .
- ٨٧- قامت وزارة بإلغاء دستور ١٩٢٣م .
- ٨٨- اضطر إلى إلغاء دستور ١٩٣٠م والعمل بدستور ١٩٢٣م .
- ٨٩- اعترف بالحماية البريطانية على مصر .

السؤال الثانى :- ما المقصود بالمفاهيم الآتية :-

- ١- هو جباية الأموال والضرائب من المصريين لإرسالها إلى السلطان العثمانى .
- ٢- امتلاك السلطان العثمانى للأراضى الزراعية وتكليف الفلاحين فى زراعتها .
- ٣- رفض الشعوب للاحتلال ومظاهرة ورفعته عن البلاد بمختلف الوسائل
- ٤- رحيل قوات الاحتلال عند البلد المحتل .

- ٥- السيطرة على أراضى الغير بالقوة لإسباب معينة .
- ٦- تدخل الدولة فى كل مجالات الاقتصاد من زراعة وصناعة وتجارة .
- ٧- أمر سلطانى من قبل سلطان الدولة العثمانية ، واجب التنفيذ .
- ٨- تسهيلات منحها الدولة العثمانية لرعايا الدول الاوربية .
- ٩- محاكم انشأت فى عهد الخديو اسماعيل نتيجة لزيادة نفوذ قناصل الدول الاوربية .
- ١٠- محاكم انشأت فى عهد الخديو اسماعيل لاصلاح مساوئ المحاكم المختلطة .
- ١١- خروج قوات الجيش للمطالبة بالحقوق الوطنية ومطالبة الحكام بتفيذها .
- ١٢- انفراد انجلترا بمصر مقابل انفراد فرنسا بمراكش .
- ١٣- خضوع مصر المطلق للاحتلال البريطانى .
- ١٤- الهجوم المفاجئ على شعب معين ونهب ممتلكاتهم .

السؤال الثالث :- رتب الأحداث التاريخية من الأقدم إلى الأحدث :-

- ١- موقعة جالديران – موقعة الريدانية – موقعة مرج دابق – موقعة ديو البحرية – حركة على بك الكبير
- ٢- حملة فريزر – خروج الفرنسيين من مصر – تولية محمد على – ثورة مارس ١٨٠٤ – نفى عمر مكرم لدمياط .
- ٣- حروب محمد على فى اليونان – حروب محمد على فى الجزيرة العربية – حملة فريزر – الحملة الفرنسية على الشام – ثورة القاهرة الأولى – موقعة الديوانية .
- ٤- معركة التل الكبير – دخول قوات الاحتلال البريطانية القاهرة – احتلال القوات البريطانية مدينة القصاصين – احتلال القوات البريطانية الإسكندرية – موقعة كفر الدوار .
- ٥- اشتراك المرأة فى المظاهرات – الاتفاق الودى – حادثة دنشواى – الاحتلال البريطانى لمصر – الثورة العربية – افتتاح قناة السويس .

٦- بم تفسر :-

- (١) هزيمة الجيوش المملوكية أمام العثمانيين
- (٢) أسباب تفوق الجيوش العثمانية علي المماليك
- (٣) تدهور الأوضاع الاقتصادية في مصر في ظل نظام الحكم العثماني
- (٤) اتجاه السلطان العثماني منذ عام ١٥١٢م نحو الشرق (مصر والشام) بدلا من الصدام مع الدول الأوروبية
- (٥) حمل الحكم العثماني في ثنياه عوامل ضعفه
- (٦) قيام ثورة القاهرة الأولى في أكتوبر عام ١٧٩٨
- (٧) اتجاه الحملة الفرنسية إلى بلاد الشام
- (٨) التحالف البريطاني العثماني لإخراج الفرنسيين من مصر
- (٩) نفى محمد علي للسيد عمر مكرم إلى دمياط عام ١٨٠٩م
- (١٠) رغبة الدولة العثمانية في استرجاع سيطرتها علي مصر
- (١١) حروب محمد علي في شبة الجزيرة العربية واليونان

(١٢) تدخل الدول الأوروبية أمام ازدياد نفوذ محمد علي

(١٣) الضعف العسكري للمماليك

(١٤) توقفت حركة النهضة في عهد عباس الأول

(١٥) إصدار اللائحة السعيدية في أغسطس ١٨٥٨م

(١٦) قيام الثورة العربية

(١٧) المذكرة المشتركة الأولى في ٧ يناير ١٨٨٢م

(١٨) السياسة الاقتصادية في مصر بعد الاحتلال البريطاني

(١٩) اتجاه مصطفى كامل الي الدولة العثمانية وفرنسا

(٢٠) تولية محمد فريد رئاسة الحزب الوطني في ظروف لم تكن مواتية له

(٢١) قيام ثورة ١٩١٩م ضد الاحتلال البريطاني

(٢٢) خيب مؤتمر الصلح بباريس آمال المصريين

(٢٣) إلغاء معاهدة ١٩٣٦م

(٢٤) نفي الاحتلال البريطاني سعد زغلول إلي جزيرة مالطة في مارس ١٩١٩

ما النتائج المترتبة على:-

(١) منح الدول العثمانية الامتيازات الأجنبية للدول الأوروبية .

(٢) انتقال الصانع المهرة من المصريين الي عاصمة الدولة العثمانية منذ بداية الغزو العثماني

(٣) اتجاه السلطان سليم الأول في غزواته نحو المشرق

(٤) موقعة ديو البحرية ١٥٠٩

(٥) تحطيم الأسطول المملوكي في موقعة ديو البحرية ١٥٠٩

(٦) موقعة أبي قير البحرية أغسطس ١٧٩٨ .

(٧) أدراك كليبر استحالة بقاء القوات الفرنسية في مصر بعد رحيل نابليون إلي فرنسا .

(٨) ثورة القاهرة الثانية مارس ١٨٠٠م .

(٩) حاجة محمد علي إلي الموظفين

(١٠) قيام وزارة إسماعيل صدقي بإلغاء دستور ١٩٢٣

(١١) ضم السودان للنفوذ المصري خلال عامي ١٨٢٠-١٨٢٢م .

(١٢) الامتيازات الأجنبية علي مصر

(١٣) تعدد الأحزاب السياسية في مصر قبل الحرب العالمية الأولى .

(١٤) الاتفاق الودي بين إنجلترا وفرنسا عام ١٩٠٤م .

(١٥) تنديد الزعيم مصطفى كامل بحادثة دنشواي .

(١٦) دور محمد فريد في دعوة الحكومة لمجلس شوري القوانين لمناقشة طلب شركة قناة السويس تمديد امتياز قناة

السويس أربعين عام أخرى .

:-دلائل تاريخيا علي صحه العبارات الاتيه

١ - ادركت الدول الاوربيه ما يمثله محمد علي من خطر علي التوازن الدولي بسبب انتصاراته ؟

- ٢- حاول الخديو اسماعيل اتخاذ اجراءات للحد من المحاكم القنصلية ؟
- ٣- ابرزت مظاهره ٩ سبتمبر ١٨٨١ م مؤازره الشعب المصري لعراقي و زملائه لتقديم مطالب الامه ؟
- ٤- ايقظت الحمله الفرنسيه الروح القوميه عند المصريين ؟
- ٥- كان لمعاهده ١٩٣٦ م نتائج هامه لمصر ؟
- ٦- حدوث نهضه زراعيه في عهد سعيد ؟
- ٧- كانت شروط عقد الامتياز الثاني لحفر قناه السويس وبالا علي المصريين ؟
- ٨- اهتمام الخديو اسماعيل بالتعليم و النهضه العلميه ؟
- ٩- كان لدستور ١٩٢٣ م العديد من المزايا لكنه لم يخل من العيوب ؟
- ١٠- اطلاق مصطفى النحاس حريه الشعب في النضال المسلح في اكتوبر ١٩٥١ م ؟
- ١١- كان لسياسه محمد علي الاقتصاديه دورا في ظهور قوي اجتماعيه في مصر ؟
- ١٢- لجنود الشرطه المصريه دورا ضد الاحتلال البريطاني في ٢٥ يناير ١٩٥٢ م ؟
- ١٣- انحياز محمد بك ابو الدهب للسلطان العثماني اثر علي حركه علي بك الكبير ؟
- ١٤- اظهر مؤتمر الصلح في باريس تحالف الدول ضد مصر ؟

السؤال الثاني ما النتائج المترتبه علي

- ١- اغتيال السير لي ستاك القائد العام للجيش المصري والحاكم العام للسودان ؟
- ٢- موقعه نفارين عام ١٨٢٧ م ؟
- ٣- الانتقادات التي وجهتها الحركه الوطنيه للوزاره المختلطه ؟
- ٤- حادثه قصر النيل عام ١٨٨١ م ؟
- ٥- تولي محمود سامي البارودي رئاسه الوزراء فبراير ١٨٨٢ م ؟
- ٦- خيانه دلياسبس لعراقي (بالنسبه لامر قناه السويس) ؟
- ٧- الغاء دستور ١٩٢٣ م و اصدار دستور ١٩٣٠ م ؟
- ٨- الغاء مصطفى النحاس لمعاهده ١٩٣٦ ؟
- ٩- تنديد الزعيم احمد عرابي بحادثه دنشواي ١٩٠٦ م ؟
- ١٠- اقضاء الخديو اسماعيل الوزيرين الاجنبيين و اصدار لائحته لتسويه الديون في يونيه ١٨٧٩ م ؟
- ١١- سياسه العزله التي فرضها العثمانيين علي مصر ؟
- ١٢- مفاوضات محمد علي مع القوي الاوربيه لتامين انسحاب جيشه من الموره ؟
- ١٣- فرماني ١٨٤١ م ؟
- ١٤- معارضه محمد فريد مشروع مد امتياز قناه السويس ؟
- ١٥- معركة ابي قير البحريه ؟
- ١٦- حمله فريزر ١٨٠٧ م ؟

السؤال الثالث ما المقصود بالمصطلحات الاتيه

اتفاق ودي	الحمايه البريطانيه	اللائحه السعدييه	محاكم قنصليه	احتلال
مقاومه	امتيازات اجنبيه	فرمان	التزام	احتكار
المصير	حق الانتفاع	محاكم مختلطه	مراقبه ثنائيه	حق تقرير

السؤال الرابع ماذا كان يحدث اذا

- ١- نجحت مصر في تمويل قناه السويس في عهد سعيد و اسماعيل كما فعلت في مشروع قناه السويس الجديد ؟
- ٢- تمكنت مصر من الاستغناء عن المصنوعات الاجنبية في ضوء تجربه محمد علي للنهوض بالصناعه ؟
- ٣- اغلق الزعيم احمد عرابي قناه السويس امام السفن البريطانيه بعد معركة كفر الدوار ١٨٨٢ م ؟
- ٤- لم يعلن السلطان العثماني عصيان عرابي ؟
- ٥- لم يعارض محمد فريد فكره مد امتياز قناه السويس ؟
- ٦- لم يعترض الشعب المصري علي دستور ١٩٣٠ م ؟
- ٧- لم تحاصر الدبابات البريطانيه قصر عابدين ٤ فبراير ١٩٤٢ م ؟
- ٨- لم يتضمن تصريح ٢٨ فبراير ١٩٢٢ م التحفظات الاربعه ؟
- ٩- لم تقف الزعامه الشعبيه بجانب محمد علي عام ١٨٠٦ م ؟
- ١٠- لم يستغل مصطفى كامل حادثه دنشواي ١٩٠٦ م ؟
- ١١- لم يتم تحطيم الاسطول الفرنسي في معركة ابو قير البحريه ١٧٨٩ ؟
- ١٢- لم يقاطع الشعب المصري لجنه ملنر ؟
- ١٣- قبلت انجلترا اتفاقيه العريش ١٨٠٠ م ؟ اصرت انجلترا علي عدم سفر الوفد المصري لباريس ؟
- ١٤- لم يقيم محمد علي بارسال البعثات العلميه لاوروبا ؟

السؤال الخامس قارن بين

- ١- تصريح ٢٨ فبراير ١٩٢٢ م و معاهده ١٩٣٦ م من حيث الاسباب و النتائج ؟
- ٢- دستور ١٩٢٣ م و دستور ١٩٣٠ م من حيث المحتوي و النتائج ؟
- ٣- انذار اللورد اللنبى للحكومه المصريه ١٩٢٤ م و الانذار البريطاني للحكومه ١٩٤٢ م من حيث الاسباب و النتائج ؟
- ٤- احوال الفلاح المصري في عهد الدوله العثمانيه و عهد محمد سعيد باشا ؟
- ٥- المذكره المشتركه الاولى و الثانيه من حيث الاسباب و المحتوي و النتائج ؟
- ٦- الثوره العربيه و ثوره ١٩١٩ م من حيث الاسباب و النتائج ؟
- ٧- سياسه التعليم في عهد سعيد و اسماعيل ؟
- ٨- ثوره القاهره الاولى و الثانيه من حيث الاسباب و النتائج ؟
- ٩- كليبر و مينو من حيث البقاء في مصر او الرحيل عنها ؟

السؤال السادس ارتبط شهر فبراير من عامي ١٩٢٢م و ١٩٤٢ م بالعديد من الاحداث في تاريخ

- ١- الحركه الوطنيه في ضوء العبارة وضح
- ٢- الاثار التي ترتبت علي كلا منهما بالنسبه لمصر ؟

السؤال السابع رتب الوزارت الاتيه من القديم للحديث

باشا --- وزاره سعد زغلول --- وزاره زيور باشا--- وزاره البارودي--- وزاره اسماعيل صدقي --- وزاره نوبار

تحيا مصر تحيا مصر تحيا مصر

تمنياتي بالتوفيق