

٣

# الأوائل

## فى المراجعة النهائية الدراسات الاجتماعية

اعداد الاستاذ  
أشرف شيلابى

الصف الثالث اعدادى  
الفصل الدراسى الاول



Download from  
Dreamstime.com

This watermarked image is for previewing purposes only.

ID 107080258

Bassem Adel | Dreamstime.com

## الوحدة الاولى

### المصطلحات

الدول الجزرية	الدول التي تتكون من جزيرة أو أكثر أو قد تكون جزءا من جزيرة.
الموقع الفلكى	هو الموقع بالنسبة لخطوط الطول ودوائر العرض
الموقع الجغرافى	هو موقع المكان بالنسبة للأماكن المجاورة ( قارات - محيطات - دول )
حوض النهر	الأرض التي يجرى فيها النهر وروافده أو تنحدر مياهه اليه
الاقليم المناخى	منطقة محددة على سطح الأرض لها خصائص مناخية معينة من حيث الحرارة والرياح والمطر،

### بم تفسر

١. اسيا شبه جزيرة ؟ - تحيط بها المياه من ثلاث جهات
٢. تعتبر استراليا جزيرة ؟ تحيط بها المياه من جميع الجهات
٣. تعرف هضبة التبت بسقف العالم ؟ لانها اعلى هضاب العالم وهى مرتفعة عن قمم الجبال
٤. إنشاء الموانئ الطبيعية بالسهول الساحلية فى قارة اوروبا ؟  
بسبب كثرة تعاريج السواحل
٥. عدم وجود سكان فى انتاركتيكا ؟ بسبب شديدة البرودة ويغطيها الجليد طوال العام
٦. تتميز السهول الساحلية بافريقيا بشكا عام بالضيق ؟  
لاقتراب حافات الجبال والهضاب
٧. ضيق السهول الساحلية فى شرق استراليا  
بسبب اقتراب جبال الحاجز الكبير من المحيط الهادى.
٨. قلة الموانئ على السواحل الافريقية ؟ بسبب استقامة سواحل قارة أفريقيا .
٩. تفقد سهول سيبيريا اهميتها شتاءا ؟ لانها تتجمد شتاءا
١٠. قيام الزراعة حول الانهار ؟ وجود التربة الخصبة والمياه العذبة
١١. الاهمية الاقتصادية للسهول الفيضية ؟ تربة خصبة صالحة للزراعة - يتركز بها السكان
١٢. ضيق السهول الساحلية فى غرب امريكا الجنوبية ؟  
بسبب اقتراب جبال الانديز من المحيط الهادى
١٣. اهمية هضبتى الحبشة والبحيرات الاستوائية ؟ حيث تنبع منهما روافد نهر النيل
١٤. السافانا حديقة حيوان طبيعية ؟ يعيش بها حيوانات اكلة عشب وحيوانات اكلة لحوم
١٥. اختلاف المناخ فى الاقليم الصينى والبحر المتوسط رغم وقوعهما فى نفس دوائر العرض  
لان الاقليم الصينى يقع شرق القارات بينما اقليم البحر المتوسط يقع غرب القارات
١٦. اهمية السهل الاوروبى العظيم ؟  
- يتكون معظمه من رواسب طينية تمثل تربة زراعية خصبة

## الاولائل فى الدراسات الاجتماعية للصف الثالث الاعدادى

- توجد به المدن الأوربية الرئيسية مثل ( باريس - برلين - أمستردام )
١٧. ضيق السهول الساحلية فى امريكا الجنوبية ؟  
بسبب اقتراب جبال الانديز من المحيط الهادى
١٨. يسود افريقيا المظهر الهضبى ؟ حيث تشغل الهضاب مساحة واسعة من القارة
١٩. تنمو الاشجار الموسمية فى شبه جزيرة الهند الصينية جنوب الصين ؟  
غزارة الامطار الموسمية
٢٠. تدرج حشائش السافانا فى القصر كلما اتجهنا شمالا وجنوبا من الاستواء ؟  
حيث تتناقص كمية المطر
٢١. تسمية الغابات النفضية بهذا الاسم ؟ لانها تنفض اوراقها فى فصل الشتاء
٢٢. اسيا اكثر الاقاليم تنوعا فى المناخ ؟  
لكبر مساحتها وامتدادها فى عدد كبير من دوائر العرض
٢٣. اختلاف المناخ من مكان لآخر ؟ بسبب اختلاف الموقع الفلكى و التضاريس
٢٤. عدم انتشار حشائش السافانا فى اوروبا ؟ لوقوع اوروبا فى المنطقة المعتدلة الباردة
٢٥. كثافة الاشجار الاستوائية ؟ غزارة الامطار
٢٦. تنوع الحياة النباتية فى الاقليم الجبلى طبقا لارتفاع السطح وكمية المطر

## ما النتائج المترتبة على

- ١- كثرة تعاريج سواحل اوروبا ؟ ١- إنشاء الموانئ الطبيعية
- ٢- وقوع انتركيتكا عند القطب الجنوبي ؟ اصبحت متجمدة وغير ما هولة بالسكان
- ٣- اقتراب جبال الانديز من ساحل المحيط الهادى ؟  
ادى لضيق السهول الساحلية الغربية فى امريكا الجنوبية
- ٤- الموقع الفلكى لاسيا مناخيا ؟ تمتد بها جميع الاقاليم المناخية
- ٥- سقوط الامطار طوال العام فى حوض الكونغو ؟ نمو الغابات الموسمية
- ٦- سقوط الامطار طول العام فى حوض الكونغو ؟ نمو الغابات الاستوائية الكثيفة والمتشابكة

## دال على صحة العبارات

١. تضاريس امريكا الشمالية مع تضاريس امريكا الجنوبية ؟  
ذلك لوجود جبال غرب القارة تمتد من الشمال الى الجنوب - سهول فيضية فى وسط القارة
٢. تشابه الاقليم المدارى والموسمى ؟ كلاهما حار صيفا ومطر وجاف شتاء
٣. تشابه تضاريس افريقيا واستراليا ؟ لان المظهر الهضبى يشغل مساحة القارتين
٤. تشابه المناخ جنوب اوروبا مع شمال افريقيا ؟ لانهما يتبعان الاقليم البحر المتوسط
٥. اختلاف المناخ فى الاقليم الصينى والبحر المتوسط رغم وقوعهما فى نفس دوائر العرض  
لان الاقليم الصينى يقع شرق القارات بينما اقليم البحر المتوسط يقع غرب القارات

## الاولائل في الدراسات الاجتماعية للصف الثالث الاعدادي

الاقليم الصينى مطر طول العام والبحر المتوسط مطر شتاءا

٦. يتشابه اللورانسى مع غرب اوروبا كلاهما فى المنطقة المعتدلة الباردة وومطر طول العام

### مصبات الانهار

النهر	المصب	النهر	المصب
أوب - ينسى - لينا	المحيط القطبى الشمالى	دجلة والفرات	الخليج العربى
نهر الياڭجستى	المحيط الهادى	السند	الهندى
الجانج	خليج البنغال	نهر النيجر	خليج غينيا
نهر النيل	البحر المتوسط	نهر الاورينكو	فى المحيط الأطلنطى
نهر الكنفو	المحيط الاطلنطى	نهر الراين	بحر الشمال
الزمبىزى	المحيط الهندى	الفولجا	بحر قزوين
نهر الدانوب	البحر الاسود	أنهار بارانا وبارجواى	المحيط الأطلنطى
		نهر الأمزون	فى المحيط الأطلنطى

### الاقاليم المناخية

الاقليم	الموقع الفلكى	الخصائص المناخية	الخصائص النباتية
الاستوائى	صفر - ١٠	حار ممطر طوال العام	الغابات الاستوائية ( الماهوجنى المطاط )
المدارى الحار	١٠-١٨	حار ممطر صيفا بارد جاف شتاءا	غابات مدارية حشائش السافانا
الموسمى		حار ممطر صيفا بارد جاف شتاءا	غابات موسمية ( جوزالهند ) حشائش السافانا
البحر المتوسط	٣٠ - ٤٥ غرب القارات	حار جاف صيفاً دافئ ممطر شتاءاً	غابات البحر المتوسط ( الزيتون ) حشائش الاستبس
المعتدل شرق القارات ( الصينى )	٣٠ - ٤٥ شرق القارات	ترتفع الحرارة صيفا وتنخفض شتاء تسقط الأمطار طوال العام وتزداد صيفا	غابات الاقليم الصينى ( الصفصاف - البلوط ) حشائش الاستبس
غرب أوربا	٤٥ - ٦٠ غرب القارات	دافئ صيفاً بارد شتاءاً ممطر طول العام	الغابات النفضية ( الزان )
المعتدل البارد اللورانسى	( ٤٥ - ٦٠ ) شمالا شرق القارات	معتدل صيفاً بارد شتاءاً تسقط الامطار خاصة الصيف	غابات مخروطية ( الصنوبر - الشربين )
التندرا	فى المناطق القطبية	صيف قصير (أمطار قليلة ) شتاء طويل شديد البرودة الثلوج	طحالب سريعة النمو
الجبلى		شديد البرودة وكثيرا ما تُغطى القمم الجبلية بالجليد	تنوع الحياة النباتية طبقا لارتفاع السطح وكمية المطر

## تدرفبات الوحدة الاولف

### السؤال الاول : اكمل العبارات الآفة

١. مسافة الكرة الارضفة حوالف .....
٢. مسافة البحار ..... % والفافس .....%
٣. قارات العالم القدفم هف ..... و..... و.....
٤. اكبر المففطاف مسافة هف..... و اكبر القارات هف .....
٥. فبلغ مسافة آسفا ..... و افرفقا ..... و اوروبا .....
٦. فبلغ مسافة امرفكا الشمالفة ..... و امرفكا الجنوبفة .....
٧. فمر بجنوب اسفا دائرة عرض رئفسفة هف ..... و شمالها دائرة عرض رئفسفة هف .....
٨. تقع قارة آسفا شمال دائرة الاستواء ماعدا بعض الجزر مثل ..... و .....
٩. فتمد قارة آسفا بفن دائرفف عرض ..... : ..... حوالف ..... درجة عرضفة
١٠. فتمد قارة آسفا بفن خطف دول ..... : ..... حوالف ..... خط طول
١١. ففوجد اكبر بحر داخلف فى العالم فى قارة..... وهف .....
١٢. من اشباه الجزر فى آسفا ..... و .....
١٣. ففصل اسفا عن افرفقا شبه جزرفة ..... والبحر ..... ومضفق .....
١٤. فسمى الدول الفف ففكون من جزرفة أو أكفر باسم .....
١٥. فتمد افرفقا بفن دائرفف عرض ..... : ..... اكفر من ..... دائرة عرضفة
١٦. فتمد افرفقا بفن خطف طول ..... : ..... اكفر من ..... خط طول
١٧. فمر مدار ..... جنوبها وفى الوسط دائرة عرض رئفسفة هف .....
١٨. من اهم الجزر فى قارة افرفقا .....
١٩. ففقترب افرفقا من اوروبا عند مضفق ..... وجزرفة .....
٢٠. فتمد اوروبا بفن دائرفف عرض ..... : ..... حوالف ..... درجة عرضفة
٢١. فتمد اوروبا بفن خطف طول ..... : ..... حوالف ..... خط طول
٢٢. ففتمفز قارة ..... بكثرة ففرج السواحل
٢٣. اقصى امتداد غربف لاوروبا مع سواحل دولة .....
٢٤. فمر فى غرب اوروبا خط الطول .....
٢٥. فمر شمال اوروبا دائرة عرض رئفسفة هف .....
٢٦. فتمد امرفكا الشمالفة بفن دائرفف عرض ..... : ..... اكفر من ..... درجة عرضفة
٢٧. فتمد امرفكا الشمالفة بفن خطف طول ..... : ..... حوالف ..... خط طول
٢٨. فتمد امرفكا الجنوبفة بفن دائرفف عرض ..... : ..... حوالف ..... دائرة عرض



٢٩. تمتد امرفكا الفلوبفة بفن فطف طول ..... : فوالف ..... فط طول
٣٠. شكل امرفكا الفلوبفة أفرب إلف .....
٣١. فسمى قارة اسفرفلف .....
٣٢. فمفداسفرفلف بفن فافرفف فرف ..... : فوالف ..... فرفة فرففة
٣٣. فمفداسفرفلف بفن فطف طول ..... : فوالف ..... فط طول
٣٤. ففصل اسفرفلف عن فزر انفونفسفا ففر .....
٣٥. فقع القارة القفطففة الفلوبفة فف ..... الفرة الارطففة
٣٦. القارة ..... ففر فافولة بالسكان
٣٧. ففقسف الففارففس فف الفالف إلف ..... و..... و.....
٣٨. من فبال غرب اسفا ..... فف فرففا و..... فف الفراق وافران
٣٩. من فبال شرق اسفا ..... وفف الوسف سلسلة فبال ..... و
٤٠. اعلف قمة فبلفة فف الفالف وهف قمة ..... فف فبال.....
٤١. فقع هطفة ..... وسف اسفا وفسمى سفف الفالف
٤٢. السهول الفمالففة لاسفا فسمى ..... وففر فف فاف ..... و ..... و .....
- ..... وففب فف .....
٤٣. السهول الفرففة فف آسفا هف ..... و ..... وبفا افاف ففها .....
٤٤. فسود افرففا المظهر .....
٤٥. من فبال فمال غرب افرففا فبال ..... وففر بففها هطفة .....
٤٦. فمفد فبال الففر الاففر فف ..... و ..... و .....
٤٧. فمفد فف شرق افرففا فبال ..... و..... وفف الففوب الفرفف .....
٤٨. فمفد هطفة ..... فف شرق افرففا بففما هطفة..... فف الوسف
٤٩. فمفد هطفة ..... ففوب افرففا وففر فف فاف ففر ..... و.....
٥٠. فمفد السلاسل الفبلفة فف اوروبا فافاف فاف من ..... إلف .....
٥١. اشفر فبال اوروبا هف فبال ..... وفسمى ب ..... فف فمال اسبانفا
٥٢. ففغل هطفة..... فمفم اسبانفا وفمفد ..... فف فرفسا
٥٣. فففر ..... أفول أفاف أوربا وففب فف.....
٥٤. من ففن السهل الاوروبف الففم ..... و.....
٥٥. من هفاب امرفكا الفمالففة فف الفمال الفرفف ..... وفف الففوب .....
٥٦. فقع هطفة لبرافور بفن فلفف ..... والففط .....
٥٧. فوفف الففراف الففمف بفن فولفف ..... و.....
٥٨. ففر فف السهول الففطففة بامرفكا الفمالففة ففر ..... و ..... فف الفمال
٥٩. فوفف فف ففوب امرفكا الفمالففة ففر ..... وفف الفمال ..... و .....

## الاولئل فى الدراسات الالءماعفة للصف الالء الاعداءى

٦٠. الءمئل الءبال فى امرفكا الءنوبفة فى الغرب فى ءبال .....
٦١. اكبر هضاب امرفكا الءنوبفة واكثرها ارءفاعاً ..... بفنما اصغرها.....
٦٢. فءرف فى هضبة البرازفل نهر ..... وفصب فى .....
٦٣. ءرف فى سهول لابلالا نهرى ..... و ..... وفصبا فى .....
٦٤. الوءء الى الءنوب الشرقى لاسءراليا ءزر ..... و .....
٦٥. اهم ءبال اسءراليا ءبال ..... وءعرف بءبال .....
٦٦. من انهار اسءراليا نهرى ..... و ..... وفصبان فى .....
٦٧. الوءء السهول الصءراوفة فى قارءى ..... و .....
٦٨. اكبر مساةة من الغاباء الاسءوائفة فى العالم ءقع بءوض نهر .....
٦٩. فءمءء الاقلفم ..... بفن دائرءى عرض ١٠ ش : ١٠ ء .....
٧٠. فءمءء الاقلفم ..... بفن دائرءى عرض ١٠ : ١٨ شمالا وءنوبا .....
٧١. فءمءء الاقلفم ..... بفن دائرءى عرض ٣٠ : ٤٥ شرق القارات .....
٧٢. فءمءء الاقلفم ..... بفن دائرءى عرض ٤٥ : ٦٠ شرق القارات .....
٧٣. فءمءء الاقلفم ..... بفن دائرءى عرض ٣٠ : ٤٥ غرب القارات .....
٧٤. فءمءء الاقلفم ..... بفن دائرءى عرض ٤٥ : ٦٠ غرب القارات .....
٧٥. فءمءء الاقلفم ..... بفن دائرءى عرض ٦٠ : ٩٠ شمالا وءنوبا .....
٧٦. فءمئل الاقلفم الاسءوائى فى افرفقا فى ءوض ..... وفى ءزر .....
- باسفا وغباء ..... بامرفكا الءنوبفة .....
٧٧. ءنمو الغاباء ..... بالاقلفم الاسءوائى ومن اشءارها ..... و .....
٧٨. فقع اقلفم ..... فى شمال وءنوب الامازون وفى هضبة ءفانا والبرازفل .....
٧٩. فمءء الاقلفم ..... فى ءنوب غرب اسفا وامرفكا الشمالفة .....
٨٠. فءمفز الاقلفم الموسمى بءزارة الامطار فى فصل .....
٨١. . فقع اقلفم مناخ ..... فى مناطق واسعة شمال وءنوب الاقلفم الاسءوائى .....
٨٢. فءمئل فى شمال قارة اسءراليا اقلفمى المناخ ..... و .....
٨٣. فمءء اقلفم البءر المءوسط فى افرفقا فى منءقءفن هما ..... و .....
٨٤. فءمئل اقلفم البءر المءوسط فى قارة امرفكا الشمالفة فى الواءى الاوسط لولافة .....
- ..... وفى امرفكا الءنوبفة السائل وسط ل.....
٨٥. ءعرف الاسءبس فى امرفكا الشمالفة باسم .....
٨٦. فمءء الاقلفم ..... فى ءنوب شرق افرفقا وامرفكاش وامرفكا ء واسءراليا .....
٨٧. من اهم اشءار الاقلفم الصفنى ..... و .....
٨٨. ءنمو الغاباء ..... غرب اوروبا ومن اهم اشءارها .....

## الاولئل فى الدراسات الالءماعفة للصف الالء الاعداءى

٨٩. ءنمو الغاباء ..... فى الالقلفم المعءءل البارء شرق القاراء و من اهم اشجارها ..... و.....

٩٠. فسوء شمال شرق امرفكا الشمالفة اقلفم .....

٩١. فعفش باقلفم الءنءرا ءفوان .....

٩٢. فعرف الالقلفم المعءءل الءفئ غرب القاراء باسم .....

٩٣. فعرف الالقلفم المعءءل الءفئ شرق القاراء باسم .....

٩٤. فعرف الالقلفم المعءءل البارء غرب القاراء باسم .....

٩٥. فعرف الالقلفم المعءءل البارء شرق القاراء باسم .....

## فم ءفسر...؟

١. قارة انءارءكءفكا ففر مأهولة بالسكان .....
٢. كءرة الموانى الطبعفة فى اوربا . .....
٣. ءعء اسءراليا جزفرة كبفرة .....
٤. ضفق السهول الساحلفة فى غرب امرفكا الففوففة .....
٥. جرفان نهر النيل طول العام .....
٦. نءرة السكان فى ءوض نهر الالمازون .....
٧. ءسمى هضبة الءبء بسقف العالم .....
٨. اهمفة السهول الفضفة فى قاراء العالم .....
٩. فسوء قارة افرفقفا المظهر الهضبى .....
١٠. ءءشابة الءضارفس فى قارءى اسفا و افرفقفا .....
١١. ءءشابة الءضارفس فى قارءى امرفكا الشمالفة والففوففة .....
١٢. اسفا اكءر القاراء ءنوعا فى المناخ . .....
١٣. ءنمو الاشجار الموسمفة الكءففة فى الهند وففوف شرق الصفن . .....
١٤. السافانا ءءففة ءفوان طبعفة .....
١٥. ءنوع النبات الطبعفى فى العالم .....
١٦. الغاباء الففضفة ءنفض اوراقها فى الشءاء .....
١٧. ءقصر ءشائش السافانا كلما بعءنا عن ءط الاسءواء .....

## الءئر الالءابة الصءفة مما بفن القوسفن

١. اصغر القاراء مساة ..... ( آسفا - اسءراليا - افرفقفا - اوربا )
٢. ءانى اصغر القاراء مساة ..... ( آسفا - اسءراليا - افرفقفا - اوربا )
٣. الءء الشمالى لاسفا هو المءفط ..... ( القطبى الشمالى - الهاءى - الهندى )
٤. الءء الففوفى لاسفا هو المءفط ..... ( القطبى الشمالى - الهاءى - الهندى )
٥. الءء الشرقى لاسفا هو المءفط ..... ( القطبى الشمالى - الهاءى - الهندى )



٦. الحد الشمالى لافرىقىا هو البحر ..... ( الاحمر - المتوسط - العربى )
٧. الحد الغربى لافرىقىا هو المحيط ..... ( الاطلنطى - الهادى - الهندى )
٨. الحد الشرقى لافرىقىا هو المحيط ..... ( القطبى الشمالى - الهادى - الهندى )
٩. الحد الشمالى لاوروبا هو المحيط ..... ( القطبى الشمالى - الهادى - الهندى )
١٠. الحد الجنوبى لاوروبا هو البحر ..... ( الاحمر - المتوسط - العربى )
١١. الحد الغربى لاوروبا هو المحيط ..... ( القطبى الشمالى - الاطلنطى - الهندى )
١٢. الحد الشمالى لامرىكا ش هو المحيط ..... ( القطبى الشمالى - الهادى - الهندى )
١٣. الحد الشرقى لامرىكا ش المحيط ..... ( الاطلنطى - الهادى - الهندى )
١٤. الحد الغربى لامرىكا ش المحيط ..... ( القطبى الشمالى - الهادى - الهندى )
١٥. الحد الجنوبى لامرىكا الشمالية هو خليج ..... ( هدرن - المكسىك - سانت لورانس )
١٦. الحد الغربى لامرىكا ج هو المحيط ..... ( الاطلنطى - الهادى - الهندى )
١٧. الحد الشرقى لامرىكا ج هو المحيط ..... ( الاطلنطى - الهادى - الهندى )
١٨. الحد الشمالى لامرىكا ج هو البحر ..... ( الاحمر - الكارىبى - العربى )
١٩. يمر خط الاستواء فى وسط قارة ... ( افرىقىا - امرىكا الشمالية - اوربا - استراليا )
٢٠. تمتد فى جنوب اسىا جزر ..... ( نيوزىلندا - اندونىسىا - القمر )
٢١. تمتد فى جنوب غرب استراليا جزر ..... ( نيوزىلندا - اندونىسىا - القمر )
٢٢. القارة التى تشغل الجزء الجنوبى من الكرة الأرضىة ..... ( اوربا - استراليا - انتاركتىكا - افرىقىا )
٢٣. يفصل البحر الاحمر اسىا عن ..... ( افرىقىا - امرىكا الشمالية - اوربا - استراليا )
٢٤. تمتد فى شمال غرب افرىقىا جبال ..... ( البحر الاحمر - اطلس - كىنىا )
٢٥. اطول انهار اوروبا نهر .... ( الدانوب - البو - الفولجا )
٢٦. تمتد هضبة الحبشة فى ..... افرىقىا ( شرق - شمال - وسط )
٢٧. اعلى قمة جبلىة فى العالم هى قمة ( وتنى - مونت بلان - افرست )
٢٨. تعرف السهول الشمالىة فى اسىا بسهول .... ( منشورىا - الصىن - سىبىرىا )
٢٩. يصب نهر الجانج فى خليج .... ( البنغال - العربى - المحيط الهادى )
٣٠. تمتد هضبة الدكن فى وسط .... ( الصىن - الهند - تركىا )
٣١. يمتد السهل الاوروبى العظيم شرقا حتى جبال ( الابنىن - الالب - اورال )
٣٢. يصب نهرا مرى ودارلنچ فى ..... ( المحيط الهادى - بحر ارافورا - الخليج الاسترالى الكبير )
٣٣. اعلى جبال قارة امرىكا الشمالية ..... ( الابلاش - كسكىد - روكى )
٣٤. من اوسع سهول نهرية بالعالم ..... ( اورىنوكو - سانت لورنس - الامازون )
٣٥. يجرى فى امرىكا الجنوبىة نهر ..... ( بارانا - نلسن - دارلنچ )
٣٦. من اشجار الغابات الاستوائىة ..... ( الصنوبر - الارز - المطاط )

٣٧. تعتبر حديقة حيوان طبيعىة ..... ( الغابات الموسمىة - السافانا - التندرا )
٣٨. من اشجار الغابات النفضىة ... ( الزان - الصنوبر - التىك )
٣٩. تسمى الاستبس فى امريكا الشمالىة بحشائش .. ( الكامبوس - البمباس - البرارى )
٤٠. من مناطق الغابات الاستوائىة فى اسىا .....
- ( جزر الفلىبن - جزر اندونىسىا - جزر اليابان )
٤١. تعد ..... من اشجار اقلىم الغابات المخروطىة ( الصنوبر - البلوط - الزان )
٤٢. تنتمى جزر اندونىسىا الى الاقلىم ..... ( المدارى - الاستوائى - الصحراوى )
٤٣. يسود مناخ ..... شمال اوربا ( البحر المتوسط - الصىنى - التندرا )
٤٤. يسود مناخ ..... جنوب اوربا ( البحر المتوسط - الصىنى - التندرا )
٤٥. يسود مناخ ..... غرب اوربا ( البحر المتوسط - الصىنى - غرب اوربا )
٤٦. يوجد المناخ الصىنى فى امريكا الشمالىة فى ... ( الغرب - الوسط - الجنوب الشرقى )
٤٧. يتركز سقوط الامطار فى الاقلىم الصىنى ..... ( الصىف - الشتاء - طول العام )
٤٨. يتركز سقوط الامطار فى الاقلىم البحر المتوسط ..... ( الصىف - الشتاء - طول العام )
٤٩. يتركز سقوط الامطار فى الاقلىم الاستوائى ..... ( الصىف - الشتاء - طول العام )
٥٠. يتركز سقوط الامطار فى الاقلىم المدارى ..... ( الصىف - الشتاء - طول العام )
٥١. يتركز سقوط الامطار فى الاقلىم غرب اوربا ..... ( الصىف - الشتاء - طول العام )
٥٢. يتركز سقوط الامطار فى الاقلىم اللورانسى ..... ( الصىف - الشتاء - طول العام )
٥٣. تعرف السهول الفىضىة بوسط امريكا الشمالىة ب ... ( الشمالىة - الوسطى - الجنوبىة )
٥٤. تنمو اشجار جوز الهند فى الإقلىم ..... ( الاستوائى - الموسمى - المدارى )
٥٥. يسود الاقلىم الموسمى ..... استرالىا ( شمال - جنوب - وسط )
٥٦. تنتمى جزيرة مدغشقر وهضبة الحبشة للاقلىم ..... ( الاستوائى - الموسمى - المدارى )
٥٧. من اشجار اقلىم البحر المتوسط ..... ( الزان - الزيتون - الصنوبر )
٥٨. يتعرض الاقلىم الصىنى لعواصف ..... ( التىفون - الهرىكىن - كالىفورنىا )
٥٩. يشغل الاقلىم ..... قمم الجبال فى القارات ( الجبلى - الاستوائى - المدارى )
٦٠. يسود قارة انتاركتىكا الاقلىم ..... ( الجبلى - التندرا - المدارى )

## صوب ما تحته خط

١. يفصل البحرالاحمر بين أوربا شمالا وقارة افرىقىا
٢. يفصل اسىا عن اوربا جبال الالب
٣. يمر مدار الحدى شمال افرىقىا
٤. تقع جزر نيوزلنده بالنسبة لاسترالىا جهة الغرب
٥. تقع هضبة شبه الجزيرة العربىة وسط الهند
٦. تمتد جبال الهمالاىا فى شبه جزيرة البلقان
٧. من الجبال فى شرق امريكا الشمالىة روكى

٨. اوسع سهول نهريه فى العالم لابلاتا
٩. تشبه تضاريس استراليا تضاريس اسيا
١٠. تعد أكثر القارات تنوعا فى مناخها هي افريقيا
١١. تسقط الامطار غرب اوربا شتاء فقط
١٢. تعد افريقيا قارة المتباينات المناخية
١٣. تعد قارة اسيا قارة المتناظرات المناخية
١٤. من السهول الياحلية المتفرقة باسيا حول بحر الاحمر
١٥. اعلى جبال امريكا الشماليه فى الغرب الابلاش
١٦. يسود حوض الكنغو وساحل غانا فى افريقيا المناخ البحر المتوسط
١٧. يطلق علي المناخ المداري اسم الصينى
١٨. منطقته جنوب تركيا وسواحل الشام يسودها مناخ الاقليم الصينى
١٩. البحر الذى يفصل استراليا عن جزر اندونيسيا هو بحر الصين .
٢٠. المحيط الذى يمتد غرب الأمريكتين هو الاطلنطى .
٢١. جبال توجد فى شمال غرب افريقيا هي البحر الاحمر
٢٢. تقصل الالب الدينارية بين فرنسا واسبانيا .
٢٣. توجد اعلي قمة جبيلة فى العالم فى قارة امريكا ش.
٢٤. اكبر قارات العالم مساحة افريقيا
٢٥. توجد هضبة البحيرات فى شرق قارة افريقيا وتنبع منها روافد نهر النيل.
٢٦. تبدو افريقيا فى شكل شبه جزيرة غير منتظمة الشكل وكأنها امتداد لقارة آسيا
٢٧. جبال كينيا توجد فى اقصى جنوب شرق قارة افريقيا .
٢٨. تتميز سواحل افريقيا بالتعاريح

## اكتب ما تشير اليه العبارات

١. الدول التى تتكون من جزيرة أو أكثر أو قد تكون جزءا من جزيرة
٢. اكبر بحر داخلى فى العالم
٣. الاقليم الذى يسود شمال اليابان
٤. الاقليم الذى يسود شمال كندا
٥. موقع المكان بالنسبة للأماكن الأخرى من بحار ومحيطات
٦. موقع المكان بالنسبة للأماكن الأخرى والبحار والمحيطات .
٧. الأرض التى يجرى داخلها النهر وروافده ويحده من الخارج خط وهمى
٨. جبال تمتد فى شبه جزيرة البلقان بقارة اوربا .
٩. سلسلة جبلية فى شرق قارة امريكا الشمالية.
١٠. سلسلة جبلية فى غرب امريكا الشمالية وتعد اعلي جبال القارة.

## الاولئل فى الدراسات الالءماعفة للصف الالء الاعداءى

١١. ءمءء فى غرب امرفكا الءنوبفة قرب سواءل المءفط الهاءى

١٢. من هضاب قارة اوربا وءشغل معظم اسبافا

١٣. من هضاب امرفكا الشمالفة وءوءء فى ءنوب القارة .

١٤. اكبر هضاب امرفكا الءنوبفة واكثرها ارءفاعا

١٥. هضبة ءوءء فى شمال قارة امرفكا الءنوبفة .

١٦. اطول انهار قارة اوربا فف بءر قزوفف.

١٧. هضبة ءعرف بسقف العالم

### افف ءقع هءه الانهار و ما هف مصافءها

النهر	القارة	المصب
النفل		
النفر		
المسفسبف		
لففا		
مرف		
الفافءسءف		
الامزون		
لابلاءا		
نلسن		

### افف ءنمو هءه الاشءار وما هو الاقلفم المناخف الءف ءنءمف له

الاشءار	الفاباء	الاقلفم
الزان		
الصنوبر		
الماهوفنى		
الزفءون		
ءوز الهند		

### قارن بفن امرفكا الشمالفة واسءرالفا من ءفء

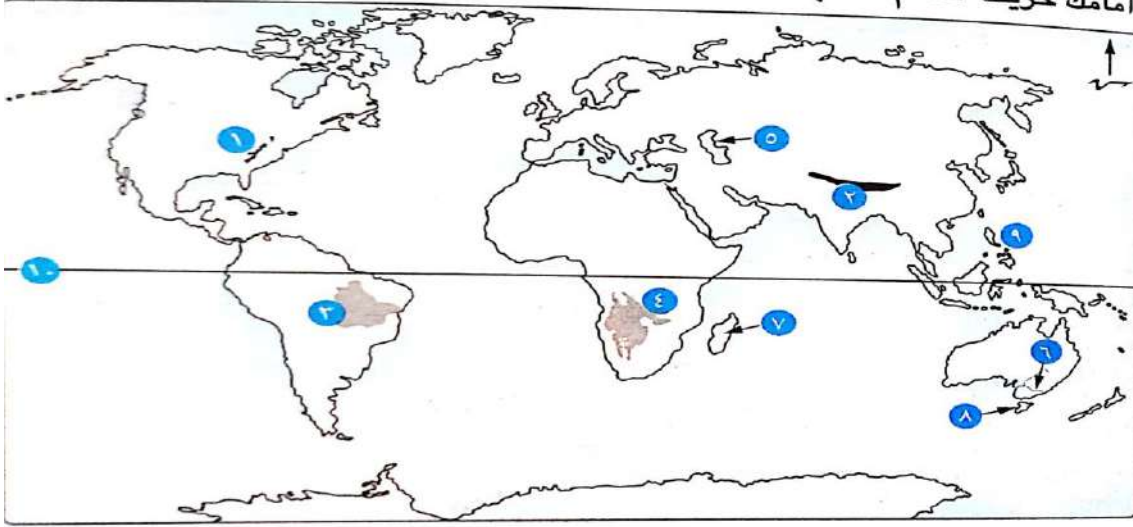
اسءرالفا	امرفكا الشمالفة	
		الءء الشمالف
		عءء ءوافر العرض
		الاقلفم ءنوب غرب القارة

### قارن بفن شمال غرب افرفقا وءنوب شرق اسفا من ءفء الاقلفم المناخف والمءفط الءف ءطل عفف

	شمال غرب افرفقا	ءنوب شرق اسفا
الاقلفم		
المءفط		

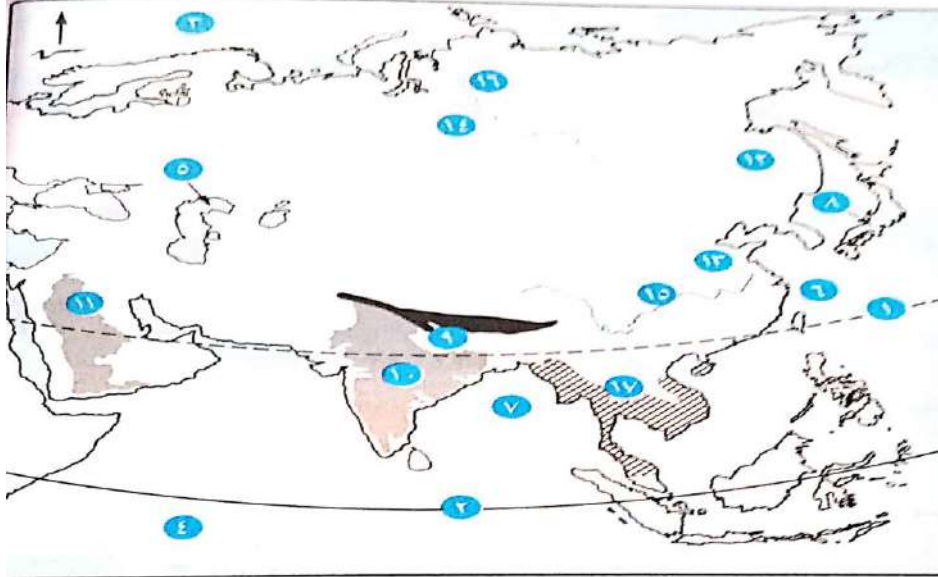
## تدريبات على الخرائط

(ز) أمامك خريطة للعالم، اكتب ما تدل عليه الأرقام :



- |                  |                    |                |
|------------------|--------------------|----------------|
| ..... (١) جبال   | ..... (٢) جبال     | ..... (٣) هضبة |
| ..... (٤) هضبة   | ..... (٥) بحر مغلق | ..... (٦) نهر  |
| ..... (٧) جزيرة  | ..... (٨) جزيرة    | ..... (٩) جزر  |
| ..... (١٠) دائرة |                    |                |

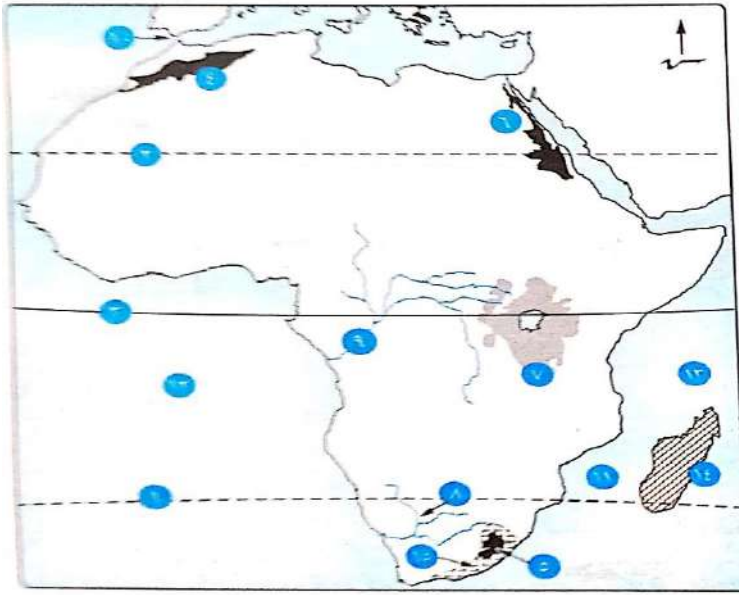
(١) أمامك خريطة لقارة آسيا، اكتب ما تدل عليه الأرقام التي عليها :



- |                        |                  |
|------------------------|------------------|
| ..... (١) مدار         | ..... (٢) دائرة  |
| ..... (٣) المحيط       | ..... (٤) المحيط |
| ..... (٥) بحر          | ..... (٦) بحر    |
| ..... (٧) خليج         | ..... (٨) جزر    |
| ..... (٩) جبال         | ..... (١٠) هضبة  |
| ..... (١١) هضبة        | ..... (١٢) سهل   |
| ..... (١٣) سهل         | ..... (١٤) سهل   |
| ..... (١٥) نهر         | ..... (١٦) نهر   |
| ..... (١٧) إقليم مناخي |                  |

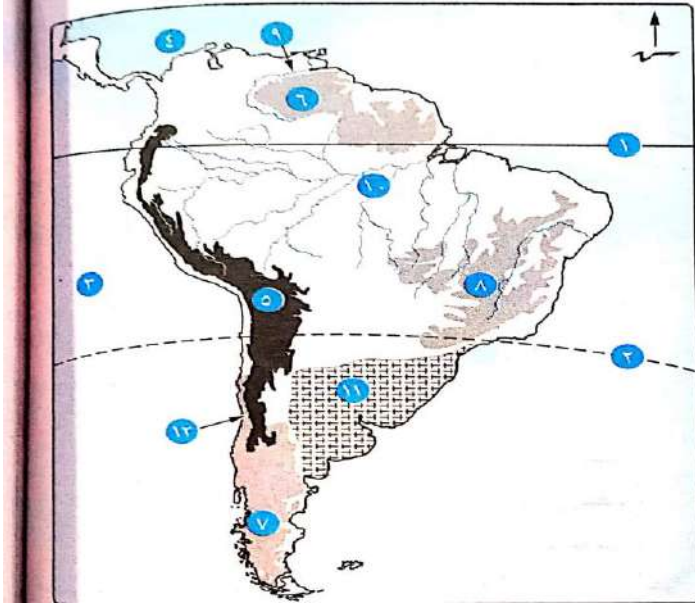


(ب) أمامك خريطة لقارة أفريقيا، اكتب ما تدل عليه الأرقام التي عليها :



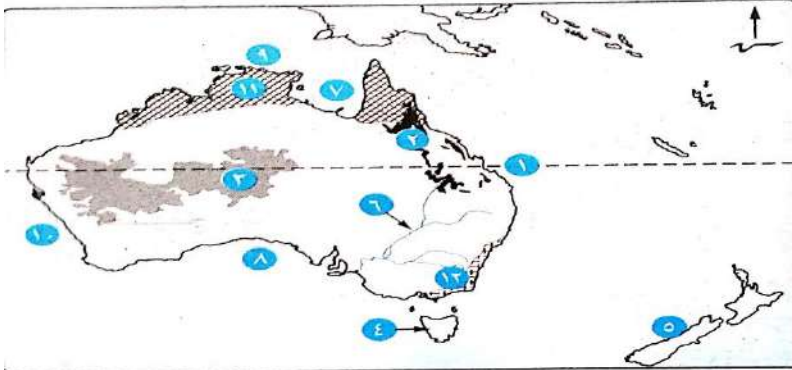
- (١) مدار .....
- (٢) مدار .....
- (٣) دائرة .....
- (٤) جبال .....
- (٥) جبال .....
- (٦) جبال .....
- (٧) هضبة .....
- (٨) نهر .....
- (٩) نهر .....
- (١٠) مضيق .....
- (١١) مضيق .....
- (١٢) المحيط .....
- (١٣) المحيط .....
- (١٤) إقليم مناخى .....
- (١٥) إقليم مناخى .....

(هـ) أمامك خريطة لقارة أمريكا الجنوبية، اكتب ما تدل عليه الأرقام :



- (١) دائرة .....
- (٢) مدار .....
- (٣) المحيط .....
- (٤) البحر .....
- (٥) جبال .....
- (٦) هضبة .....
- (٧) هضبة .....
- (٨) هضبة .....
- (٩) نهر .....
- (١٠) نهر .....
- (١١) إقليم مناخى .....
- (١٢) إقليم مناخى .....

(و) أمامك خريطة لقارة أستراليا، اكتب ما تدل عليه الأرقام التي عليها :

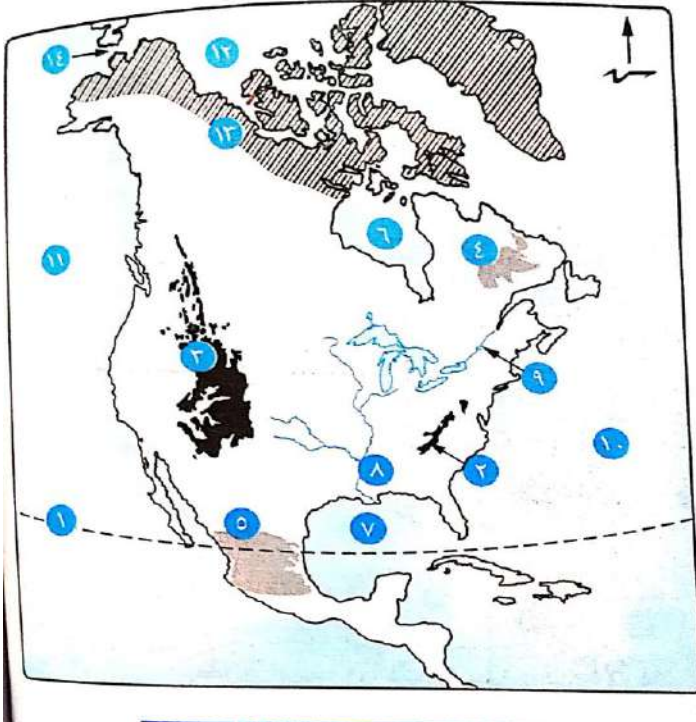


(١٢) إقليم مناخى .....

- (١) مدار .....
- (٢) جبال .....
- (٣) الهضبة .....
- (٤) جزيرة .....
- (٥) جزيرة .....
- (٦) نهر .....
- (٧) خليج .....
- (٨) الخليج .....
- (٩) بحر .....
- (١٠) المحيط .....
- (١١) إقليم مناخى .....

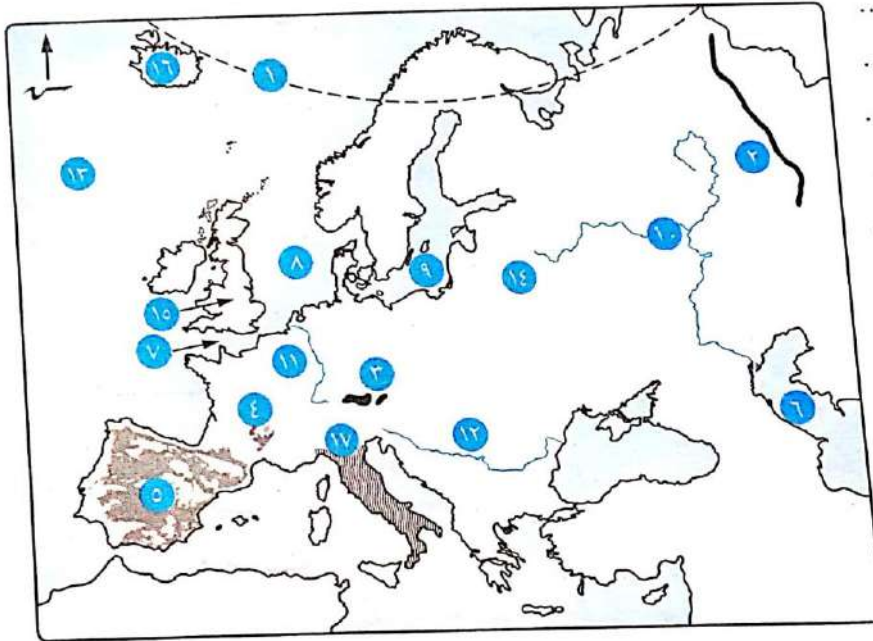


د) أمامك خريطة لقارة أمريكا الشمالية، اكتب ما تدل عليه الأرقام التي عليها :



- (١) مدار .....
- (٢) جبال .....
- (٣) جبال .....
- (٤) هضبة .....
- (٥) هضبة .....
- (٦) خليج .....
- (٧) خليج .....
- (٨) نهر .....
- (٩) نهر .....
- (١٠) المحيط .....
- (١١) المحيط .....
- (١٢) المحيط .....
- (١٣) إقليم مناخى .....
- (١٤) مضيق .....

ج) أمامك خريطة لقارة أوروبا، اكتب ما تدل عليه الأرقام التي عليها :



- (١) الدائرة .....
- (٢) جبال .....
- (٣) جبال .....
- (٤) هضبة .....
- (٥) هضبة .....
- (٦) بحر .....
- (٧) بحر .....
- (٨) بحر .....
- (٩) البحر .....
- (١٠) نهر .....
- (١١) نهر .....
- (١٢) نهر .....
- (١٣) المحيط .....
- (١٤) السهل .....
- (١٥) الجزر .....
- (١٦) جزيرة .....
- (١٧) إقليم مناخى .....

## الوأة الالءة

### المصطلءاء

السلالة البشرفة	مءوءة بشرفة الالءابها فى صفاءها الءسمة الءارءة
الءموءءراففة	علم ءراسة السءان من ءفاء نمو واءوزفع واءركفب السءان
الزفاءة الطفعفة	هو ناءء الفرق بفن معءلاء المواء ومعءلاء الوففاء .
الاءركفب العمرى	ءراسة عءء ونسبة كل مءوءة من سءان المنطقة ووفقا لففاء عمرفة
قوة العمل	عءء الأفراء فى سن العمل و القاءرفن على العمل و الءفن فعملون فعلفاف
الهجرة غيرالشرعة	الهجرة الاءى الاءم بوسائل غير قانوءفة

### بم الفسر

#### (١) نشاة السلالات فى العالم ؟

انلشار الانسان فى قارات العالم المءلفة اواخر عصر البلاءسءوسفن ومع اسءقراءه الاءر بها واءر ففها فظهراء اءءلافاء فى المظهر الءارءى

#### (٢) الءلف نسبة الءنس المءولى اكءر من ٤٠% من سءان العالم ؟

-لان سءان الصفن وءول شرق وءنوب شرق آسفا من السلالة المءولة

#### (٣) نءرة وءوء السلالات النقفة فى الوقت الءاضر بالءالم ؟

بسبب انصهار السلالات و اءءلاط صفاءهم الطفعفة فلا فوءء ما فعرف بالسلالة النقفة

#### (٤) الولاءفاء المءءة عبارة عن شعوب مءءلطة ؟ لائها الاءكون من اكءر من سلالة ( الزنوء - البفص - المءولة )

#### (٥) ءءلف السلالة فى شمال افرفقا عن ءنوبها ؟ لان فى الشمال سلالة قوقازفة و فى الءنوب زءفة

#### (٦) الاءء اصول سءان الءول العربفة ؟ الأءلفة من السلالة القوقازفة ولكن ءء مع الفءوحاء

والهجرةاء مع السلالات الأءرى

#### (٧) وءوء عءء كبفر من زنوء افرفقا فى الامرفكففن ؟ الاءرضهم للهجرةاء الاءبارفة ضمنن ءارة

العففء الاءى ءانء ساءءة فى الماضى وءلك للعمل فى مزارع القطن وقصب السكر

#### (٨) فاءركز نصف سءان العالم فى المءن الكبرف ؟

- وفرة فرص العمل \* وفرة الءءماء المءنوعة \* وفرة المناطق الصناعفة

#### (٩) اءركز السءان فى السهول الففصفة ؟ وفرة المفااء العءبة والءربة الءصبة

#### (١٠) اءركز السءان فى السهول الساحلفة ؟ اعءال المناخ والنشاط السفاى

#### (١١) اءركز السءان فى ءزفة ءاوة ؟ لائها من الءرزاءاء الاءربة الءصبة

#### (١٢) قلة اءركز السءان وسط اسفا ؟ لائها منطقة ءبلفة

#### (١٣) اءركز السءان ءول الفانسءفى والءانء ؟ لائها سهول ففصفة

١٤) تركز السكان فى كينيا واوغندا رغم وقوعهم فى المناطق المدارىة ؟

لاارتفاع السطح و لااعتدال المناخ

١٥) قلة تركز السكان فى حوض الكونغو وحوض الامزون ؟

- لوجود الغابات الكثىفة والبئة القاسىة وانتشار الامراض

١٦) يتركز السكان غرب اوروبا ؟

وجود السهول الفىضىة الخصبة والمدن الكبرى

١٧) يتركز السكان فى شرق اوروبا بشكل اقل من غربها ؟

لانها اقل تقدما

١٨) تركز السكان فى شمال شرق الولايات المتحدة ؟

وجود الموارد الاقصادىة الضخمة - وجود المدن الصناعىة الكبرى -

١٩) تركز السكان فى سهول المسىسىبى

لوجود السهول الفىضىة الخصبة

٢٠) تركز السكان شرق امريكا الجنوبىة وقلة التركز غربا

يتركز السكان شرقا حىث السهول الساحلىة والفىضىة والمدن الكبرى ويقل غربا لوجود جبال الاندىز

٢١) تركز السكان فى شرق وجنوب شرق استراليا ؟ وجود المدن الكبرى مثل سيدنى والمناطق الزراعىة

مثل مرى ودارلنج

٢٢) انخفاض الكثافة السكانىة شمال كندا وشمال اوروبا وشمال اسيا ( سىبريا ) ؟ بسبب

البودة الشدىدة

٢٣) انخفاض الكثافة السكانىة شمال استراليا ؟ بسبب الغابات المدارىة وحشائش السافانا

٢٤) قلة السكان فى وسط وغرب قارة استراليا وشبه الجزىرة العربىة ؟ سىادة الظروف

الصحراوىة

٢٥) يرتفع معدل الموالىد فى افرىقىا ؟

- انتشار الامىة والفقر

- الاعتماد على الزراعة البدائىة والرعى

- انتشار العادات والتقالىد الخاطئة مثل الحجاب عدد كبرى من الابناء والزواج المبكر للإناث

٢٦) ارتفاع الوفىات باوروبا ؟ لارتفاع نسبة كبار السن

٢٧) تقل الزىادة الطبىعىة فى الدول المتقدمة ؟ بسبب قلة معدلات الموالىد والوفىات

٢٨) ترتفع نسبة المتعلمىن فى مصر الى ٦٥ ٪ ؟

بسبب اهتمام الدولة بالتعلىم فى كل مراحله ٢- جهود الدولة فى مجال محو الامىة

٢٩) انخفاض نسبة التعلىم فى الدول النامىة ، انخفاض معدل تعلىم الاناث بسبب :-

- حرم بعض القرى فى العالم تعلىم المرأة حفاظا عليها .

- تفضىل الزواج المبكر للإناث .

٣٠) بىلغ معدل الزىادة الطبىعىة فى اوروبا صفرا ؟ بسبب ان معدلات الموالىد والوفىات متساوىة

٣١) - ينخفض عدد الوفىات فى مصر ؟ - بسبب الرعاىة الصحىة والاهتمام بصحة الاطفال

- (٣٢) ترتفع نسبة كبار السن فى الدول المتقدمة وانخفاضها فى الدول النامفة ؟ بسبب التقدم والاهتمام بتوففر الخدمات الصحية والتعليمفة
- (٣٣) فعد عدد الاطباء مؤشرا على تقدم الرعاية الطبفة ؟ لانه كلما زاد عدد الاطباء بالنسبة للسكان دل ذلك على تقدم الرعاية الطبفة
- (٣٤) ارتباط مستوى الدخل ومستوى المعشفة بالنشاط الاقتصادى ؟ لان الدول النامفة تعتمد على النشاط الزراعى فبنا الدول المتقدمة تعتمد على التصنيع والتنمية الاقتصادية
- (٣٥) معظم دول افريقيا ذات دخل اقتصادى منخفض ؟ لانها تعتمد على الزراعة
- (٣٦) اختلاف الخصائص الاقتصادية لسكان العالم ؟
- حسب ١ - تنوع الانشطة الاقتصادية ودخل السكان

## ما النتائج المترتبة على

١. فزافة السكان فى معظم دول اسفا ؟
  - نقص الغذاء
  - قلة نصفب الفرد من الدخل القومى
  - انخفاض مستوى المعشفة
٢. ارتفاع صغار السن فى الدول النامفة انخفاضها فى الدول المتقدمة ؟
  - ٤- كثرة الهجرات غير شرعفة الى الدول المتقدمة
٣. تتحمل الدولة اموال ضخمة لتوففر الغذاء والملبس والخدمات الاخرى
٣. تقدم الخدمات الصحية فى الدول المتقدمة ؟ ارتفاع نسبة كبار السن
٤. تساوى معدل الموالفد مع معدل الوففا باوروبا ؟ اصبحت الزفافة الطبففة صفر
٥. ففافة الظروف الصحراوفة غرب اسفرالفا ؟ قلة تركف السكان
٦. ارتفاع نسبة الفئات خارج قوة العمل فى المجتمع المصرى ؟ تاخر تقدم مصر
٧. ارتفاع معدل الموالفد وانخفاض معدل الوففا فى الدول ؟ ارتفاع معدل الزفافة الطبففة
٨. ارتفاع معدل الوففا وانخفاض معدل الوففا فى الدول ؟ انخفاض معدل الزفافة الطبففة
٩. ارتفاع السطح فى كفنا واوغندا - ؟ فزافة الكثافة السكانية بهما
١٠. نمو الغابات الموسمفة فى شمال اسفرالفا ؟ قلة تركف السكان

## السلالات

الصفراء ( المفوففة )	الصفراء ( المفوففة )	السوداء ( الزنجفة )	
البشرة الففضاء الوردفة أو البفنة الناعمة	البشرة الصفراء و العفون المنحرفة و الشعر الأسود المسترسل	البشرة الداكنة والشعر الاجعد والشفاه الغلفظة والأنف عرفض	صفافها
الشعر المتموج والشفاه الرفففة			
حوالى نصف سكان العالم ( ٥٠ ٪ )	٤٠ ٪ من سكان العالم	١٠ ٪ من سكان العالم ٧٠ ٪ من سكان افرففا فتركف فى افرففا ٧٥ ٪	نسبفها

## الاولائل في الدراسات الاجتماعية للصف الثالث الاعدادي

اقسامها	من زواج العالم	
الزواج السودانيون - البانتو - النيليون الحاميون - الأقزام - البوشمن و الهوتنتوت الاستراليون الأصليون -	الاسكيمو : في شمال كندا والاسكا الهنود الحمر : في الأمريكتين جماعة التنجوس : في سيبيريا	سلالة البحر المتوسط : ينتمي إليها العرب - البربر في شمال أفريقيا - معظم جنوب أوروبا في ايطاليا و اسبانيا السلالة الالبية : في غرب ووسط أوروبا المجموعة النوردية الشمالية : معظم سكان الدول الاسكندنافية في شمال أوروبا

## العاملين بالزراعة

٨٠٪	كينيا ومدغشقر وأثيوبيا
٦٠ - ٨٠٪	في السودان والكونغو بأفريقيا والهند والصين وتايلاند في آسيا
٣٠ - ٦٠٪	في مصر والمغرب بأفريقيا وتركيا وإيران وإندونيسيا في آسيا
اقل من ١٠٪	في غرب أوروبا وأمريكا الشمالية وأستراليا

## نسبة المتعلمين

٩٥٪	في الدول المتقدمة مثل امريكا الشمالية وأوروبا وأستراليا واليابان وروسيا
٧٥٪	دول امريكا الجنوبية ودول جنوب افريقيا والصين
٤٠ - ٦٠٪	افريقيا والهند وباكستان وبنجلادش في اسيا

## الدخل

دول ذات دخل اقتصادي مرتفع	دول ذات دخل متوسط	دول ذات دخل منخفض	دول ذات دخل اقتصادي مرتفع
يعيشون في المدن ويعتمدون على الصناعة والخدمات	تعتمد على حرفة التصنيع النامي البسيط وتعدد الأنشطة	تعتمد على حرفة التصنيع والتنمية الاقتصادية .	يعتمدون على حرفة الزراعة ويعيشون في الريف
دول غرب أوروبا وأمريكا الشمالية : دول الخليج العربي :	مثل تركيا - دول شرق أوروبا - المكسيك - الأرجنتين جنوب أفريقيا	الدول : ( الصين - في آسيا ) ، ( مصر والمغرب في أفريقيا ) ، ( البرازيل في أمريكا الجنوبية ) ( أوكرانيا في أوروبا ) .	مثل ( السودان - الكونغو في أفريقيا وباكستان في آسيا )

## التدريبات

### أكمل العبارات الآتية

١. بدأ انتشار الانسان على الارض فى اواخر عصر .....
٢. يتميز الزواج بالبشرة ..... والأنف ..... والشعر .....
٣. مجموعة بشرية تتشابه فى صفاتها الجسمية .....

#### الاولائل فى الدراسات الاجتماعية للصف الثالث الاعدادى

٤. تشغل السلالة ..... ١٠ % من سكان العالم
٥. يتركز فى افريقيا ..... % من زنوج العالم
٦. يتركز ٧٠ % من زنوج العالم فى قارة .....
٧. البوشمن ينتموا الى السلالة .....
٨. يتميز السلالة الصفراء بالبشرة ..... والعيون ..... والشعر .....
٩. تبلغ نسبة السلالة المغولية.....
١٠. يعيش الاسكيمو فى شمال ..... و ..... والتنجوس فى ..... والهنود  
الاحمر فى .....
١١. تتميز السلالة القوقازية بالبشرة ..... والشفاه ..... والشعر .....
١٢. السلالة ..... نصف سكان العالم ومن اقسامها المجموعة ..... فى غرب  
ووسط اوربا وتوجد المجموعة ..... شمال اوربا
١٣. ينتمى العرب فى شمال افريقيا الى قسم ..... من السلالة القوقازية .
١٤. اكبر القارات فى عدد السكان ..... ويليهما .....
١٥. يتركز السكان فى السهول ..... و.....
١٦. تعد دولتا ..... و ..... اكبر دول العالم سكانا
١٧. من الجزر المزدحمة بالسكان فى اسيا جزيرة ..... و..... و.....
١٨. تقع سهول نهر اليانجستى ب ..... والجانب ب .....
١٩. من المناطق قليلة السكان فى اسيا المناطق الشمالية فى ..... والمناطق  
الصحراوية مثل ..... والجبلية مثل .....
٢٠. يتركز سكان افريقيا فى السهول الفيضية الخصبة مثل سهول ..... فى مصر  
والسودان والمناطق الساحلية مثل .....
٢١. من مناطق تركيز السكان فى المناطق المرتفعة المدارية فى افريقيا ..... و.....
٢٢. يقل السكان فى الانطاقات الصحراوية الفقيرة بالصحراء الكبرى وصحراء .....
٢٣. يقل السكان فى افريقيا فى بعض المناطق الجبلية الوعرة مثل جبال .....
٢٤. يتركز السكان فى اوربا فى السهول الزراعية الخصبة مثل السهل .....
٢٥. يقل سكان سكان اوربا فى الشمال لشدة البرودة كما فى ..... و..... وفى  
المناطق الجبلية الوعرة مثل جبال .....
٢٦. فى امريكا الشمالية يتركز السكان حول سهول نهر .....
٢٧. يتركز السكان فى امريكا الشمالية فى الساحل ..... وولايات .....
- والبحيرات .....
٢٨. يتركز سكان كندا فى المدن الكبرى مثل .....
٢٩. يتركز بها سكان المكسيك فى .....



## الاولئل فى الدراسات الالءماعفة للصف الالء الاعداءى

٣٠. فوفء بءولة ..... ٥٧ ٪ من سكان امرفكا الشمالفة
٣١. فوفء بءولة ..... ٢١ ٪ من سكان امرفكا الشمالفة
٣٢. من مءن الشمال الشرقى بامرفكا الشمالفة مءفنة .....
٣٣. فقل السكان فى ءول البرزخ بأمرفكا الشمالفة مئل ءولتا ..... و .....
٣٤. اكبر ءول امرفكا الجنوبفة سكانا هف .....
٣٥. فقل سكان امرفكا الجنوبفة فى سهول ..... الاستوائفة وعلف قمم ءبال ..... وفف هضبة ..... فى الجنوب .
٣٦. من ءول امرفكا الجنوبفة اللف فقل سكانها عن ملفون نسمة ..... و .....
٣٧. ففتركز سكان امرفكا الجنوبفة فى سهول ..... فى فنزوفلا و سهول ..... فى الارءنفلن وفف هضبة ..... فى الوسل .
٣٨. ففتركز السكان فى اسلرالفا ءفء الارض الءصبة فى سهول نهرى ..... و .....
٣٩. فقل السكان فى اسلرالفا الءاؤل والغرب لفساءة الظروف .....
٤٠. فقل السكان فى اسلرالفا الشمال لوفوء ءشائش ..... والغاباء .....
٤١. معدل الموالفء فى العالم ..... فى الالف
٤٢. اكبر القاراء فى الموالفء هف ..... واقل القاراء موالفء .....
٤٣. ففلساوى قارلى اسفا و ..... قف معدل الموالفء
٤٤. ففلساوى قارلى امرفكا الشمالفة و ..... قف معدل الموالفء
٤٥. معدل الوفلاء فى العالم ..... فى الالف
٤٦. اكبر القاراء فى الوفلاء ..... وفلفها .....
٤٧. اقل القاراء فى الوفلاء هف .....
٤٨. ففلساوى قاراء ..... و ..... و ..... فى معدل الوفلاء
٤٩. الزفاءة الطبلعفة فى قارة ..... فساوى صفر
٥٠. فمئل فئة ..... الءفن فقل اعمارهم عن ١٥ سنة
٥١. فلرلفع نسبة فئة صغار السن فى الءول النامفة الى ..... ٪
٥٢. فبلع نسبة فئة صغار السن فى مصر الى ..... ٪
٥٣. اعلف نسبة للسكان البالففن فوفء فى قارة ..... واقل نسبة فوفء فى قارة .....
٥٤. فسل نسبة كبار السن فى الءول الملقمة الى ..... ٪ والءول النامفة ..... ٪
٥٥. فسل نسبة الملعلمفن فى اوروبا الى ..... ٪ ففما فسل فى مصر ..... ٪
٥٦. فسل نسبة الملعلمفن فى امرفكا الجنوبفة وءنوب افرفقا والصفن الى ..... ٪
٥٧. فسل نسبة الملعلمفن فى الهند وباكسلان الى ..... ٪
٥٨. فعدء عءء ..... مؤشر على الاهلمام بالرعاة الصءفة
٥٩. اهم القاراء اللف فوفء بها رعاة طبلعة فائقة ..... و .....

## الاولائل فى الدراسات الاجتماعية للصف الثالث الاعدادى

٦٠. اهم الدول العربية التي يوجد بها رعاية طبية فائقة ومرتفعة .....و.....و.....
٦١. اهم الدول الافريقية ذات الرعاية الطبية المنخفضة .....و..... وفى اسيا .....
٦٢. يوجد اعلى نصيب من الفرد من الدخل فى العالم فى قارة .....واقلمها فى قارة ....
٦٣. من دول امريكا ش دخلها فوق المتوسط .....
٦٤. من دول اوربا ذات المستوى الاقتصادي الاقل من المتوسط .....
٦٥. من دول امريكا الجنوبية ذات مستوى اقتصادي اقل من المتوسط.....
٦٦. من دول افريقيا ذات المستوى الاقتصادي اقل من المتوسط مصر و.....
٦٧. من دول اسيا ذات الاقتصاد الزراعي المنخفض الهند و.....و.....
٦٨. اكبر نسبة من السكان تعمل بالزراعة توجد فى قارتي .....و.....
٦٩. اقل نسبة من السكان تعمل بالزراعة توجد فى قارات اوربا و.....و.....

## بم تفسر ؟....

١. لا توجد دولة واحدة يتكون شعبها من سلالة واحدة
٢. نشأة السلالات البشرية
٣. الولايات المتحدة الامريكية لا يتكون شعبها من سلالة واحدة ؟
٤. تعرض عدد كبير من الزوجات للهجرات الاجبارية الى الامريكيتين ؟
٥. تبلغ نسبة الجنس المغولى اكثر من ٤٠% من سكان العالم
٦. ندرة وجود السلالات النقية فى الوقت الحاضر بالعالم
٧. العرب ليسوا من سلالة واحدة
٨. تختلف السلالة فى شمال افريقيا عن جنوبها
٩. يختلف توزيع السكان من قارة لآخرى
١٠. يقل عدد السكان فى سيبيريا والاسكا
١١. تركيز السكان فى مونتريال بكندا
١٢. يعيش اكثر من نصف سكان العالم فى المدن الكبرى
١٣. ندرة السكان فى شبه الجزيرة العربية
١٤. منطقة البحيرات العظمى من مناطق التركيز السكانى
١٥. يتركز السكان فى بعض الدول الافريقية مثل اوغندا وكينيا
١٦. ندرة السكان فى غرب قارة امريكا الجنوبية واقصى جنوبها
١٧. تركيز السكان فى الساحل الشمالى الشرقى للولايات المتحدة
١٨. تركيز السكان بالمناطق المدارية المرتفعة فى افريقيا ؟
١٩. قلة السكان فى المناطق الغابات الاستوائية فى افريقيا وامريكا الجنوبية ؟
٢٠. تركيز السكان على الساحل الشمالى الشرقى للولايات المتحدة ؟
٢١. منطقة البحيرات العظمى من مناطق تركيز السكان فى الولايات المتحدة ؟

## الاولائل فى الدراسات الاجتماعية للصف الثالث الاعدادى

٢٢. تركز سكان استراليا على سواحلها الشرقية ؟
٢٣. قلة السكان فى الجهات الداخلية والغربية من استراليا ؟
٢٤. تركز السكان بدرجة اقل فى شرق اوربا عن غربها ؟
٢٥. يتركز سكان العالم على السهول الساحلية الخصبة
٢٦. قلة عدد السكان فى المناطق الشمالية لاوروبا (فنلندا والنرويج)
٢٧. تركز السكان فى الوادى الأوسط بولاية كاليفورنيا بالولايات المتحدة
٢٨. زيادة عدد السكان فى مدينة مكسيكو بالمكسيك
٢٩. يقل السكان فى شمال استراليا
٣٠. قلة عدد السكان فى شمال كندا
٣١. ارتفاع معدلات المواليد فى افريقيا
٣٢. امريكا الشمالية اقل قارات العالم فى معدلات الوفيات
٣٣. ارتفاع نسبة المتعلمين فى مصر الى ٦٥ %
٣٤. ارتفاع نسبة كبار السن فى اوربا
٣٥. تتركز الدول ذات الدخل المنخفض فى افريقيا
٣٦. انخفاض معدلات وفيات الاطفال فى مصر
٣٧. وصول معدلات الزيادة الطبيعية فى اوربا الى الصفر
٣٨. فئة صغار السن تعتبر عبئا على البالغين
٣٩. ارتفاع نسبة فئة كبار السن فى الدول المتقدمة
٤٠. تؤثر العادات والتقاليد على معدلات التعليم فى العالم

## صوب ما تحته خط

١. يبلغ نسبة الزونج حوالى ربع سكان العالم
٢. من أقسام السلالة الزنحية الهنود الحمر
٣. السلالة القوقازية اكثر السلالات انتشارا
٤. تنتمى جمعات التنجوس فى سبيريا الى السلالة القوقازية
٥. الهنود الحمر هم السكان الاصليون للولايات المتحدة
٦. ينتمى العرب الى السلالة المغولية الصفراء
٧. يلعب مستوى السكان والتغذية دورا مؤثرا فى معدل المواليد
٨. تعرضت السلالة القوقازية للهجرات الاجبارية
٩. البشرة الصفراء من سمات السلالة الزنجية
١٠. اوربا اكثر القارات سكانا
١١. يقل سكان اوربا فى الجنوب
١٢. نيبال من دول الرعاية الطبية المرتفعة

١٣. الزيادة الطبيعية فى إفريقيا صفر

١٤. يتركز السكان فى نهر النيل بآسيا

١٥. يتركز السكان حوال نهرى جوبا وشبلى فى استراليا

١٦. مصر من دول الرعاية الطبية المنخفضة

## اذكر السلالة التى يتبعها هذه الاقسام

البانتو		النيليون الحاميون	
الاسكيمو		الالبية	
التنجوس		الاقزام	
البحر المتوسط		الهنود الحمر	
النوردية الشمالية		البوشمن	

## اذكر مدى تركز السكان فى هذه المنطقة ولماذا

غرب اوروبا		مونتريال	
شمال اسيا		دول البرزخ	
شمال استراليا		كينيا واوغندا	
البحيرات العظمى		هضبة البرازيل	
شمال كندا		جنوب شرق استراليا	

## ما العلاقة بين

- ١- التضاريس وتوزيع السكان
- ٢- النشاط الاقتصادى وتقدم الدول
- ٣- المناخ وتوزيع السكان
- ٤- عدد الاطباء والرعاية الصحية
- ٥- الزنوج والامريكتين
- ٦- تقص الغذاء وزيادة السكان

## اختر الاجابة الصحيحة مما بين القوسين

١. الشعر الاجعد من خصائص السلالة ..... ( القوقازية - الزنجية - المغولية )
٢. انتقل كثير من الزنوج الى ..... ( اسيا - استراليا - الامريكتين )
٣. ينتمى سكان شمال افريقيا الى السلالة ... ( البحر المتوسط - الالبين - الامريكتين )
٤. العيون المنحرفة الضيقة من سمات السلالة .... ( النوردية - المغولية - الزنجية )
٥. يشكل الزنوج ..... من سكان العالم ( ١٠ % - ٤٠ % - ٥٠ % )
٦. يشكل زنوج افريقيا من عدد الزنوج فى العالم نحو ( ٧٠% / ٧٣% / ٧٤% / ٧٥% )
٧. اصغر قارات العالم سكانا هى ..... ( اوربا - استراليا - افريقيا )

٨. ففركز السكان فى سهول نهر المسفسبى بقارة... ( اوروبا - اسفا - امرفكا الشمالفة )
٩. من السهول الففضفة الءصبة ذات الفركز السكانى فى افرفقا سهول نهر ... ( المسفسبى - النفر - الءانء )
١٠. من المناطء قللفة السكان فى اوربا ..... ( الغرب - الوسط - الشمال )
١١. اكبر دول امرفكا الءنوبفة سكانا هف .... ( الارجنففن - البرازفل - فنزوفا )
١٢. ففركز سكان اسفرففا على السواحل ..... ( الشرففة - الشمالفة - الغربفة )
١٣. قارة ..... اعلى قارات العالم فى معدل الموالفء ( اسفا - افرفقا - امرفكا ش )
١٤. فععمء الدول النامفة على .... ( الصناعة - الزراعة - الفعفن )
١٥. اعلى قارات العالم فى معدل الوفااء ..... ( افرفقا - اسفا - اسفرففا )
١٦. معدل نمو السكان فاف فى قارة ..... ( اسفا - اسفرففا - اوربا )
١٧. فزءاء نسبة السكان صغار السن فى دولة ..... ( السوفء - البرازفل - فرنسا )
١٨. فزءاء نسبة السكان البالغفن فى دول .... ( شرق اسفا - غرب اوربا - ءنوب افرفقا )
١٩. فاصل نسبة الففعلمفن فى الدول المففءمة لأكفر من ( ٣٠ % - ٧٠ % - ٩٥ % )
٢٠. اعلى نصفب للءفل فى العالم فوفء فى قارة .. ( اسفرففا - اوربا - امرفكا الشمالفة )
٢١. ففركز سكان الدول المففءمة فى ..... ( المءن - الرفف - المناطء الرعوفة )
٢٢. فععمء الدول ذات الءفل المرففع على حرفة ..... ( الزراعة - الصناعة - الفعفن )
٢٣. وصلت معدلاء الوفااء فى مصر الف ففو ( ٥ / ٦ / ٧ / ٨ ) فى الالف
٢٤. فاصل نسبة الففعلمفن فى مصر الف ففو ( ٥٥ / ٦٠ / ٦٥ / ٧٠ ) %
٢٥. من الدول العربفة ذات الرعافة الطبفة المرففعة ( الفمن / الصومال / الاردن )
٢٦. ففلء معدل الموالفء فى الدول المففءمة ( ١٠ / ١١ / ١٢ / ١٣ ) فى الالف
٢٧. اعلى قارات العالم فى معدلاء الموالفء ( اسفرففا / اوربا / اسفا / افرفقا )

## الكف ما فشفر الفة كل عبارة من العبارات الاءفة:

١. هف مءموعة بشرفة ففشابه فى صفافها الءسففة
٢. سلالة فبلء نسبفهم ففو ٤٠% من سكان العالم
٣. سلالة فنفمف إلفها العرب ومعمظ ءنوب أوروبا
٤. ففمفز بالبشرة الءاكفه والائف العربفة والشعر الاءء والشفاء الغلفة
٥. علم ءراسة السكان
٦. الفرق بفن معدلاء الموالفء والوففاء
٧. سلالة فوفء فى غرب ووسط أوروبا.
٨. ءراسة عءء ونسبة السكان فى كل منطقة وففا لففاء عمرفة مءءءه
٩. عءء الأفراء فى سن العمل و القاءرفن على العمل و الءفن فعملون فعلفاً
١٠. سلالة فضم معمظ سكان الدول الاسكنفناففة فى شمال أوروبا

## الاولائل فى الدراسات الاجتماعية للصف الثالث الاعدادى

١١. من مدن الساحل الشرقى الاسترالى
١٢. من المدن الرئيسىة التى تركز بها سكان المكسيك
١٣. اكثر مناطق العالم ازدهاما بالسكان
١٤. اكبر دول امريكا الجنوبية سكانا
١٥. دولة يتركز سكانها فى سهول الاورينوكو فى امريكا الجنوبية
١٦. دولة فى امريكا الجنوبية يتركز كثير من سكانها فى سهول البمباس
١٧. من العوامل المؤثرة على معدل الوفيات فى العالم
١٨. الفارق بين معدلات معدل المواليد و معدل الوفيات
١٩. القارة صاحبة أعلى نصيب للفرد من الدخل فى العالم
٢٠. القارة صاحبة اقل نصيب للفرد من الدخل فى العالم
٢١. القارة صاحبة أعلى معدل مواليد فى العالم
٢٢. القارة صاحبة أعلى معدل وفيات فى العالم
٢٣. أقل قارة فى نصيب الفرد من الدخل هى قارة
٢٤. الدول التى تعتمد على النشاط الزراعى
٢٥. الدول التى تعتمد على النشاط الصناعى
٢٦. السلالة التى تشمل نصف سكان العالم
٢٧. السلالة التى ينتمى العرب اليها

## ما النتائج المترتبة على

١. زيادة سكان اسيا
٢. التقدم الصناعى فى اوربا
٣. ارتفاع السطح فى اوغندا
٤. سيادة الظروف الصحراوية غرب استراليا
٥. انصهار السلالات واختلاط الصفات الطبيعية
٦. ارتفاع المواليد وانخفاض الوفيات بمصر
٧. تساوى المواليد مع الوفيات باوروبا
٨. ارتفاع نسبة صغار السن فى الدول النامية

## : ماذا يحدث اذا

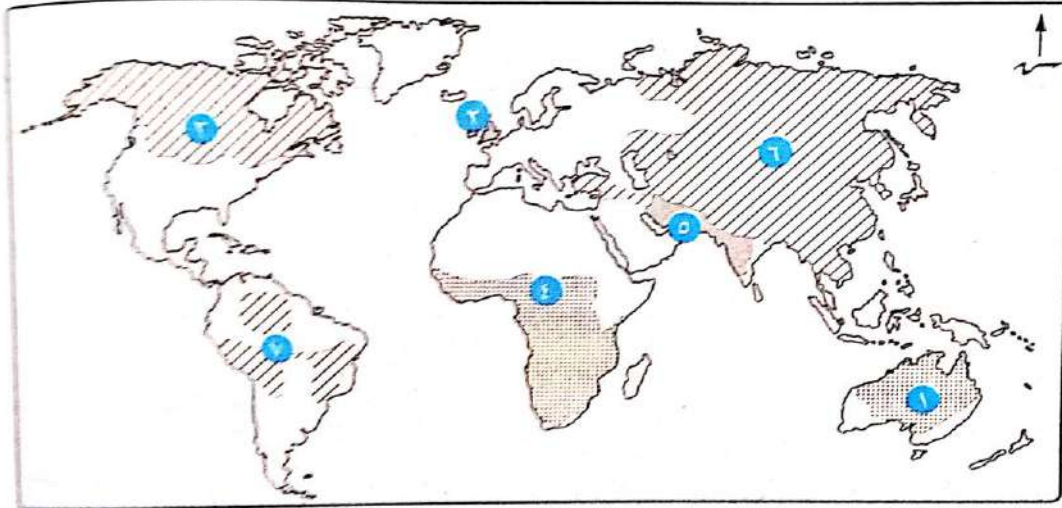
١. زاد اهتمام افريقيا بالصناعة
٢. ارتفاع عدد الاطباء فى نيبال واثيوبيا
٣. زادت نسبة السكان صغار السن فى دولة ما
٤. زاد اهتمام الدول النامية بالرعاية الصحية
٥. لم تنصهر السلالات



## دلل على صحة العبارات الالية

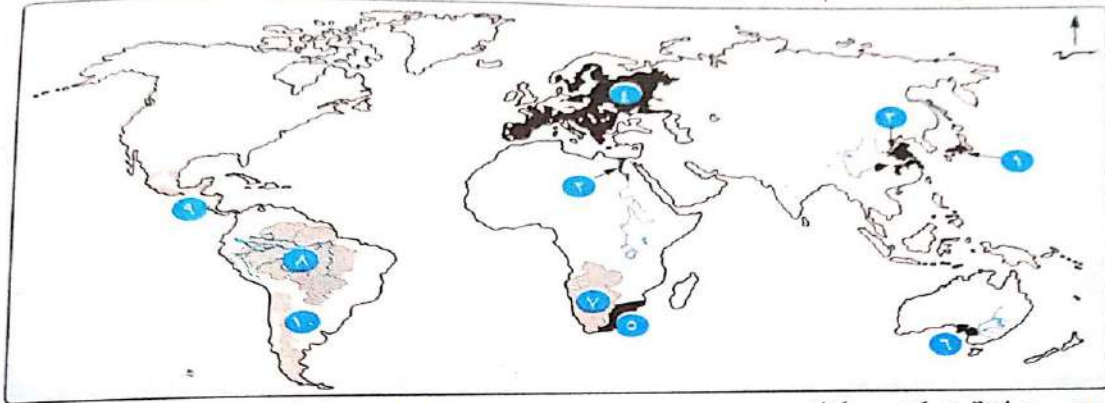
- ١- تندر السلالات النقية بالعلام فى الوقت الافر
- ٢- تتكون الولايات المتحدة من عدة سلالات ؟
- ٣- تقسيم السلالات على اساس ظاهرى
- ٤- يؤثر المناخ فى توزيع السكان فى افريقيا
- ٥- يؤثر التضاريس فى توزيع السكان فى افريقيا
- ٦- هناك عوامل تؤثر فى معدلات الوفيات بالعالم
- ٧- تؤثر بعض العادات والتقاليد فى تعليم الاناث
- ٨- يعد عدد الاطباء مؤشر على الرعاية الصحية

(١) أمامك خريطة للعالم، اكتب ما تدل عليه الأرقام التى عليها :



- |             |             |             |             |
|-------------|-------------|-------------|-------------|
| (١) السلالة | (٢) السلالة | (٣) السلالة | (٤) السلالة |
| (٥) السلالة | (٦) السلالة | (٧) السلالة |             |

(ب) أمامك خريطة للعالم، اكتب ما تشير إليه الأرقام التى عليها :



- |                                  |                                  |
|----------------------------------|----------------------------------|
| (١) منطقة تركب سكاني             | (٢) منطقة تركب سكاني             |
| (٣) منطقة سهلية يتركب بها السكان | (٤) منطقة سهلية يتركب بها السكان |
| (٥) منطقة يتركب بها السكان       | (٦) منطقة يتركب بها السكان       |
| (٧) منطقة يقل بها السكان         | (٨) منطقة يقل بها السكان         |
| (٩) منطقة يقل بها السكان         | (١٠) منطقة يقل بها السكان        |

## الفصل الثالث

### المصطلحات

حق الانتفاع	الارض ملكا للدولة يتم تكلف الفلاحف بزراعتها ولفس له حق التصرف ففها
مقاومة	رفض الشعب للاحتلال ومظاهره ودفاعه عن البلاد بمختلف الوسائل
جلاء	رحفل قوات الاحتلال عن البلد المحتل
الاحتكار	ان تقوم الحكومة ممثلة فى محمد على بتحدد نوع الغلات التى تزرع ونوع المصنوعات التى تنتج وتحدد اثمان شرائها من المنتجف واثمان بفعا فى السوق
فرمان	أمر سلطانى يصدره السلطان العثمانى واجب التنفيذ

### بم تفسر

#### ١. التدهور الاقصادى لدولة الممالفك اواخر القرن ١٥

١-اكتشاف البرتغالففن طرفق رأس الرجاء الصالح ١٤٩٨

٢-خطم الاسطول المملوكى فى دفو البحرية ١٥٠٩

#### ٢. التدهور السفاسى لدولة الممالفك اواخر القرن ١٥

• اضطراب الأمن \* التنافس المستمر بفن الممالفك \* كثرة الفتن والثورات الداخلية

#### ٣. اأأاه العثمانفون أحو مصر والشام

• تأمفن حدود الدولة العثمانفة من ناحية الممالفك -

• توسفم ممتلكات الدولة العثمانفة فى الشرق

• خطورة الصدام مع اوربوا لتفوقها حضارفا وعسكرفا

#### ٤. هزفمة الممالفك أمام العثمانففن

- التفوق العسكرى للجفش العثمانى

- اعتمدت العثمانففن على أسالفب القتال الحديثة والأسلحة المتطورة

- عدم الاستقرار الداألف والنزاع على السلطة فى الدولة المملوكفة

#### ٥. حمل نظام الحكم العثمانى فى ثنافاه عوامل ضعفه

١- قصر مدة حكم الوالى ٢- فزادة سلطة الدفوان والحامفة العسكرية

٦. فشل حركة على بك الكبفر - لان محمد بك أبو الذهب أأاز للسلطان العثمانى

#### ٧. تدهور الزراعة فى مصر فى العصر العثمانى

١-حق الانتفاع ( الارض لفست ملكا للفلاح )

٢-نظام الالتزام ارهق الفلاح المصرى

٣-اهمال الحكام بتنظم الرى أو إقامة السدود وحفر الترع

#### ٨. تدهور الصناعة فى مصر فى العصر العثمانى

١- التدهور الزراعى ٢- ارسال السلطان سلفم الأول الصناع المهرة إلى عاصمة الدولة العثمانفة

#### ٩. تدهور التجارة الداألفة فى العصر العثمانى

## الاولائل فى الدراسات الاجتماعفة للصف الثالث الاعدادف

١- تدهور الزراعة والصناعة ٢- افتقاد الأمن ٣- الاغارات المتلاحقة لبدو الصحراء

### ١٠. تدهور التجارة الخارجية فى العصر العثمانف

١- الاكتشافات الجغرافية وخطفم الأسطول المصرف عام ١٥٠٩ م

٢- منح الدولة العثمانفة الامتيازات الأجنبية والجمركفة للدول الأوروبية

### ١١. اهتزاز مكانة الأزهر العلمفة فى العصر العثمانف - ففث اقتصر التعليم ففه على الفقه و

التشرفف ولم فعد هناك اهتمام بالعلوم العقلفة

### ١٢. مجفئ الحملة الفرنسفة الى مصر

• تعوفض فرنسا عن فقد مستعمراتها فى الشرق

• استغلال موارد مصر المادفة والبشرفة

• قطع الطرفق بفن الجلفرا ومستعمراتها فى الهند

### ١٣. اصطحاب نابلفون العلماء معه فى حملته على مصر

١- لدراسة أحوال مصر من فمفع النواحف ٢- كفففة استغلال موارد مصر

### ١٤. فشل القوات الفرنسفة فى اخضاع اهالف الصعفد

١- اتباع اهالف الصعفد حرب المناوشات والمعارك المتفرقة ٢- طول الوادف ( وادف النفل )

### ١٥. قفام المصرففن بثورة القاهرة الاولف

١- فرض نابلفون الضرائب الفادحة

٢- قفام الفرنسففن بتفتفش البفوت واقتحام الدكاكفن ففثا عن الاموال

٣- هدم ابواب الحارات والدروب لمطاردة عناصر المقاومة

٤- هدم المبانى والاثار والمساجد ففجة ففصفن القاهرة

### ١٦. الحملة الفرنسفة على الشام - رغبة نابلفون فى القضاء على الففش العثمانف قبل وصوله مصر

١٧. فشل نابلفون فى فتح عكا ؟ استفسال جنودها بقفادة الجزار + مساعدة الاسطول الانفلزف لهم

١٨. عودة نابلفون الى فرنسا - المتاعب التى تواجهها فرنسا بعد قفام حرب فخالفت ففها اورفا ضد فرنسا

### ١٩. رافف كلفبر استحالفة بقاء الحملة فى مصر

١- تناقص اعداد الففش الفرنسف

٢- ارسلت الدولة العثمانفة حملتفن من العرفش ودمفاط

٣- عودة الممالفك للمقاومة مرة اخرى ٤- ففدد ثورات المصرففن

٢٠. فشل اتفاففة العرفش رفضت الحكومة البرفطائففة الاتفافق ، وطلبت استسلام الففش الفرنسف

### ٢١. لم تكن الحملة الفرنسفة على مصر مجرد حملة للغزو والاحتلال

١- ففث اصطحب نابلفون بونابرت مع الحملة مجموعة كبرى من العلماء فى مختلف المجالات

### ٢٢. استفادة مصر من اعمال علماء الحملة الفرنسفة

١- محاولة شق قناة تربط بفن البحرفن الاحمر والمتوسط ٢- تألف كتاب وصف مصر ٣- العثور

على حجر رشفد

### ٢٣. اهتمام نابلفون بأنشاء دواوفن الحكم

١- تدريب الاعفان والعلماء المصرففن على نظام مجالس الشورى من ففث الاستشارة وتلقى الاراء ففما

فعود بالنفع على الاهالف

### ٢٤. ففعتبر فوم ١٣ مافو ١٨٠٥ فوماً مهماً فى تاريخ مصر

اعداد الاستاذ / أشرف شفلافف

## الاولائل فى الدراسات الاجتماعىة للصف الثالث الاعدادى

- لان فى هذا اليوم اجتمع زعماء الشعب بدارالحكمة وقرروا عزل الوالى العثمانى (خورشيد باشا ) وتعيين محمد على بدلا منه لأول مرة يختار الشعب حاكمه
٢٥. ارسال بريطانيا حملة فريزر فى مارس ١٨٠٧ - احتلال مصر ٢- خلع محمد على ٣- تثبيت محمد بك الالفى
٢٦. فشل حملة فريزر
- ١- مقاومة الشعب المصرى فى رشيد والحماة ٢- حصار محمد على مدينة الاسكندرية
٢٧. تطبيق محمد على نظام الاحتكار
- ليضمن الدخول فى سوق التجارة الدولية منافسا لغيره من الدول
٢٨. ازدهار التجارة فى عهد محمد على
- ازدهار الزراعة والصناعة والاستقرار الداخلى
٢٩. اهتمام محمد على بالتعليم
- لحاجته إلى : ١- موظفين لسد حاجة المصالح الحكومية
- ٢- فنيون ومتخصصون لسد حاجة الجيش والأسطول
٣٠. أنشأ محمد على مدرسة حربية فى أسوان لاعداد الضباط
٣١. التنظيمات الادارية فى عهد محمد على
- ١- تدهور الإدارة المصرية ٢- ليفرض سيطرته الكاملة على شئون البلاد
٣٢. ارتفاع مكانة مصر الدولية بعد حرب اليونان لان الدول الأوروبية تفاوضت مع محمد على مباشرة لإنهاء الحرب
٣٣. تدخل الدول الاوربية فى الصراع بين محمد على والسلطان ( عقد معاهدة لندن ١٨٤٠ )
- ١- انتصارات محمد على وتهديده للسلطان العثمانى
- ٢- خوفا من ازدياد نفوذ محمد على وقوته وما تمثله من خطر على التوازن الدولى
٣٤. انشا محمد على المطابع الاميرية ببولاق ؟
- لطبوع كتب المدارس والكتب الادبية والفنية واصدار صحيفة الوقائع المصرية
٣٥. تدهور العلاقة بين محمد على والسلطان العثمانى بعد حروب اليونان ؟
- تفاوضت الدول الاوربية مباشرة دون الرجوع للسلطان العثمانى

## ما النتائج المترتبة على..؟

- ١- اكتشاف طريق راس الرجاء الصالح ؟
- تدهور احوال دولة المماليك الاقتصادية
- ٢- محاولة على بك الكبير الاستقلال بمصر
- استطاع التخلص من منافسيه وأعلن نفسه حاكما على مصر - تلقب بسلطان مصر - أخضع بلاد الحجاز لنفوذه - خالف مع الشيخ ظاهر العمر حاكم جنوب الشام- أرسل نائبه محمد أبو الذهب لغزو الشام واستطاع دخول دمشق
- ٣- فشل حركة على بك الكبير ؟ - عادت مصر ولاية عثمانية تحت حكم محمد بك أبو الذهب
- ٤- الغزو العثمانى لمصر
- ١- تحولت مصر إلى مجرد ولاية من ولايات الدولة العثمانية

## الاولائل في الدراسات الاجتماعية للصف الثالث الاعدادي

٢- انتقال خلافة العالم الاسلامى الدينية والسياسية إلى الدولة العثمانية

٣- أصبح سليم الأول حامي العالم الإسلامي والحرمين الشريفين

٤- سيطر العثمانيين على العالم العربي من الجاهين

٥- فشل معاهدة العريش ؟

هاجم كليبر القوات العثمانية بعد دخولها مصر وأعادها متقهقرة إلى الشام مرة أخرى

٦- تحالف الدولة العثمانية مع إنجلترا وروسيا للاشتراك لإخراج القوات الفرنسية من مصر ؟

• إعداد حملتين بحرية لغزو مصر من الشمال عن طريق جزيرة رودس وحملة برية لغزو مصر من

الشرق عن طريق الشام

٧- عثور الفرنسيين على حجر رشيد ؟ التعرف على تاريخ مصر القديم

٨- هزيمة المماليك في موقعة إمبابة على يد الفرنسيين ؟

فر مراد بك إلى الصعيد وإبراهيم بك والوالى العثماني إلى الشام - دخول نابليون القاهرة

٩- الحملة الفرنسية على مصر (الاحتلال الفرنسي لمصر ١٧٩٨-١٨٠١)

أولا : نمو الروح القومية :

ثانيا: وضع العديد من المشروعات مثل " توصيل البحرين - كتاب وصف مصر - كشف حجر رشيد"

ثالثا : توجيه أنظار الدول الأوروبية إلى أهمية موقع مصر الجغرافي

١٠- اجتماع العلماء وزعماء الشعب في ١٣ مايو ١٨٠٥ م بدار المحكمة ؟

قرر الزعماء عزل خورشيد والوالى العثماني وتعيين محمد على بدلا منه

١١- إنشاء محمد على المطبعة الأميرية في بولاق ؟

طبع الكتب اللازمة للمدارس - طبع الكتب الأدبية والفنية - إصدار صحيفة الوقائع المصرية

١٢- تجنيد المصريين بالجيش ؟

أثبتوا كفاءة في الانتظام في التدريب وإطاعة الأوامر العسكرية وميادين القتال الخارجية

١٣- مذبح القلعة في مارس ١٨١١م ؟خلص محمد على من المماليك

١٤- معارضة إنجلترا تولية محمد على حكم مصر ؟

ترتب على ذلك أن : أصدر السلطان العثماني بضغط من بريطانيا فرمانا تضمن نقل محمد على واليا

على سالونيك بمقدونيا وتسليم السلطة دون معارضة إلى والى عثمانى جاء مصر عام ١٨٠٦م

١٥- معاهدة لندن الدولية ١٨٤٠ م ؟

- إعادة بلاد الشام والجزيرة العربية إلى السلطان العثماني - تثبيت محمد على في حكم مصر

- إعلان خضوعه للسلطان العثماني

## الحروب الهامة

المعركة	النتائج
جالديران ١٥١٤	هزيمة الصفويين ودخول العاصمة تبريز
مرج دابق ١٥١٦	هزيمة المماليك وأصبحت الشام ولاية عثمانية
الريدانية ١٥١٧	هزيمة المماليك وأصبحت مصر ولاية عثمانية
شبراخيت يوليو ١٧٨٩م	هزيمة المماليك وتراجع مراد بك للقاهرة
إمبابة يوليو ١٧٨٩م	هزيمة المماليك ودخول نابليون القاهرة وفر مراد إلي

الصعيد وإبراهيم الي الشام	
أبو قير البحرية اغسطس ١٧٩٨	تحطيم الأسطول الفرنسي - القضاء على آمال فرنسا في السيطرة على سواحل البحر المتوسط - حرم الحملة في مصر من إمدادات فرنسا لها - شعر الجنود الفرنسيون أنهم محاصرون داخل مصر -توقف التجارة الخارجية لمصر
أبوفير البرية يوليو ١٧٩٩	هزيمة العثمانيين وعودة نابليون لفرنسا
الحروب الوهابية	سيطرة محمد علي على الجزيرة العربية
حروب السودان. ١٨٢٠م	١- امتداد النفوذ المصري إلى جنوب السودان ٢- إنشاء العاصمة الخرطوم ٣- اكتشاف منابع النيل
حرب المورة ١٨٢٢ : ١٨٢٨م	١. تحطيم الأسطول المصري في موقعة نفايرين ٢. ضم جزيرة كريت لولاية مصر ٣. علو مكانة مصر دوليا حيث تفاوضت الدول الأوروبية مع محمد علي مباشرة ٤. نمو فكرة الانفصال عن الدولة العثمانية
حرب الشام	١- وصول القوات المصرية علي الشام والفرات

## اهم الفرمانات

٩ يوليو ١٨٠٥	عزل خورشيد / تثبيت محمد علي في حكم مصر
يوليو ١٨٠٦	نقل محمد علي الى سالونيك
يونيه ١٨٤١	حق وراثه مصر لأكبر ابناء محمد علي سنا من الذكور
١٨٤١	حق ولاية محمد علي السودان

## التدريبات

### صوب ما تحته خط

١. انتهى الصدام بين الدولة الصفوية والعثمانية بهزيمة العثمانيين
٢. هزمت جيوش طومان باى فى موقعة مرج دابق
٣. تعد الحملة الفرنسية على مصر والشام جزءا من التنافس الاستعماري بين الدولة العثمانية وفرنسا
٤. دخل نابليون القاهرة بعد معركة الاسكندرية
٥. قضت موقعة أبى قير البرية على آمال فرنسا فى السيطرة على سواحل البحر الأحمر
٦. نجحت القوات الفرنسية فى أخضاع الصعيد لسيطرتهم
٧. وافقت الحكومة البريطانية على اتفاقية العريش بين كليبر والدولة العثمانية.



## الاولائل فى الدراسات الالءماعفة للصف الالء الاعداء

٨. وافق كلفر على اسءسلام الالء الفرنسى للقاء الالءللفة.
٩. كان مفر ىرى ضرورة الرلل عن مصر.
١٠. زاء نفوذ علماء الازهر والقلاءاء الشعبفة فى عهد محمد على.
١١. بدأ محمد على فى اعداد الالء بالاعءماء على المصرففن.
١٢. انشاء محمد على ءرسانة بءرفة فى أسوان لصناعة السفن.
١٣. هءفء ءروب الفونان القضاء على الءركة الوهافة.
١٤. ارءفعا مكانة مصر ءولفا بعء ءروب الشام.

## الكل العباراء الاءفة

١. اءجه سلفر الال مع بءاءة القرن ١٦ فى فءوحاءه نحو .....
٢. قامء الءولة الصفوفة فى ..... والمملوكفة فى .....
٣. اكءشف.....ءرفق رأس الرلاء الصالء عام ....
٤. عاصمة الءولة الصفوفة .....
٥. ءءء بفن العءمانفن والصفوففن موقعة .....
٦. ءاكء السلطان الفورى من نفة سلفر الال فى غزو مصر والشام بعء ان اسءولف على .....
٧. ءءء موقعة مرج ءابق عام ..... بفن الممالفك بقلاءة ..... والعءمانفن بقلاءة .....
٨. ءءء موقعة الرفءائفة عام ..... بفن الممالفك بقلاءة ..... والعءمانفن بقلاءة ..... عنء .....
٩. ءضعء مصر للءكم العءمانف قرابة ..... قرون
١٠. ءطلع ..... للاسءقلال بمصر عن الءولة العءمانفة مسءغلاً ضعفها فى اواءر القرن .....
١١. ءءالف على بك الكفر مع ..... ءاكم ءنوب الشام ضد .....
١٢. انءهء ءولة الممالفك فى مصر بعء هزفمءهم فى .....
١٣. سقلء عاصمة الءولة الصفوفة بعء هزفمة الصفوففن من العءمانفن فى معركة .....
١٤. أصبحت مصر ولافة عءمانفة عام ١٥١٧م عقب معركة .....
١٥. ءءطم الأسطول المملوكف فى موقعة .....
١٦. أصبح الءكم الفعلى لمصر عام ١٧٦٨ م فى ففء .....
١٧. ءشكلء طبقة الءكام من ..... و .....
١٨. كانت الارض فى العصر العءمانف ءزرع بـ .....
١٩. اهءرز مكانة ..... العلمفة واقتصر ءءلفر ففه على .....
٢٠. اصفب العالم العربف فى العصر ..... بالءءب العلمف
٢١. كان ..... نائب على بك الكفر لكنه ءانه وءءالف مع السلطان العءمانف
٢٢. ءم ءطبلق نظام الاءءزام منءصف القرن .....
٢٣. عاصمة الءولة العءمانفة كانت .....
٢٤. ءزعم ..... مقاومة أهالف الاسكنءرفة فى مقاومة الفرنسفن
٢٥. كانت ءورة القاهرة الءائفة بزعامة .....
٢٦. فرضء الوصافة الءولفة على مصر بمقتضى معاهءة .....
٢٧. الأرض ملكاً للءولة ممءلة فى السلطان فى العصر العءمانف وءزرع بءق .....
٢٨. أبءر نابلفون من مفناء ..... واصطءب مءموعة من ..... لءراسة أءوال مصر

## الاولئل فى الدراسات الالءماعفة للصف الالء الاعداءى

٢٩. تعد معركة ..... بءاءة النهاءة للءمة الفرنسة
٣٠. ءءل نابلفون القاءرة بعء معركة .....
٣١. اقام نالفون ..... بهءف ءءرفب الاءفان فى مصر على نظام الشورى
٣٢. أصطءب نابلفون مءموعة من ..... لءراسة أءوال مصر من ءمفع النواءى.
٣٣. فشلت القواء الفرنسة فى إءضاع ..... الءفن اءبعو ءرب .....
٣٤. كان.....مقر لقفاءة ءورة القاءرة الأولى وءنظفم ءركة الءهءاء ضء الإءءلال.
٣٥. ءءلت قواء الإءءلال الفرنسة ..... بءفولهم مما أءار الشعور الءفنى لءى المصرففن.
٣٦. ءءالفت الءولة العءءمانية مع ..... وللأشءراك معاً فى اءراء الفرنسفن بالقوة العسكرفة.
٣٧. أعدء الءولة العءءمانية ءمة بءرفة فى ءزفرة..... لءزو مصر من ..... وءمة.... لءزو مصر من الشرق
٣٨. ءولى .....قفاءة الءمة الفرنسة فى مصر بعء رءفل نابلفون لفرنسا.
٣٩. نءء ءنوء عكا بقفاءة.....فى اءصءى لقواء الإءءلال الفرنسة.
٤٠. رفصء .....اءفاقفة العرفش اءى عءءء بفن كلفبر و.....
٤١. قُءل كلفبر فى فونف ١٨٠٠م على فء .....أءء طلاء الأزهر.
٤٢. ءولى ..... أمر الءمة فى مصر فء مقل كلفبر .
٤٣. كان مفنو فنوى الإقاماة فى مصر وءءوفلها إلى .....
٤٤. ءاءرء الءمة الفرنسة مصر عام.....
٤٥. أنشأ نابلفون بونابرف ..... بهءف ءءرفب الاءفان والعلماء المصرففن على نظام الشورى
٤٦. اسءطاع مفنو أن فءء أسواقا لمصر فى ..... بالسوءان .
٤٧. كان هءف نابلفون من إنشاء الءوافن ءءرفب المصرففن على نظام مءالس .....
٤٨. كان ..... مراء ءورة القاءرة ٢
٤٩. ءاصر نابلفون ..... وأعءم ءامفءها ءءرا بعء ءأمفنفهم على أرواءهم
٥٠. وءهء الءمة الفرنسة انظار العالم لاهمفة موقع مصر ءاصة .....
٥١. اءءمع زعماء الشعب فى ..... لءولفة مءمء على ءكم مصر عام ..... م.
٥٢. أرسلء إنءلءرا ءمة لاءءلال مصر عام ١٨٠٧م بقفاءة .....
٥٣. قام الشعب المصرى بءورة ضء الءكم العءءمانى عام .....
٥٤. اراءء الءولة العءءمانية نقل مءمء على لولافة .....
٥٥. نظم مءمء على الاقاءء المصرى على أساس .....
٥٦. اءءلت ءمة فرفزرف مءفنة ..... وفشلت فى ءءول .....و.....
٥٧. ءلع مءمء على عمر مكرم من نقابة ..... ونفاء الى .....
٥٨. ءم إنشاء المءبعة الأمفرفة فى عهد .....
٥٩. ءضعء اءءارة فى عهد مءمء على لنظام .....
٦٠. أنشأ مءمء على أول مءرسة عسكرفة فى مءفنة .....
٦١. ءءلص مءمء على من الممالفك فى ..... ١٨١١
٦٢. نظم مءمء على الأقاءء المصرى على أساس .....
٦٣. ألفى مءمء على نظام ..... ووزع الأرض على .....
٦٤. إنشاء مءمء على العءفء من القناطر على النفل أهمها .....

## الاولائل فى الدراسات الاجتماعية للصف الثالث الاعدادى

٦٥. طهر محمد على البحر الأحمر من .....
٦٦. أثرت سياسة محمد على الاقتصادية فى تشكيل وبناء القوى ..... فى مصر.
٦٧. اهتم محمد على بـ..... لحاجته إلى موظفين لسد حاجة المصالح الحكومية.
٦٨. أنشأ محمد على المطبعة الأميرية فى ..... وأصدر صحيفة.....
٦٩. اهتم محمد على بتأسيس ترسانة فى..... و ..... لصناعة السفن الحربية والتجارية.
٧٠. أنشأ ترسانة فى..... لتصنيع الأسلحة والمدافع
٧١. أنشئت أول مدرسة عسكرية فى مدينة.....
٧٢. قسم محمد على مصر إلى ..... مديريات ويتبع كل مديرية عدد من .....
٧٣. أنشأ محمد على عدة ..... و..... لتعاونه فى تسيير دفة الأمور فى البلاد.
٧٤. انتهت الحروب الواهابية بسيطرة محمد على على .....
٧٥. أنشأ محمد على العاصمة ..... فى السودان.
٧٦. هدفت حروب محمد على فى اليونان إلى القضاء على .....
٧٧. تحطم الأسطول المصرى فى معركة..... عام ١٨٢٧م
٧٨. ارتفعة مكانة مصر دوليا بعد حروب.....
٧٩. من أشهر الضابط الاجانب من اورباالذين عملوا فى المدارس العسكرية المصرية .....
٨٠. من نتائج حروب اليونان ضم جزيرة ..... لولاية مصر وعلو مكانة مصر دوليا.
٨١. جرت حروب الشام بين عامي ..... و..... وامتد النفوذ المصري الى ..... وأعلى .....
٨٢. اضطر محمد علي بعد تدخل الدول الاوربية الى قبول معاهدة ..... عام ١٨٤٠م واعادة .....
٨٣. فى عام ١٨٤١م اصدر السلطان العثماني فرمان ..... لأكبر ابناء محمد علي المذكور سنا وفرمان اخر بولاية محمد علي ولاية .....

## اختر الاجابة الصحيحة مما بين القوسين

١. انتصر سليم الاول على الصفويين فى معركة ( ديو البحرية - الريدانية - جالديران )
٢. اتجه العثمانيون نحو الشرق العربى بداية القرن ( ١٦ - ١٧ - ١٨ )
٣. اخر سلاطين المماليك ( الغورى - طومان باى - بارسباى )
٤. اقتصر التعليم فى الازهر على العلوم ( العقلية - الرياضية - الفقه )
٥. تحالف على بك الكبير مع الشيخ زاهر العمر حاكم ( جنوب الشام - العراق - اليمن )
٦. من القوى الاجتماعية التى انتهت نفوذها فى عهد محمد على ( الاعيان - البدو - علماء الازهر )
٧. ظهر ... كقوة اجتماعية مستقرة بعد سياسة الاحتكار ( التجار - المماليك - البدو )
٨. قسم محمد على مصر الى ..... مديريات ( سبع - ثمان - تسع )
٩. اول حروب محمد على الخارجية كانت فى ( السودان - شبه الجزيرة العربية - اليونان )
١٠. اصبحت وراثة العرش لأكبر ابناء محمد على سنا طبقا لفرمان ( ١٨٠٩ - ١٨٣٧ - ١٨٤١ )

## الاولئل فى الدراسات الاجتماعفة للصف الثالث الاعدادف

١١. اختار الشعب المصرى محمد على والفا بعد عزل الوالى ( خورشفد - محمد الالفى - البرفدىسى )
١٢. انفرد محمد على بفكم مصر تماما بعد ..... ( فشل حملة فرزفر - نفى عمر مكرم - مذبحة القلعة )
١٣. ظهر محمد على امام الشعب المصرى كرجل عادل اثناء ( ثورة مارس ١٨٠٤ - حملة فرفرز - محاولة نقله )
١٤. قتل سلفرمان الفلبى القائف ( مفرنو - كلففر - نابلفون - بوشار )
١٥. تولف قفاة اهل الاسكندرفة ضد الفرنسففرن ( عمر مكرم - عبء الله الشرقاوى - محمد كرفم )
١٦. خرجت الحملة الفرنسفة من مفرنا ..... بففرنسا ( مالطة - كرفف - طولون )
١٧. ضاع امل فرنسا فى بسط السفرطرة على البحر المتوسط بعد ..... ( رحفل نابلفون - فشل اقترحاف عكا - معركة ابو قفر البحرفة )
١٨. كان مقر ثورة القاهرة الاولف ..... ( حى بولاق - الجامع الازهر - امبابة )
١٩. ارتكب الفرنسففرن جرفمة بشعة فى ..... ( عكا - غزة - فافا )
٢٠. غااء نابلفون مصر بعد معركة ( ابو قفر البحرفة - شبراخفف - ابو قفر البرفة )
٢١. اشتاء ثورة القاهرة الثانية خاصة فى حى ..... ( بولاق - الازهر - شبرا )
٢٢. تفاوض ..... مع العثماففرن للجلاء عن مصر ( كلففر - مفرنو - نابلفون )
٢٣. وضع ..... المشروع العظفرم للاصلاح الاقاصاءى ( نابلفون - كلففر - مفرنو )
٢٤. خرجت الحملة الفرنسفة من مصر عام ( ١٨٠٠ - ١٨٠١ - ١٨٠٢ )
٢٥. تحطم الاسطول المملوكف عام ١٥٠٩ فى معركة ..... ( الرفءائفة - مرجء اابق - رفو البحرفة )
٢٦. بءا نابلفون فرض الضرائب على المصرفرن بعد ..... ( ثورة القاهرة الاولف - معركة ابف قفر البحرفة - معركة امبابة )
٢٧. اابع اهالف ..... حرب المناوشاء ( الاسكندرفة - الصعفء - القاهرة )
٢٨. انشا محمد على مدرسة عسكرفة فى ..... ( اسوان - القاهرة - ءمفاط )
٢٩. قام ..... بوضع خطة اصلاففة فى مآلفل المآلااء ( مفرنو - كلففر - نابلفون )
٣٠. حاول السلطان العثمافى نقل محمد على الى سالونفك بافعاز من ..... ( برفطافنا - فرنسا - روسيا )

## بم تفسر ؟...

١. التءهور الاقاصاءى لءولة الممالفك ؟
٢. ضعف القوة العسكرفة للممالفك ؟
٣. اهتزاء مكانة الازهر العلمفة

٤. التدهور الزراعى فى عصر الدولة العثمانية
٥. انتصار العثمانيين وهزيمة المماليك فى مرج دابق والريديانية؟
٦. سوء احوال الصناعة فى عصر الدولة العثمانية
٧. حمل نظام الحكم العثماني في ثناياه عوامل ضعفه؟
٨. فشل حركة على بك الكبير ؟
٩. تدهور التجارة الخارجية فى مصر فى العصر العثماني ؟
١٠. تدهور التجارة الداخلية فى مصر فى العصر العثماني
١١. اتجاه سليم الأول بغزواته نحو الشرق
١٢. قيام ثورة القاهرة الاولى فى اكتوبر ١٧٩٨
١٣. الحملة الفرنسية على مصر ١٧٩٨
١٤. الحمل الفرنسية على الشام مارس ١٧٩٩
١٥. كان كليبر من انصار عدم البقاء فى مصر
١٦. فشل معاهدة العريش
١٧. انشاء نابليون الدواوين
١٨. اصطحب نابليون معه مجموعة من العلماء
١٩. عودة نابليون الى فرنسا سرا
٢٠. فشل الفرنسيين فى اخضاع الصعيد لسيطرتهم
٢١. فشل نابليون فى دخول عكا
٢٢. هزيمة المماليك امام الفرنسيين بشبراخيت وامبابة
٢٣. مجيء الحملة الفرنسية على مصر عام ١٧٩٨ م .
٢٤. قيام ثورة القاهرة الاولى فى اكتوبر ١٧٩٨ م.
٢٥. قيام المصريين بثورة القاهرة الثانية ١٨٠٠ م.
٢٦. رغبة محمد على فى التخلص من المماليك
٢٧. فشل حملة فريزر على مصر
٢٨. محاولة محمد على التخلص من الزعامة الشعبية
٢٩. ثورة الشعب المصرى ضد الوالى العثماني ١٨٠٤
٣٠. تطبيق محمد على سياسة الاحتكار.
٣١. نشاط التجارة الداخلية والخارجية فى عهد محمد على.
٣٢. اهتمام محمد على بالتعليم.
٣٣. تدهور طبقة التجار فى عهد محمد على.
٣٤. انشاء المطبعة الأميرية ببولاق.
٣٥. انشاء محمد على المدارس الابتدائية والتجهيزية.

## الاولائل فى الدراسات الاجتماعية للصف الثالث الاعدادى

٣٦. أنشأ محمد على مدرسة عسكرية فى أسوان.
٣٧. التنظيمات الادارية فى عهد محمد على.
٣٨. حروب محمد على فى الجزيرة العربية واليونان .
٣٩. حروب محمد على فى السودان والشام .
٤٠. تدهور العلاقة بين محمد على والسلطان العثمانى.
٤١. دخول محمد على حروب اليونان.
٤٢. ارتفاع مكانة مصر الدولية بعد حرب اليونان
٤٣. شهدت الزراعة فى عهد محمد على نهضة شاملة ؟
٤٤. ازدهار النشاط التجارى فى عهد محمد على ؟
٤٥. اعادت سياسية محمد على الاقتصادية بناء القوى الاجتماعية فى مصر؟

## ما النتائج المترتبة :

١. اتجاه سليم الأول بغزواته نحو الشرق
٢. كثرة الفتن والثورات والتدهور الاقتصادى للماليك
٣. موقعة جالديران
٤. معركة ديو البحرية ١٥٠٩
٥. معركة مرج دابق
٦. معركة الريدانية
٧. الغزو العثمانى لمصر
٨. جمود حكم العثمانيين لمصر
٩. ارسال السلطان العثمانى امهر الصناع إلى عاصمة الدولة العثمانية
١٠. منح الدولة العثمانية الامتيازات الأجنبية للدول الأوروبية
١١. اقتصار التعليم فى الازهر على الفقه والتشريع فى العصر العثمانى
١٢. ضعف الدولة العثمانية أواخر القرن ١٧
١٣. فشل حركة على بك الكبير
١٤. الصراعات بين المماليك بعد حكم محمد ابو الذهب
١٥. الحملة الفرنسية علميا
١٦. تجنيد المصريين بالجيش ؟
١٧. مذبحه القلعة فى مارس ١٨١١ م ؟
١٨. معارضة إنجلترا تولية محمد على حكم مصر ؟
١٩. معاهدة لندن الدولية ١٨٤٠ م ؟
٢٠. مواجه السيد محمد كرم حاكم الإسكندرية للحملة الفرنسية.
٢١. معركة أمبابة يوليو ١٧٩٨ م



## الاولائل فى الدراسات الاجتماعية للصف الثالث الاعدادى

٢٢. خطيم الأسطول الفرنسى فى موقعة أبى قير البحرية.
٢٣. اتباع اهالى الصعيد حرب المناوشات والمعارك المتفرقة.
٢٤. مذبحه يافا البشرية.
٢٥. ثورة القاهرة الأولى.
٢٦. أمداد الاسطول الانجليزى لأهالى عكا بالمؤن والذخائر أثناء الحصار الفرنسى لهم.
٢٧. موقعة أبو قير البرية ١٧٩٩م.
٢٨. رفض الجلتر انفاقية العريش.
٢٩. ثورة القاهرة الثانية ١٨٠٠م.
٣٠. مقتل كليبر ١٨٠٠م.
٣١. اهتمام مينو بالتجارة فى مصر.
٣٢. اكتشاف حجر رشيد.
٣٣. انتصارات محمد على فى الشام
٣٤. خطم الاسطول المصرى فى نفاين ١٨٢٧
٣٥. حروب محمد على فى السودان
٣٦. السياسة الاقتصادية التى اتبعها محمد على على القوى الاجتماعية
٣٧. دخول محمد على مفاوضات مباشرة مع الدول الاوربية
٣٨. حروب محمد على فى اليونان
٣٩. اهتمام محمد على بالتعليم.
٤٠. انشاء المطبعة الاميرية ببولاى.
٤١. حاجة محمد على إلى الموظفين.
٤٢. ضم محمد على للسودان.
٤٣. دخول محمد على حروب الجزيرة العربية.
٤٤. انتصارات محمد على وتهديده للسلطان العثمانى.
٤٥. صدور فرمان ١٨٤١م.

## لمن تنسب الاعمال الاتية

١. ارسل الصناع المهرة إلى عاصمة الدولة العثمانية
٢. قام بحركة استقلالية بمصر عن الدولة العثمانية
٣. حليف على بك الكبير فى حركته الاستقلالية
٤. تمكن من هزيمة الصفويين فى موقعة جالديران ودخوله العاصمة تبريز
٥. نائب على بك الكبير الذى انحاز ضده مع السلطان العثمانى
٦. تحالف مع الشيخ ظاهر العمر حاكم جنوب الشام
٧. قائد المماليك فى معركة مرج دابق انهزم من العثمانيين ١٥١٦
٨. قائد المماليك فى معركة الرايدانية انهزم من العثمانيين ١٥١٧
١. قاد الحملة الفرنسية إلى مصر ١٧٩٨م.

٢. قائد الأسطول الانجليزى فى معركة ابي قير البحرية.
٣. حاكم عكا أثناء حصار القوات الفرنسية لها.
٤. تولى قيادة الحملة الفرنسية بعد عودة نابليون إلى فرنسا.
٥. قاد ثورة القاهرة الثانية.
٦. قتل كليبر ١٨٠٠ م .
٧. عقد اتفاقية العريش مع الدولة العثمانية.
٨. تولى قيادة الحملة الفرنسية بعد مقتل كليبر وأراد البقاء فى مصر.
٩. حاكم الاسكندرية الذى قاوم الحملة الفرنسية حتى اعداموه
١٠. تم عزله وتعين محمد على والياً على مصر
١١. ارادت بريطانيا عزل محمد على وتعيينه والياً على مصر
١٢. قاد الحملة الانجليزية على مصر ١٨٠٧
١٣. نضاه محمد على الى دمياط
١٤. قام بتطهير البحر الاحمر من القرصنة
١٥. انشأ المطبعة الأميرية ببولاق

## اكتب ما تشير اليه العبارات

- ١) اكتشفوا طريق رأس الرجاء الصالح
- ٢) الموقعة التى انتصر فيها العثمانيون على الدولة الصفوية
- ٣) المعركة التى هزم فيها المماليك من البرتغاليين
- ٤) موقعة انتصر فيها سليم الاول على الغورى ١٥١٦
- ٥) موقعة انتصر فيها سليم الاول على طومان باى ١٥١٧
- ٦) طبقت ضمت ( الأتراك و المماليك )
- ٧) طبقت ضمت المشايخ وعلماء الازهر و الفلاحين وصغار الحرفيين وعامة الناس
- ٨) جزء من التنافس الاستعماري بين انجلترا وفرنسا اواخر القرن ١٧
- ٩) ميناء ابهرت منه الحملة الفرنسية
- ١٠) اول المعارك التى خاضها المماليك ضد الفرنسيين
- ١١) ولاية نقل السلطان محمد على اليها
- ١٢) اول الحروب التى خاضها محمد على بناء على طلب السلطان العثماني
- ١٣) حركة قامت فى شبه الجزيرة العربية هددت نفوذ الدولة العثمانية
- ١٤) طالبوا باستقلال اليونان عن الدولة العثمانية
- ١٥) موقعة تحطم فيها الأسطول المصري عام ١٨٢٧
- ١٦) جزيرة ضمها محمد على الى حكمه بعد حروب اليونان
- ١٧) تسهيلات منحتها الدولة العثمانية لرعايا الدول الأجنبية
- ١٨) معاهدة دولية فرضت على محمد على من الدول الأوروبية خشية ازدياد نفوذه

- ١٩) ان تقوم الحكومة بتحديد نوع الغلات التى تزرع و المصنوعات التى تنتج و تحديد أثمان شرائها من المنتجين و أثمان بيعها فى السوق
- ٢٠) ظهوروا كقوة اجتماعية مستقرة فى عهد محمد على
- ٢١) احد الضباط الاوروبين الذى استعان بهم محمد على
- ٢٢) عاصمة السودان التى انشأها محمد على
- ٢٣) اعطى حق وراثة مصر لأكبر أبناء محمد على الذكور سنا
- ٢٤) أمر سلطاني يصدره السلطان العثماني واجب التنفيذ
- ٢٥) من المواني التي اصلحها محمد علي كما اقام بها ترسانة لصناعة السفن
- ٢٦) اقام بها محمد علي المطبعة الاميرية وترسانة لصناعة السفن

### رتب الأحداث التاريخية الآتية من القديم إلى الحديث :

- ١- الحملة الفرنسية على مصر
- ٢- موقعة شبراخيت.
- ٣- ثورة القاهرة الثانية.
- ٤- اتفاقية العريش.
- ٥- مقتل كليبر

- ١) حروب اليونان
- ٢) ثورة القاهرة الاولى
- ٣) موقعة الريدانية
- ٤) الحملة الفرنسية على الشام

- ١- اتفاقية العريش
- ٢- معاهدة لندن
- ٣- معركة ديو البحرية
- ٤- موقعة امبابه

### برهن تاريخيا علي صحة العبارات الآتية :

١. كان المجتمع المصرى اثناء الحكم العثماني طبقى
٢. اتسمت الحياة الثقافية فى العصر العثماني بالجمود والتخلف
٣. ترك نابليون مصر والاحطار هدد الحملة من كل جانب
٤. لم تكن الحملة الفرنسية على مصر مجرد حملة عسكرية للغزو
٥. ايقظت الحملة الفرنسية الروح القومية لدى المصريين
٦. تعتبر النتائج العلمية اعظم نتائج الحملة الفرنسية
٧. تولى محمد على حكم مصر انتصارا للارادة الشعبية

٨. خلص محمد على من الممالك بعدة اساليب
٩. اهتم محمد على بالتعليم
١٠. ازدهرت الزراعة فى عهد محمد على
١١. ازدهرت الصناعة فى عهد محمد على
١٢. ازدهار النقل والمواصلات فى عهد محمد على
١٣. اهتم محمد على بالعمران
١٤. ادرك محمد علي ان بناء القوة العسكرية هي الدعمة الاساسية في بناء الدولة الحديثة
١٥. اعاد محمد علي تنظيم الادارة المصرية
١٦. أثرت سياسة محمد على الاقتصادية في تشكيل وبناء القوى الاجتماعية بمصر
١٧. اهتم محمد على بالاسطول
١٨. تعددت اهداف حروب محمد على الخارجية

## الوحدة الرابعة

### المصطلحات

الامتيازات الأجنبية	تسهيلات منحتها الدولة العثمانية لرعايا الدول الأجنبية تشجيعاً لهم على الإقامة في مصر
احتلال	الاستيلاء على أرض الغير بالقوة.
الاتفاق الودى	انفراد إنجلترا بمصر مقابل انفراد فرنسا بمراكش ( المغرب )
اللائحة السعيدية	لائحة أصدرها سعيد باشا في أغسطس ١٨٥٨م وبموجبها أصبح الفلاح مالكاً للأرض الزراعية وحرراً في تصريف حاصلاته الزراعية .
اتفاقية الحكم الثنائى	لبريطانيا الحق في ادارة السودان مثل مصر ورفع العلم البريطانى بجانب العلم المصرى على السودان ١٩يناير ١٨٩٩
الحماية البريطانية	خضوع مصر المطلق للحماية البريطانية

### بم تفسر

- (١) توقفت حركة النهضة العلمية في عصر عباس التي ظهرت في عصر محمد على.
  - - أغلقت المدارس - - أغلقت صحيفة الوقائع المصرية. - أهملت حركة التأليف والترجمة
- (٢) تحسن أحوال الفلاح في عهد سعيد باشا

بسبب اصدار اللائحة السعيدية والتي بموجبها أصبح الفلاح مالكاً للأرض الزراعية ٢ - تطهير ترعة الحمودية

### (٣) بداية الازمة المالية في عهد سعيد

- بدأ الاستدانة من البنوك الأوروبية باول قرض عام ١٨٦٢
- استدان من المربين الاجانب بسندات على الخزينة المصرية

#### ٤) اوجد اسماعيل نهضة علمية حقيقية في مصر

- ١- أعاد فتح ديوان المدارس
- ٢- أنشأ المدارس بمختلف أنواعها ومنها الطب والهندسة
- ٣- أنشأ دار الكتب ٥- أنشأ دار الرصد بالعباسية ومصلحة الإحصاء والمساحة ٧- أسس الجمعية الجغرافية ١٨٧٥

#### ٥) عرفت مصر الهيئات شبه النيابية عام ١٨٦٦

قام الخديو اسماعيل بتأسيس مجلس شورى النواب الذى يعتبر بداية تاريخ المؤسسات النيابية فى مصر الحديثة

#### ٦) وجه إسماعيل عدة حملات حربية إلى الأقاليم الإستوائية

- منع تجارة الرقيق
- ٢- التوسع فى الجنوب ٣- السيطرة على مياه النيل
- ٧) اتجاه اسماعيل للاقتراض - للوفاء بالتزاماته ومشروعات
- ٨) قيام إسماعيل بإنشاء المحاكم المختلطة ١٨٧٥ ؟ لإصلاح مساوئ المحاكم القنصلية
- ٩) ارسال بريطانیا بعثة كيف فى ديسمبر ١٨٧٥

لان إسماعيل عرض عليها ارسال موظف كفاء لدراسة أسباب سوء الأوضاع المالية بمصر وتقديم المقترحات لحلها.

#### ١٠) تدخل بريطانيا وفرنسا لعزل اسماعيل

بسبب ١- عزل إسماعيل الوزيرين الأجنيين عن الوزارة وإعادة المراقبة الثنائية ٢- أصدر مرسوم فى ٢٢ أبريل ١٨٧٩ بتسوية الديون طبقاً للائحة الوطنية ٣- تدخلت بريطانيا وفرنسا وضغطت على السلطان العثماني لعزل اسماعيل

#### ١١) قيام الثورة العربية

- ازدياد التدخل الأجنبي فى شئون مصر
- زيادة الازمة المالية فى عهد توفيق
- تشكيل وزارة رياض باشا
- المؤثرات الفكرية الغربية

#### ١٢) المظاهرة العسكرية فى ميدان عابدين فى ٩ سبتمبر ١٨٨١

لتقديم مطالب الجيش والامة التى تمثلت فى : ١- إسقاط الحكومة المستبدة برياسة رياض باشا  
٢- تشكيل مجلس نواب على النسق الأوروبي  
٣- زيادة عدد الجيش إلى ١٨٠٠٠ جندي

#### ١٣) تسمية وزارة البارودى بوزارة الثورة

- لان عين فيها احمد عرابى وزيراً للجهادية واتت لتنفيذ مطالب الشعب

#### ١٤) فشل الثورة العربية

- ١- عدم تكافؤ القوة العسكرية بين الطرفين وعدم تقدير الزعيم عرابي قوة عدوه
- ٢- تواطؤ إدارة قناة السويس مع الانجليز وتسهيل دخولهم القناة
- ٣- اعلان السلطان العثماني عصيان عرابي واعتبار الحركة تمردا عسكريا.

## الاولائل فى الدراسات الاجتماعية للصف الثالث الاعدادى

٤- عدم إدراك قيادة الثورة لأهمية التعبئة الشعبية لمساندة القوات المصرية

٥- عدم مناسبة الظروف الدولية للحركات الوطنية

١٥) **تحلى فرنسا عن مصطفى كامل والقضية المصرية عام ١٩٠٤**

بسبب عقدها الاتفاق الودى مع إنجلترا

١٦) **تجمعت عوامل عديدة ساهمت فى اشتعال ثورة ١٩١٩**

- نمو الوعي الوطنى لدى المصريين

- الإجراءات العنيفة التى اتخذتها إنجلترا أثناء الحرب العالمية الاولى

- ادعاء إنجلترا وحلفائها أنها خارب من اجل حرية الشعوب

- إعلان الرئيس الأمريكى ولسن مبادئه الأربعة عشر ومنها حق الشعوب فى تقرير مصيرها

١٧) **لم يحقق تصريح ٢٨ فبراير ١٩٢٢ امانى المصريين الكاملة فى الاستقلال**

بسبب وجود التحفظات الاربعة

١٨) **استقالة وزارة سعد زغلول**

١- تم اغتيال القائد العام للجيش المصرى والحاكم العام للسودان السير لى ستاك فى ١٩ نوفمبر ١٩٢٤م

٢- قدم المندوب السامى (اللىبى) إنذار للحكومة المصرية فى ٢٢ نوفمبر ١٩٢٤م بعدة مطالب منها سحب

الجيش المصرى من السودان ٣- رفض سعد زغلول المطالب وقدم استقالته

١٩) **معارضة الشعب المصرى دستور ١٩٣٠**

١- لأنه أعطى الملك مزيد من السلطات ٢- أهدر سلطة الأمة وحقوقها فى مواضع كثيرة

٢٠) **عقد معاهدة ١٩٣٦** بسبب حدوث تغيرات دولية تمثلت فى استعدادات أوروبا للحرب العالمية الثانية

٢١) **حادث ٤ فبراير ١٩٤٢** - ماطلة فاروق فى تعيين النحاس رئيسا للحكومة بناء على رغبة الانجليز

٢٢) **يوم ٢٥ يناير كل عام عيد الشرطة**

استشهاد عدد كبير من افراد الشرطة المصرية فى الدفاع عن مبنى محافظة الاسماعيلية على ايدى البريطانيين

٢٣) **معارضة الشعب المصرى لدستور ١٩٣٠ ؟**

- لان دستور ١٩٣٠ اعطى الملك مزيد من السلطات واهدر سلطة الامة وحقوقها

٢٤) **حدوث خلافات بين الحكومة المصرية وبريطانيا عقب اندلاع الحرب العالمية ٢**

- اصرار بريطانيا على ان تعلن مصر الحرب على دول المحور اثناء الحرب العالمية ٢ لكن مصر رفضت

## ما النتائج المترتبة على...؟

### ١. إنشاء المحاكم المختلطة

a. تدخل القضاة فى سلطة القضاء التشريعى -- ٢- انجيازها إلى الأجانب وامتهان حقوق المصريين

b. لم يعد فى مقدور الحكومة المصرية أن تصدر قانونا نافذا على الأجانب إلا إذا صدقت عليه الجمعية

التشريعية للمحاكم المختلطة

### ٢. لجنة التحقيق العليا الأوبية

- تنازل إسماعيل عن سلطته المطلق لوزارة مسئولة عن الحكم فى البلاد - ٢- تنازله عن أطيانه

وأطيان عائلته مقابل مخصصات مالية تصرف لهم

٢) **إصدار سعيد باشا اللائحة السعيدية عام ١٨٥٨** - أصبح الفلاح مالكا للأرض الزراعية

٣) **مشروع قناة السويس**

اعداد الاستاذ / أشرف شيلابى



فتح باب التدخل الاجنبى فى شئون مصر

١. ارتباك الميزانية المصرية وتورط البلاد فى الاستدانة

#### ٤) اهتمام الخديو إسماعيل بالزراعة فى مصر؟

- زادت مساحة الأرض الزراعية لتوفير مياه الرى حيث تم حفر ترعة الإبراهيمية والإسماعيلية
- زادت المساحة المزروعة بقصب السكر وزاد إنتاج القطن
- إنشاء قناطر على النيل والترع وإصلاح القناطر الخيرية

#### ٥) اعتماد الخديو إسماعيل على القروض الأجنبية - ارتباك الحالة المالية - ازدياد التدخل

الاجنبى فى شئون مصر المالية استنفاد فوائد الديون معظم دخل الخزنة

#### ٦) إرسال بعثة كيف ١٨٧٥م؟ إنشاء إدارة للمراقبة المالية يرأسها موظف إنجليزى - ألا يأخذ الخديو

قروض ما لم توافق عليه إدارة المراقبة المالية

#### ٧) إنشاء صندوق الدين مايو ١٨٧٦م؟ تسليم المبالغ المخصصة للديون من المصالح المختلفة

والإشراف على تسديد الديون لأصحابها عدم اقتراض الحكومة أموالا إلا بموافقة أغلبية أعضاء

الصندوق وبذلك أصبح حكومة أجنبية داخل الحكومة

#### ٨) حادثة قصر النيل فى يناير ١٨٨١م عزل عثمان رفقى وتعيين محمود سامى البارودى بدلا منه

وزيرا للجهادية

#### ٩) تنديد مصطفى كامل بحادثة دنشواى؟ ترتب على ذلك اشتداد الحركة الوطنية واشتعال

حماس المصريين وتقديم استقالة اللورد كرومر

#### ١٠) جهود مصطفى كامل فى مواجهة الاحتلال؟

استقالة اللورد كرومر - تأسيس الحزب الوطنى

#### ١١) تصريح ٢٨ فبراير ١٩٢٢

ترتب على ذلك ١- أعلن الملك فؤاد نفسه ملكا لمصر ٢- إعادة إنشاء وزارة الخارجية المصرية ٣-

تشكيل وزارة عبد الخالق ثروت لجنة لوضع الدستور

#### ١٢) إلغاء حكومة مصطفى النحاس لمعاهدة ١٩٣٦ م فى أكتوبر ١٩٥١ م؟

ترتب على ذلك ١- مهاجمة الفدائيين للمعسكرات البريطانية - زيادة عدد جنود الشرطة لمساعدة

الفدائيين - محاصرة القوات البريطانية مبنى محافظة الإسماعيلية والصدام بين قوات الاحتلال

وعناصر الشرطة

#### ١٣) حادث ٤ فبراير ١٩٤٢م؟ قبل الملك فاروق الإنذار وعرض على النحاس تأليف وزارة

#### ١٤) قيام "تشكيل" وزارة إسماعيل صدقى بإلغاء دستور ١٩٢٣م؟ ترتب على ذلك وضع دستور

جديد وهو دستور ١٩٣٠ الذى أعطى الملك مزيدا من السلطات وأهدر سلطة الأمة وحقوقها فى

مواضع كثيرة ورفضه الشعب

#### ١٥) معاهدة ١٩٣٦م؟

- انتهاء احتلال مصر عسكريا

- انضمام مصر إلى عصبة الأمم

- إلغاء الامتيازات الأجنبية وفقا لمؤتمر مونترو ١٩٣٧

- إرجاع الجيش المصرى إلى السودان

- حرية مصر فى عقد معاهدات سياسية مع الدول الأجنبية

### ١٦ مقتل السير لى ستاك القائد العام للجيش المصرى؟

- ترتب على ذلك قدم المندوب السامى البريطانى اللورد اللنبى إنذار للحكومة المصرية يطالب

بسحب الجيش المصرى من السودان ولذلك قدم سعد زغلول استقالته

- تألفت وزارة جديدة برئاسة زيور باشا وقبلت المطالب البريطانى وسحبت الجيش

### ١٧ اعتراض المندوب السامى البريطانى على سفر الوفد المصرى إلى مؤتمر الصلح؟

• ظهرت فكرة التوكيلات من الأمة المصرية للوفد المصرى وأصبح الوفد برئاسة سعد زغلول يمثل الأمة

• القبض على الزعماء الأربعة ونفيهم إلى جزيرة مالطة واشتعال ثورة ١٩١٩

### ١٨ فشل مفاوضات عدلى / كريزون ١٩٢١؟

استقالة عدلى يكن - رفض السياسيين المصريين تشكيل الحكومة - مقاطعة المصريين للبضائع

الانجليزية

### ١٩ دستور ١٩٢٣م

اجراء انتخابات فاز فيها الوفد وشكل سعد زغلول اول وزارة برلمانية

## دلل على صحة العبارات الاتية

### ١. لم يكن خلفاء محمد على على شاكلته من حيث القوة والوعى ؟

لم يثبتوا كفاءتهم فى حكم البلاد

داهمتهم الموجه الغربية

تارجحوا بين الميل لاجلتراف وفرنسا والدولة العثمانية

### ٢. كانت شروط قناة السويس مجحفة للمصريين

حيث كانت شروطها لصالح الشركة الاجنبية مثل

تنازل الحكومة المصرية عن الاراضى اللازمة للقناة والترعة

تقدم مصر اربعة اخماس العمال

للشركة الحق فى فرض ما تشاء من رسوم

تحصل مصر على ١٥ ٪ من صافى الارباح

### ٣. تعتبر المحاكم المختلطة عدواناً صارخاً على السيادة

كانت تضم قضاة مصريين وأجانب

كان رؤساء هذه المحاكم هم الاجانب مما ادى الى تدخلهم فى سلطة القضاء التشريعى.

١- كانت تنحاز إلى الأجانب على حساب المصريين

### ٤. خطورة المحاكم القنصلية ١- تنظر فى الجرائم التى يرتكبها الرعايا الأجانب ضد المصريين

والحكومة المصرية نفسها. ٢- كانت الأحكام لا تستأنف إلا فى الخارج مما ادى لتنازل المصريين عن

حقوقهم.

### ٥. كان صندوق الدين حكومة اجنبية داخل الحكومة

## الاولائل فى الدراسات الاجتماعفة للصف الثالث الاعدادى

١- تولى إدارته مندوبون أجانب تنذهبهم الدول الدائنة ٢- اشترط ألا تقترض الحكومة أموالاً إلا بموافقة أغلبية أعضاء الصندوق

### ٦. لم تكن الظروف مواتفة لمحمد فرفد عندما تولى زعامة الحزب الوطنى

- تحول الخدفو عباس حلمى الثانى عن مساندة الحركة الوطنية إلى مولاة الانجليز
- اتجه للجهاد ضد الانجليز والخدفو فى نفس الوقت
- ٧. تعتبر ثورة ١٩١٩ ثورة شعبية شاملة

شملت ثورة ١٩١٩ جميع فئات الشعب ١- امتدت من القاهرة إلى كافة الأقاليم ٢- اشترك فيها المسلمين والأقباط والفلاحين والعمال والطلبة والموظفين والمثقفين والعلماء والمشايخ ورجال الكنائس ٣- اشتركت فيها لأول مرة المرأة المصرية

٨. يعتبر عهد اسماعيل بداية الاصلاح النيابى ؟ انشا مجلس شورى النواب ١٨٦٦

٩. اتخذ توفيق سياسة ادت لزيادة التدخل الاجنبى

اعاد المراقبة الثنائفة ورفض اللائحة الاساسفة واسند الوزارة لرياض

١٠. شهد عهد اسماعيل نهضة عمرانفة ؟ اقام قصر عابدين ودار الاوبرا والجسور والكبارى

١١. عملت برطانيا على فرض سياسة اقتصادية تحدم مصالحها

توسعت فى زراعة القطن لتوفر المادة الخام اللازمة للمصانع البرطانية

## أهم المؤتمرات

المؤتمر	التاريخ	المكان	القرارات
الآستانة	١٨٨٢	الآستانة بتركيا	سببه للنظر فى المسألة المصرية . قراراته ١- : قرر أعضاء المؤتمر أن ترسل تركيا قوة لإعادة الأمن والنظام ٢- . عدم تدخل الدول الأجنبية فى شئون مصر الداخلية
الصلح	١٩١٩	باريس فى فرنسا	اعترفت بالحماية البرطانية على مصر بما فىهم الولايات المتحدة وولسن صاحب حق تقرير المصير
مونترو	١٩٣٧	مونترو بسويسرا	إلغاء الامتيازات الأجنبية فى مصر

## أهم الوزارات

الوزارة	التاريخ	سبب الاستقالة
نوبار	١٨٧٨م	عارضت الحركة الوطنية الوزارة المختلطة . مما شجع إسماعيل لعزل الوزفرين الأجنبفبن عن الوزارة
رياض	١٨٧٩م	مظاهرة عابدين الكبرى فى ٩ سبتمبر ١٨٨١م
شرف	١٨٨١م	الخلاف مع مجلس النواب - المذكرة المشتركة الأولى
البارودى	فبراير ١٨٨٢م	قبول الخدفو المذكرة المشتركة الثانية مايو ١٨٨٢م
راغب باشا	يونف ١٨٨٢	

## الاولائل في الدراسات الاجتماعية للصف الثالث الاعدادى

عدلي يكن	١٩٢١	فشل مفاوضات عدلي / كيرزون
عبد الخالق ثروت	١٩٢٢م	
سعد زغلول	يناير ١٩٢٤	اغتيال السير لي ستاك وطلب الجلثرا من سعد سحب الجيش المصري من السودان
إسماعيل صدقي	١٩٣٠م	

المميزات	تصريح ٢٨ فبراير ١٩٢٢م	دستور ١٩٢٢م
١- اعترفت بريطانيا بمصر دولة مستقلة ذات سيادة	٢- انتهاء الحماية البريطانية علي مصر	كان خطوة في تقرير أن الأمة مصدر السلطات
٣- إنهاء الأحكام العرفية	٣- حماية المصالح الأجنبية ٤- السودان	وضع نهاية للحكم المطلق
العيوب	التحفظات الأربعه ١- تأمين المواصلات البريطانية بمصر	أعطى للملك سلطات واسعة فكان من حقه حل البرلمان والدعوة لانتخابات جديدة
	٢- الدفاع عن مصر ضد أي اعتداء أو تدخل أجنبي	
	٣- حماية المصالح الأجنبية ٤- السودان	
	" الحكم الثنائي "	

## الحدث

الحدث	النتيجة
حادث قصر النيل يناير ١٨٨١م	١- عزل الخديو توفيق " عثمان رفقي " وعين " محمود سامي البارودي " بدلاً منه وزيراً للجهادية
ثورة ( مظاهرة ) سبتمبر ١٨٨١م	١- اضطر الخديو أن يوافق على مطالب الأمة. ٢- أسند تشكيل الوزارة إلى شريف باشا وتم تعيين محمود سامي البارودي وزير للجهادية . ٢- تشكيل مجلس النواب الجديد الذي افتتح في ديسمبر ١٨٨١م -اضطر شريف باشا للاستقالة إزاء هذا التوتر ٢. تولى البارودي رئاسة الوزارة
المذكرة المشتركة الأولي يناير ١٨٨٢	١- استقالة وزارة البارودي احتجاجاً على المذكرة
المذكرة المشتركة الثانية مايو ١٨٨٢	٢- اضطراب الأوضاع الداخلية والاصطدام بين الأجانب والمواطنين.
حوادث الإسكندرية يونية ١٨٨٢م	١- وقوع عدد من القتلى ٢- اجتمع بالإسكندرية قناصل الدول الأجنبية ٣. - سافر الخديو إلى الإسكندرية ٤- كلف الخديو توفيق " راغب باشا " بتأليف وزارة جديدة في ٢٠ يونيو ١٨٨٢
حادثة دنشواي ١٩٠٦م	استغلها مصطفى كامل للتشهير بالانجليز - اشتداد الحركة الوطنية - عزل اللورد كرومر

## المعارك

انتصار العربيين وتراجع الانجليز للاسكندرية	كفر الدوار
انتصر الانجليز واحتلوا المدينة	القصاصين اغسطس ١٨٨٢
* شهد ميدان القتال بطولات مصرية خالدة ومنها الضابط " محمد عبيد "	التل الكبير ١٨٨٢م
* دخول القاهرة ١٤ ديسمبر ١٨٨٢ م. * محاكمة العربيين	

كفاح مصطفى كامل داخليا	كفاح محمد فريد داخليا
حارب اليأس وطالب بالدستور تأسيس جريدة اللواء ١٩٠٠ م تأسيس الحزب الوطني ١٩٠٧م ** دعا إلى إنشاء الجامعة المصرية ( جامعة القاهرة)	** طالب بإنشاء مجلس نيابي له سلطات واسعة ** إنشاء نقابات للعمال مما أدى إلى ظهور الحركة التعاونية ** دعا إلى إنشاء مدارس الشعب الليلية لتعليم العمال والفقراء مجاناً * عارض بشدة طلب شركة قناة السويس مد امتياز القناة ٤٠ عام

## التدريبات

### اكمل العبارات الاتية

١. توقفت النهضة فى عهد .....
٢. فى عصر عباس باشا الاول تم اصلاح الطريق البري بين القاهرة و.....وشرع فى مد خط حديدي بين القاهرة و.....عام ١٨٥٢م .
٣. اصدر سعيد باشا ..... واصبح الفلاح مالكا للارض الزراعية وعني بتطهير ترعة .....
٤. الغي سعيد باشا ديوان .....ولكنه شجع .....علي فتح المدارس لها فى القاهرة والاسكندرية
٥. جعل سعيد مدة الخدمة العسكرية .....اجبارية للجميع وفتح باب الترقى امام .....
٦. بدأت الازمة المالية فى عصر محمد سعيد باشا عن طريق .....عندما عقد اول قرض بريطاني عام ١٨٦٢م ثم لجأ الي .....للاستعانة بهم مقابل سندات علي الخزانة المصرية .
٧. صدر عام .....م عقد الامتياز الاول لحضر قناة السويس
٨. كان عقد الامتياز لحضر قناة السويس الذي صدر عام .....مجحفا بحقوق مصر والمصريين .
٩. منحت الحكومة المصرية شركة قناة السويس امتياز انشاء ترعة .....
١٠. دثت نهضة علمية فى مصر فى عهد اسماعيل فاعاد فتح ديوان .....واهتم بتعليم .....
١١. من شروط الامتياز تقدم مصر ..... العمال
١٢. من شروط الامتياز تحصل مصر على ..... % من الارباح

## الاولائل فى الدراسات الاجتماعية للصف الثالث الاعدادى

١٣. انشئت ترعة الابراهيمية فى عهد .....
١٤. انشئت فى عهد اسماعيل دار ..... ودار ..... والجمعية ..... عام ١٨٧٥ م .
١٥. انشأت فى عهد ..... اول مصلحة بريد مصرية
١٦. من القصور التى انشأت فى عهد اسماعيل قصر ..... ودار .....
١٧. تأسس عام ١٨٦٦م فى عهد اسماعيل مجلس ..... وعرف نظام ..... عام ١٨٧٨م
١٨. وجة الخديوي اسماعيل عدة حملات حربية الى ..... فى افريقيا لمنع تجارة .....
١٩. من صور التدخل الاجنبى فى عهد اسماعيل ..... و..... و.....
٢٠. من اسباب الازمة المالية سياسة ..... فى عهد اسماعيل وافتتاح ..... عام ١٨٦٩
٢١. من مظاهر التدخل الاجنبى فى شئون مصر الداخلية فى عهد اسماعيل المحاكم ..... والمحاكم .....
٢٢. للحد من مساوئ المحاكم القنصلية بعد استفحال الامتيازات الاجنبية انشئت ..... لتفصل فى القضايا ..... و.....
٢٣. تمثل ازدياد التدخل الاجنبى فى شئون مصر المالية فى بعثة ..... عام ١٨٧٥م وصندوق .....
٢٤. كان فى المراقبة الثنائية مراقب بريطانى ل ..... وفرنسى ل .....
٢٥. اوصت ..... بتنازل اسماعيل عن سلطاته وعن ممتلكاته
٢٦. ارسلت بريطانيا لمصر موظف بريطانى هو ..... لدراسة اسباب الازمة المالية
٢٧. كانت وزارة نوبار باشا تضم وزير ..... للمالية ووزير ..... للاشغال .
٢٨. تدخلت بريطانيا وفرنسا لدى السلطان العثماني فاصدر مرسوما بعزل اسماعيل وتولية ابنة ..... عام .....
٢٩. كان ..... يرأس الوزارة المختلطة
٣٠. اعاد توفيق نظام ..... ورفض ..... واسند الوزارة ل .....
٣١. اضطهد ..... الضباط المصريين ولم يرقهم
٣٢. طالب عرابي وزملائه الخديوي توفيق باقالة ..... ناظر الجهادية
٣٣. تم تعيين ..... ناظر الجهادية بعد حادثة قصر النيل يناير ١٨٨١
٣٤. تمثلت مطالب فى ٩ ستمبر ١٨٨١م فى اسقاط حكومة ..... وتشكيل ..... على النسق الاوربي وزيادة عدد الجيش الى ..... جندي .
٣٥. وافق الخديوي توفيق على مطالب الامة والجيش واسند الوزارة الى ..... وعين فيها ..... ووزيرا للجهادية
٣٦. كان ..... يعترض على حق المجلس فى مناقشة الميزانية لتاجيل الصدام بالدول الاوربية
٣٧. ابدت بريطانيا وفرنسا فى المذكرة المشتركة الاولى رغبتهما فى حل .....
٣٨. تولي ..... رئاسة الوزارة الثورة بعد استقالة شريف وسميت وزارة ..... واسندت وزارتا الجهادية والبحرية الى .....
٣٩. ارسلت بريطانيا وفرنسا المذكرة المشتركة الثانية وطالبتا باقالة وزارة ..... وابعاد .....
٤٠. استطاع بعد احداث الاسكندرية وفي يونية ١٨٨٢م كلف الخديوي توفيق .....
٤١. استقالت وزارة ..... عقب المذكرة المشتركة الثانية



## الاولائل في الدراسات الاجتماعية للصف الثالث الاعدادى

٤٢. عقد مؤتمر.....للنظر في المسألة المصرية بعد حوادث الاسكندرية
٤٣. انسحب عرابي من الاسكندرية الي .....لمواجهة الزحف البريطاني
٤٤. اوهم .....عرابي بان بريطانيا لن تستخدم القناة ولكنة سمح لها حتي وصلت الي .....واحتلتها.
٤٥. انهزم ..... فى كفر الدوار يوليه ١٨٨٢
٤٦. احتل الانجليز مدينة ..... اغسطس ١٨٨٢
٤٧. اقنع البريطانيون ..... باعلان عصيان عرابى قبل معركة التل الكبير
٤٨. شهدت معركة التل الكبير بطولات مثل بطولة الضابط .....الذي استشهد .
٤٩. بعد هزيمة العرابيين فى التل الكبير توجه الانجليز لدخول .....
٥٠. تم نفي عرابى لجزيرة .....
٥١. اعتقلت بريطانيا زعماء الثورة عدا الشيخ .....
٥٢. بعد احتلال مصر اصبحت السلطة الفعلية في يد .....
٥٣. كان عدد الجيش المصري تحت الاحتلال .....جندي وكان تحت قيادة .....
٥٤. في عام ١٨٨١م الغي .....المنتخب وانشئت مجالس .....لاسلطة لها .
٥٥. من المجالس النيابية التى انشأتها بريطانيا .....و.....و.....
٥٦. تمثلت السياسية الاقتصادية البريطانية في مصر تحت الاحتلال في التوسع في زراعة .....ومحاربة .....
٥٧. قاد مصطفى كامل الحركة الوطنية في اواخر القرن .....
٥٨. اتجة مصطفى كامل الي تعريف الراي العام الاوربي وخاصة في .....بحق مصر في الاستقلال
٥٩. دعا مصطفى كامل الي رفض اتفاقية .....في السودان
٦٠. استغل مصطفى كامل حادثة .....للمطالبة بالغاء عن مصر
٦١. اسس مصطفى كامل .....عام ١٩٠٠م واسس الحزب .....عام ١٩٠٧م
٦٢. اعتمد مصطفى كامل في للغاء علي .....حتي عقد .....عام ١٩٠٤م بين انجلترا وفرنسا .
٦٣. اسفرت جهود مصطفى كامل ضد الاحتلال عن استقالة اللورد .....في مصر .
٦٤. توفي مصطفى كامل في فبراير عام ١٩٠٨م وخلفه في زعامة الحزب الوطني .....
٦٥. كان علي محمد فريد حينما تولي رئاسة الحزب الوطني الجهاد ضد .....والخديوي .....
- .....في وقت واحد لانة تحول عن موازرة الحركة الوطنية .
٦٦. طالب محمد فريد بانشاء .....لة سلطات واسعة وانشاء .....للعمال
٦٧. طالب محمد فريد بانشاء .....اليلية وجعل التعليم .....في المرحلة الابتدائية بالمجان
٦٨. رفض ..... مد امتياز قناة السويس .
٦٩. تشكل وفد مصرى برئاسة ..... عقب انتهاء الحرب العالمية الاولى
٧٠. فرضت بريطانيا علي مصر .....في ١٨ ديسمبر ١٩١٤م .
٧١. اعلن الرئيس الامريكي.....مبدأ حق الشعوب في تقرير مصيرها .
٧٢. في عام ١٩١٩م ذهب اعضاء الوفد المصري لمقابلة المندوب السامي البريطاني في مصر .....
٧٣. اراد اعضاء الوفد السماح لهم بالسفر الى .....

## الاولائل في الدراسات الاجتماعية للصف الثالث الاعدادي

٧٤. تم نفي سعد زغلول ورفاقه الى جزيرة .....
٧٥. ادت ثورة ١٩١٩ الي تعيين ..... مندوبا ساميا في مصر بديلا ل ونجت
٧٦. اعترف ..... بالحماية البريطانية على مصر
٧٧. ارسلت انجلترا الى مصر لجنة برئاسة ..... لاقناع المصريين بقبول الاحتلال
٧٨. دارت عام ١٩٢١م المفاوضات بين ..... رئيس الوزراء المصري و ..... وزير خارجية بريطانيا.
٧٩. بعد فشل مفاوضات عدلي كيرزون اصدرت بريطانيا ١٩٢٢م .....
٨٠. عقب تصريح ٢٨ فبراير اعلن ..... ملكا علي مصر
٨١. شكلت وزارة ..... لجنة لاعداد دستور ١٩٢٣م
٨٢. شكل ..... اول وزارة برلمانية في مصر عام ١٩٢٤م
٨٣. استقالت وزارة سعد زغلول بعد مقتل ..... عام ١٩٢٤م
٨٤. اعيدت وزارة ..... بعد تصريح ١٩٢٢
٨٥. بعد استقالة وزارة سعد زغلول تالفت وزارة ..... و ثم سحب ..... من السودان .
٨٦. توفي سعد زغلول عام ..... وخلفه ..... في زعامة حزب الوفد .
٨٧. في عام ١٩٣٠م شكل ..... وزارة جديدة قامت بالغاء دستور ..... و وضعت دستورا جديدا .
٨٨. اضطر الملك ..... تحت معارضة الشعب المصري الي الغاء دستور ..... واعاد دستور ١٩٢٣م .
٨٩. كانت الاحزاب التي نشأت بعد صدور دستور ١٩٢٣م أداة ل ..... و ..... دون النظر لمصالح الشعب
٩٠. نصت معاهدة ١٩٣٦م عل جلاء القوات البريطانية من جميع الجهات عدا منطقة ..... للدفاع عنها
٩١. انضمت مصر الى ..... باعتبارها دولة مستقلة
٩٢. عاد الجيش المصري للسودان بعد معاهدة .....
٩٣. تحولت العلاقة بين مصر وبريطانيا من ..... الى ..... عقب معاهدة ١٩٣٦
٩٤. احاطت بريطانيا قصر عابدين بالدبابات لارغام ..... على تعيين .....
٩٥. عرضت قضية جلاء القوات البريطانية من مصر علي ..... عام ..... لكنة لم يفعل شي.
٩٦. اعلن رئيس الوزراء المصري ..... الغاء معاهدة ١٩٣٦م وذلك عام .....
٩٧. في ٢٥ يناير حاصرت القوات البريطانية مبني محافظة .....

## بم تفسر

١. توقفت النهضة في عهد عباس
٢. اهتم سعيد بالفلاح المصري ؟
٣. يعتبر عصر محمد سعيد باشا بدايات التدخل الاجنبي في شئون مصر الداخلية ؟
٤. كان عقد امتياز قناة السويس الثاني عام ١٨٥٦م مجحفا بحقوق مصر وشعبها ؟
٥. شهد عصر اسماعيل نهضة عمرانية كبيرة ؟
٦. يعتبر عصر اسماعيل بداية تاريخ المؤسسات النيابية الحديثة بمصر ؟
٧. توجية الخديوي اسماعيل عدة حملات حربية الي الاقاليم الاستوائية ؟
٨. وقوع الازمة المالية وازدياد التدخل الاجنبي في شئون مصر ؟
٩. عزل السلطان العثماني للخديوي اسماعيل وتولية ابنة توفيق
١٠. ازدياد التدخل الاجنبي في عصر اسماعيل ؟

## الاولائل فى الدراسات الاجتماعفة للصف الثالث الاعدادى

١. خلى فرنسا عن مساندة مصطفى كامل بعد عام ١٩٠٤
٢. تولفة محمد فرفد رئاسة الحزب الوطنى فى ظروف لم تكن مواتفة له ؟
١. اءت سفاسة ءوففك الى زفاة الءءءل الاءنبى فى شئون مصر؟
٢. قفام الءورة العربفة؟
٣. اسءقالفة وزارة الءورة برئاسفة محمود سامى الباروءى ؟
٤. هزفة اءمء عربى امام القواء البرفطانية وءءول القاهرة عام ١٨٨٢م ؟
٥. فشل الءورة العربفة ؟
٦. المءكرة المشءركة الاولى فى ٧فنافر ١٨٨٢م ؟
٧. المءكرة المشءركة الءاففة مافو ١٨٨٢م؟
٨. اهءمء برفطانفا بزراعة القطن ؟
١. قفام ءورة ١٩١٩م ضد الاءءلال البرفطانى ؟
٢. ءعءبر ءورة ١٩١٩م ءورة مصرفة شعبفة؟
٣. خفب مؤءمر الصلء بفارفس امال المصرففن ؟
٤. رفص الشعب المصرى لمشروع المعاهءة ملئر
٥. لم فءقق ءصرفف ٢٨فبرافر الامانى الوطنفة الكاملة للشعب المصرى
٦. اهمفة ءسءور ١٩٢٣للشعب المصرى ؟
٧. اسءقالء وزارة سعد زغلول ؟
٨. رغم ءعءء الاءزاب فى مصر بعد ءسءور ١٩٢٣م الا انه لم فءرف الءفاة النفافة ؟
٩. ءاءء ٤ ففبرافر ١٩٤٢م ؟
١٠. عءء برفطانفا مع مصر معاهءة ١٩٣٦م ؟
١١. الءفاء معاهءة ١٩٣٦م ؟
١٢. فوم ٢٥ فنافر من كل عام عفءا للشرطة ؟
١٣. فشل مفاوضاء ءءلى كفرزون مارس ١٩٢١م؟

## ما النءاء المءرءبة على كل من :

- (١) امءفاز شركة ءفر قناة السويس.
- (٢) اسراف الءفوفى اسماعفل فى الاقرراض والاسءءانة من الاءانب.
- (٣) المءاكم المءءلطة والمءاكم القنصلفة فى مصر .
- (٤) ءوففة المءركة الوطنفة المصرفة الاءءقاءاء للوزارة المءءلطة .
- (٥) الامءفازاء الاءنبفة على مصر .
- (٦) الاءفاق الوءى بفن المءلءرا وفرنسا عام ١٩٠٤م.
- (٧) ءنءفء الزعمفم مصطفى كامل بءاءة ءنشوافى .
- (٨) ءور محمد فرفء فى الكفاح الوطنى
- (٩) كفاح مصطفى كامل
- (١٠) اسءءابة الءفوفى ءوففك لمءالب المءلءرا وفرنسا.
- (١١) مظاهرة ٩سءمفر ١٨٨١م.

- ١٢) حادث قصر النيل .
- ١٣) المذكرة المشتركة الاولى فى ٧ يناير ١٨٨٢ م .
- ١٤) مؤامرة الضباط الجراكسة ضد الضباط المصريين .
- ١٥) المذكرة المشتركة الثانية ٢٥ مايو ١٨٨٢ م . .
- ١٦) مؤتمر الاستانة يونية ١٨٨٢ م .
- ١٧) معركة كفر الدوار ومعركة التل الكبير .
- ١٨) اصدار السلطان العثماني منشورا بعصيان احمد عرابي .
- ١٩) اعتراض المندوب السامي البريطاني على سفر الوفد المصري الي مؤتمر الصلح .
- ٢٠) اغتيال السيرلي ستاك القائد العام للجيش المصري وحاكم السودان العام .
- ٢١) توقيع النحاس معاهدة ١٩٣٦ م مع بريطانيا.
- ٢٢) الغاء النحاس باشا معاهدة ١٩٣٦ م.
- ٢٣) تصريح ٢٨ فبراير ١٩٢٢ م .
- ٢٤) ثورة ١٩١٩ م .
- ٢٥) مفاوضات عدلي - كيرزون ١٩٢١ م .

## لمن تنسب الاعمال الآتية

- ١- المهندس الفرنسي الذى حصل على امتياز حفر قناة السويس
- ٢- بدء فى إنشاء أول خط حديدى بين القاهرة والإسكندرية
- ٣- منح دليسيبس امتياز تأسيس شركة عامة لحفر قناة السويس
- ٤- إعاد إنشاء المراقبة الثنائية
- ٥- ألغى مشروع اللائحة الأساسية لمجلس النواب
- ٦- حفر ترعة الإبراهيمية
- ٧- أعاد فتح ديوان المدارس
- ٨- أنشأ دار الأوبرا و أنشأ دار الكتب
- ٩- مد الخطوط التلغرافية بين الإسكندرية والقاهرة والسويس
- ١٠- اسس الجمعية الجغرافية
- ١١- أنشأ دار الرصد بالعباسية ومصلحة الإحصاء والمساحة
- ١٢- أنشأ مصلحة بريد لها مكاتب فى الإسكندرية والقاهرة والأقاليم
- ١٣- رئيس الوزارة المختلطة
- ١٤- شجع البعثات الأجنبية على فتح مدارس لها بالقاهرة والإسكندرية
- ١٥- أنشأ خط سكك حديدية من القاهرة إلى السويس
- ١٦- اسس مجلس شورى النواب
- ١٧- تولى حكم مصر بعد عزل اسماعيل
- ١٨- وجه عدة حملات حربية إلى الأقاليم الإستوائية لمنع تجارة الرقيق
- ١٩- ألغى ديوان المدارس
- ٢٠- افتتحت فى عهده قناة السويس

## الاولائل فى الدراسات الاجتماعفة للصف الثالث الاعدادى

- ٢١- اهتم باصلاح احوال الفلاحفن فف اصبحوا ملا كا للارضى الزراعفة والفى نظام الاحتكار
- ٢٢- اصلح الطرىق البرى بفن القاهرة والسوفس وشرع فى انشاء اول خط حففى عام ١٨٥٢م
- ٢٣- راس بعثة لدراسة اسباب سوء الاوضاع المالفة فى مصر عام ١٨٧٥م
- ٢٤- راس الوزارة المختلطة بناء على مرسوم الحففوى اسماعفل ١٨٧٨م
- ٢٥- تولف حكم مصر بناء على فرمان السلطان العثمانف الذى صدر بعد فدخل الفلتراف وفرنسا
- ٢٦- عرف بالخضوع للنفوذ الاجنبى وتولى الوزارة فى عهد فوففق
- ٢٧- ناظر الفهاففة الذى طالب عرابى بعزله
- ٢٨- عفن ناظراً للفهاففة بعد حادث قصر النفل
- ٢٩- تولف رئاسة الوزراء بعد عزل رفاض باشاف
- ٣٠- شكل الوزارة بعد حوادث الاسكندرفة
- ٣١- اقنعت السلطان باصدار منشور بعصفان عرابى
- ٣٢- من زعماء الثورة لم ففم القاء القبض علفه
- ٣٣- صمد بقواففة وقاوم القواف البرفطائف فف اسفشهد هو ومعظم رجالة فى معركة التل الكبفر
- ٣٤- تولف قفاة الحركة الوطنفة فى أواخر القرن التاسع عشر
- ٣٥- حارب الفأس ووجد الشفور الوطنف لى المصرفن
- ٣٦- اهتم بالدعوة إلى نشر التعلفم وإنشاء الجامعة المصرفة
- ٣٧- ففلت عن مصطفى كامل بعد عقد الاتفاق الودى
- ٣٨- أسس الحزب الوطنف ١٩٠٧
- ٣٩- المعتمد البرفطائف الذى اسفقال بعد حاففة دنشواى
- ٤٠- أسس جرفة اللواء ١٩٠٠
- ٤١- خلف مصطفى كامل فى زعامة الحزب الوطنف
- ٤٢- فحول عن مساندة الحركة الوطنفة إلى مولاة الففلز عندما تولف محمد فرفد زعامة الحركة الوطنفة
- ٤٣- طالب بإنشاء نقابات للعمال
- ٤٤- وقف ضد مشروع مدامفاز قناة السوفس
- ٤٥- الزعفم الوطنف الذى اسس جرفة اللواء عام ١٩٠٠م والحزب الوطنف عام ١٩٠٧م
- ٤٦- دعا الى انشاء مدارس الشعب وجعل التعلفم الزامفا وبالفجان فى المرحلة الابتدائفة وتوفى عام ١٩١٩م
- ٤٧- اذعت اثناء الحرب العالمفة الاولى أنها فحارب من اجل حرية الشعوب
- ٤٨- اعلن مبادئه الأربعفة عشر ومنها حق الشعوب فى فقرر مصفرها
- ٤٩- المندوب السامف البرفطائف الذى طلب منه سعد زغلول السفر الى بارفس
- ٥٠- المندوب السامف البرفطائف الذى فم فعففنه فى مصر بعد ثورة ١٩١٩
- ٥١- رؤفس اللجنة الفف ارسلتها الفلتراف الى مصر بعد ثورة ١٩١٩
- ٥٢- رؤفس الحكومة المصرفة الذى تفاوض مع كرفزون
- ٥٣- الوزارة الفف شكلت لجنة لوضع دستور ٢٣
- ٥٤- شكل اول وزارة برلمانفة فى فافف مصر
- ٥٥- القائف العام للجفش المصرف والحاكم العام للسودان الذى قفل فى ١٩ نوفمبر ١٩٢٤م

## الاولائل فى الدراسات الاجتماعية للصف الثالث الاعدادى

- ٥٦- المندوب السامى الذى طالب الحكومة المصرية بسحب الجيش المصرى من السودان
- ٥٧- الوزارة التى تشكلت بعد استقالة سعد زغلول وسحبت الجيش المصرى من السودان
- ٥٨- تولى رئاسة حزب الوفد بعد وفاة سعد زغلول
- ٥٩- ألغى دستور ١٩٢٣م ووضعت دستوراً جديد ١٩٣٠
- ٦٠- الغى دستور ١٩٣٠ واعاد دستور ١٩٢٣
- ٦١- عقد معاهدة ١٩٣٦ مع الانجليز
- ٦٢- الغى معاهدة ١٩٣٦

## اكتب ما تشير اليه العبارات

- (١) تسهيلات منحتها الدولة العثمانية لرعايا الدول الأجنبية
- (٢) تنظر فى الجرائم التى يرتكبها الرعايا الأجانب ضد المصريين
- (٣) تفصل فى القضايا المدنية بين الأجانب والمصريين
- (٤) خزانة فرعية للخزانة المصرية
- (٥) تعيين مراقبين أجنيين على المالية المصرية
- (٦) عين وزيراً للبحرية فى عهد وزارة الثورة
- (٧) الاستيلاء على أرض الغير بالقوة
- (٨) جزيرة نفى احمد عرابى اليها
- (٩) أصبحت فى يده السلطة الفعلية بعد الاحتلال
- (١٠) اتفاقية عقدت بين مصر وبريطانيا فى ١٩ يناير ١٨٩٩م اعطت بريطانيا رسمياً الحق فى ادارة السودان
- (١١) اتفاق عقد بين انجلترا وفرنسا عام ١٩٠٤
- (١٢) خضوع مصر المطلق للاحتلال البريطانى
- (١٣) جزيرة فى البحر المتوسط نفى سعد زغلول اليها
- (١٤) شاركت لأول مرة فى ثورة ١٩١٩ لتؤكد وجودها داخل نسيج المجتمع
- (١٥) مؤتمر عقد فى باريس واعترف بالحماية البريطانية
- (١٦) اعيدت الى وضعها بعد تصريح ٢٨ فبراير
- (١٧) انضمت اليها مصر بعد معاهدة ١٩٣٦
- (١٨) مؤتمر الغيت فيه الامتيازات الاجنبية

## برهن علي صحة العبارات الاتية :

- ١- كان للمذكرات المشتركة البريطانية والفرنسية دورا فى عدم استقرار الحكومات المصرية .
- ٢- لم تلتزم بريطانيا بعدم التدخل فى شئون مصر .
- ٣- تضافرت عوامل كثيرة ادت فى النهاية الى فشل الثورة العربية
- ٤- اصبحت السلطة الفعلية فى مصر بعد احتلالها فى يد المعتمد البريطانى .
- ٥- فرض الاحتلال البريطانى سياسة اقتصادية تخدم المصالح البريطانية فى الاساس .
- ٦- توقفت القوى الخارجية ممثلة فى فرنسا عن دعم مصطفى كامل عام ١٩٠٤م.
- ٧- نجح محمد فريد بتأييد من الراى العام فى اجبار الحكومة علي رفض مد امتياز قناة السويس ٤٠عاما.



## الاولئل فى الدراسات الالءماعفة للصف الالء الاعداء

- ٨- ءفب موءمر الصلء ببافرف بعء الحرب العالفة الالفة امال المصرفف فف الاستقلال .
- ٩- انءهء مفاوضاء سعد زعلول واللورء ملنر وزفر المستعمراء البرفطائف بالفشل .
- ١٠- ءنكر الرئفس الامرفكى ولسن للمباءف الءف قءعها على نفسة ومنها حق قفرفر المصفر الشعلوب
- ١١- رفض الشعب المصفر ءصرفء ٢٨ فبرافر رغم اعءرافة باسءقلال مصر .
- ١٢- رغم رفض الشعب المصفر من ءصرفء ٢٨ فبرافر الا انه لم فءلو من بعض الفواءء .
- ١٣- كان ءسءور ١٩٢٣م ءءثا هاما فف ءفاة الشعب المصفر والءفاة النفافة بمصر .
- ١٤- كان ءعءء الاحزاب بعء صءور ءسءور ١٩٢٣م فف فرر صالء الءفاة النفافة بمصر .

## رءب الاءءاء الءافففة الاءفة من القءفم إلى الءفء :

- ءاسفس فرفة اللواء
- مءءة القلعة
- الفاء معاهاة ١٩٣٦
- افءءاء قناة السوفس

- ءملة فرفر
- الاتفاق الوءف
- ءرفق القاهرة
- ارسل الءنة ملنر

- انضمام مصر لعصبة الامم
- ءملة فرفر
- اءءال برفطائف لمصر
- الءملة الفرنففة

## اسئلة مقالفة

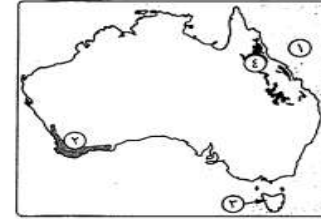
- ( فءءبر عصر الءفءوف اسماعفل من اءطر الفءراء فف ءاففء مصر الءفء )  
فف ضوء العبارة وضء
- ١- اسباب الازمة المالفة فف عهد اسماعفل
- ٢- مظاهر الاصلاح النفاى فف عهد اسماعفل
- ٣- اهم الاعمال العمرائف لاسماعفل
- ( رغم ان قناة السوفس من اعظم المشارع فف مصر الءفءة الا انه كان لها اءار اءرى  
فف ضوء العبارة وضء

- اهم شروط ءفر قناة السوفس
- ما العلاقة بفن ءفلسبس واءءال الاءلفز
- ( قامء فف ءاففء مصر الءفء ءوراء عءفءة قام بها الشعب المصفر ) فف ضوء العبارة وضء
- قارن بفن ءورة ١٨٨١ وءورة ١٩١٩ من ءفء الاسباب والقائء والءءاء
- وضء كفاف مصءطفف كامل ءارففا
- ( انءهى ولله الءمء )



أجب عن الأسئلة الآتية:

أولاً الجغرافيا



- (١) أمامك خريطة لقارة أستراليا، اكتب ما تدل عليه الأرقام الموقعة عليها :
- (١) المحيط ..... (٢) إقليم مناخي ..... (٣) جزيرة ..... (٤) جبال .....
- (ب) يم تقسر ... ؟
- (١) لا توجد سلالة أكثر نكاه من السلالات الأخرى.
- (٢) وصول نسبة المتعلمين في مصر إلى ٦٥ ٪
- (ج) في أي الدول توجد كل ظاهرة مما يأتي ... ؟
- (١) هضبة الدكن. (٢) سهل كلنشو. (٣) سهول نهر لايلتا. (٤) جبال زاجروس.

(١) ما النتائج المترتبة على ... ؟

- (١) \* تساوى معدلات المواليد مع معدلات الوفيات بقارة أوروبا.
- (٢) ارتفاع فئة صغار السن في الدول النامية.
- (ب) صوب ما تحته خط في العبارات الآتية :
- (١) يحد قارة أمريكا الجنوبية من الشمال البحر البلطي.
- (٢) يفصل البحر المتوسط بين قارتي آسيا وأفريقيا.
- (٣) تسقط أمطار الإقليم الموسمي في فصل الشتاء.
- (٤) \* يتركز السكان في سهول نهري جوبا وشبيلي بقارة أستراليا.
- (ج) ماذا يحدث إذا : كانت سواحل قارة أوروبا تتميز بالاستقامة ؟

ثانياً التربية

- (١) «شهدت مصر في عهد الخديو إسماعيل نهضة في كثير من المجالات ولكنها انتهت بالأزمة المالية التي أدت إلى التدخل الأجنبي في مصر». في ضوء هذه العبارة أجب عما يأتي :
- (١) اذكر أسباب الأزمة المالية في عهد الخديو إسماعيل.
- (٢) قارن بين : التعليم في عهد الخديو إسماعيل وفي عهد الاحتلال البريطاني لمصر.
- (ب) ما النتائج التي ترتبت على ... ؟
- (١) حادثه دنشواي.
- (٢) ضم محمد علي السودان.
- (ج) رتب الأحداث التاريخية الآتية من القديم إلى الحديث :
- \* الثورة العرابية. \* معركة الريدانية. \* وزارة الشعب. \* جلاء الحملة الفرنسية عن مصر.

(١) دلل تاريخياً على صحة كل عبارة مما يأتي :

- (١) تعتبر النتائج العلمية للحملة الفرنسية من أعظم ما تركته الحملة من نتائج.
- (٢) اهتمام محمد علي بالنقل والمواصلات.
- (ب) اكتب كلمة (صح) أمام العبارة الصحيحة، وكلمة (خطأ) أمام العبارة غير الصحيحة :
- (١) عاد الجيش المصري إلى السودان تنفيذاً لمعاهدة ١٩٣٦م. ( )
- (٢) كان حي بولاق مركز ثورة القاهرة الأولى. ( )
- (٣) لم تتأثر أحوال دولة المماليك الاقتصادية بعد اكتشاف طريق رأس الرجاء الصالح. ( )
- (٤) اتسمت الحياة الفكرية والثقافية في مصر أثناء الحكم العثماني بالجمود. ( )
- (ج) إلى من تنسب كل عمل مما يأتي ... ؟
- (١) أصدر اللائحة السعيدية عام ١٨٥٨م.
- (٢) تولى رئاسة الحزب الوطني بعد وفاة مصطفى كامل.



أجب عن الأسئلة الآتية:

أولاً الجغرافيا



- (١) أمامك خريطة لقارة أمريكا الجنوبية، اكتب مدلول الأرقام الموقعة عليها :
- (١) البحر ..... (٢) جبال ..... (٣) دائرة عرض ..... (٤) هضبة .....
- (ب) يم تقسر ... ؟
- (١) تركز السكان في أوغندا وكينيا على الرغم من أنهما دولتان مداريتان.
- (٢) تنوع الحياة النباتية في إقليم المناخ الجبلي.
- (ج) صوب ما تحته خط في العبارات الآتية :
- (١) من السهول الصحراوية المتسعة سهل كلنشو في مصر.
- (٢) من الجزر التابعة للأوقيانوسية جزيرة مدغشقر.
- (٣) الديموجرافية هي علم دراسة الطاقة.
- (٤) تعرف السهول الواسعة شمال أوروبا باسم سيبيريا.

(١) اختر الإجابة الصحيحة مما بين القوسين :

- (١) من الصفات الجسمية للسلالة الزنجية ..... ( العيون المنحرفة - الأنف العريضة - الشعر الأسود المسترسل - الشعر المتعرج )
- (٢) يصب نهرا دجلة والفرات في ..... ( المحيط الهادي - المحيط الهندي - المحيط الأطلنطي - الخليج العربي )
- (٣) من الدول ذات الدخل الاقتصادي الزراعي المنخفض ..... ( مصر - جنوب أفريقيا - الكونغو - المغرب )
- (٤) تمر الدائرة القطبية الشمالية بكل من قارة آسيا وأمريكا الشمالية و ..... ( أستراليا - أمريكا الجنوبية - أوروبا - أنتاركتيكا )
- (ب) قارن بين : إقليم المناخ المعتدل شرق القارات الصينية، وإقليم مناخ غرب أوروبا من حيث :
- \* الموقع الفلكي. \* السلالات البشرية. \* أهم الأشجار. \* موسم سقوط الأمطار.
- (ج) ما مقترحاتك من أجل : أن تصبح مصر دولة ذات دخل اقتصادي مرتفع ؟

ثانياً التاريخ

- (١) «قام شعب مصر استبداد حكام أسرة محمد علي والأطماع الخارجية بثورات متعددة». في ضوء العبارة أجب عما يأتي :
- (١) أسباب الثورة العرابية.
- (٢) وضع مدى التلاحم بين فئات الشعب المصري في ثورة ١٩١٩م.
- (٣) نتائج ثورة القاهرة الأولى أكتوبر ١٩٧٨م.
- (ب) صوب ما تحته خط :
- (١) نتيجة توتر العلاقة بين محمد علي والسلطان العثماني كانت المواجهة التي عرفت بالحروب الوهابية.
- (٢) تحالف على بك الكبير مع محمد أبو الذهب وأخضع الحجاز لنفوذه.
- (٣) أول من لقب بلقب الخديو هو إبراهيم باشا.
- (٤) تم إلغاء ديوان المدارس في عهد عباس باشا الأول.

(١) ما النتائج التي ترتبت على ... ؟

- (١) اغتيال السير لي ستاك. (٢) حادث ٤ فبراير ١٩٤٢م. (٣) مذبحه القلعة.
- (٤) معارضة محمد فريد مشروع مد امتياز قناة السويس.
- (ب) اكتب ما تشير إليه كل عبارة من العبارات الآتية :
- (١) تصريح أصدرته بريطانيا بعد فشل مفاوضات عدلي يكن.
- (٢) نص على انفراد إنجلترا بمصر مقابل انفراد فرنسا بمراكش.
- (٣) انقلب على الحركة الوطنية في عهد كفاح محمد فريد.
- (٤) معاهدة تحالفت فيها أوروبا مع الدولة العثمانية ضد محمد علي.
- (ج) ماذا كان يحدث إذا : قبلت إنجلترا تنفيذ اتفاقية العريش ١٨٠٠م ؟