

## تدريبات النظام الجديد (اسئلة التابلت)

### اولا : سؤال و جواب

(س١) وضع اوجه الاختلاف بين مفهوم الجغرافيا قديما و مفهوم الجغرافيا حديثا ؟

**الإجابة :**

**مفهوم الجغرافيا قديما :** حيث كان يعتمد على وصف الرحالة وتسجيل مشاهداتهم عن البلاد والمناطق التي يزورونها  
**مفهوم الجغرافيا حديثا :** يعتمد على دراسته و تحليل الظواهر الطبيعية والبشرية على سطح الارض وتوضيح العلاقات المكانية المتبادله فيما بينها

(س٢) اثر زحف المباني على المناطق الزراعيه احد مجالات دراسته . . .

○ جغرافية السكان ○ جغرافية العمران ○ الجغرافيا السياسيه ○ الجغرافيا الاقليميه

**الإجابة :**

**جغرافيه العمران :** لان جغرافية العمران تهتم بدراسه العمران بانواعه الريفي والحضري والبدوي على سطح الارض و دراسته المشكلات الموجوده بها وكيفيه حلها

(س٣) دراسته توزيع الغابات والحشائش في العالم ضمن اهتمامات . . .

○ الجيومورفولوجيا ○ الجغرافيا الاقتصادية ○ الجغرافيا المناخيه ○ الجغرافيا الحيويه

**الإجابة :**

**الجغرافيا الحيويه :** لان الجغرافيا الحيويه تهتم بدراسه وتوزيع و تحليل التربه والنبات الطبيعي والحيوان البري

(س٤) في الخريطة التاليه وضع اساسيات الخريطة الموجوده بها

واساسيات الخريطة الناقصه منها . . .

**الإجابة :**

◀ اساسيات الخريطة الموجوده بها . . .

(١) اطار الخريطة

(٢) الاحداثيات

◀ اساسيات الخريطة الناقصه منها . . .

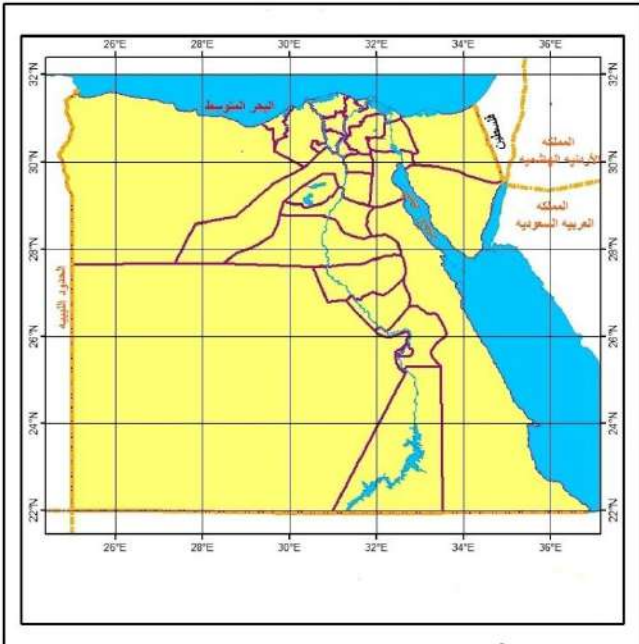
(١) اتجاه الشمال

(٢) مقياس الرسم

(٣) المصدر

(٤) عنوان الخريطة

(٥) مفتاح الخريطة



(س٥) حدد اوجه التشبه والاختلاف بين . . . الصور الجوية والمرئيات الفضائيه

المرئيات الفضائيه	الصور الجوية	اوجه التشبه
يتم التقاطها بواسطه مستشعرات تثبت بالاقمار الصناعيه	يتم التقاطها بواسطه كاميرات خاصه تثبت بجسم طائره تلتقط من ارتفاعات قليله ترسم بمقاييس رسم كبيره الى متوسطه	اوجه التشبه
تلتقط من ارتفاعات عاليه ترسم بمقاييس رسم صغيره		اوجه الاختلاف

## اسئلة مستويات فكر عليا

س١) ينطبق مفهوم الجغرافيا قديما فقط على دراسة . . .

- توزيع وتحليل التربة والنبات الطبيعي والحيوان البري
- الأشكال التضاريسية الرئيسية على سطح الأرض
- المقومات الجغرافية للدولة واثار ذلك في علاقاتها الدولية
- المناخ واثاره ذلك على الانسان وانشطته

س٢) دراسة الموارد المتاحة واستنباط اساليب انتاج جديده تتضمنه . . .

- الجغرافيا الاقليمية
- الجغرافيا الحيوية
- جغرافيه العمران
- الجغرافيا الاقتصادية

س٣) يمكن تحديد موقع ما تحديدا دقيقا باستخدام الخريطة من خلال . . . .

- اتجاه الشمال
- مصدر الخريطة
- احداثيات الخريطة
- مقياس الرسم

مرئية فضائية لتنوع الالوان باختلاف الصخور



س٤) توضح المرئيه الفضائيه التي امامك احد تطبيقات الاستشعار من بعد وهو . . .

- دراسة الموارد الطبيعيه
- الدراسات العمرانيه
- المجال العسكري
- الملاحة الجويه

س٤) دراسة اسباب توزيع الاهرامات في مصر من ( الفيوم الى الجيزه ) يقع ضمن . . . .

- الجغرافيا الاقتصادية
- جغرافيه العمران
- الجغرافيا السياسيه
- الجغرافيا التاريخيه



س٥) المرئيه الفضائيه التي امامك توضح احد مجالات اهتمام . . .

- جغرافيه العمران
- الجغرافيا الحيويه
- جغرافيه التضاريس
- الجغرافيا الاقتصادية

س٦) حدد اوجه الشبه والاختلاف بين . . .

جغرافيه التضاريس والجيومورفولوجيا

س٧) ما علاقه بين . . . التقنيات الحديثه والمحاصيل الزراعيه

س٨) وضح كيف يمكن . . .

تحقيق الحمايه للحدود السياسيه للدول من خلال التقنيات الحديثه

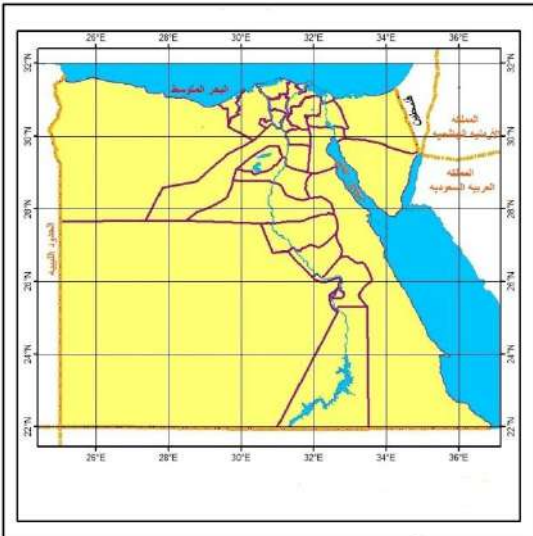
س٩) وضح اوجه الارتباط بين . . .

التنميه الاقتصاديه و نظم المعلومات الجغرافيه

س١٠) من خلال الخريطة التي امامك . . .

- أ - حدد موقع مصر الفلكي
- ب - الاساسيات التي تنقصها الخريطة

س١١) حدد اوجه الاختلاف بين . . . الخريطة والصوره الجويه



## تدريبات النظام الجديد (اسئلة التابلت)

### اولا : سؤال و جواب

(س١) تمتد سياده مصر الى خارج اراضيها عند الحد . . .

○ الشمالي الشرقي ○ الجنوبي ○ الغربي ○ الشمالي

**الإجابة :**

الشمالي . . . بسبب وجود المياه الاقليميه التابعه للسياده المصريه والتي تمتد لمسافه داخل البحر بموازاه الساحل الجنوبي للبحر المتوسط

(س٢) وجد اقصى امتداد شرقى لمصر عند مدينه . . .

○ نوبيع ○ حلايب ○ طابا ○ رفح

**الإجابة :**

حلايب : بمراجعه خريطه موقع مصر الفلكي والجغرافي نلاحظ ان مدينه حلايب توجد بالقرب من خط طول ٣٧ درجه شرقا وهو اقصى امتداد شرقى لمصر

(س٣) وضع كيف اضاف وجود نهر النيل بمصر من الاثير الاقليمى لها ؟

**الإجابة :**

أدى وقوع مصر في شمال حوض نهر النيل الى اكتشاف منابع النيل انتقال المؤثرات الحضاريه من دول حوض البحر المتوسط شمالا لوسط افريقيا عبر السودان

(س٤) ما العلاقه بين : منطقه الخليج العربى و اهميه موقع مصر الجغرافى ؟

**الإجابة :**

زادت اهميه قناه السويس كمر ملاحى بعد اكتشاف واستخراج البترول في منطقه الخليج العربى حيث يتم نقله الى اوروبا وامريكا الشماليه عبر قناه السويس مما زاد من اهميه موقع مصر الجغرافى

### اسئله مستويات فكر عليا

(س١) في ضوء دراستك للموقع الفلكي المصري تشرق الشمس اولا على مدينه . . .

○ رفح ○ طابا ○ حلايب ○ بورسعيد

(س٢) باستخدام خريطه الموقع الفلكي والجغرافى لمصر تتوقع ان يتقاطع مدار السرطان مع خط طول ٣٢ درجه شرقا في . . .

○ الصحراء الغربيه ○ الصحراء الشرقيه ○ الدلتا ○ شبه جزيره سيناء

(س٣) اذا كنت عند نقطه التقاء دائره عرض ٢٩ درجه شمالا وخط طول ٢٥ درجه شرقا فانك تقترب من واحه . . .

○ الخارجه ○ سيوه ○ الفرافره ○ الداخلة

(س٤) لعبت مصر دور الوسيط بين دول اوروبا و دول وسط افريقيا بفضل وجود . . .

○ قناه السويس ○ خليجي العقبه والسويس ○ بحيره ناصر ○ نهر النيل

(س٥) تجاور مصر ثلاث دول عربيه عند حدها . . .

○ الشرقى ○ الجنوبى ○ الغربى ○ الشمالى

س٦) يرى جمال حمدان أن مصر بسواحلها قوة بحر في ضوء هذه العبارة وضح ...  
كيف استفادت مصر بهذه القوة في زياده مواردها ؟

س٧) ما العلاقة بين ... حركه الملاحة العالميه و موقع مصر الجغرافي ؟

س٨) من وجهه نظرك ... ما اكثر حدود مصر قوة ومناعه ؟

س٩) في رايك ما الاثر المتوقع حدوثه ... كنتيجة افتتاح قناة السويس الجديده ؟

س١٠) برهن علي صحة العبارة الاتيه ... تم استثمار موقع مصر اقتصاديا بعد الفتح العربي لها ؟

س١١) حدد اوجه الشبه والاختلاف بين ... الحد الجنوبي و الحد الغربي لمصر

س١٢) ما العلاقة بين ... اهميه موقع مصر الجغرافي والسلام الدولي ؟

س١٣) برهن علي صحة العبارة الاتيه ...

يتاثر الاقتصاد المصري بالعلاقات التجاريه بين دول الخليج العربي ودول اوربا وامريكا الشماليه

س١٤) كيف ... يمكن للقاره الافريقيه ان تساعد في التنمية الاقتصاديه لمصر ؟

س١٥) أمامك خريطة لمصر. اكتب ما تدل عليه الأرقام الآتية :

(١) دائرة عرض .....

(٢) خط طول .....

(٣) البحر .....

(٤) البحر .....

(٥) خليج .....

(٦) دولة .....

(٧) دولة .....

(٨) دولة .....

(٩) ممر ملاحى .....

(١٠) مدينة .....

(١١) مدينة .....

(١٢) مدينة .....

(١٣) جبل .....

## تدريبات النظام الجديد (اسئلة التابلت)

### اولا : سؤال و جواب



س١ الخريطة التي امامك تمثل منطقة ينتشر بها تكوينات الزمن . . .  
☐ الاول ☐ الثاني ☐ الثالث ☐ الرابع

الإجابة :

الرابع : لان الخريطة المقابلة تمثل منخفض الفيوم والذي ترجع تكويناته الى الزمن الرابع

س٢ تتشابه الواحات البحرية بالصحراء الغربية و هضبه العبايده بالصحراء الشرقيه في . . .  
☐ انتمائها للزمن الاركي ☐ وجود الابار والعيون بها  
☐ استخدام صخورها في اغراض البناء ☐ وجود تكوينات الزمن الثالث

الإجابة :

وجود الابار والعيون بها : حيث تحتوي صخور كل من الواحات البحرية و هضبه العبايده على الحجر الرملي النوبي والذي يحتوي على خزانات المياه الجوفيه والتي يحصل عليها من عن طريق الابار والعيون

س٣ بم تفسر : تنوع الصخور في الاراضي المصريه ؟

الإجابة :

بسبب تنوع الازمنه والعصور الجيولوجيه التي مر بها سطح مصر الى جانب تعرضه لعوامل باطنيه و عوامل التعريه الخارجيه اثرت في تشكيل وتنوع تكوينات صخوره

س٤ ماذا يحدث اذا : كانت معظم التكوينات الجيولوجيه للاراضي المصريه تابعه للزمن الاركي ؟

الإجابة :

- اصبحت معظم التكوينات الصخرية بمصر تحتوي على الجرانيت والبازلت وزاد انتاج المعادن الفلزيه مثل الحديد والذهب والمنجنيز  
 - اختفى النشاط الزراعي لعدم وجود تربه طينيه خصبه  
 - اختفت خامات الفوسفات و مصائد البترول



س٥ نتجت الظاهره الطبيعيه التي امامك عن . . .  
☐ التداخلات البركانيه ☐ التعريه الهوائيه ☐ التعريه البحريه ☐ الالتواءات

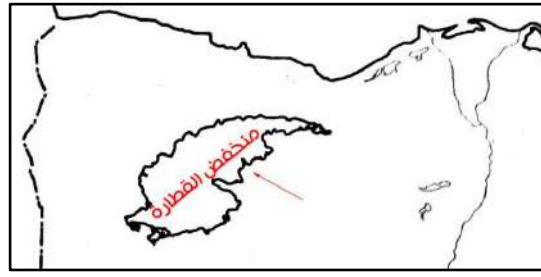
الإجابة :

التعريه الهوائيه : لان الشكل الموجود هو صخور تم نحتها بواسطه الرياح التعريه الهوائيه

س٦ دلل على صحه العبارة الاتيه : تشهدت مصر نشاطا بركانيا خلال بعض العصور الجيولوجيه التي مرت بها

الإجابة :

حيث تظهر طفوح البازلت البركانيه بجبل قطراني شمال الفيوم والتي تدل على تعرض هذه المنطقه لحدوث اندفاعات وتداخلات بركانيه مصاحبه لحركات صدعيه



س٧) وضع كيف . . .

تضافرت العوامل الباطنية والخارجية في تكوين الظاهره المشار اليها امامك

الإجابة :

تم حفر هذا المنخفض مثل باقي منخفضات الصحراء الغربيه عن طريق . . .  
الصدوع عوامل باطنية والتعريه الهوائيه بفعل الرياح عوامل خارجيه

## اسئله مستويات فكر عليا



س١) امامك صورته لاحد الكهوف الموجوده في بعض الهضاب المصريه

والتي تثبت تعرض مصر لـ . . .

- فترات جفاف ○ فترات مطيره
- نشاط بركاني ○ فترات جليديه

س٢) تنتشر الصخور الناريه والمتحوله في . . .

- هضبه العبابده ○ هضبه التيه
- جبل العوينات ○ جبل المغاره

س٣) من المتوقع تكون الظاهره التي امامك في عصر . . .

- البلايستوسين
- الايوسين
- السيلوري
- الاوليجوسين



س٤) الرؤوس الارضيه والخلجان المنتشره على سواحل مصر الشماليه تنتمي الى الزمن الجيولوجي . . .

- الاركي ○ الثاني ○ الثالث ○ الرابع

س٥) انفصلت مصر عن شبه الجزيره العربيه في الزمن الجيولوجي . . .

- الاول ○ الثاني ○ الثالث ○ الرابع

س٦) يظهر اثر الصدوع بشكل ملحوظ في . . .

- الوادي ○ الصحراء الشرقيه ○ الدلتا ○ الصحراء الغربيه

س٧) يظهر اثر حركات الضغط الجانبيه القادمه من الشمال الشرقي في . . .

- شمال سيناء ○ شمال الدلتا ○ جنوب سيناء ○ سواحل البحر الاحمر

س٨) من الظواهر التضاريسيه التي تكونت في مصر نتيجة لعاملين احدهما باطني والاخر خارجي . . .

- بحر الرمال العظيم ○ الطفوح البازلتيه بجبل قطراني ○ جبال البحر الاحمر ○ منخفض الخارجيه

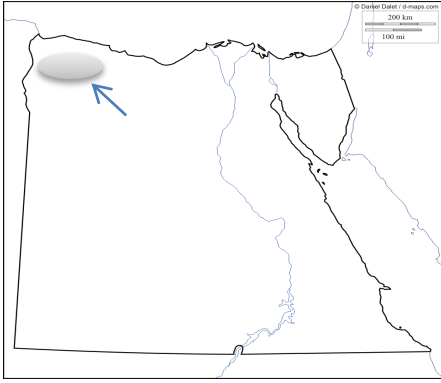
س٩) اذا كنت مقيم في الواحات البحريه فانت تعيش فوق ظاهره مرتبطه بـ . . .

- التصدع ○ الالتواءات ○ التعريه الهوائيه ○ التداخلات البركانيه

س١٠) اكثر الازمنه الجيولوجيه تاثيرا في النشاط الزراعي الزمن الجيولوجي . . .

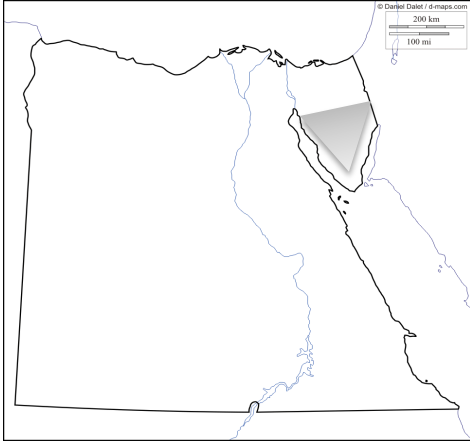
- الاول ○ الثاني ○ الثالث ○ الرابع





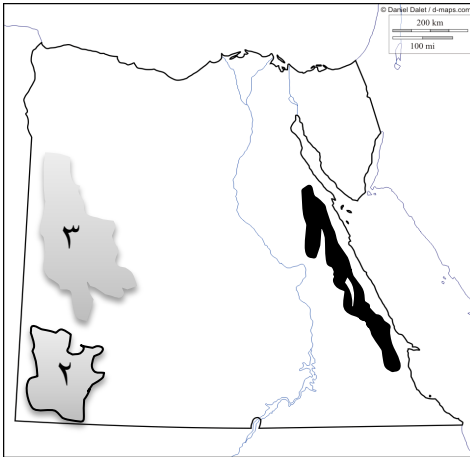
س١١) الظاهره المظللہ والمشار اليه على الخريطة تنتمي تكويناتها الى الزمن الجيولوجي . . .

- الاول
- الثاني
- الثالث
- الرابع



س١٢) التكوينات الجيولوجيه الموجوده على الخريطة تنتمي الى الزمن الجيولوجي . . .

- الاول
- الثاني
- الثالث
- الرابع



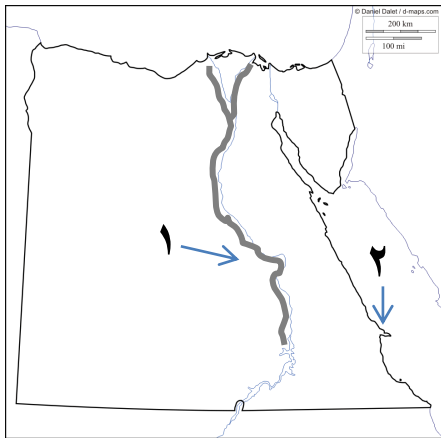
س١٣) من خلال الخريطة التي امامك . . .

أ) تنتمي تكوينات الجبال ( ١ ) الى الزمن الجيولوجي . . .

ب) تنتمي تكوينات الظاهره ( ٢ ) الى الزمن الجيولوجي . . . .

جـ) السبب الرئيسي لتكوين الظاهره ( ٣ ) هو . . . .

س١٤) يعد نهر النيل عامل مؤثر في تشكيل سطح مصر **وضح ذلك**




س١٥) في ضوء خريطة مصر المقابله

حدد اوجه الشبه والاختلاف بين المظهرين التضاريسيين (١) و (٢)

س١٦) رتب التكوينات الاتيه في اماكنها المناسبه بالقطاع الجيولوجي الذي امامك

ثم حدد نوع الصخور المفقوده :

- ◀ صخور الجرانيت
- ◀ صخور تحتوي على رواسب الفحم
- ◀ الحجر الجيري
- ◀ الرواسب الطينية



س١٧) في رأيك ما الاستفادة المتوقعة من : استغلال هضبه الجلف الكبير اقتصاديا ؟

س١٨) دلل على صحة العبارة التالية : ترتبط الزراعة في الصحراء الغربيه في تكوينات الزمن الجيولوجي الثاني

س١٩) حدد العلاقة بين : الالتواءات و تكوينات الزمن الجيولوجي الثاني بالصحراء الغربيه

س٢٠) استنتج : لماذا تعد تكوينات الزمن الجيولوجي الاول اقل التكوينات الجيولوجيه انتشارا في مصر ؟

س٢١) اثبت صحة العبارة التالية : يعد المناخ السائد حاليا بالمناطق الصحراويه المصريه مسؤولا عن تكوين بعض اشكال السطح فيها

س٢٢) تنتمي تكوينات هضبه المعازه بالصحراء الشرقيه الى الزمن الجيولوجي الثالث

في ضوء دراستك وضع ...  
نوع الصخور المتوقع وجودها في هذه الهضبه  
محددا الاثر الناتج عن ...  
تعرض بعض اجزاء هذه الهضبه للتعرية

س٢٣) ما العلاقة بين : الازمنه الجيولوجيه التي مرت بها مصر والاقتصاد المصري

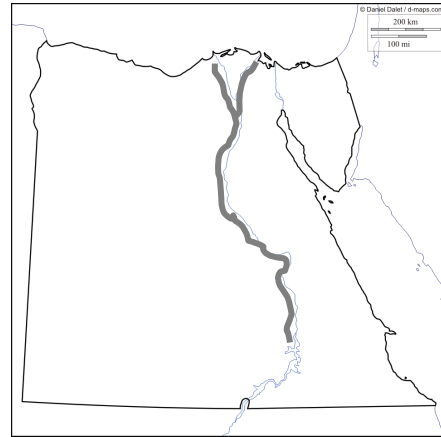


س٢٤) تنوع التكوين الجيولوجي للقسم التضاريسي الذي توضحه الخريطة

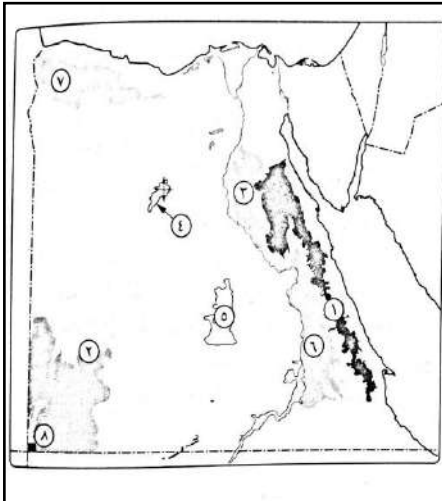
تؤكد اختلاف الازمنه الجيولوجيه التي مرت بمصر  
وضح ذلك ؟

س٢٥) ما العلاقة بين :

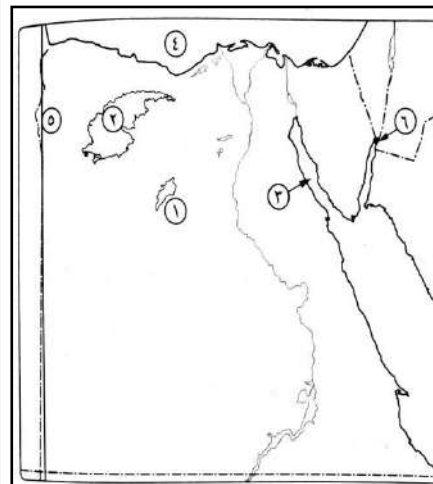
الزمن الجيولوجي الرابع و تركيز السكان في المنطقه المظلهه بالخريطه ؟



س٢٦)



أمامك خريطة لمصر، وضع  
ما تدل عليه الأرقام الآتية :  
(١) جبال بها تكوينات الزمن  
الأزكى .....  
(٢) هضبة بها تكوينات الزمن  
الثاني .....  
(٣) هضبة .....  
(٤) قبو .....  
(٥) منخفض .....  
(٦) هضبة .....  
(٧) هضبة .....  
(٨) جبل .....

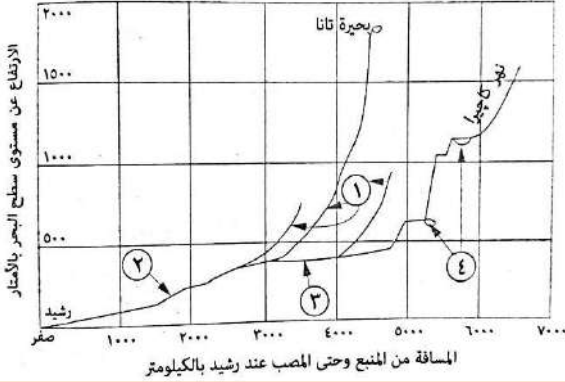


أمامك خريطة صماء لمصر،  
وضح ما تدل عليه الأرقام  
التي عليها :  
(١) قبو .....  
(٢) منخفض .....  
(٣) خليج .....  
(٤) البحر .....  
(٥) خط طول .....  
(٦) مدينة .....



## تدريبات النظام الجديد (اسئلة التابلت)

### اولا : سؤال و جواب



(س١) امامك قطاع طولي لنهر النيل اكتب الارقام التي تدل على كل مما ياتي . . .

- (أ) المنابع الحبشية . . . . . (١)  
 (ب) المنابع الاستوائية . . . . . (٤)  
 (ج) وادي النيل الادنى . . . . . (٢)  
 (د) النيل الابيض . . . . . (٣)

(س٢) فسر : تظهر تكوينات الزمن الاركي في مياه نهر النيل بمصر الى الان ؟

**الإجابة :**

بسبب وجود صخور الجندل الاول في القطاع الجنوبي من النيل و التي نتجت عن حركات التصدع بالمنطقة ولم تستطع مياه نهر النيل نحتها لانها صخور نارية صلبة

(س٣) ما العلاقة بين : سقوط الامطار على جبال البحر الاحمر ونهر النيل في مصر الان

**الإجابة :**

يجري نهر النيل في مصر دون ان يتلقى اية مياه تذكر باستثناء السيول التي قد تصل اليه عبر الاودية القادمه من الصحراء الشرقيه عقب سقوط الامطار على جبال البحر الاحمر

(س٤) برهن على صحة العبارة الاتيه : اختلفت منابع نهر النيل في مصر باختلاف الازمنه الجيولوجيه

**الإجابة :**

بدا نهر النيل بشق مجراه فوق الاراضي المصريه في اواخر عصر الميوسين بالزمن الجيولوجي الثالث واقتصرت منابعه على جبال البحر الاحمر في مصر وفي اوائل عصر البلايستوسين حدثت حركات ارضيه مهدت للروافد الحبشيه والاستوائيه التدفق في اتجاه الشمال والاتصال بنهر النيل في مصر

(س٥) للعامل البشري دور مهم في بقاء ظاهرة البحيرات الشماليه بمصر برهن علي صحة العبارة السابقة

**الإجابة :**

حيث يقوم الانسان بتطهير الفتحات (البواغيز) التي تصل البحر المتوسط بالبحيرات الشماليه من الرمال للحفاظ على استمرار المياه بالبحيرات

(س٦) استنتج : اهميه بحيره قارون بالنسبه للاراضي الزراعيه التي حولها ؟

**الإجابة :**

تعتبر بحيره قارون اكثر منطقه منخفضه في منخفض الفيوم لذلك تعد مصرف لمياه الري الزائده عن حاجه الاراضي الزراعيه التي حولها

(س٧) اكثر الاجزاء ارتفاعا في الصحراء الغربيه يوجد في الركن . . .

○ الشمالى الغربى ○ الجنوبي الغربى ○ الشمالى الشرقى ○ الجنوب الشرقى

**الإجابة :**

الجنوبي الغربى بسبب وجود جبل العوينات الذي يصل ارتفاعه لاكثر من ٢٠٠٠ متر

**س٨)** تكون كل من غرد ابو المحاريق و بحر الرمال العظيم في الزمن الجيولوجي . . .  
 ○ الاول ○ الثاني ○ الثالث ○ الرابع

**الإجابة :**

**الرابع :** لنشاط (الرياح الشماليه الغربيه) كعامل نحت ونقل وارساب في المناطق الصحراويه اثناء فترات الجفاف التي سادت الزمن الجيولوجي الرابع ومستمره حتى الان

**س٩)** حدد اوجه الشبه والاختلاف بين الهضبه الوسطى و هضبه مارمريكا بالصحراء الغربيه

**الإجابة :**

الهضبه الوسطى	هضبه مارمريكا	
اوجه الشبه	كلاهما تنتمي لتكوينات الزمن الجيولوجي الثالث	
اوجه الاختلاف	يوجد بها العديد من الاشكال الرملية مثل غرد ابو المحاريق بحر الرمال العظيم بها منخفضات مثل الواحات البحريه والفرافره	سطحها صخري خالي تقريبا من الرواسب الرملية خاليه من المنخفضات الصحراويه

**س١٠)** تدل رأس بناس و رأس حدريه المميزه لساحل البحر الأحمر على وجود . . .

○ تدخلات بركانية ○ تعرية بحرية ○ تعرية هوائية ○ تصدع و انكسار

**الإجابة :**

تعرية بحرية بسبب ان رأس بناس و رأس حدريه تكونا نتيجة عمليات النحت و النقل و الإرساب التى تحدث بفعل الأمواج والتيارات البحرية و المد و الجزر و التى تعمل على تشكيل السواحل وتكوين الشواطئ

**س١١)** حدد اوجه الشبه والاختلاف بين الهضبه العباددة و هضبه المعازة بالصحراء الشرقية

**الإجابة :**

الهضبه العباددة	هضبه المعازة	
اوجه الشبه	يقطعهما أودية جافه حيث يقطع هضبه العباددة وادى الجمال ويقطع هضبه المعازة وادى الأسيوطى	
اوجه الاختلاف	- تشغل الجزء الجنوبي من الصحراء الشرقية - تنتمي تكويناتها للزمن الجيولوجي الثانى	- تشغل الجزء الجنوبي من الصحراء الشرقية - تنتمي تكويناتها للزمن الجيولوجي الثالث

**س١٢)** استنتج : التكوين الجيولوجي لجبل الحلال و المغارة

**الإجابة :**

يعد جبل الحلال و المغارة من التلال القبابية التى نتجت عن حدوث حركات ضغط جانبية قادمة من الشمال الشرقى أدت الى حدوث التواءات خفيفة لتظهر على شكل قباب

**س١٣)** وضح : الأهمية الاقتصادية لكل من السبخات و الكثبان الرملية شمال شبة جزيرة سيناء

**الإجابة :**

تتمثل الأهمية الاقتصادية لـ :

- السبخات : عندما تجف صيفا و تتحول الى مسطحات ملحية يمكن استخراج الأملاح منها
- الكثبان الرملية : تعد خزانات طبيعية لمياه الأمطار و التى تستغل فى الزراعة

**س١٤)** حدد أوجه الاختلاف بين : الساحل الغربى لخليج العقبة و الساحل الشرقى لخليج السويس

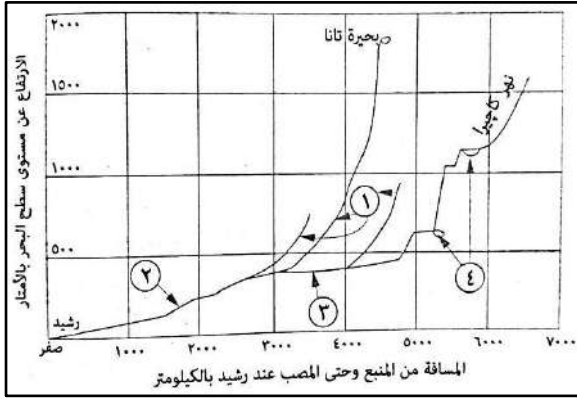
**الإجابة :**

الساحل الغربى لخليج العقبة	الساحل الشرقى لخليج السويس
سهل ساحلى ضيق ينحدر المثلث الجبلى الجنوبى نحوه بشدة	سهل ساحلى متسع يعرف بسهل القاع ينحدر المثلث الجنوبى نحوه تدريجيا

## اسئلة مستويات فكر عليا

- س١)** تجري قطاعات نهر النيل بشكل عام من الجنوب الى الشمال باستثناء ...  
 ○ بحر الجبل ○ بحر الزراف ○ بحر العرب ○ نهر عطبرة
- س٢)** تعددت منابع نهر النيل في مصر في الزمن الجيولوجي ...  
 ○ الاول ○ الثاني ○ الثالث ○ الرابع
- س٣)** توجد صخور ناربه صلبه بمجرى نهر النيل في شمال ...  
 ○ ثنيه قنا ○ بحيره السد العالي ○ بني سويف ○ الجيزه
- س٤)** تقع هضبه مارمريكا الى الشمال مباشره من منخفضي ...  
 ○ سيوة والبحريه ○ الخارجه والداخله ○ القطاره والداخله ○ القطاره وسيوة
- س٥)** اشهر الكثبان الطويله في صحاري مصر توجد فوق ...  
 ○ هضبه مارمريكا ○ الهضبه الوسطى بالصحراء الغربيه ○ هضبه العجمه ○ هضبه العباديه الرمليه
- س٦)** من الاوديه الجافه قليله الانحدار وطويله المجرى وادي ...  
 ○ الجمال ○ علم ○ العلاقي ○ حوضين
- س٧)** يتشابه الساحل الممتد من شرق بورسعيد الى غرب الاسكندريه مع خط الساحل الممتد من راس خليج السويس شمالا الى راس حدرية جنوبا في وجود ...  
 ○ الرؤوس والخلجان ○ الخلجان والبحيرات ○ الشروم والبحيرات ○ الخلجان والجبال
- س٨)** غرد ابو المحاريق احد الاشكال الرمليه المسؤوله عن تكوين الرياح ...  
 ○ الشماليه الشرقيه ○ الجنوبيه الغربيه ○ الجنوبيه الشرقيه ○ الشماليه الغربيه
- س٩)** من المنابع التي اقتصرت عليها مياه نهر النيل في اواخر الزمن الجيولوجي الثالث ...  
 ○ وادي علم ○ قنا ○ الجمال ○ وردان
- س١٠)** اكثر الاجزاء ارتفاعا في الصحراء الغربيه توجد في الركن ...  
 ○ الشمالي الغربي ○ الشمال الشرقي ○ الجنوبي الغربي ○ الجنوب الشرقي
- س١١)** من الاوديه الجافه قصيره المجرى و شديده الانحدار وادي ...  
 ○ حوضين ○ العريش ○ قنا ○ الاسيوطي
- س١٢)** كل من المناطق الاتيه يتوقع قيام الزراعه فيها ما عدا ...  
 ○ هضبه العباديه بالصحراء الشرقيه ○ هضبه مارمريكا بالصحراء الغربيه ○ الساحل الشمالي شبه جزيره سيناء ○ اقليم مريوط بالصحراء الغربيه
- س١٣)** تعد الظاهره الجغرافيه التي امامك احد خصائص ...  
 ○ الدلتا ○ الصحراء الغربيه ○ منخفض الفيوم ○ الصحراء الشرقيه
- س١٤)** اذا سرت في رحله في خط مستقيم من راس محمد جنوب سيناء الى مدينه العريش على البحر المتوسط ...  
 حدد اهم اشكال السطح الرئيسيه التي تمر بها في هذه المرحله





س١٥) امامك قطاع طولي لنهر النيل . . .

وضح اي الاقسام اكثر اهميه لمائيه نهر النيل في مصر

س١٦) **دلل على صحة العبارة الاتيه :**

بدا النيل في مصر منفصلا عن باقي اقسامه  
في شرق ووسط افريقيا حتى بدايه الزمن الجيولوجي الرابع

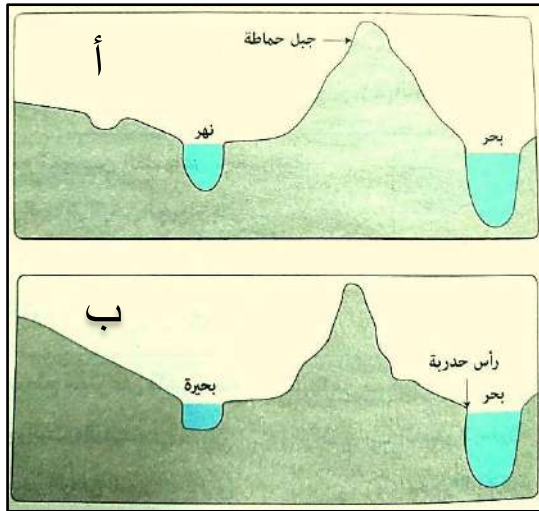
س١٧) **حدد تقييم لاثـر :** بناء السد العالي اقتصاديا على اراضي الوادي والدلتا

س١٨) **حدد اوجه الشبه والاختلاف بين . . .** الوادي و الدلتا

س١٩) **ماذا يحدث اذا . .** لم تتأثر هضبه الحبشه وهضبه البحيرات الاستوائيه بالحركات الارضيه التي حدثت اثناء عصر البلايستوسين

س٢٠) **برهن علي صحة العبارة الاتيه :** يلعب بوغاز اشتوم الجميل دورا مهما بالنسبه لبحيره المنزله

س٢١) **ايد صحة العبارة التاليه :** يعد منخفض الفيوم امتداد طبيعي لوادي النيل



س٢٢) امامك قطاعين تضاريسيين

يمتدان من البحر الاحمر الى حدود مصر الغربيه

**حدد اوجه الاختلاف بينهما . . . ثم . . .**

**استنتج موقعهما في مصر**

س٢٣) **ما الـاثـار المترتبـه على :**

وجود اراضي ملحيه منخفضه

بالقرب من المسطحات المائيه بمصر؟

س٢٤) **اكتب اقتراحاتك :**

للاستفاده من الظواهر التضاريسيه

التي تتميز بها الصحراء الشرقيه

س٢٥) **حدد اوجه الاختلاف بين :** وادي وتير ووادي فيران

س٢٦) **الى اي الاقسام التضاريسيه تنتمي الظواهر الاتيه . . .**

- راس حدربة - جزيره القرن الذهبي - راس رشيد

س٢٧) يرى البعض ان الكسبان الرمليه لها فوائد عديده بينما يرى اخرون انها تسبب اضرار كثيره **في ضوء العبارة السابقه**

**حدد الـاثـار الايجابيه و الـاثـار السلبيه** لوجود الكسبان الرمليه في شبه جزيره سيناء

س٢٨) **دلل على صحة العبارة :** الاتيه تتأثر مائيه نهر النيل في مصر بالظروف المناخيه و التضاريسيه للصحراء الشرقيه

## تدريبات النظام الجديد (اسئلة التابلت)

### اولا : سؤال و جواب

**س١) ما النتائج المترتبة على : تاثير مصر صيفا بمناطق الضغط الجوي فوق شبه الجزيرة العربية ؟**  
**الإجابة :**

يؤدي ذلك الى ارتفاع درجه الحراره والرطوبه بها

**س٢) امامك مجموعه من المدن المصريه تعرف عليها ثم اجب عما ياتي :**

- الخارجه - طنطا - القاهره - السلوم  
أ) رتب هذه المدن حسب نسب الرطوبه النسبيه من الاعلى الى الادنى  
ب) اي من هذه المدن تتسم بقاريه المناخ ؟ مبينا اثر ذلك صيفا وشتاء  
**الإجابة :**

أ) ١- السلوم ٢- طنطا ٣- القاهره ٤- الخارجه

ب) تعد مدينه الخارجه من المناطق الداخليه الصحراويّه التي تتسم بقاريه المناخ و يظهر اثر ذلك في ارتفاع درجات الحراره بها ارتفاعا كبيرا في فصل الصيف كما تنخفض بها درجات الحراره بوضوح في فصل الشتاء بسبب الموجات الباردة

**س٣) من خلال البيانات التي امامك للمدينتين (س و ص) . . .**

**استنتج ايهما المدينه الداخليه وايهما المدينه الساحليه مع ذكر السبب**

المدينة	درجة الحرارة القصوى	
	صيفا	شتاء
س	٤٠	٦
ص	٢٥	١٢

**الإجابة :**

تعد ( ص ) المدينه الساحليه لان المدى الحراري السنوي بها قليل بينما (س) تعد مدينه داخلية لان المدى الحراري السنوي بها كبير

**س٤) فسر : انخفاض درجات الحراره نسبيا في كل من كفر الشيخ وسانت كاترين خلال فصل الصيف؟**  
**الإجابة :**

تنخفض درجات الحراره في كفر الشيخ لتأثرها بالبحر المتوسط كما تنخفض درجات الحراره في سانت كاترين بسبب ارتفاع السطح

**س٥) ما النتائج المترتبة على : حركه الشمس الظاهريه صيفا بالنسبه لمصر ؟**  
**الإجابة :**

يؤدي ذلك الى:

- ارتفاع درجات الحراره بصفه عامه
- ارتفاع درجات الحراره كلما اتجهنا جنوبا وتصبح المناطق الواقعه جنوب اسوان اكثر المناطق حراره
- تكون منطقه الضغط منخفض فوق مصر **وبالتالي:**
  - هبوب الرياح الشماليه التجاريه القادمه من ناحيه البحر المتوسط و هي رياح ملطفه لدرجه الحراره
  - هبوب الرياح الشماليه الشرقيه من اسيا

**س٦) برهن علي صحه العبارة الاتيه : على الرغم من ان فصل الخريف افضل فصول السنه مناخا بمصر الا انه به بعض الفترات تمثل خطوره**  
**الإجابة :**

حيث انه قد تسقط الامطار في فصل الخريف فوق جبال البحر الاحمر وجبال جنوب سيناء وعادة ما تكون سيول متدفقه لعهه ايام وتسبب الكثير من الاثار التدميريّه

**س٧)** الرياح احد عناصر المناخ الرئيسيه ويختلف تأثيرها من فصل الي اخر **في ضوء هذه العبارة وضح** انواع الرياح التي تهب في شهري مايو ويناير على مصر مبينا اثر هبوبها **الإجابة :**

في شهر مايو تهب : **رياح شماليه** وهي رياح ملطفه لدرجه الحراره  
 ▪ **رياح الخماسين** المحمله بالرمال والأتربه  
 في شهر يناير تهب : **الرياح العكسيه الشماليه الغربيه** والتي تؤدي الى سقوط الامطار خاصة على المناطق الشماليه  
 ▪ **الرياح الشماليه التجاريه** والتي تؤدي الى انخفاض شديد في درجه الحراره

**س٧)** امامك شكل يوضح التدرج الحراري في بعض المناطق المصريه شتاء **من خلال دراستك انسب المدن الاتيه للمناطق المناسبه لها**

الطور - دمياط - سانت كاترين - القاهره **الإجابة :**

درجة الحرارة

١٨	<b>المنطقة (د)</b>
١٤	<b>المنطقة (ج)</b>
١٠	<b>المنطقة (ب)</b>
٦	<b>المنطقة (أ)</b>
صفر	

- منطقه الطور في المنطقه (د)  
 - منطقه دمياط في المنطقه (ج)  
 - مدينه سانت كاترين في المنطقه (أ)  
 - مدينه القاهره في المنطقه (ج)

## اسئلة مستويات فكر عليا

**س١)** تسقط الامطار بمصر في جميع الفترات الاتيه ولكنها تنظر في الفتره من . . .  
 ○ مارس: مايو ○ سبتمبر: نوفمبر ○ ديسمبر: فبراير ○ يونيو: اغسطس

**س٢)** تتميز مدينه بورسعيد ب . . .

○ قله المدى الحراري اليومي و السنوي ○ وقوعها في النطاق المداري الجاف  
 ○ قلة معدلات الرطوبه النسبيه ○ ارتفاع المدى الحراري الفصلى

**س٣)** من المتوقع ان توجد اقل معدلات الرطوبه النسبيه في مدينه . . .

○ السلوم ○ كفر الشيخ ○ قنا ○ الاسكندريه

**س٤)** تتعرض مصر في شهر ابريل لانخفاضات جويه قادمه من الغرب ينتج عنها هبوب . . .

○ رياح شماليه ○ الخماسين ○ شماليه تجاريه ○ عكسيه شماليه غربيه

**س٥)** تنخفض الرطوبه النسبيه في المناطق الداخليه ولكن تنكسر هذه القاعده صيفا عن طريق . . .

○ هبوب الرياح الشماليه التجاريه ○ تأثرها بالضغط الجوي فوق اسيا  
 ○ هبوب الرياح الشماليه الشرقيه من اسيا ○ تأثرها بالانخفاضات الجويه فوق البحر المتوسط

**س٦)** يتشابه المدى الحراري اليومي والسنوي في مدينتي . . . . .

○ الخارجيه والسويس ○ القاهره ودمياط ○ بورسعيد ومرسي مطروح ○ اسوان والجيزه

**س٧)** تزداد كميه المطر السنوي في فصل الشتاء خاصه في . . .

○ جنوب الدلتا ○ اقليم مريوط ○ ساحل البحر الاحمر ○ القاهره الكبرى



س٨) تتشابه مدينتي الغردقه والاسكندريه في . . .

○ ارتفاع المدى الحراري اليومي ○ المناخ القاري ○ ارتفاع معدلات الرطوبه النسبيه ○ التطرف الحراري

س٩) تتوقع ان يقل المدى الحراري اليومي والسنوي بصورة اكبر في مدينه . . .

○ السلوم ○ بني سويف ○ القصير ○ اسوان

س١٠) المدن الاتيه تقع ضمن النطاق المداري الجاف ما عدا . . .

○ اسوان ○ الفيوم ○ اسيوط ○ كفر الشيخ

س١١) اكثر مدن مصر انخفاضاً في درجه حراره خلال فصل الشتاء مدينه .....

○ سانت كاترين ○ القاهره ○ المنيا ○ كفر الشيخ

س١٢) تعبر الصوره المقابله عن احد العوامل المؤثره



في مناخ مصر التي توجد في . . .

○ شمالها  
○ جنوبها  
○ شرقها  
○ غربها

احد تتواطى مصر الشماليه

س١٣) البحر الاحمر منطقه مناخيه منعزله **فسر ذلك** . . . ؟

س١٤) **ماذا يحدث اذا :** هبت الرياح العكسيه الشماليه الغربيه على مصر في فصل الصيف

س١٥) **توقع** المناخ السائد في المنطقه التي امامك . . .

س١٦) للموقع الجغرافي لشبه جزيره سيناء اثر واضح على مناخها **وضح ذلك من وجهه نظرك**



س١٧) **فسر :** زياده المدى الحراري اليومي في مدينه قنا عن مدينه العريش

س١٨) على الرغم من هبوب الرياح الشماليه التجاريه على مصر صيفا وشتاء الا ان لها تاثير مختلف في الفصلين **ايد صدق العبارة**

س١٩) **وضح الاثر الناتج عن :** وقوع معظم مساحه مصر في النطاق المداري الجاف

س٢٠) تسقط الامطار في الاعتدالين على مرتفعات جنوب سيناء والبحر الاحمر في ضوء هذه العبارة

**حدد الاثار السلبيه الناتجه عن ذلك**

س٢١) **دلل :** على صحه العبارة الاتيه تعد الانخفاضات الجويه احد العوامل المؤثره في مناخ مصر

س٢٢) **استنتج :** اسباب ندرة سقوط الامطار على مصر في فصل الصيف

س٢٣) **ماذا يحدث اذا :** وقعت معظم مساحه مصر بين دائرتي عرض ٣٠ درجه ٤٥ درجه شمالا

س٢٤) يتسم شمال مصر باستواء السطح مما كان له الاثر على مناخها **وضح ذلك ؟**

س٢٥) **فسر:** اسباب اختلاف معدل الرطوبة النسبية في مدينه رشيد عن مدينه المنيا

س٢٦) **ما مقترحاتك :** للاستفادة من سيول فصلى الخريف والربيع

س٢٧) **فسر:** انخفاض درجة الحرارة نسبيا في مدينه الخارجه اثناء الليل صيفا

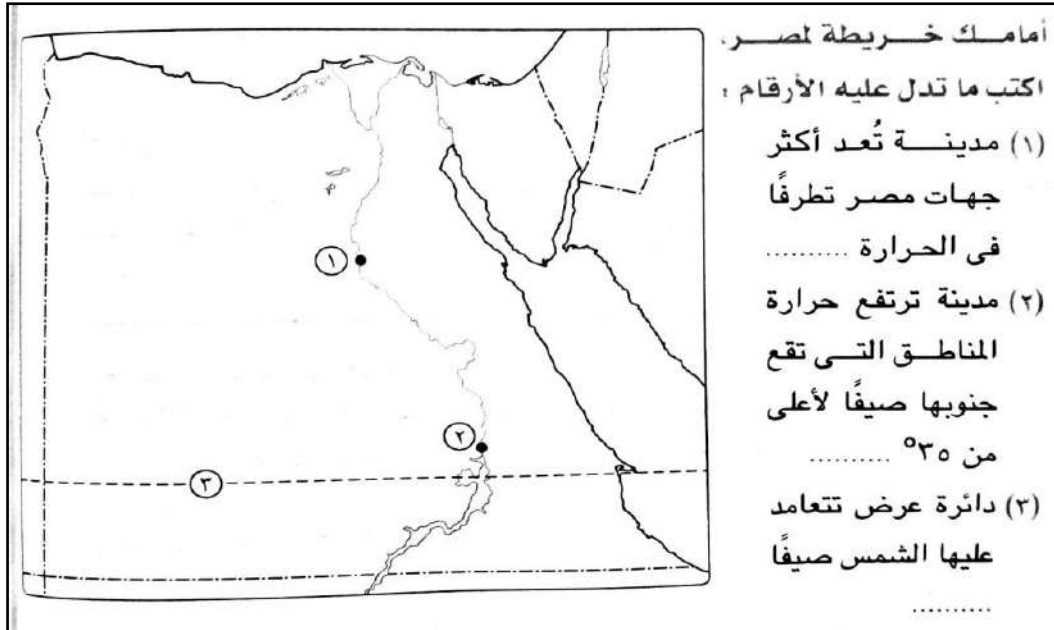
س٢٨) **دلل :** على صحة العبارة الاتيه لموقع مصر الجغرافي بين قارات العالم القديم اثرا على مناخها

س٢٩) **في رايك لماذا :** يعد فصل الخريف فصلا انتقاليه بين الصيف والشتاء

س٣٠) **حدد اوجه الاختلاف بين :** تاثير كل من البحرين الاحمر والمتوسط على مناخ مصر

س٣١) **استنتج :** اسباب التفاوت الكبير في درجات الحرارة بين الصيف والشتاء في سوهاج

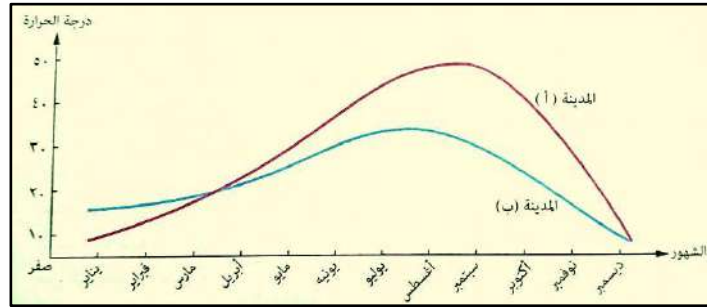
س٣٣)



## تدريبات النظام الجديد (اسئلة التابلت)

### اولا : سؤال و جواب

**س١)** امامك رسم بياني يوضح متوسط درجات الحرارة لمدينتين تقعان في اقليمين مناخيين مختلفين **اقرأ جيدا ثم اجب عما يلي:**  
استنتج الاقليم المناخي الذي تنتمي اليها المدينتين ( أ ) ، ( ب ) ثم حدد اوجه الاختلاف بين هذين الاقليمين المناخيين



**الإجابة :**

تنتمي المدينه ( أ ) للاقليم الصحراوى بينما تنتمي المدينه (ب) لاقليم البحر المتوسط

الاقليم الصحراوي	الاقليم البحر المتوسط	
- يسوده المناخ القاري فيكون صيفا اعلى اجزاء مصر حراره و شديد البروده ليلا في فصل الشتاء - ينذر به سقوط الامطار - تنخفض به معدلات الرطوبه صيفا	- اكثر الاقاليم اعتدالا في درجه الحراره - يقل المدى الحراري اليومي والسنوي لتأثير البحر المتوسط - اكثر اقاليم مصر مطرا نتيجة هبوب الرياح الغربيه العكسيه - ترتفع به معدلات الرطوبه وخاصه في الشتاء	اوجه الاختلاف

**س٢)** يختلف مناخ المناطق المرتفعه عن المناطق المنخفضه المجاوره بها . . . **طبق العبارة السابقه على محافظه جنوب سيناء**

**الإجابة :**

تعد سانت كاترين من المناطق المرتفعه و التي تنخفض الحراره بها الى اقل من ١٠ درجات صيفا وشتاء مقارنة بشرم الشيخ و هي منطقه ساحليه مجاوره لها والتي ترتفع بها درجات الحراره حيث تبلغ درجه الحراره الصغرى شتاء في سانت كاترين الى نحو ٣ درجه م وقد تتساقط عليها الثلوج بينما تصل في شرم الشيخ القريبه منها الى ١٤ درجه م

**س٣) وضع اثر . . .** زياده نسبه غاز الازون والميثان على الزراعه المصريه

**الإجابة :**

تؤدي زياده نسبه هذه الغازات الى ارتفاع درجات الحراره في العالم بصفه عامه وبالتالي في مصر والتي تؤثر سلبا على الزراعه **فتؤدي الى :**

- الحاجه لمزيد من مياه الري لمواجهة درجات الحراره المرتفعه
- حدوث انخفاض في انتاجيه بعض المحاصيل الشتويه التي تحتاج الى درجات حراره منخفضه
- يقابله ارتفاع في انتاجيه بعض المحاصيل الصيفيه



س٤) حدد العلاقة بين ... الغازات المنبعثة في الصورة التي امامك والمناطق المشار اليها في الخريطة المجاورة



الإجابة :

تؤدي الغازات المنبعثة من مداخل المصانع كما بالشكل السابق الى ارتفاع درجات الحرارة بصفه عامه والتي تؤدي الى:  
- غرق مساحات واسعه من الساحل الشمالي للدلتا نتيجة لارتفاع منسوب المياه في البحار والمحيطات  
- زياده معدلات تبخر مياه نهر النيل وفرعى دمياط ورشيد وبالتالي نقص كميات كبيره من المياه العذبه

## اسئلة مستويات فكر عليا

س١) توجد جميع الاقاليم المناخيه الاتيه في شبه جزيره سيناء ما عدا اقليم ...

○ مناخ البحر المتوسط ○ شبه الصحراوي ○ الصحراوي ○ المرتفعات

س٢) تنتمي منطقه الضبعه الى مناخ ...

○ الاقليم الصحراوي ○ اقليم المرتفعات ○ الاقليم شبه الصحراوي ○ اقليم البحر المتوسط

س٣) رغم ان الشتاء يعتبر فصل سقوط الامطار الرئيسي في مصر الا انه يندر سقوطها في مدينه ...

○ رفح ○ الأقصر ○ شبين الكوم ○ السويس

س٤) تقل معدلات الرطوبه النسبيه شتاء في مدينه ...

○ كفر الشيخ ○ طنطا ○ الفيوم ○ السلوم

س٥) في توقعاتك اي المدن الاتيه تسقط عليها الامطار الشتويه اولاً ...

○ طابا ○ طنطا ○ السويس ○ الجيزه

س٦) سوف تؤدي زياده معدلات التبخر في جنوب الدلتا الى ...

○ زياده انتاج المحاصيل الصيفيه ○ اختفاء الشواطئ الرملية  
○ انخفاض كميه المياه المطلوبه للري ○ زياده معدلات تكاثر الحشرات

س٧) في توقعاتك اي من المدن الاتيه قد تتعرض للاختفاء بعد مرور فتره من الزمن ...

○ المنيا ○ القاهرة ○ الفيوم ○ السلوم

س٨) يتسم شهر يوليو في مدينه سانت كاترين بـ ...

○ تساقط الثلوج ○ تكون السيول ○ الانخفاض النسبي لدرجة الحرارة ○ الارتفاع النسبي لدرجة الحرارة

س٩) من المناطق التي ترتفع بها معدلات الرطوبة صيفا . . . .

○ القصير ○ منخفض الخارجة ○ القاهرة الكبرى ○ سانت كاترين

س١٠) في رأيك : أي المناطق الآتية الأكثر تأثراً بزيادة معدلات التبخر مستقبلاً . . .

○ الدلتا ○ جنوب سيناء ○ إقليم مريوط ○ شمال سيناء

س١١) تتوقع أي المدن الآتية الأكثر مطراً في فصل الشتاء . . .

○ كفر الشيخ ○ المنيا ○ الباويط ○ اسيوط

س١٢) ينتمي إقليم مريوط في مصر إلى مناخ إقليم . . . .

○ المرتفعات ○ الإقليم الصحراوي ○ الإقليم شبه الصحراوي ○ إقليم البحر المتوسط

س١٣) تقل معدلات الرطوبة النسبية شتاء في المدن الآتية ما عدا . . . .

○ الفيوم ○ العريش ○ اسيوط ○ قنا

س١٤) تسقط الأمطار على مدينته مرسى مطروح شتاء . . . فسر ذلك

س١٥) يعد إقليم البحر المتوسط أكثر أقاليم مصر مطراً في ضوء العبارة السابقة حدد :

الآراء المقترحة لكيفية الاستفادة من مياه الأمطار

س١٦) تعد الأقصر من المدن التي ترتفع بها درجة الحرارة نهاراً في فصل الصيف لأكثر من ٤٠ درجة استنتج سبب ذلك

س١٧) رتب المدن الآتية حسب المدى الحراري بها ترتيباً تصاعدياً مع ذكر السبب . . .

▪ دمنهور ▪ اسوان ▪ بني سويف

س١٨) حدد الآثار الناتجة عن : التغير في الأحوال المناخية بالنسبة للساحل الشمالي لمصر

س١٩) ما مقترحاتك : للتغلب على ظاهره التغيرات المناخية؟

س٢٠) تتعدد الأقاليم المناخية في مصر في ضوء العبارة السابقة حدد:

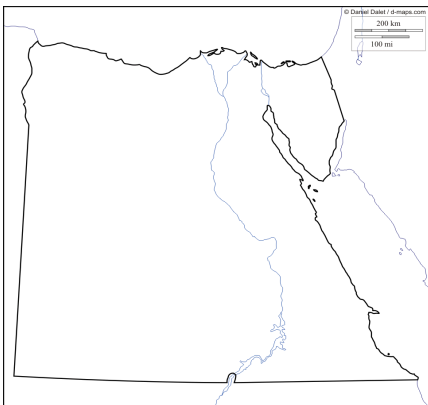
أي من الأقاليم المناخية الآتية تفضل أن تقيم مشروعك في المستقبل الإقليم الصحراوي أم إقليم المرتفعات ولماذا ؟  
موضحاً طرق الاستفادة الاقتصادية من هذا الإقليم

س٢١) في ظل التغيرات المناخية في العصر الحالي نجد ازِمات بيئية تنذر بالعديد من الكوارث في ضوء العبارة السابقة

حدد انعكاسات التغيرات المناخية على الأمن الغذائي في مصر

س٢٢) في خريطة مصر التي أمامك حدد عليها أي الأجزاء

سوف تكون الأكثر تأثراً بالتغيرات المناخية مع ذكر السبب



س٢٣) استنتج اسباب اختلاف الخصائص المناخية للمدن الاتيه رغم وقوعها في نفس الوحدة التضاريسيه  
\* العريش \* شرم الشيخ \* سانت كاترين

س٢٤) اذا كان متوسط درجة الحرارة لمدينه ما في فصل الصيف تتراوح بين ٢٦ درجة : ٢٨ درجة وتصل في بعض الايام الي اعلي من ٤٠ درجة في نفس الفصل في ضوء العبارة **وضح ..**  
ا) علام يدل هذا الاختلال الحراري  
ب) الاثار المتوقعه لذلك بالنسبه لصحه سكان المدينه

س٢٥) التغيرات المناخيه ظاهره محليه مرتبطه بالبيئه المصريه ... ما تقييمك للعباره السابقه مفسرا اجابتك ؟

س٢٦) شبه جزيره سيناء من المناطق التي قد تتعرض لآخطار التغيرات المناخيه مستقبلا  
في ضوء دراستك استنتج التأثيرات السلبيه المتوقعه عليها

س٢٧) ماذا يحدث اذا : حدثت تغيرات مناخيه ادت الى انخفاض درجات الحرارة عالميا؟

س٢٨) اللجنه الدوليه للتغيرات المناخيه منظمه بيئيه تابعه للامم المتحده مهتمه بصفه خاصه بمجال دراسة الاحتباس الحراري وتأثيراته  
في ضوء هذه العبارة اجب عما ياتي  
اذا كنت احد الافراد المنتمين لهذه اللجنه فما مقترحاتك التي تقدمها لتقليل اثر الاحتباس الحراري؟

س٢٩) ما رايك في العبارة التاليه مدلا على اجابتك ؟ تمر قناه السويس في اقليم مناخي واحد ؟

س٣٠) هل تتفق مع العبارة التاليه ولماذا صحاري مصر تمثل اقليما مناخيا واحدا؟

س٣١) في ضوء دراستك ايد صحه العبارة التاليه

بالرغم من اهميه الصناعه الا ان قد يكون لها جوانب سلبيه على اقتصاديات العديد من الدول

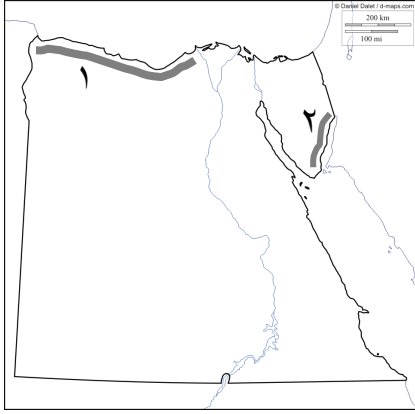
س٣٢) تتميز مصر بوجود اربعة اقاليم مناخيه مختلفه في خصائصها المناخيه . اي الاقاليم المناخيه تفضل ان تعيش فيها ولماذا ؟

س٣٣) تؤثر التغيرات المناخيه على المدى الطويل بدرجة كبيره على الانظمه الطبيعيه في ضوء هذه العبارة استنتج  
الاثر المتوقع للتغيرات المناخيه على المركب المحصولي لمصر في المستقبل



## تدريبات النظام الجديد (اسئلة التابلت)

### اولا : سؤال و جواب



**س١)** في ضوء الخريطة المقابلة اجب عما يلي . . .

- أ) حدد نوع النبات الطبيعي في المنطقة المشار إليها برقم (١)  
 ب) وضح من وجهه نظرك العلاقة بين المناخ والنبات الطبيعي في المنطقة المشار إليها برقم (٢)

**الإجابة :**

- أ) بعض النباتات العشبية الفقيرة  
 ب) المنطقة المشار إليها هي الساحل الشمالي الذي يتأثر مناخه بقربه من البحر المتوسط فيسقط عليه امطار شتويه مما يسمح بنمو الحشائش ويعتمد عليه في الرعى

**س٢)** تعد واحه سيوه من اغني مناطق مصر بالزيتون **في راك لماذا ينمو الزيتون بهذه المنطقة؟**

**الإجابة :**

بسبب توافر المياه الجوفيه بالواحه وقدره الزيتون على تحمل الظروف الصحراويه

**س٣)** **دلل على صحة العبارة الآتيه:** امتداد معظم مساحه مصر في النطاق المداري الجاف انعكس على الحياه الطبيعيه بها

**الإجابة :**

حيث نجد ان - معظم مساحه مصر تقع ضمن اقليم المناخ الصحراوي الذي كان له سبب في فقر النبات الطبيعي نظرا للظروف المناخيه القاسيه وقله المياه  
 - توجد انواع من الحيوانات البريه التي تستطيع التكيف مع الظروف المناخيه السائده مثل السلاحف البريه

**س٤)** المحميات الطبيعيه عباره عن مساحه من الارض تتمتع بالحمايه القانونيه . . . **ما اسباب ذلك؟**

**الإجابة :**

لان المحميات الطبيعيه تهدف الى صون وحمايه الحياه النباتيه والحيوانيه كما تعمل على حمايه بعض التكوينات الجيولوجيه والحفريات القديمه

**س٥)** تستخدم محميه نبق كشواطئ امنه للسياح لممارسه رياضه السباحه . . . **استنتج اثر ذلك علي الاقتصاد المصري**

**الإجابة :**

يؤثر ذلك ايجابيا علي الاقتصاد المصري من حيث زياده الدخل القومي

## اسئلة مستويات فكر عليا

- س١) ينمو في منطقة راس بناس نبات . . .  
 ○ السنط ○ المانجروف ○ التوت ○ الشيح
- س٢) اذا اردت دراسه خصائص بعض الصخور وانواعها وتأريخها فسوف تذهب الى محميه . . .  
 ○ بحيره البرلس ○ راس محمد ○ الغابه المتحجره ○ الزرانيق
- س٣) نظرا لوجود مجاري المياه العذبه في مصر ينمو نبات . . .  
 ○ المانجروف ○ الكافور ○ الغرقد ○ الشيح
- س٤) اقامت الدوله محميه طبيعيه بالاراضي المنخفضه المتشبعه بالاملاح في . .  
 ○ غرب الصحراء الغربيه ○ جنوب الدلتا ○ شمال سيناء ○ غرب الصحراء الشرقيه
- س٥) تتمركز معظم الطيور المهاجره التي تمر بمصر في . . .  
 ○ شمال الدلتا ○ جنوب سيناء ○ الساحل الشمالي ○ شمال الوادي
- س٦) من النباتات التي يمكن ان تنمو على ضفاف بحر يوسف . . .  
 ○ التوت ○ المانجروف ○ الزيتون ○ السنط
- س٧) المحميه التي تقع بالقرب من نقطه التقاء خليجي السويس والعقبه محميه . . .  
 ○ جيولوجية ○ غابات متحجره ○ تراث طبيعي ○ معزل طبيعي للطيور
- س٨) يوجد تطابق بين خريطه توزيع النبات الطبيعي في مصر و خريطه توزيع . . .  
 ○ المطر ○ الحراره ○ الضغط ○ الرياح
- س٩) في اي فصول السنه يتوقع ازدهار النباتات والحشائش الطبيعيه في الساحل الشمالي . . . موضحا اسبابك ؟
- س١٠) من وجهه نظرك : ما الاسباب التي شجعت على قيام الرعي في شمال سيناء؟
- س١١) فسر: دعوه المنظمات العالميه لجعل السواحل الشماليه لمصر محميات طبيعيه؟
- س١٢) توجد علاقه بين . . . النبات الطبيعي والانشطه الاقتصاديه في صحاري مصر استنتج هذه العلاقه ؟

س١٣) وضح من وجهه نظرك . . . اسباب تنوع النبات الطبيعي في مصر من منطقه لآخرى؟



س١٤) الصوره المقابله لمحميه راس محمد . . .

من وجهه نظرك ما الاستفاده الاقتصاديه من انشائها؟

س١٥) حدد اوجه التشابه بين : ساحل خليج العقبه والصحراء الغربيه بالنسبه للنبات الطبيعي؟

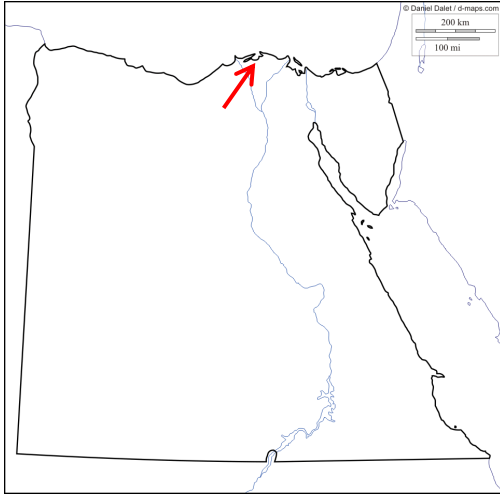
س١٦) في رأيك : كيف يمكن ان تستفيد مصر اقتصاديا من النباتات الطبيعي والحيوانات البريه بها ؟

س١٧) ما النتائج المترتبة على : تفرد البحر الاحمر بصفات طبيعيه ميزته عن باقي المسطحات المائيه بمصر؟

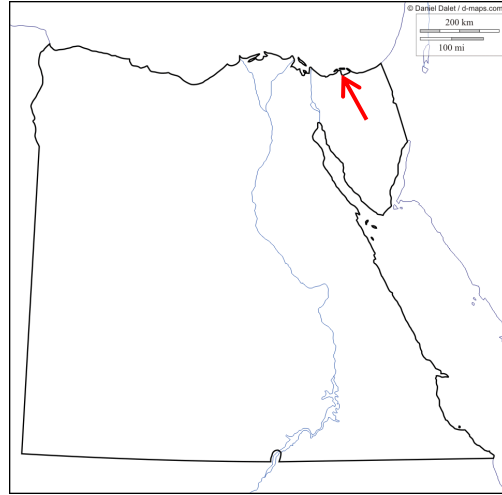
س١٨) ما تقييمك تجاه : تعرض العديد من الحيوانات والطيور البريه الى خطر الانقراض ؟

س١٩) حدد انواع المحميات الموقعة على الخريطيتين الأتيتين مع توضيح كيف يمكن الاستفادة منها اقتصاديا من وجهه نظرك؟

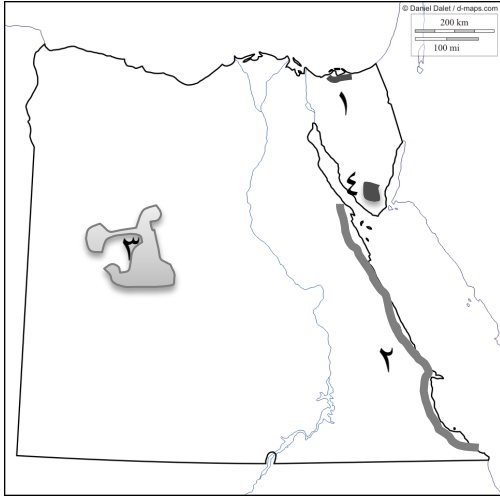
(ب)



(أ)



س٢٠) دلل: تعتبر المحميات الطبيعيه ثروه قوميه ؟



س٢١) انسب العبارات الاتيه بما يناسبها من الارقام الموقعة على الخريطة المقابلة :

(أ) منطقه ينمو بها نبات المانجروف

(ب) منطقه ينمو بها التين لوجود التربه الرملية

(ج) من المناطق التي يتركز بها الطيور المهاجرة خلال رحلتها

(د) محمية تراث طبيعي

س٢٢) توجد العديد من النباتات الطبيعيه التي لها دور علاجى .

استنتج الاثار المترتبة على ذلك؟

س٢٣) لا يتطلب نمو التين الشوكي تكلفه ماديه عاليه . . . .

هل توافق على هذه العبارة ؟ مع ذكر السبب



س٢٤) الصورة التي امامك تعبر عن احد اهداف المحميات الطبيعيه :

- استنتج هذا الهدف

- وضع : لماذا تسعى الدوله لتفعيله

وما الطرق : التي يمكن ان يتحقق بها؟

س٢٥) وضع العلاقة بين . . . سياحة السفارى ومحمية الصحراء البيضاء ثم استنتج اثرها علي الاقتصاد المصري؟

س٢٦) للنبات الطبيعي للنبات الطبيعي اهميه اقتصاديه في مصر **في ضوء هذه العبارة . . .**  
**اقترح** بعض الافكار للحفاظ على مساحه النباتات الطبيعيه في مصر

س٢٧) **استنتج** اوجه الاستفاده من الابحاث العلميه المعتمده على زياره المحميات الاتيه :

- محميه الغابه المتحجره

- محميه الزرانيق