

### أولاً: اللغة العربية

من نص نصاب غالية:

قال تعالى: "وَلَا تُصَعِّرْ خَدَّكَ لِلنَّاسِ وَلَا تَمْشِ فِي الْأَرْضِ مَرَحًا إِنَّ اللَّهَ لَا يُحِبُّ كُلَّ مُخْتَالٍ فَخُورٍ" تخير الإجابة الصحيحة مما بين القوسين لما يلي:-

١. مضاد كلمة " مَرَحًا " : ( متمايلاً - فرحاً - متواضعاً ) .
  ٢. تفسير كلمة " فَخُورٌ " : ( ذو قوة - متكبر و مباه - ذو مال ) .
  ٣. إعراب كلمة " : لَا تُصَعِّرْ " : ( مضارع مجزوم - مضارع مرفوع - مضارع مبنى ) .
  ٤. الحال في الآية الكريمة هو : ( مختال - مرحاً - كل ) .
  ٥. جملة "لَا يُحِبُّ " : ( حال - نعت -- خبر إن ) .
  ٦. "وَلَا تَمْشِ فِي الْأَرْضِ مَرَحًا " نهى يفيد : ( النصيح - التعجب - التوبيخ - ) .
  ٧. "إِنَّ اللَّهَ لَا يُحِبُّ كُلَّ مُخْتَالٍ فَخُورٍ" الجملة : ( تعليل لما قبلها - تفصيل - نتيجة ) .
- من موضوع كبرياء طفل
٨. نتعلم من موقف مصطفى كامل : ( الغرور والتكبر - الشجاعة وقول الحق - الخوف والرهبة ) من قصة كفاح شعب مصر :
  ٩. اتخذ الهكسوس مدينة ..... عاصمة لهم : ( منف - طيبة - أواريس - أرمنت ) .
  ١٠. أحمس قائد : ( الجيش المصري- الهكسوس - الفرس - الروم ) .

### ثانياً : اللغة الإنجليزية

**Choose the correct answer from a ,b ,c or d.**

- 1- We ..... the museum tomorrow . Do you want to come with us?  
a) can't visit                      b) are going to visit                      c) visit                      d) must visit
- 2-.....she seen a lion before?  
a) Has                      b) Do                      c) Have                      d) Are
- 3-He is not hungry because he has.....had dinner.  
a) ever                      b) already                      c) yet                      d) never
- 4-Thousands of ..... come to Egypt every year.  
a) tourists                      b) towers                      c) tours                      d) tourism
- 5-I enjoyed the show because it was.....  
a) frightened                      b) excited                      c) boring                      d) amazing
- 6-we built a lot of .....to solve the traffic problem.  
a) bridges                      b) factories                      c) schools                      d) airports

### ثالثا : الدراسات الاجتماعية

اختر الإجابة الصحيحة من بين القوسين :

- (١) تتحصر هضبة الشطوط بين سلاسل جبال .....  
( الشام - البحر الأحمر - كردستان - أطلس )
- (٢) أشجار تنمو في الغابات المدارية .....  
( الزيتون - السنط - الأرز - البلوط الفليني )
- (٣) عاصمة مصر اثناء حكم الرومان .....  
(العريش - دمياط - الاسكندرية - القاهرة )
- (٤) أشهر القبائل العربية التي سكنت مكة .....  
( قریش - هوازن - ثقیف - الخزرج )
- (٥) أعد رسول الله جيشا كبيرا وتحرك به نحو تبوك لقتال .....  
( الفرس - اليهود - الروم - الخوارج )

### رابعا : العلوم

اختر الإجابة الصحيحة:

- ١- يقدر الحجم الذري بوحدة .....  
أ- متر      ب - نانومتر      ج - سنتيمتر      د - بيكومتر
- ٢- تتكون الشهب فى طبقة .....  
أ- الأكسوسفير      ب - الثرموسفير      ج - الميزوسفير      د- الستراتوسفير
- ٣- يبدأ ظهور العناصر الانتقالية ابتداء من الدورة .....  
أ- الثانية      ب - الثالثة      ج - الرابعة      د- الخامسة
- ٤- توجد الحفريات غالبا فى الصخور .....  
أ- المتحولة      ب - الرسوبية      ج - البركانية      د- النارية
- ٥- بللورة الثلج ..... الشكل .  
أ- سداسية      ب - خماسية      ج - ثمانية      د- رباعية
- ٦- من أمثلة الثدييات المنقرضة حديثا .....  
أ- الماموث      ب - الكواجا      ج - الخرتيت      د- الديناصورات

### خامسا: الرياضيات

اختر الاجابة الصحيحة من بين الإجابات المعطاة :

( ١ ) المكعب الذي حجمه ٨ سم<sup>٣</sup> تكون مساحته الكلية تساوي ..... سم<sup>٢</sup>

- (م) ٨ (ب) ١٦ (ج) ٢٤ (د) ٦٤

( ٢ ) إذا كانت  $\sim = [٣، ١]$  ،  $\sim = [٥، ٢]$  فإن  $\sim \cap \sim =$  .....

- (م)  $[٢، ١]$  (ب)  $[٥، ١]$  (ج)  $[٥، ٣]$  (د)  $[٣، ٢]$

( ٣ ) إذا كانت النقطة ( ١ ، ٣ ) تحقق العلاقة  $س + ك = ٥$  فإن  $ك =$  .....

- (م) ٢ - (ب) ٢ (ج) ٣ (د) ٥

( ٤ ) المنوال للقيم ٩ ، ٥ ، ٧ ، ٩ هو .....

- (م) ٩ (ب) ٧,٥ (ج) ٧ (د) ٥

( ٥ ) إذا كان  $\angle ب ج$  مثلث قائم الزاوية في  $ب$  ،  $\angle ج = ١٠$  سم فإن طول المتوسط الخارج من الرأس  $ب =$  ..... سم

- (م) ٢٠ (ب) ١٠ (ج) ٥ (د) ٢,٥

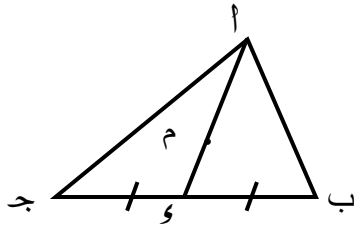
( ٦ ) في الشكل المقابل :

م نقطة تقاطع متوسطات المثلث  $\angle ب ج$  ،  $\angle م = ٦$  سم

فإن :  $\angle م =$  ..... سم

- (م) ١ (ب) ٢

- (ج) ٣ (د) ٤



( ٧ ) مثلث متساوي الساقين قياس زاوية رأسه ٨٠° فإن قياس احدي زاويتي قاعدته = .....°

- (م) ١٠ (ب) ٤٠ (ج) ٥٠ (د) ١٠٠

( ٨ ) في  $\Delta$   $\angle ب ج$  إذا كان  $\angle ب = ٧٠°$  ، و  $\angle ج = ٦٠°$  فإن :  $\angle ب$  .....  $\angle ج$

- (م)  $<$  (ب)  $>$  (ج)  $=$  (د) ضعف

### أولاً : اللغة العربية

( النصوص ) من نص " من أجل مصر " :

قال رسول الله (صل الله عليه وسلم ) : "إنكم ستفتحون أرضاً يذكر فيها القيراط، فاستوصوا بأهلها خيراً، فإن لهم ذمة ورحماً" تخير الإجابة الصحيحة مما بين القوسين فيما يأتي :

١- جمع " القيراط " : ..... ( القروط – الأقراط – القراريط )

٢- تنكير كلمة " أرضاً " أفاد..... ( التقليل – التعظيم – التحقير )

٣- في الحديث الشريف بشارة بفتح ..... ( العراق – مصر – الشام )

٤- وصية النبي ( صلى الله عليه وسلم ) في الحديث الشريف تدل على أن الإسلام دين ..... ( الإرهاب – العلم – التسامح والإسلام )

( النحو ) : تخير الإجابة الصحيحة مما بين القوسين فيما يأتي :

٥- كلمة ( استوصوا ) فعل أمر مبني على ..... ( الضم – حذف النون – الواو )

٦- ( يذكر فيها القيراط ) في الحديث الشريف جملة فعلية في محل نصب ..... ( خبر إن – حال – نعت )

( القراءة ) من موضوع " منتصر و مجاهد " :

" كان منتصر يعاني من أزمة نفسية حادة . فكلما رأى قرص الشمس الأحمر كان يملؤه يقين بقرب عودته ، وكان يحزنه كذلك مشهد الذنب "

• اختر الإجابة الصحيحة مما بين القوسين فيما يأتي :

٧- طلب الشيخ راغب من منتصر أن يعود مرة أخرى لـ ..... ( يستمع بمناظر سيناء الخلابة - ليزوره في المستشفى - يثار لنفسه ووطنه )

( يستمع بمناظر سيناء الخلابة - ليزوره في المستشفى - يثار لنفسه ووطنه )

٨- كان منتصر يعاني أزمة نفسية بسبب .....

( وقوعه أسيراً في أيدي الأعداء - سوء معاملة بدو سيناء له - مشهد الذنب وهو يفترس زميله مجاهد )

من كتاب ( كفاح شعب مصر ) : تخير الإجابة الصحيحة مما بين القوسين فيما يأتي :

٩- قائد المقاومة الشعبية في منطقة البحر الصغير .....

( أحمد الأبنودي - حسن طوبار - عمر مكرم - محمد كريم )

١٠- المدينة التي قاومت حملة فريرز هي ..... ( دمياط - المنصورة - رشيد - القاهرة )

## ثانيا : اللغة الإنجليزية

Choose the correct answer from a ,b ,c or d.

- 1-I used..... to get the book from the upper shelf.  
a) ladder                      b) stairs                      c) alarm                      d) stars
- 2-I gave her some .....to wash her hands.  
a) oil                      b) fat                      c) soap                      d) soup
- 3-Doing very well means you are .....  
a) bad                      b) successful                      c) boring                      d) frightened
- 4-Mum has.....to the shops.  
a) gone                      b) go                      c) goes                      d) went
- 5-I visited Aswan .....a holiday.  
a) for                      b) at                      c) in                      d) of
- 6-They built a new house three month.....  
a) when                      b) since                      c) ago                      d) in

## ثالثا : الدراسات الاجتماعية

اختر الإجابة الصحيحة من بين القوسين :

- ١) أقدم الدول العربية في عمل التعداد السكاني ( العراق – مصر – تونس – الكويت )
- ٢) هضبة تمتد في وسط شبه الجزيرة العربية..... ( نجد – الشطوط – حضرموت – بادية الشام )
- ٣) انتصر سعد بن ابي وقاص على الفرس في معركة ..... ( ذات الصواري – اليرموك – القادسية – أجنادين )
- ٤) يعرف العام الذي ولد فيه رسول الله بعام ..... ( الفيل – الجماعة – الوفود – الحزن )
- ٥) أشار على رسول الله بحفر خندق حول المدينة ..... ( خالد بن الوليد – الحباب بن المنذر – زيد بن ثابت – سلمان الفارسي )

## رابعا : العلوم

اختر الإجابة الصحيحة:

- ١- كل مما يأتي من الغازات الدفيئة عدا .....  
أ-  $O_2$                       ب-  $N_2O$                       ج-  $CH_4$                       د-  $CO_2$
- ٢- توجد روابط ..... بين جزيئات الماء.  
أ- فلزية                      ب- أيونية                      ج- هيدروجينية                      د- تساهمية
- ٣- جميع العناصر التالية من اشباه الفلزات عدا .....  
أ- التيلوريوم                      ب- السيليكون                      ج- البورون                      د- البروم
- ٤- عناصر المجموعة 7A تسمى عناصر .....  
أ- الغازات الخاملة                      ب- الاقلاء                      ج- العناصر الانتقالية                      د- الهالوجينات
- ٥- من أمثلة الكائنات المهددة بالانقراض .....  
أ- النسر الأصلع                      ب- طائر الدودو                      ج- الكواجا                      د- الديناصور
- ٦- توجد طبقة الأوزون في .....  
أ- الأكسوسفير                      ب- الترموسفير                      ج- الميزوسفير                      د- الستراتوسفير

### خامسا: الرياضيات

اختر الاجابة الصحيحة من بين الإجابات المعطاة :

( ١ ) المكعب الذي طول حرفه ٢ سم يكون حجمه = ..... سم<sup>٣</sup>

- (أ) ٤ (ب) ١٦ (ج) ٣٢ (د) ٨

( ١ ) إذا كانت  $\sim = [٣، ١]$  ،  $\sim = [٥، ٢]$  فإن  $\sim \cup \sim =$  .....

- (أ)  $[٥، ١]$  (ب)  $[٣، ٢]$  (ج)  $[٥، ٣]$  (د)  $[٢، ١]$

( ٣ ) إذا كانت س ( ٢، ٤ ) ، ص ( ٦، ٢ ) فإن ميل  $\overleftrightarrow{ص}$  = .....

- (أ) ٢ (ب) صفر (ج) ٢ - (د) غير معرف

( ٤ ) الوسط الحسابي لمجموعة القيم ٦، ١٠، ٩، ٨، ٧ هو .....

- (أ) ٦ (ب) ٧ (ج) ٨ (د) ٩

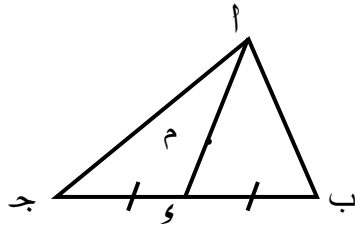
( ٥ ) في الشكل المقابل :

م نقطة تقاطع متوسطات المثلث أ ب ج ، أ و = ٦ سم

فإن م و = ..... سم

- (أ) ١ (ب) ٢

- (ج) ٣ (د) ٤



( ٦ ) أ ب ج مثلث قائم الزاوية في ب ، أ ج = ٨ سم ، و منتصف أ ج فإن ب و = ..... سم

- (أ) ٢ (ب) ٤ (ج) ٦ (د) ٨

( ٧ ) المثلث الذي فيه قياسا زاويتين ٤٢° ، ٦٩° يكون مثلث .....

- (أ) متساوي الساقين (ب) متساوي الأضلاع (ج) مختلف الأضلاع (د) قائم الزاوية

( ٨ ) الأطوال التي تصلح أن تكون أطوال لأضلاع مثلث .....

- (أ) ١١، ٥، ٥ (ب) ٤، ٥، ١٠ (ج) ٦، ٣، ٥ (د) ٨، ٣، ٥

### أولاً : اللغة العربية

- (١) من نص (نصائح غالية): "ولا تصعر خدك للناس ولا تمش في الأرض مرحاً إن الله لا يحب كل مختال فخور (١٨)".
- ١- مرادف "تصعر خدك": تميله (تواضعا - خجلاً - تكبراً).
- ٢- مضاد "مختال": متواضع - متكبر - مسرع.
- ٣- "لا تمش في الأرض مرحاً"، مرحاً تعرب: (نعثاً - حالاً - مفعولاً به).
- ٤- علاقة قوله تعالى: "إن الله لا يحب كل مختال فخور." بما قبلها: (نتيجة- تفسير- تعليل)
- (٢) قراءة : من درس "منتصر ومجاهد": "كان كل هم منتصر ومجاهد عندما حلقا بطائرتهما أن يلحقا بالعدو أية خسارة".
- ٥- جمع "هم": (همم - هامات - هموم).
- ٦- "يلحقا" في الفقرة فعلاً : (معرباً-مبنيًا - مجزوماً).
- ٧- أقام منتصر بين البدو يرعي الغنم : (خمسة أشهر - سنة أشهر - عشرة أشهر).
- ٨- حزن منتصر علي زميله مجاهد حينما افترسه: ( الذئب - الثعلب - الأسد).
- (٣) من كتاب "كفاح شعب مصر" :
- ٩- لم يقتل المصريون رسول قمييز.....: (خوفا منه-افتخارا بالتقاليد المصرية-لعدم تمكنهم منهم )
- ١٠- تجمعت جموع الشعب وطوائفه حول دار ..... لتقديم مطالبهم إلي خورشيد .

### ثانياً : اللغة الإنجليزية

**Choose the correct answer from a ,b ,c or d.**

- 1-I went to a restaurant ..... the river.  
a. with                      b. by                      c.at                      d. for
- 2- Every year, Scientists make important .....in medicine.  
a. news                      b. discoveries                      c. find                      d. roads
- 3-How ..... is it from the work to the airport? 7 kilometers.  
a. much                      b. tall                      c. many                      d. far
- 4- I.....to Alexandria next summer.  
a. will travel                      b. would travel                      c. going to travel                      d. raveling
- 5- .....means very modern.  
a. Safe                      b. Helpful                      c. Friendly                      d. Recent
- 6- Your idea ..... nice. I liked it.  
a. sounded                      b. accepted                      c. showed                      d. started

### ثالثا : الدراسات الاجتماعية

#### اختر الإجابة الصحيحة من بين القوسين :

- ١) يعمل معظم سكان الريف في الوطن العربي بحرفة .....  
( التعدين - الصناعة - الزراعة - التجارة )
- ٢) دولة عربية تقع في المحيط الهندي .....  
( تونس - الجزائر - المغرب - جزر القمر )
- ٣) كانت أول هجرة للمسلمين إلى .....  
( اليمن - الحبشة - يثرب - الشام )
- ٤) أولى انتصارات المسلمون على قبيلة قريش في غزوة .....  
( بدر - حنين - تبوك - خيبر )
- ٥) أنشأ بيت المال وديوان الجند في عهد .....  
( أبوبكر الصديق - عثمان بن عفان - عمر بن الخطاب - علي بن أبي طالب )

### رابعا : العلوم

#### اختر الإجابة الصحيحة:

- ١- الغاز الناتج من تفاعل الفلزات مع الأحماض المخففة غاز .....  
أ-  $O_2$       ب-  $H_2$       ج-  $N_2$       د-  $CO_2$
- ٢- تلوث الماء الذي يسبب إصابة المزارعين بالبلهارسيا تلوث .....  
أ- كيميائي      ب- حراري      ج- بيولوجي      د- إشعاعي
- ٣- العالم الذي اكتشف أن نواة الذرة تحتوي على بروتونات موجبة هو .....  
أ- موزلي      ب- رذرفورد      ج- بور      د- مندليف
- ٤- يعتبر ..... حلقة وصل بين الزواحف والطيور.  
أ- الأركيوبتركس      ب- النسر الأصلع      ج- الديناصور      د- التمساح
- ٥- تقاس درجة الأوزون بوحدة تسمى .....  
أ- مللي بار      ب- نانومتر      ج- بيكومتر      د- دوبسون
- ٦- من الغازات الدفينة التي تسبب ظاهرة الاحترار العالمي .....  
أ- الأكسجين      ب- الهالونات      ج- بروميد الميثيل      د- الميثان



### خامسا: الرياضيات

اختر الاجابة الصحيحة من بين الإجابات المعطاة :

( ١ ) حجم الكرة التي طول قطرها ٦ سم = ..... سم<sup>٣</sup>

(د)  $\pi ٢٨٨$

(ج)  $\pi ٣٦$

(ب)  $\pi ١٢$

(م) ٢٨٨

( ٢ )  $\{ ٧ , ٢ \} - [ ٥ , ٢ ] = \dots\dots\dots$

(د)  $\{ ٧ \}$

(ج)  $\{ ٥ \}$

(ب)  $[ ٥ , ٢ [$

(م)  $] ٥ , ٢ [$

( ٣ ) إذا كان ميل المستقيم المار بالنقطتين ( ٢ ، ك ) ، ( ٧ ، ٤ ) يساوي ٣ فإن ك = .....

(د) ١

(ج) ٣

(ب) ٤

(م) ٥

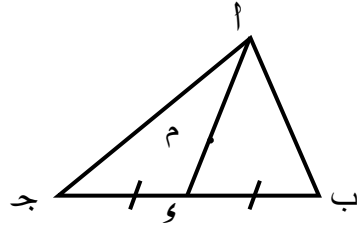
( ٤ ) الوسيط لمجموعة القيم ١٥ ، ٢٢ ، ٩ ، ١١ ، ٣٣ هو .....

(د) ٩٠

(ج) ١٨

(ب) ١٥

(م) ٩



( ٥ ) في الشكل المقابل :

م نقطة تقاطع متوسطات المثلث أ ب ج ، م و = ٥ سم

فإن أ م = ..... سم

(ب) ٥

(م) ٢,٥

(د) ١٥

(ج) ١٠

( ٦ ) أ ب ج مثلث فيه أ ب = ٤ سم ، أ ج = ٨ سم فإن ب ج  $\supseteq$  .....

(د)  $] ١٢ , ٤ [$

(ج)  $] ١٢ , ٤ ]$

(ب)  $[ ١٢ , ٤ [$

(م)  $[ ١٢ , ٤ ]$

( ٧ ) في المثلث أ ب ج : و ( ح ب ) = ٩٠° ، و ( ح ج ) = ٣٠° ، أ ج = ١٠ سم فإن أ ب = ..... سم

(د) ١٥

(ج) ١٠

(ب) ٥

(م) ٢,٥

( ٨ ) في  $\Delta$  س ص ع إذا كان : و ( ح س ) = ٧٠° ، و ( ح ص ) = ٣٠° فإن س ص ..... ص ع

(د) ضعف

(ج) =

(ب) >

(م) <