

الاستعداد

الفصل
الدراسي
الأول

في

اكتشف

٢

الصف الثاني الابتدائي



الأستاذ / مدينت الدسوقي نصير

نلا - منوفية ٢٤٩.٢٨١٣.١٠٦

للمزيد من فيديوهات الشرح والتدريبات تابعونا على / قناة: مدينت نصير التعليمية
وللمزيد من المذكرات تابعونا على / مجموعة مدينت نصير التعليمية على فيس بوك



الاسم:

من أكون؟

المُخَوَّرُ الأوَّل

الفصل الأول

يوم في حياتي

← اسمي ----- وعُمري ----- سنوات .

← أَعِيشْ مع أُمِّي و-----

← تَسَاعِدْنِي [أُمِّي - أَبِي] فِي أَدَاءِ وَاجِبَاتِي الْمَدْرَسِيَّةِ .

← يَصْلِحُ [أُمِّي - أَبِي] أَي شَيْءٍ مَكْسُورٍ فِي الْمَنْزِلِ .

← أَنَا أَنْظِفُ غُرْفَتِي . ()

← أَنَا لَا أُرْتِّبُ أَلْعَابِي . ()

العدل - عدم الاحترام - الأمانة - الغش

مواطن صالح	مواطن غير صالح

← أَنَا أَحِبُّ [النَّشَاطَ - الْكَسَلَ] .

← تَتَكَوَّنُ الْمَسْرُوحِيَّةُ مِنْ شَخِصِيَّاتٍ . ()

← إعداد: ٢ / عبد الله نصير



من الذي ساعد الأطفال
في حل مشكلاتهم؟

الحل

المشكلة



لا أستطيع عمل الواجب



مقبض باب غرفتي قد كسر



لا يوجد مكان كاف على الأريكة لأجلس

ضع علامة (✓) للسلوكيات التي يجب أن نتبعها
عند التعاون مع الآخرين:



نشاط



احترام الآخرين



التحدث بصوت عالٍ



مشاركة الأدوات

مراجعة إعداد: ٢ / أعدتها زهير



الحل



المشكلة



هذه التدريبات تعلمنا التغاير وحل المشكلات



أنا مواطن مصري وألتزم إلى
مجتمع مدرستي.

الاحترام

الأمانة

العدل



* سلوك المواطن الصالح *

العدل

الأمانة

الاحترام



يوجد بفصلنا ١٢ طالبًا. ٤ منهم خلال وقت فراغهم يحبون أن يتناولوا الطعام، و ٣ منهم يحبون القراءة والمذاكرة، و ٥ منهم يحبون اللعب.




الترفيه

المذاكرة

الطعام

٤



الهدف من التدريب معرفة الرسم البياني
وتحسين التلاميذ على تقسيم وقت الفراغ

٥ إعداد: ٢٠ / مدينت نصير



○ الساعة الحادية عشرة والنصف



○ الساعة الرابعة والنصف



○ الساعة الثانية عشرة والنصف



○ الساعة الثانية



○ الساعة الثانية والنصف



٦٣ اعداد : ٢ / مدينت نصير



التشاجر



الصياح والصراخ



الاعتذار



تجاهل القواعد



تبادل الأدوار



احترام الأفكار
المختلفة

استراتيجية السلام



يجب عليه الاعتذار



يجب عليهما التوافق



يجب عليها أن تقول
«توقفى» لصديقتها.



يجب على الولد طلب
المساعدة من المعلمة

المشكلة



تشعر الفتاة بالغضب لأن
صديقتها تصرخ عليها



كسر الولد زجاج النافذة



الولد يزعج صديقه



الفتاة تريد أن تلعب بالدمية
وأختها تريد أن ترسم



١ رأت آية البيض
في العش.



٢ ثم رأت صغار
الطيور في العش.



٣ تطعم الأم صغارها.



٤ تضم الأم صغارها
بجناحيها كي
يشعروا بالدفع.

ارسم 😊 للصورة التي تساعد أية لمعرفة كيف يمكنها المحافظة على صحة وسلامة أخيها: ➔

نشاط



“الاستحمام”



إطعام الطفل



“اللعبة مع الطفل برفق”

صل كل صورة بالجزء المناسب لها: ➔

نشاط



١ طائر السنونو (الأم)
تحلق في الجو.



٢ تلتقط الأم الحشرات.



٣ تستخدم الأم
منقارها لإطعام
صغارها.

- الوشق تساعد على سماع صوت فريسته عند اقترابها.



الوشق

- الضفدع يساعد على اصطياد الحشرات.



الضفدع

- الطويلة تساعد الزرافة للوصول إلى الأشجار الطويلة.



الزرافة

نظيف - متسخ بعض الشيء - متسخ - متسخ جدا

استخدام فرشاة



استخدام الماء



استخدام المنديل الورقي



البطاطس من التربة





طائر البنتشون



يتناول الأسماك

الأرنب



يتناول العشب والتوت

الضفدع



يتناول الحشرات

التمساح



يتناول الحيوانات الصغيرة

الوشق



يتناول الطيور والغزلان



• يتمتع النسر الذهبي بـ كبيرين يساعده على الطيران بسرعة كبيرة.

• يتمتع النسر الذهبي بـ حاد لكي يساعده على رؤية الفريسة.

• يستخدم النسر الذهبي القوى في تناول الطعام.

• يتمتع النسر الذهبي بـ قوية يقتلص بها فرائسه. (الأرانب - الفئران - الثعالب - الغزال الصغير)

نشاط

لون أخضر ● للاختيارات الجيدة وأحمر ● للاختيارات السيئة:





التفكير



لحفاظ على صحتنا



هضم الطعام



أسنان قوية



بناء عضلات قوية



صنع عارضة (✓) أمّا الطّعام الطّازج و (X) أمّا الغير طازج:



احذف الصورة المختلفة:



نشاط



الوظائف
الطبية



الوظائف
التجارية



الوظائف
الزراعية

إعداد: ٢٠/مدى نصير



١ ضع علامة (✓) أمام «الفكرة».

الفكرة



صنع الطعام.

☐


صنع أطول سلسلة ورقية.

☐


صنع قارب ورقى.

☐

٢ ضع علامة (✓) أمام «المواد التي سوف نحتاجها»:

المواد المستخدمة


☐


صمغ

☐

☐

☐

☐

٣ ضع علامة (✓) أمام «الخطوة المناسبة»:

الخطوة



اصنع قارباً.

☐


اصنع مربعاً

☐


عمل تصميم باستخدام شرائط ورقية

☐

٤ ضع علامة (✓) أمام طريقة تصنيعك للسلسلة الورقية:

التصنيع



ألصق المنقار.

☐


العب فى الحديقة

☐


تقطيع الورق إلى شرائط ولصقها مغا على شكل حلقات.

☐

٥ ضع علامة (✓) أمام طريقة التطوير:

التطوير

السلسلة الورقية جيدة.

☐

السلسلة الورقية ضعيفة وتحتاج ورقاً أقوى حتى لا تنقطع.

☐



شامبو

ما هو منتجك؟

- ☐ جل للشعر.
☐ معجون أسنان.
☐ شامبو.

ما الذي يفعله منتجك؟

- ☐ تنظيف الشعر.
☐ تنظيف الملابس.
☐ تنظيف الغرف.

كم تبلغ تكلفتها؟

- ☐ ١٠٠٠ جنية
☐ ٤٠ جنيهاً.
☐ ٥ جنيهات.

من سيرغب في شراء منتجك؟

- ☐ البشر.
☐ الطيور.
☐ الأبقار.

لماذا يعد منتجك أفضل من غيره؟

- ☐ يجعل شعرك لامعاً.
☐ يلون الكتب.
☐ يقطع الملابس.

كيف ستجذب أنظار المشتريين نحو منتجك؟

- ☐ نقول إنه منتج سيئ.
☐ عمل تخفيض للسعر.
☐ نجعل السعر غالياً جداً.

الطبية

التجارية

الصناعية

السياحية

الزراعية

الوظائف



جزار



ممرضة



مسئولة خدمات
(مضيفة)



ميكانيكي





• يبني لنا البيوت الجديدة



فلاح

• يزرع الخضراوات والفواكه المختلفة



مبرمج كمبيوتر

• يصمم برامج الكمبيوتر الجديدة



عامل بناء

• يبيع ويشترى البضائع



مسئولة خدمات
(مضيفة)

• يساعد السائحين / الزائرين ويرحب بهم



بقال

نشاط اقرأ ثم ضع علامة (✓) أمام الإجابة المناسبة: **الفئة: الوظائف الطبية**

لا	نعم	أسئلة البحث
<input type="checkbox"/>	<input type="checkbox"/>	١- هل أرتدى زياً رسمياً؟
<input type="checkbox"/>	<input type="checkbox"/>	٢- هل يجب عليّ الذهاب إلى الجامعة؟
<input type="checkbox"/>	<input type="checkbox"/>	٣- هل أعمل في عطلات نهاية الأسبوع؟
<input type="checkbox"/>	<input type="checkbox"/>	٤- هل تتوافر وظيفتي في معظم المدن؟
<input type="checkbox"/>	<input type="checkbox"/>	٥- هل يمكنني العمل في مدينة صغيرة؟

نشاط ضع علامة (✓) بجوار الموارد التي نحتاج لشراؤها: **أهمية الدخل**





عم نور

٥٠٠ جنيه



والدة نور

٢٠٠ جنيه



والد نور

٦٠٠ جنيه



عمة نور

٣٥٠ جنيهًا

اقرأ قصة «أوريون الصياد»



نشاط




أوريون الصياد

كان (أوريون) صيادًا محترفًا، وليصطاد فريسته كان يستخدم القوس والأسهم، وكان لديه كلبان يساعدانه في الصيد.

استخدم خيالك. هل تستطيع رؤية الصياد في السماء؟ اختر الصورة الصحيحة.





القبة السماوية
هي سديما مجسمة
عن الفضاء.



الآن، ضع دائرة حول الأشياء التي يمكن أن تراها في القبة السماوية



المجرة



ورد



لجوم



كواكب



بومة



ضع علامة (✓) أمام الإجابة الصحيحة:

النجوم	الشمس	الأسئلة
X	✓	١ هل تستطيع قراءة الكتاب؟
		٢ هل ينتج ظل؟
		٣ هل أشعر بدفع ناتج عنها؟
		٤ هل تلمع؟



ب



ا

١ في الصورة (ا) تكون الطائرة: _____

☐ صغيرة

☐ كبيرة

٢ في الصورة (ا) يقف الطفل _____

☐ بعيداً عن الطائرة

☐ قريباً من الطائرة

٣ في الصورة (ب) تكون الطائرة _____

☐ صغيرة

☐ كبيرة

٤ في الصورة (ب) يقف الطفل _____

☐ بعيداً عن الطائرة

☐ قريباً من الطائرة

٥ في الصورة (ب) تبدو الطائرة صغيرة بسبب أن الطفل يقف _____

☐ قريباً من الطائرة

☐ بعيداً عن الطائرة

صل كل شكل بظله:

نشاط



٤



٣



٢



١





يساعدنا علماء الفلك
في فهم الصور التي
تم التقاطها بواسطة
التليسكوبات.

٥



المجرات بعيدة جدًا، لذلك
نستخدم التليسكوبات لرؤية
النجوم والكواكب بالسماء.

٤

أكمل باستخدام الكلمات:

(التليسكوب - درب التبانة - المجرة - عالم الفلك)

١ هو مكان تجمع النجوم والكواكب والأقمار.

٢ مجرتنا تسمى

٣ نحن نستخدم لرؤية النجوم والكواكب البعيدة عنا.

٤ يساعدنا لفهم الصور التي تم التقاطها
بواسطة التليسكوبات.





١ هل يعيش الإنسان والحيوان والنبات في البيئة؟

لا ☐

نعم ☐

٢ هل البيئة هي كل ما يحيط بنا مثل المياه والهواء والنبات؟

لا ☐

نعم ☐





١) يعيش السمك في

المحيط ☐ المدينة ☐

٢) لا تستطيع الأسماك العيش بالصحراء لأنها تحتاج إلى

نجوم ☐ مياه ☐

٣) هو الحيوان الذي يستطيع العيش بالصحراء. ☐ السمك ☐ الجمل

أكمل الجدول بوضع علامة (✓) بالمكان الصحيح:

تحتاج إلى	الحيوانات	النباتات
الهواء		
الماء		
مياه غازية		
ضوء الشمس		
الماوى		
الطعام		

ضع علامة (✓) أمام ما تعلمته:

تحتوي البيئة على:
- الأشياء الطبيعية.
- الحيوانات/ الطيور/ الأسماك. - النباتات.
- أشياء من صنع الإنسان.



البيئة: هي المحيط أو الظروف التي يعيش فيها شخص أو حيوان أو نبات..
مثال: مدينة أو غابة أو صحراء.



الحيوانات والنباتات تحتاج إلى أشياء لكن تبقى على قيد الحياة في البيئة الطبيعية مثل الهواء والماء والطعام وضوء الشمس والمأوى.



الاستنتاج هو استخدام شيء تعلمه لتخمين شيء لا تعلمه.



نشاط

لون الأشياء الطبيعية باللون ● والتي من صنع الإنسان باللون ●





غاز




سائل



صلب

لا	نعم	الأسئلة
<input type="checkbox"/>	<input type="checkbox"/>	١ هل تغير شكل الكرة عند وضعها في كأس الماء؟
<input type="checkbox"/>	<input type="checkbox"/>	٢ هل ترى الهواء داخل البالون؟
<input type="checkbox"/>	<input type="checkbox"/>	٣ هل تغير شكل العصير من كأس لأخرى؟
<input type="checkbox"/>	<input type="checkbox"/>	٤ هل تأخذ المواد الصلبة شكل الإناء؟
<input type="checkbox"/>	<input type="checkbox"/>	٥ هل تأخذ المواد السائلة شكل الإناء؟
<input type="checkbox"/>	<input type="checkbox"/>	٦ هل تأخذ الغازات شكل البالون؟

* السمع - اللمس - التذوق - الشم - البصر *











لا	نعم	الأسئلة
<input type="checkbox"/>	<input type="checkbox"/>	- هل الخاتم لامع؟
<input type="checkbox"/>	<input type="checkbox"/>	- هل الخاتم سائل؟
<input type="checkbox"/>	<input type="checkbox"/>	- هل الخاتم صلب؟
<input type="checkbox"/>	<input type="checkbox"/>	- هل يصدر الخاتم صوتاً حين نطرقه بالمكتب؟
<input type="checkbox"/>	<input type="checkbox"/>	- هل الخاتم مصنوع من الذهب؟
<input type="checkbox"/>	<input type="checkbox"/>	- هل الخاتم مصنوع من الخشب؟



• تتحول المادة من حالة إلى أخرى بالتبريد أو التسخين.

نشاط ضع علامة (✓) أمام الإجابة الصحيحة: ←

التبريد (درجة حرارة منخفضة)	التسخين (درجة حرارة عالية)	التغيير
		<div>   </div> <div> سائل صلب </div>
	✓	<div>   </div> <div> غاز سائل </div>
		<div>   </div> <div> صلب سائل </div>
		<div>   </div> <div> سائل غاز </div>

مثال إضافي

منزل مبنى من الصخور



منزل مبنى من الثلج



لا

نعم

الأسئلة

☐
☐

- هل ينصهر المنزل (أ) من حرارة الشمس؟

☐
☐

- هل ينصهر المنزل (ب) من حرارة الشمس؟

☐
☐

- هل ينكسر المنزل (أ) نتيجة تأثير الرياح والأمطار؟

☐
☐

- هل ينكسر المنزل (ب) نتيجة تأثير الرياح والأمطار؟

نشاط صل كل مهنة بالأدوات الخاصة بها:



طبيب



عامل بناء



مبرمج كمبيوتر



فلاح



بشيء
إعداد: ٢٠ / أمدحت نصير





• معبد الكرنك



• برج القاهرة



• الجامع الأزهر



• تمثال سعد زغلول



• الكاتدرائية الأرثوذكسية بالعباسية



• الوظائف السياحية



عامل بناء

• الوظائف الصناعية



طبيب

• الوظائف الطبية



مرشد سياحي

• وظائف «STEM»



مزارع

• الوظائف الزراعية



مبرمج كمبيوتر



١ نور طالبة ذكية ومجتهدة.
المادة المفضلة لديها هي الرياضيات.



٢ هي أيضا تحب ان تتعلم أكثر عن
الكمبيوتر وطريقة استخدامه.

١ نور مهتمة بالوظائف
(الصناعية - الزراعية - STEM)

٢ المادة المفضلة لدى نور
(الرياضيات - الفنون - الدراسات الاجتماعية)

٣ تريد نور أن تكون في المستقبل.
(فلاحة - مبرمجة كمبيوتر - مسئولة خدمات)



الغابة



عصفور



قرود



نجم البحر



المحيط



سمكة



أسد



حصان البحر



السباحة



الطهي



رى النبات



الصيد



الاستحمام



الشرب



الدخل هو المال الذى تجنيه من وظيفة.



تظهر النجوم



تشرق الشمس



تختفي النجوم



تغرب الشمس



القبة السماوية: هي سينما
مجسمة عن الفضاء.



التجمع النجمي: هو مجموعة
النجوم التي تكون شكلًا خياليًا في
السماء.



سماء الليل

سماء النهار



الدخل (المال الذى نجنيه) مهم جدًا
لأجل توفير العديد من الموارد.



أكمل الخريطة باستخدام الكلمات:



السد العالي بأسوان - بحيرة ناصر



← إعداد: ٢ / عدت نصير

الكلمة: المشرف



١ هل الفتاة تقوم بمساعدة النبات؟

لا ☐

نعم ☐

٢ كيف ساعدت الفتاة النبات؟

☐ قامت بتغيير موضعه في البيئة حتى يكون أفضل.

☐ قامت بتغطيته.

التعريف

المشرف (المراقب) هو الشخص الذي يحافظ على البيئة لتكون أفضل.

• الآن، استخدم كلمة «المشرف» في جملة.



النجوم لا تكون ظلاً بينما الشمس تكون ظلاً.. فالظل هو مساحة سوداء نتيجة لحجب شيء ما لمسار الضوء.



العوامل اللازمة لتكون الظل:

- ١- مصدر الضوء.
- ٢- شيء لحجب مسار الضوء.
- ٣- سطح مقابل لمصدر الضوء.

إعداد: ٢ / إعداد نصير




حالات الماء: صلب وسائل وغاز

أكمل باستخدام الكلمات التالية:



نشاط

غاز - سائل - صلب



غاز

إعداد: ٢٠ / مدحت نصير



عملية



عملية



عملية



← اعداد: ٢ / حدث نصير




انظر ثم ضع علامة (✓) أمام المعلم التذكارى:



نشاط

ملحوظة:

المعلم التذكارى هو هيكل لتكريم شخص معين او حدث مهم فى التاريخ.



إعداد: م. مدينت نصير

٤٣

التجمع النجمي



مجموعة من النجوم تكون شكلًا خياليًا يتفق الأشخاص عليه.

القبة السماوية



هي سينما مجسمة لعرض الأشياء الموجودة في الفضاء مثل الكواكب والنجوم.

تجربة



اختبار فكرة ما عن طريق تسجيل بعض الملاحظات الدقيقة.

المجرة



تتكون من العديد من النجوم وتوجد بها الشمس والكواكب والأقمار.

تسوية الخلافات



ايجاد حل للمشكلة التي تواجهكم
مع شخص آخر بطريقة سلمية.

الخلاف



عندما تحدث مشكلة بيننا وبين
شخص آخر.

الدخل



الاموال التي تجنيها من مهنة ما.

التوافق



يعنى أن يحصل كل شخص على بعض
مما يرغب فيه حتى يتم التوصل إلى
حل الخلاف. كما تعنى غالباً تنازل بعض
الأشخاص عن بعض الأشياء.

ارسم دائرة حول نوع مادة كل عنصر:

ارشادات ولي الأمر

ذكر مطلق بحالات المادة الثلاث
(الصلبة - السائلة - الغازية)،
وطلب منه ملاحظة الصور ورسم
دائرة على حالة المادة في كل
صورة.



ما بداخل
البالون

غَازُ / سَائِلُ / صُلْبُ



زيت
زيتون

غَازُ / سَائِلُ / صُلْبُ



ما بداخل
الكرة

غَازُ / سَائِلُ / صُلْبُ



سرير

غَازُ / سَائِلُ / صُلْبُ



هواء

غَازُ / سَائِلُ / صُلْبُ



خبز

غَازُ / سَائِلُ / صُلْبُ



شاي

غَازُ / سَائِلُ / صُلْبُ



حليب

غَازُ / سَائِلُ / صُلْبُ



مياه

غَازُ / سَائِلُ / صُلْبُ



زجاجة

غَازُ / سَائِلُ / صُلْبُ



كيك

غَازُ / سَائِلُ / صُلْبُ



خبز

غَازُ / سَائِلُ / صُلْبُ



عصير

غَازُ / سَائِلُ / صُلْبُ



تلفزيون

غَازُ / سَائِلُ / صُلْبُ

صِلْ كُلَّ حَيَوَانٍ بِاسْمِهِ وَظِلِّهِ:

إرشادات ولي الأمر

- ساعد طفلك على تعرف أسماء الحيوانات والطيور الموجودة أمامه (الزرافة - التمساح - القط البري - النسر - الكناري - أبو قردان).
- اطلب من طفلك أن يوصل كل حيوان أو طائر باسمه وظله.

زرافة



قط بري



تمساح



طائر الكناري



أبو قردان




نسر



هيا نُجرى تجربة «ساطعًا أو خافتًا»:



نشاط



سجل ملاحظاتك

ضعيف (خافت)	متوسط	قوي	
			الضوء فى صورة (١) ١
			الضوء فى صورة (٢) ٢
			الضوء فى صورة (٣) ٣

٤٩ ← إعداد: ٢ / مدحت نصير

المعالم التذكارية
المصرية



الجامع الأزهر



معبد الكرنك



تمثال سعد زغلول



كاتدرائية القديس مرقس
القبطية الأرثوذكسية



الأهرامات



برج القاهرة

إعداد: ٢ / عدت نصير



مدرسة اون لاين

MADRSA-ONLINE.COM

