

اختر الإجابة الصحيحة من بين (أ - ب - ج - د)

١) للحدود المصرية الشمالية الشرقية مع الكيان الصهيوني أهميه

اقتصادية

ج

سياحية

أ

طبيعية

د

أمنية

ب

٢) تقع مدينة السلوم غرب خط طول

٣٧ شرقا

ج

٣٧ غربا

ا

٢٥ غربا

د

٢٥ شرقا

ب

٣) تقع مصر..... سواحل البحر المتوسط

شرق

ج

شمال

ا

جنوب

د

غرب

ب

٤) يطل على خليج العقبة عدد من الدول
هي.....

ج) مصر وفلسطين والسعودية

أ) مصر والسعودية والأردن

د) مصر والسعودية وفلسطين والأردن

ب) مصر والسعودية وفلسطين



٥) الحدود الطبيعية البحرية الخاصة لمصر هي
الحدود

الشمالية

ج

الجنوبية

أ

الشمالية الشرقية

د

الشرقية

ب



٦) من أهم الشخصيات التاريخية التي كتبت عن
أهميه موقع مصر الجغرافي.....

ج) عبد الرحمن الجبرتي

أ) جمال حمدان

د) مصطفى كامل

ب) مانيتون

(٧) تمتد حدود مصر الجنوبية من ساحل البحر
الأحمر شرقا حتى جبل غربا

قناة الامتياز التعليمية

قطراني

ج

علبه

ا

العوينات

د

سانت كاترين

ب

٨) تحدد مصر حدود برية وبحرية من
ناحية.....

الشمال

ج

الجنوب

ا

الغرب

د

الشرق

ب



٩) إذا أردت السفر الى دولة تونس فإنك سوف
تمر على معبر.....

العريش

ج

السلوم

أ

الإسكندرية

د

مرسى مطروح

ب

١٠) يلتقي حدين سياسيين فلكيين بمصر
عند.....

السلوم

ج

جبل علبة

ا

رفح

د

جبل العوينات

ب

(١١) إذا كنت تقف عند دائرة عرض ٢٢ شمالاً مع
التقاء خط طول ٢٥ شرقاً فإنك تكون
مصر

شمال شرق

ج

جنوب شرق

أ

جنوب غرب

د

شمال غرب

ب

١٢) تقع مصر سواحل البحر الأحمر

شرق

ج

شمال

ا

جنوب

د

غرب

ب

١٣) اذا كنت تقف عند دائرة عرض ٣٠ درجة
شمالا فانك بذلك تقترب من مدينته.....

أسيوط

ج

القاهرة

أ

دمياط

د

الإسكندرية

ب

١٤) يبدأ الحد الشمالي لمصر من شرق
مدينة.....

رفح

ج

العريش

ا

بنر العبد

د

الشيخ زويد

ب

١٥) بالنظر إلى خريطة مصر فإن أطول الحدود
البرية لمصر هي الحدود.....

الشرقية

ج

الشمالية

أ

الجنوبية

د

الغربية

ب



١٦) أي من المدن التالية تشرق عليها الشمس
أولاً.....

رشيد

ج

بور سعيد

أ

مرسى مطروح

د

القاهرة

ب

(١٧) يحد مصر من الشمال الشرقي دولة

فلسطين

ج

ليبيا

ا

الأردن

د

السعودية

ب

١٨) اذا كنت تقف عند خط طول ٢٤ شرقا فانت
بذلك توجد داخل دولة

فلسطين

ج

مصر

ا

السودان

د

ليبيا

ب

١٩) تمتد سيادة مصر خارج أراضيها عند
الحد.....

الغربي

ج

الشمالي الشرقي

أ

الشمالي

د

الجنوبي

ب

٢٠) تتوقع ان يتقاطع مدار السرطان مع خط
طول ٣٣ شرقا في.....

ج) الصحراء الغربية

ا) الصحراء الشرقية

د) الوادي الدلتا

ب) شبه جزيرة سيناء

٢١) لعبت مصر دور الوسيط بين دول أوروبا ودول
وسط أفريقيا بفضل وجود.....

نهر النيل

ج

قناة السويس

أ

بحيرة ناصر

د

خليجي السويس والعقبة

ب

٢٢) تعتبر الحدود أكثر الحدود تعرضا
للمخاطر الأمنية

الجنوبية

ج

الشمالية الشرقية

أ

الشمالية

د

الغربية

ب



٢٣) السفر البري يتم بصورة أكثر سهولة عبر الحدود.....

الجنوبية

ج

الشمالية

أ

الشرقية

د

الغربية

ب



٢٤) يمر خط طول ٢٦ شرقا في

شبه جزيرة سيناء

ج

الصحراء الشرقية

أ

الصحراء الغربية

د

الوادي والدلتا

ب



٢٥) يقترب مدار السرطان في مصر من
الحدود.....

الشرقية

ج

الشمالية

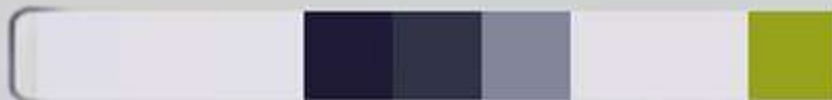
ا

الغربية

د

الجنوبية

ب



٢٦) تجاوز مصر ثلاث دول عربية عند
حدودها.....

الجنوبي الغربي

ج

الشمالي

أ

الغربي

د

الشمالي الشرقي

ب

٢٧) في ضوء دراستك للموقع الفلكي لمصر تشرق الشمس أولاً على مدينة.....

رفح

ج

طابا

أ

نويبع

د

حلايب

ب

٢٨) تمر السفن القادمة من الخليج العربي الى دول
أوروبا أولا بميناء.....

بورسعيد

ج

الاسكندرية

ا

السويس

د

دمياط

ب



٢٩) إذا أردت السفر البري الى دولة ليبيا فإنك
سوف تخرج من مصر عبر الحدود.....

قناة الامتياز التعليمية

الغربية

ج

الشمالية

ا

الشمالية الشرقية

د

الجنوبية

ب

٣٠) العمق الاستراتيجي لمصر يتمثل في الحدود.....

الجنوبية

ج

الغربية

أ

الشرقية

د

الشمالية

ب



٣١) مدينة تقع على بعد ١ كيلومتر من الحدود
بين مصر وفلسطين هي

نويبع

ج

طابا

أ

رفح

د

السويس

ب

٣٢) أقصى امتداد شرقي لمصر يوجد عند
مدينة.....

السلوم

ج

حلايب

ا

طابا

د

رفح

ب

٣٣) تقع مصر في الركن لقاره افريقيا

الجنوب الغربي

ج

الشمالي الشرقي

ا

الجنوب الشرقي

د

الشمالي الغربي

ب

٣٤) تعتبر الحدود أقصر الحدود
البرية لمصر

قناة الامتياز التعليمية

أ الجنوبية

ج الغربية

ب الشمالية الشرقية

د الشمالية

٣٥) يلتقي خط طول ٢٥ شرقاً مع دائرة عرض ٢٢
شمالاً عند ملتقى دول

ج) مصر وليبيا والأردن

أ) مصر وفلسطين وليبيا

د) مصر والسعودية والأردن

ب) مصر وليبيا والسودان

٣٦) تمتد الحدود الشمالية لمصر في البحر المتوسط
بمسافة ميل بحري

١٧

ج

١٢

أ

٢٢

د

٢٠

ب

٣٧) جميع دوائر العرض الآتية تتمر في مصر ما عدا
دائرة عرض.....

٢٣

ج

٣٠

أ

٢٨

د

٢٠

ب

٣٨) اذا كنت تقف شرق خط طول ٢٥ شرقا فانك
بذلك توجد في دولة.....

ليبيا

ج

مصر

ا

السعودية

د

السودان

ب

٣٩) إذا كنت جنوب دائرة عرض ٢٢ شمالاً فإنك
بذلك توجد في دولة.....

ليبيا

ج

مصر

أ

السودان

د

السعودية

ب

٤٠) إذا كنت تقف عند دائرة عرض ١٨ درجة
شمالاً فإنك بذلك تقترب من حدود
مصر.....

الشمالية

ج

الشرقية

أ

الغربية

د

الجنوبية

ب



(٤١) يوصف شكل مصر بالشكل

المربع

ج

المستطيل

أ

البيضاوي

د

الدائري

ب

٤٢) تسير حدود مصر الغربية بشكل مستقيم
باستثناء القطاع الشمالي الممتد من السلوم حتى
.....

منخفض القطارة

ج

واحة البحرية

ا

واحة سيوه

د

واحة الفرافرة

ب



٤٣) يبدأ الحد الشمالي الشرقي لمصر من شرق
مدينة.....

طابا

ج

العريش

ا

السلوم

د

رفح

ب

٤٤) زادت أهمية موقع مصر بعد افتتاح
قناة السويس

الديني

ج

الفلكي

أ

المناخي

د

الجغرافي

ب

٤٥) يرى جمال حمدان أن مصر بجسمها
قوة بر

الفلكي

ج

النهرى

أ

المناخي

د

البحري

ب

٤٦) يرى جمال حمدان أن مصر تستمد وحدتها الطبيعية من

قناة الامتياز التعليمية

جيرانها

ج

المناخ

أ

حضارتها

د

الموقع

ب

(٤٧) إذا كنت تقف عند خط طول ٣٧ شرقا على
خط الساحل الشرقي لمصر فإنك بذلك تصبح في
مدينة

السلوم

ج

رفح

ا


الغردقة

د

حلايب

ب

(٤٨) ما الآثار المترتبة على : وقوع مصر في الجزء الشمالي من حوض النيل

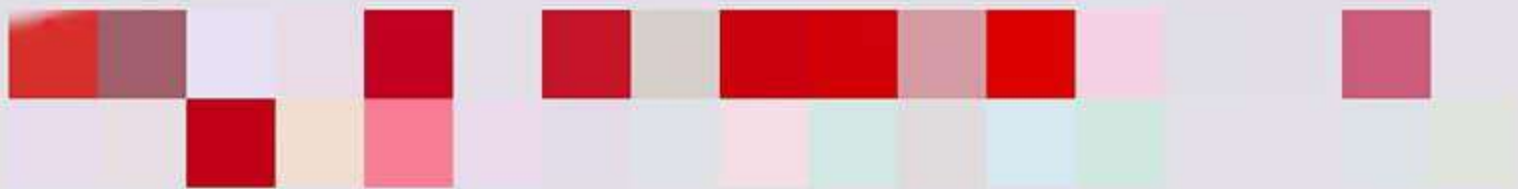


(٤٩) ما مدى مصداقيه هذه العبارة :
تبلغ مساحه مصر نحو ١٠% من مساحه
افريقيا


قناة الامتياز التعلیمیة



٥٠) ما مدى مصداقيه هذه العبارة :
تخترق مصر نحو ٢١ دائرة عرضيه ونحو ١٧
خط طول




٥١) ما الأثر الناتج عن الفتح العربي الإسلامي لمصر على الجانب الثقافي لإفريقيا ؟




٥٢) وضح أوجه الشبه والاختلاف بين الحدود الغربية والحدود الجنوبية لمصر




٥٣) ما العلاقة بين منطقه الخليج العربي و اهميه موقع مصر الجغرافيه ؟




(٥٤) دتل على صحه العبارة الآتية :
{تتمتع مصر بشخصيه قويه مستقله}



٥٥) بم تفسر : حساسية الحدود الشمالية الشرقية لمصر




(٥٦) ما العلاقة بين : الفتح العربي الاسلامي لمصر و موارد مصر الاقتصادية




٥٧) في رأيك ما الأثر الناتج عن افتتاح قناة السويس الجديدة ؟




٥٨) ما مدى مصداقيه هذه العبارة :
تمتد حدود مصر الغربية من رأس خليج
العقبة عند طابا باتجاه البحر المتوسط



٥٩) وضح كيف أضاف وجود نهر النيل لمصر
من أهمية إقليمية ؟



٦٠) ما مدى مصداقيه هذه العبارة :
تتأثر مصر بالعلاقات السياسية والتجارية بين
دول الخليج العربي وبين دول أوروبا وأمريكا
الشمالية



أكتب المفهوم الجغرافي الدال على كل عبارة مما يأتي :


(٦١) هي حدود صنعها الإنسان لتفصل بين الدول وعندها تنتهي حدود دولة وتبدأ حدود دولة أخرى

MR / MOHAMED GNEEDY

**(٦٢) حدود سياسيه لمصر تمتد شرقا من رفح
حتى السلوم غربا**

قناة الامتياز التعليمية

MR / MOHAMED GNEEDY



٦٣) حدود سياسية تمتد من ساحل البحر
الأحمر شرقا حتى جبل العوينات غربا

قناة الامتياز التعليمية

MR / MOHAMED GNEEDY



**(٦٤) تعتبر أقصر الحدود البرية لمصر ولها
طابع أمنى**

قناة الامتياز التعليمية

MR / MOHAMED GNEEDY



**٦٥) حدود سياسية تتمشى مع خط طول ٢٥
شرقا متعرجة قليلا في الشمال**

قناة الامتياز التعليمية

MR / MOHAMED GNEEDY



**٦٦) تعتبر أطول الحدود البرية لمصر وتتمشى
مع دائرة عرض ٢٢ شمالاً**

قناة الامتياز التعليمية


MR / MOHAMED GNEEDY



**٦٧) قناة مائية تم حفرها لتصل بين البحر
الأحمر والبحر المتوسط**

قناة الامتياز التعليمية

MR / MOHAMED GNEEDY



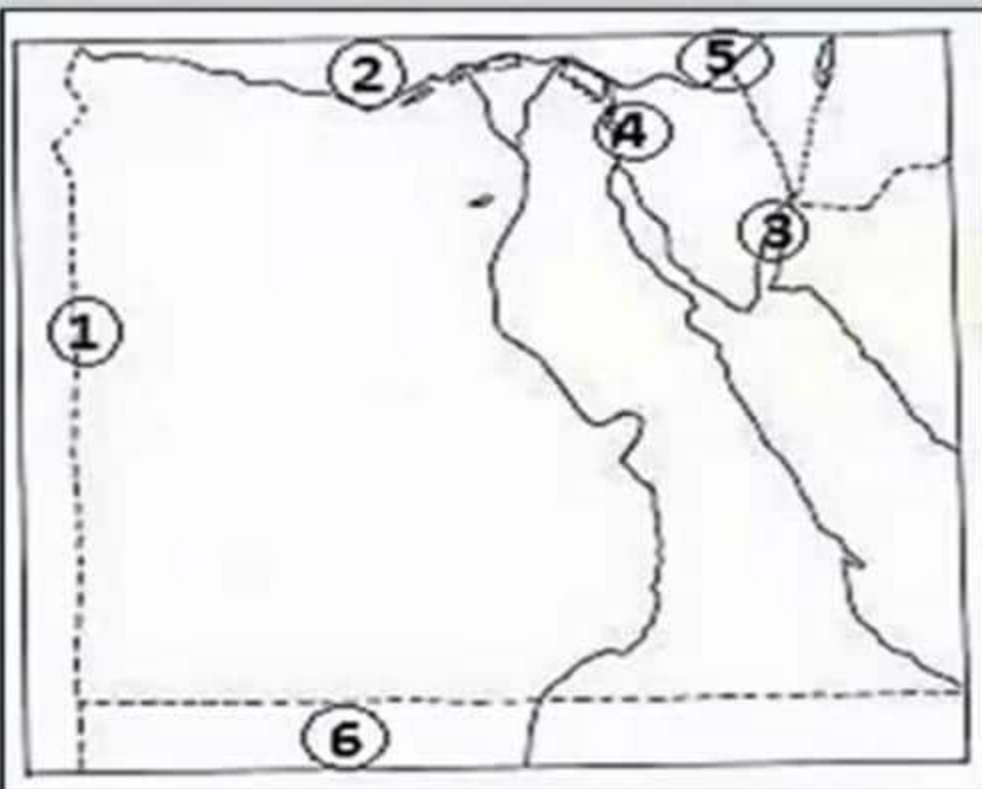
٦٨) تمارس مصر سيادتها عليها لأنها جزء
منها وتمتد لمسافة ١٢ ميل بحري

قناة الامتياز التعليمية

MR / MOHAMED GNEEDY



٦٩) أمامك خريطة صماء لمصر أكتب مدلول الأرقام الموضحة عليها :



١) خط طول

٢) البحر

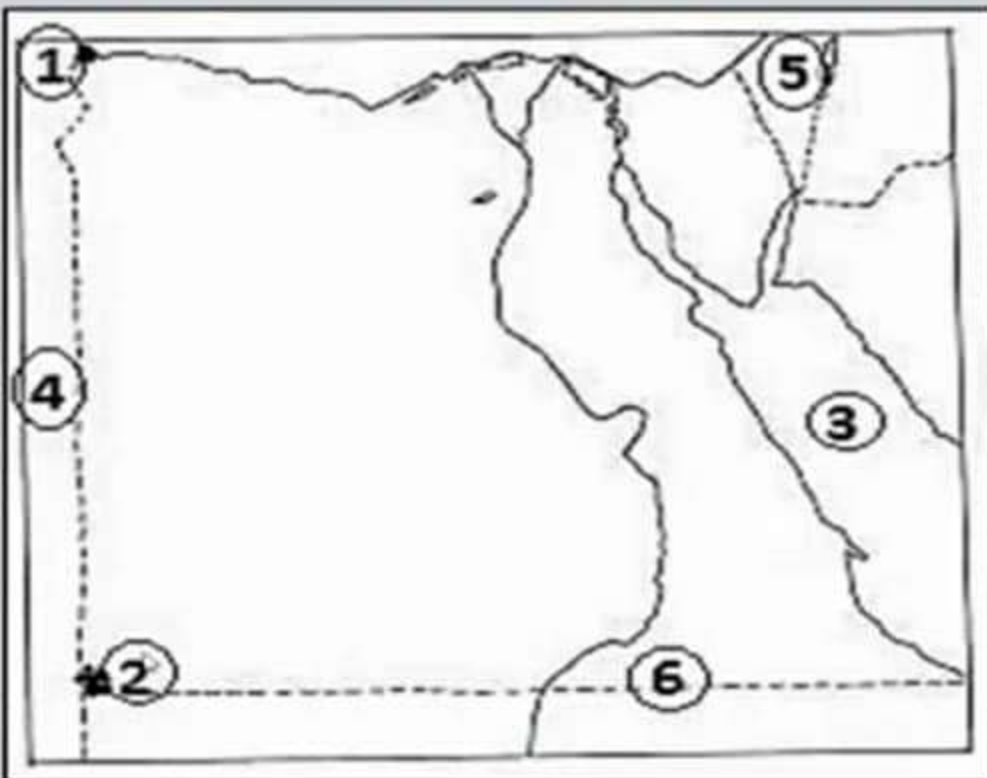
٣) خليج

٤) ممر ملاحى

٥) مدينه

٦) دوله

(٧٠) أمامك خريطة صماء لمصر أكتب مدلول الأرقام الموضحة عليها :



- (١) مدينة حدودية غربية
- (٢) نقطة حدودية جبل
- (٣) البحر
- (٤) دولة عربية
- (٥) دولة عربية محتلة
- (٦) دائرة عرض